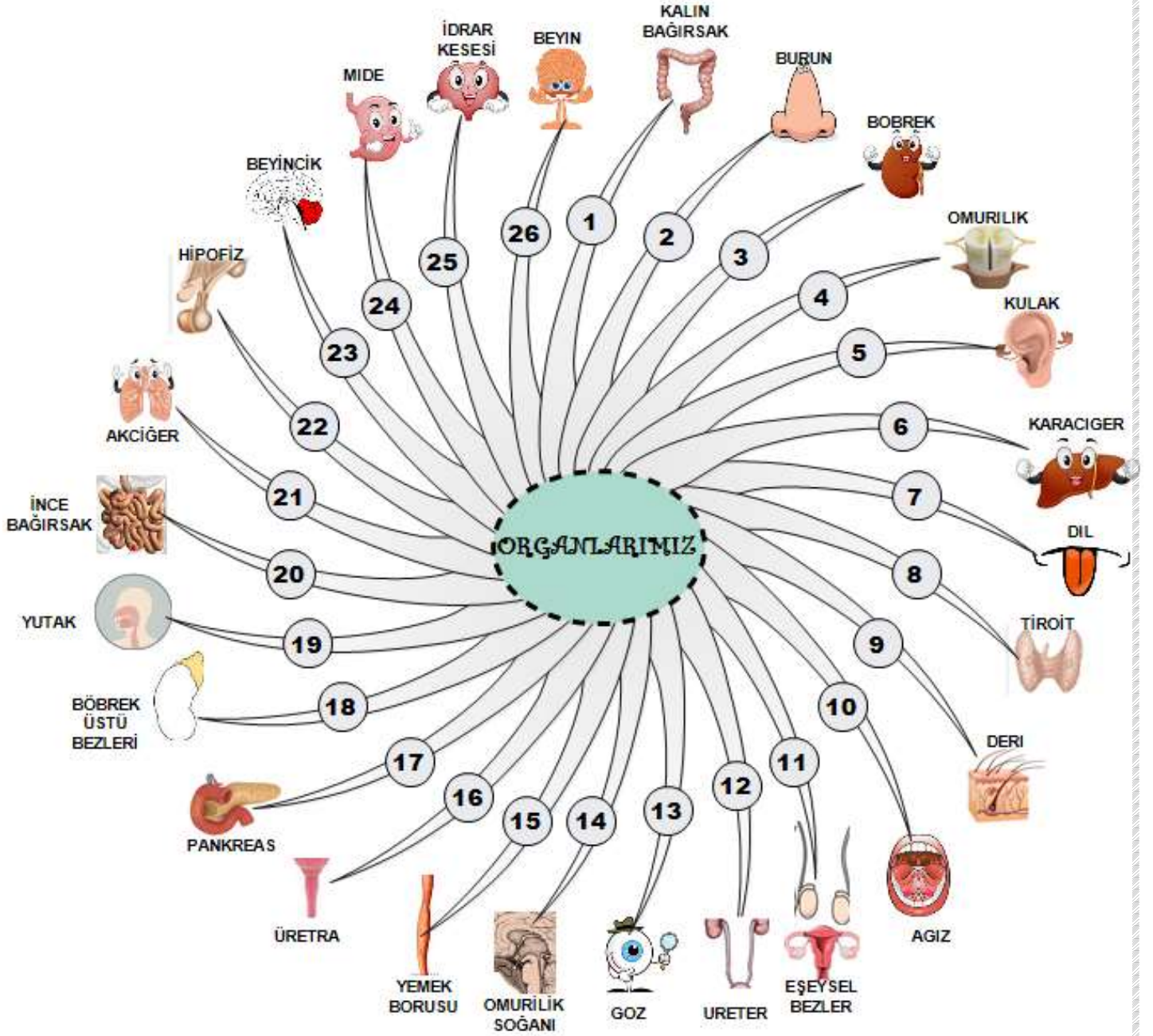




7. SINIF SİSTEMLER GENEL DEĞERLENDİRME

Aşağıdaki şemaya bakarak soruların cevapları hangi organa onun numarasını karşısındaki kutuya yazınız.



1) Sindirim sistemi organlarının numaralarını sırasıyla yazınız.

2) Sindirime yardımcı organların numaralarını yazınız.

3) Kimyasal sindirim yapan organların numaralarını sırasıyla yazınız.



7. SINIF SİSTEMLER GENEL DEĞERLENDİRME

4) Sindirilen besinlerin kana geçtiği organın numarasını yazınız.

5) Sindirilmeyen besinlerin kana geçtiği organın numarasını yazınız.

6) Sindirim enzimi üreten organların numarasını yazınız.

7) Boşaltım sistemi organlarının numaralarını sırasıyla yazınız.

8) Boşaltım sistemine yardımcı organlarının numaralarını yazınız.

9) Yapısında NEFRON ve VİLLUS bulunan organları sırasıyla yazınız.

10) Vücuttaki fazla suyu dışarı atan organları yazınız.

11) Sinir sistemi organlarının numaralarını sırasıyla yazınız.

12) Sırasıyla DENGE MERKEZİNİ, REFLEKS MERKEZİNİ, ÖĞRENME MERKEZİNİ, İÇ ORGANLARIN NUMARALARINI yazınız.

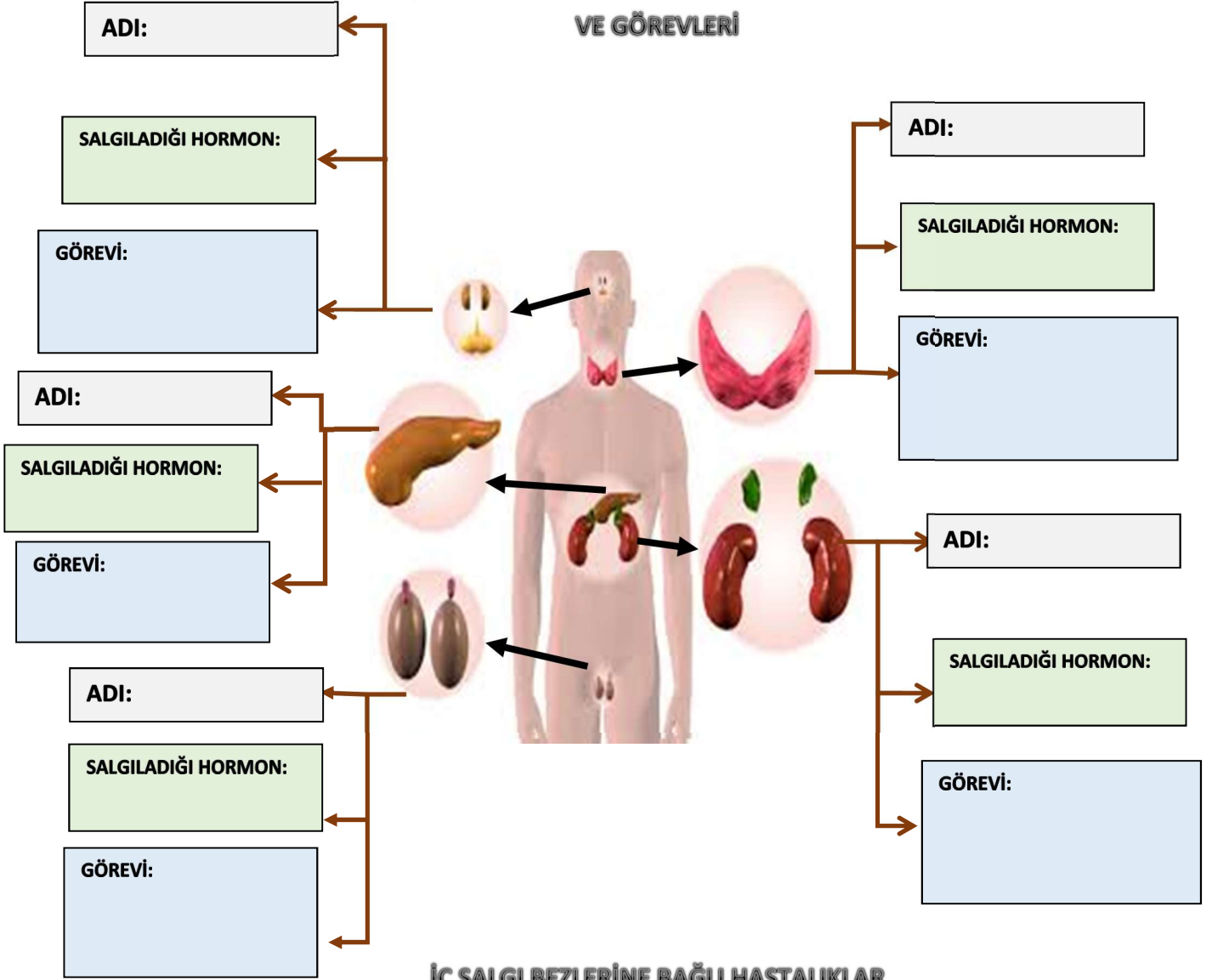
13) Sırasıyla TİROKSİN, İNSÜLİN, ADRENALİN, BÜYÜME, EŞEYSEL HORMONLARI salgılayan iç salgı bezlerini yazınız.

14) Duyu organlarımızdan sırasıyla SESİ, IŞIĞI, BASINCI, KOKUYU, TADI algılayanları yazınız.

15) Yapısında DENGEDİ görevli YARIM DAİRE KANALLARINI olan organın numarasını yazınız.

15) Duyu almaçları SARI BÖLGE, TAT ALMA TOM. SARI LEKE, SALLYANGOZ olan duyu organların numarasını sırasıyla yazınız.

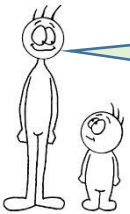
İÇ SALGI BEZLERİ - SALGILADIĞI HORMONLAR VE GÖREVLERİ



İÇ SALGI BEZLERİNE BAĞLI HASTALIKLAR

58 YAŞINDAYIM, ADIM SERDAR 3 YIL ÖNCE ŞEKER HASTASI OLDUĞUM ANLAŞILDI. O GÜNDEN BERİ KENDİME GÜNDE 2 KERE İĞNE VURUYORUM. HASTALIĞIMIN NEDENİ

.....
.....



ADIM İSMAİL 15 YAŞINDAYIM BOYUM 207CM, ARKADAŞIM SALİM İSE BENLE YAŞIT OLMASINA RAĞMEN BOYU 122CM BUNUN NEDENİ.....
.....

BEN ŞERİFE GUATR HASTASIYIM. BU HASTALIĞIN OLUŞMASININ NEDENİ:

.....
.....



'8<{25*\$1/\$!

\$üDùxGDNL üHNLO •]HULQGH ERü ExUDNxODQ NXWXODUD WDEORGDQ X\JXQ NDYUDPxQ QXPDU