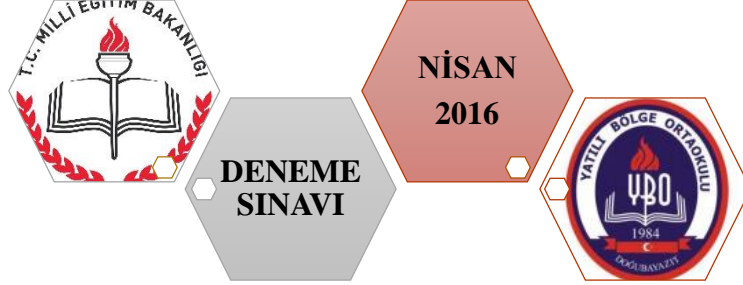


DOĞUBAYAZIT YATILI  
BÖLGE ORTAOKULU  
YATILI BÖLGE ORTAOKULU  
YBO  
1984  
DOĞUBAYAZIT  
8. SINIF TEOG  
DENEME SINAVI



**Tamamı özgün,**



**TEOG kazanımlarına uygun,**



**Deneme Sınavı**

## Dizgi & Tasarım

- Bekir GENÇER

## Proje Yürütücüleri

- Taşkın BAYRAM
- Bekir GENÇER

## İletişim

- **Telefon** : 0472 312 61 00
- **Mail** : muhammetsimsek@live.com - taskinbayram86@gmail.com
- **İnternet** : <http://dogubeyazitybo.meb.k12.tr>

## Ekibimizde siz de yer almak ister misiniz?

- Test ekibimizde yer almak için bizimle iletişime geçebilirsiniz.

***Kazanım testlerinin ve deneme sınavlarının hazırlanmasında desteklerini esirgemeyen Okul müdürümüz Sayın Servet ŞAHİN'e teşekkürü borç biliriz.***



## TÜRKÇE

Baran ÇOĞDUR  
(Yatılı Bölge Ortaokulu)



## MATEMATİK

Muhammet ŞİMŞEK  
( Cemalettin Tınaztepe Ortaokulu )  
Antakya / Hatay



## DİN KÜLTÜRÜ VE AHLAK BİLGİSİ

Engin ATDEMİR  
( Yatılı Bölge Ortaokulu)



## FEN BİLİMLERİ

Bekir GENÇER

(Yatılı Bölge Ortaokulu)



## İNGİLİZCE

İlker NİGAR

(İspir YBO / Erzurum)

Taşkın BAYRAM

(Yatılı Bölge Ortaokulu)



## İNKİLAP TARİHİ VE ATATÜRKÇÜLÜK

Erkan YAŞAR

(Yatılı Bölge Ortaokulu)

# TÜRKÇE

1. (1) Dün, ne aradığımı bilmeyerek “ Sessiz Gemi” adlı eserin sayfalarını taradım. (2) Sonun, başın, ortanın birbirine karıştığı bir eser bu. (3) Zaten kitabın yazarının bütün eserlerinde zaman kavramı iç içe geçer. (4) Aslında bu düzensiz kurguya alışmamız gerekirdi.

**Bu parçada numaralanmış cümlelerle ilgili aşağıdakilerden hangisi söylenemez?**

- A) 1. cümlede yazar, eseri niçin okuduğunu bilmediğini söylemiştir.  
B) 2. cümlede, sözü edilen eserin kurgusunun başarısızlığından söz edilmiştir.  
C) 3. cümleden, yazarın birden fazla eserinin olduğu anlamı çıkarılabilir.  
D) 4. cümlede, eserin yazarının okurlardan bir beklentisi dile getirilmiştir.

2.

Roman yazarı kalemi eline aldığı anda derdini başka türlü anlatır, deneme yazarı başka türlü. Röportajını yapan gazeteciyle konferans veren profesörün dili aynı olmaz. Dili kullanırken hepimizin amacı kendimizi ifade etmek olsa da bunu yaparken sözcüklere verdiğimiz şekil başkadır. (...)

**Yazarın vermek istediği mesaj dikkate alındığında bu parça aşağıdakilerden hangisiyle devam ettirilmelidir?**

- A) Anlatış biçimlerimiz farklı olsa da hepimizi aynı konuları anlatırız.  
B) Konuşma diliyle yazı dili arasındaki fark da bundan doğar.  
C) Bu başkalığı yaşımız, mesleğimiz hatta ilgi alanlarımız ortaya çıkarır.  
D) Ancak anlattığımız ne olursa olsun önemli olan sözcüklerimizdir.

3. Eylül 1989’da Kars’ta doğan şair ilk ve orta öğrenimini yine burada tamamlamıştır. Edebi hayatında dönüm noktası olarak İstanbul’a taşınmalarını görür kendisi.En önemli eseri ‘‘Kars ve Şiir’’dir.

**Bu metnin türü aşağıdakilerden hangisidir?**

- A) Otobiyografi B) Biyografi  
C) Makale D) Anı

4.

Bir çocuk kınanır sa her zaman  
O da yapamaz başkalarını ayıplamadan  
Ve düşmanlık görürse durmadan  
Kaçamaz hiçbir zaman kavgadan  
Onunla edilirse alay  
Utanç öğrenir en kolay  
Ve utançla yaşıyorsa eğer  
Suçlamayı kendine iş eder.

**Bu dizelerde hakim olan duygu aşağıdakilerden hangisidir?**

- A) Alay etme  
B) Etkilenme  
C) Suçluluk  
D) Düşmanlık

5.

Geniş, içinde meyve ağaçlarının olduğu bir bahçenin içinde yaşayan somurtuk ihtiyar, çocukları hiç sevmezdi. Çocukların bahçeye girmesini, ağaçlardaki meyveleri yemesini asla izin vermezdi. Hatta bahçenin duvarını sivri uçlu tellerle çevirmişti. İşte bu yüzden ihtiyarın başından dert ve hastalık hiç eksik olmazdı. Hiçbir doktor da iyileştiremezdi bu huysuz ihtiyarı.

**Bu parçada aşağıdaki sorulardan hangisinin cevabı yoktur?**

- A) İhtiyar, neden sürekli hasta oluyor?
- B) İhtiyar, çocuklara karşı önlemini nasıl alıyor?
- C) İhtiyar, nasıl bir yerde oturuyor?
- D) İhtiyar, neden çocukları sevmiyor?

6.

Kovadaki balıkların çırpınışlarına içim el vermiyor. Yanlılıkla olmuş gibi yaparak kovayı deviriyorum. Balıklar minnettar bakışlarla dereye atlayıveriyor. O an çok mutlu hissediyorum kendimi.

**Aşağıdakilerden hangisi bu metnin dil ve anlatım özelliklerinden biri değildir?**

- A) 1. kişi ağzından aktarılması
- B) Abartmadan yararlanılması
- C) Kişileştirmeye başvurulması
- D) Deyimden yararlanılması

7.

**Aşağıdaki cümlelerin hangisinde virgül(,) farklı bir görevde kullanılmıştır?**

- A) Çocuk, tüm kardeşlerini yanına topladı.
- B) Yerinden kalktı, hepimize sertçe baktı.
- C) Hazırdım, yapabileceğimi biliyordum.
- D) Yazıklar olsun, ben sana bunu mu söyledim?

8.

Dünya kadar işim var, sizle uğraşamam.

**Bu cümlede aşağıdaki sanatsal anlatımlardan hangileri vardır?**

- A) Abartma
- B) Benzetme
- C) Kişileştirme
- D) Konuşurma



9. Aşağıdaki tümcelerin hangisinde neden – sonuç ilişkisi söz konusudur?

- A) Kar yağdığı için yollar kapandı.
- B) Siz pişirin, ben yiyeceğim.
- C) O saatte asla dışarı çıkmaz.
- D) Yurtdışına gitmek için hazırlanıyor.

10. Aşağıdaki cümlelerin hangisinde karşılaştırma söz konusudur?

- A) Trafiği rahatlatmak için daha geniş yollar açılmalı.
- B) İsmet her şeyi pür dikkat dinledi.
- C) Siz mi yaptınız tüm yemekleri?
- D) Bu elbise size daha çok yakıştı.

11.

Aşağıdaki cümlelerin hangisinde deyim yanlış kullanılmıştır?

- A) Babasını can kulağı ile dinledi.
- B) Çok değişken bir yapısı vardı, saati saatine uymuyordu.
- C) Arabanın rengi tam dişime göreydi.
- D) Yüreğim dağlandı küçücük çocuğu öyle mutlu görünce

12.

(I) Benden daha iyi gören, kavrayan, düşünen, yaratan beyinlerin olduğunu düşünmek üzmüyor beni. (II) Kendimden başka biri olmaya özenmiyorum da ondan. (III) Aşağılık ve üstünlük duygularına kapıldığım o yıllar geçti. (IV) Bana zarar veren her şeyi ardımda bıraktım. (V) Başkalarını değil kendimi aşmam gerektiğini anladım. (VI) ilkel yönlerimi bir güzel törpüledim.

**Bu parçada, numaralanmış cümlelerin hangisinden başlanarak sözü edilen olgunun nedeni üzerinde durulmuştur?**

- A) II. B) III. C) IV. D) V.



13. "Daralmak" sözcüğü aşağıdaki cümlelerin hangisinde **somut anlamda** kullanılmıştır?
- A) Vakit iyice daraldı, eve gitsen diyorum.
- B) Burada vadi birdenbire daralıyordu.
- C) Son zamanlarda elimiz çok daraldı, borç almalıyız.
- D) Nefesim daraldı, içeri çok havasız.

14. Aşağıdaki cümlelerin hangisinde **karşıt anlamlı sözcükler bir arada** kullanılmıştır?
- A) Saçlarına taktığın gülü görünce gülmek geldi içimden.
- B) Benim için zor yoktur, her iş bana kolay gelir.
- C) Sesiz, sakın, gözden uzak bir adada yaşıyor.
- D) Gece karanlığında ay ışığı gibi duruyorsun.

15. Aşağıdaki dizelerden hangisi fiil cümlesi **değildir**?
- A) Anacığım eğilmiş oğlunun kulağına.
- B) Oymuş hepimizi şikayet eden.
- C) Resimlerinde gariban görünür Selim.
- D) Atatürk'üm kabrinde rahat uyumak ister

16. Aşağıdaki cümlelerden hangisi **bağlı cümledir**?
- A) Osman çok titiz bir kardeşimizdir.
- B) Koltuğundaki ekmekleri soğutmadan eve götürdü.
- C) Misafirlere dolma ve sarma yaptık.
- D) Üzerini giydi ve okula doğru yola çıktı.

17. Aşağıdaki cümlelerin hangisinde farklı bir eylemsi (filimsi) vardır?

- A) Kaçan balık büyük olur.
- B) Geçen gün dolu yağdı.
- C) Evden çıkar çıkmaz ağlamaya başladı.
- D) Çok sevdiği şiiri ezberledi.

18. Bu, “Her şeyi açıkça vermem ben sana. Altımda yatan anlam çoktur. Her şey apaçık ortada değildir.” diyen bir eser. Yukarıdaki cümlede sözü edilen romanın anlatım özelliği aşağıdakilerden hangisidir?

- A) Duruluk
- B) Akıcılık
- C) Kapalılık
- D) Yalınlık

19. Boğaziçi Köprüsü Türkiye Cumhuriyeti'nin kuruluşunun 50. yılında 30 Ekim 1973'te açıldı. Köprü faaliyete geçtiğinde dünyanın dördüncü, Avrupa'nın da en uzun asma köprüsüydü. Sadece iki kıtayı birleştirmekle kalmıyor, yoksul bir ülkenin dünyanın en önemli inşaat projelerinden birisini gerçekleştirme hayalini simgeliyordu. Boğaziçi'ni bir köprüyle geçmek antik zamanlardan miras kalan bir düşü.

Parçanın anlatım biçimi aşağıdakilerden hangisidir?

- A) Öyküleme
- B) Tartışma
- C) Açıklama
- D) Betimleme

20. Şiirlerime ne anlam verilirse onların anlamı odur. Benim onlardan çıkardığım anlam bana göredir, bu durum kimsenin onlara başka anlamlar vermesine engel olmaz.

Bu cümlede şair, şiirlerinin hangi yönünü vurgulamaktadır?

- A) Yorum ve çağrışımlara açık olmasını
- B) Toplumun her kesimine seslenmesini
- C) Özgün konular içermesini
- D) Herkes tarafından rahatlıkla anlaşılmasını

# MATEMATİK

1)  $\frac{2}{2^4} + \frac{1}{2^3}$  işleminin sonucu aşağıdakilerden hangisidir?

- A) 8                      B) 4                      C)  $\frac{1}{2}$                       D)  $\frac{1}{4}$

2) Aşağıdaki karekök ile ifade edilmiş sayılardan hangisi 6 ile 7 arasındadır?

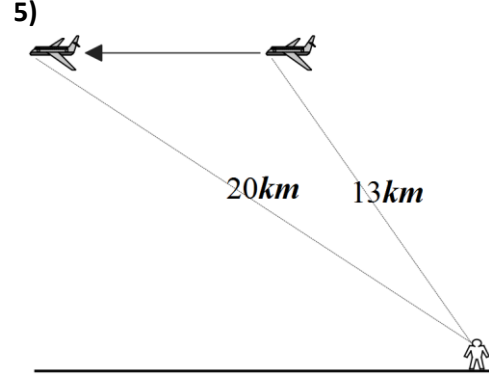
- A)  $\sqrt{6,5}$                       B)  $\sqrt{36}$                       C)  $\sqrt{37}$                       D)  $\sqrt{49}$

3)  $\frac{\sqrt{6^2+8^2}}{6^2+8^2}$  işleminin en sade hali aşağıdakilerden hangisidir?

- A) 1                      B)  $\sqrt{10}$                       C)  $\frac{1}{\sqrt{10}}$                       D)  $\frac{1}{10}$

4)  $\square, \square, \square, \square$  ifadesi hem geometrik hem de aritmetik dizi olduğuna göre  $\frac{\square + 2\square + \square}{\square + \square}$  ifadesi aşağıdakilerden hangisine eşit olur?

- A) 3                      B) 2                      C)  $\frac{3}{2}$                       D) 1



Ahmet'in göz hizasından yüksekliği 12km olan uçağın 1. ve 2. konumları ok ile gösterilmiştir. Ahmet'in 1. ve 2. konumda(göz hizasının) uçağa olan uzaklığı yukarıda verildiğine göre, bu iki konum arasındaki mesafe kaç km'dir?

- A) 5                      B) 11                      C) 12                      D) 16

6) Bir kenarına ait yükseklik  $\frac{3}{2}\sqrt{3}$  cm olan eşkenar üçgenin çevresinin uzunluğu kaç cm'dir?

- A)  $\sqrt{3}$                       B) 3                      C) 6                      D) 9

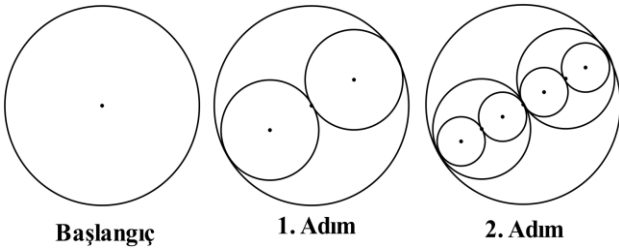
7)  $(4a - x)^2$  ifadesinin açılımı aşağıdaki hangi şıkta doğru olarak verilmiştir?

- A)  $16a^2 + 8ax + x^2$   
 B)  $16a^2 - 8ax + x^2$   
 C)  $16x^2 + 8xa + a^2$   
 D)  $16x^2 - 8xa + a^2$

8) Bir bozuk para 100 defa havaya atılıyor ve 25 defa tura 75 defa yazı gelmiştir. Buna göre 101. Havaya atışta bozuk paranın teorik olarak yazı gelme ihtimali nedir?

- A)  $\frac{1}{4}$       B)  $\frac{1}{2}$       C)  $\frac{3}{4}$       D)  $\frac{76}{100}$

9)



Başlangıçtaki yarıçapı 64cm olan yukarıdaki çemberin yarıçapına, çap olarak şekilde karşılıklı iki tane çember daha eklenerek yeni adım oluşturulmaktadır. Buna göre 13. adımda kullanılan yeni çemberlerin çapları toplamı kaçtır?

- A) 16      B) 32      C) 64      D) 128

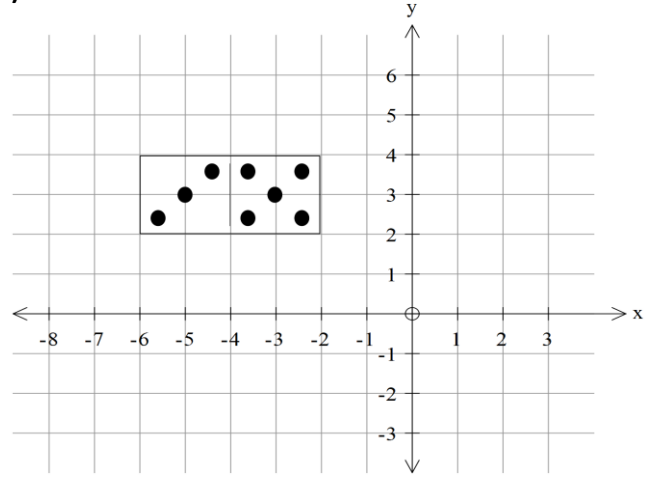
10)  $21x - 3y - 30 = 0$  denkleminin eğimi kaçtır?

- A) 3      B) 7      C) 10      D) 21

11) Aşağıdaki şıklardan hangisi bir olayın olma olasılıklarından biri olamaz?

- A) 0      B)  $\frac{1}{2}$       C)  $\frac{4}{4}$       D)  $\frac{8}{7}$

12)



Yukarıdaki koordinat düzleminde bulunan domino taşı sırasıyla x eksenine, y eksenine ve orijine göre simetrisi alındığında oluşan son şekil aşağıdakilerden hangisi gibi olur?

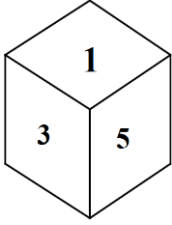
- A)      B)
- C)      D)

Doğubayazıt Yatılı Bölge Ortaokulu Test Ekibi Çalışmasıdır.

13)  $\tan(x) = \frac{0,6}{0,8}$  olduğuna göre  $\sin(x)$ 'in değeri aşağıdakilerden hangisidir?

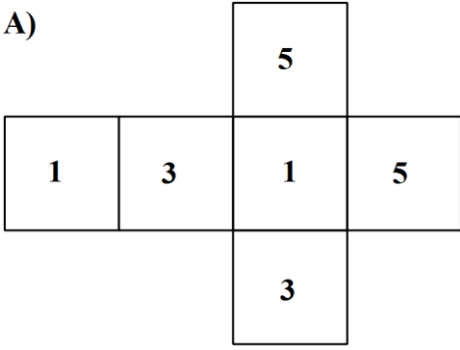
- A) 0,6      B) 0,8      C) 1      D)  $\frac{3}{4}$

14)

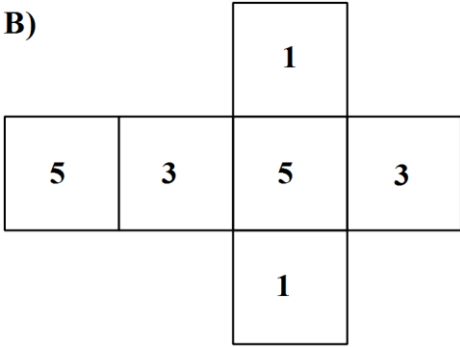


Şekildeki küpün karşılıklı paralel yüzeylerinde aynı sayılar bulunduğuna göre bu küpün açılımı aşağıdakilerden hangisidir?

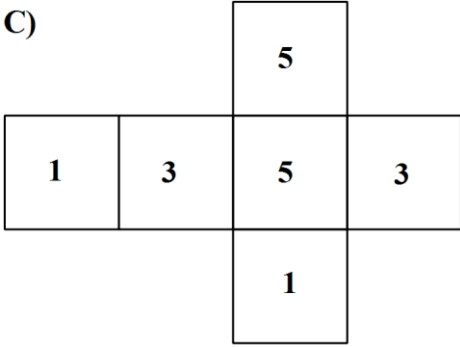
A)



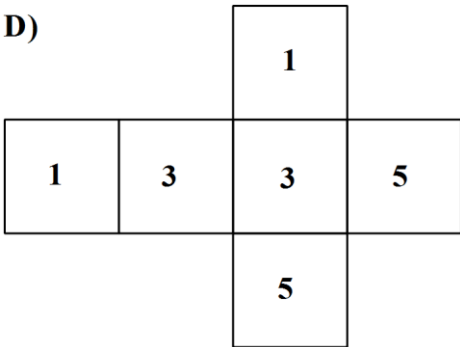
B)



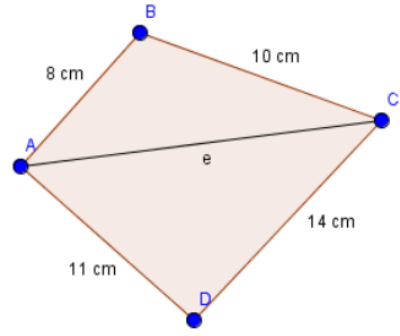
C)



D)



15)



Yukarıdaki şekilde verilenlere göre  $|AC|$  aşağıdakilerden hangisi olamaz?

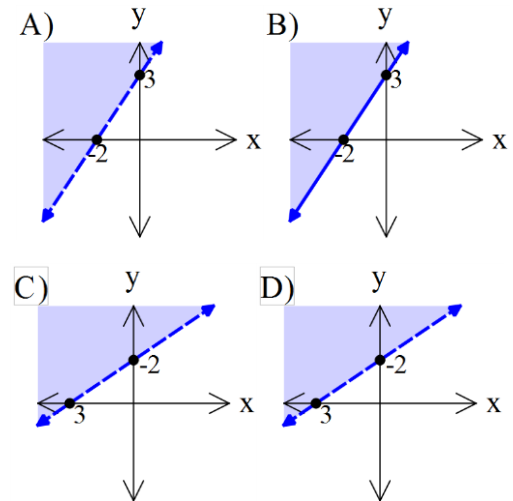
- A) 4 cm
- B) 5 cm
- C) 17 cm
- D) 18 cm

16)

Eğimi 2 olan ve  $(1,5)$  noktasından geçen doğrunun denklemi aşağıdakilerden hangisidir?

- A)  $y-2x+5=0$
- B)  $2y-4x+13=0$
- C)  $3y-6x-9=0$
- D)  $-3y+6x+11=0$

17)  $3x-2y+6>0$  eşitsizliğini sağlayan grafik aşağıdakilerden hangisidir?



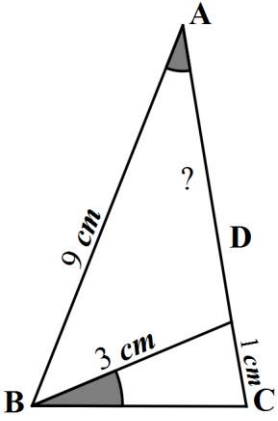
Doğubayazıt Yatılı Bölge Ortaokulu Test Ekibi Çalışmasıdır.

18) Bir okulda 5 sınıf ve 8 öğretmen bulunmaktadır. 23 Nisan Töreni için okuldan bir sınıfın tamamı ve sınıfın başına da 2 öğretmen seçilecektir.

Buna göre bu şekim kaç farklı şekilde yapılır?

- A) 140      B) 120      C) 28      D) 23

19)

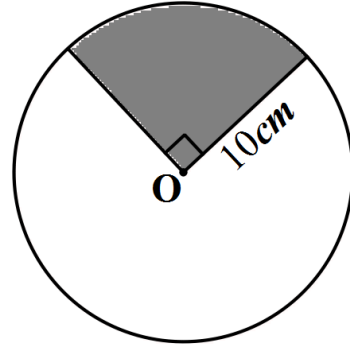


Şekildeki  $s(ABC) \cong s(BDC)$ ,

$|AB| = 9 \text{ cm}$ ,  $|BD| = 3 \text{ cm}$  ve  $|DC| = 1 \text{ cm}$  olduğuna göre  $|AD|$  uzunluğu kaç cm olur?

- A) 1      B) 3      C) 8      D) 9

20)



Yukarıda verilen O merkezli yarıçapı 10cm olan daireden taralı kısım kesilerek çıkartılıyor.

Kalan kısımdan bir koni oluşturulmak istenirse oluşacak şeklin taban çapı kaç cm olur?

- A) 20      B) 15      C) 10      D) 5

**DİN KÜLTÜRÜ**  
**VE**  
**AHLAK BİLGİSİ**



# din kültürü ve ahlak bilgisi



## TEST

1-“Ey insanlar! Biz seni basit bir sudan yaratmadık mı? İşte o suyu belli bir süreye kadar sağlam bir yere yerleştirdik, sonra da ona ölçülü bir biçim verdik.” ( Mürselat /20-23)

**Yukarıdaki ayette Allah’ın evrene koyduğu yasalardan hangisine vurgu yapılmaktadır?**

- A) Fiziksel Yasalar      B) Kimyasal Yasalar  
C) Biyolojik Yasalar      D) Toplumsal Yasalar

2- Aşağıdakilerden hangisi doğru tevekkül anlayışına örnek olabilir?

- A) Ertesi gün sınavı olan Murat’ın gece uyumadan Allah’a dua etmesinin yeterli olacağını düşünmesi.  
B) Tarlasına buğday eken Ali’nin rızkını Allah’tan geldiğini düşünerek sadece yağmurun yağmasını beklemesi.  
C) Kanser hastası olan Mehmet’in şifanın Allah’tan olduğunu düşünerek doktora gitmemesi.  
D) Hafta sonu çok önemli maçı olan Tekin’in maça hazırlanıp Allah’tan yardım dilemesi.

3-“Komşusu aç iken tok yatan bizden değildir.”(Hz. Muhammed)

**Efendimiz yukarıdaki hadisi ile neye dikkat çekmiştir?**

- A) Cesur olmaya      B) Sabırlı olmaya  
C) Paylaşımca olmaya      D) Bencil olmaya

4- I- Hz. Muhammed’in ‘Hilfu’l Fudül’ adı verilen cemiyete üye olması.

II-Hz.Muhammed’in tüm tekliflere ve baskılara rağmen İslam’ı anlatmaktan vazgeçmemesi.

III-Hz. Muhammed’in, Allah’ın emirleri doğrultusunda hiç bir insanı ayırt etmeden herkese karşı aynı davranış içinde olması.

**Yukarıdaki açıklamalarda Hz.Muhammed’in hangi özelliklerinden bahsedilmiştir?**

I	II	III
A) Hoşgörüsü	Sabrı	Adaleti
B) Sabrı	Hoşgörüsü	Cesareti
C) Cesareti	Merhameti	Sabrı
D) Adaleti	Sabrı	Hoşgörüsü

- 5- -Yeryüzünde yapılan ilk mabettir.  
-Müslümanların kiblesidir.  
-Mekke şehrinde.

**Yukarıda sözü edilen mekan hangisidir?**

- A) Beytullah      B) Mescid-i Aksa  
C) Mescid-i Nebi      D) Dar’ul Erkam

**6-Aşağıdakilerden hangisi zararlı alışkanlıkların bireysel sonuçlarındandır?**

- A) İnsanlar arasında kin ve düşmanlığa sebep olur  
B) Toplumun yapı taşı olan aileye zarar verir.  
C) Toplumsal ahlakın bozulmasına sebep olur.  
D) Kişinin ruh sağlığını bozar.

**7-''Göğe bakmıyorlar mı, nasıl yükseltilmiştir!**

Dağlara bakmıyorlar mı, nasıl dikilmişlerdir!  
Yeryüzüne bakmıyorlar mı, nasıl yayılmıştır!

(Ğaşıye/18-20)

**Yukarıdaki ayette doğru bilgiye ulaşmanın hangi yolu üzerinde durulmaktadır?**

- A) Mantık  
B) Duyu organları  
C) Vahiy  
D) Akıl

**8-Peygamber Efendimizin Medine'ye hicretinde ilk olarak Mescid-i Nebi'yi yaptırması özellikle neye önem verdiğini göstermektedir?**

- A) Barınmaya  
B) İlme  
C) Şehrin savunmasına  
D) İnsanlara

**9- -Kur-an' da adı geçen peygamberlerdendir.**

-Hz. Yakup'un 12 oğlundan biridir.

-Yüce Allah, ona rüyaları yorumlamasını öğretmiştir.

**Yukarıda sözü edilen peygamber aşağıdakilerden hangisidir?**

- A) Hz. İbrahim  
B) Hz. İsa  
C) Hz.Musa  
D) Hz.Yusuf

**10-Aşağıdakilerden hangisi taassubun toplumsal zararlarındandır?**

- A)Bireyin doğruya ulaşmasına engel olur.  
B)Bireyin fikir dünyasının gelişimine engel olur.  
C) Bireyde ön yargı oluşturur.  
D) Bireyi toplum ile karşı karşıya getirebilir.

**11-Allah Kur-an'da yoksullara karşı şefkatli olunması gerektiğini dile getirmiştir. Bu durumu destekleyen ayet aşağıdakilerden hangisi olabilir?**

A)''And olsun, size öyle bir kitap indirdik ki sizin bütün şeref ve şanınız ondandır. Hala aklınızı kullanmayacak mısınız?''(Enbiya/10)

B)'' Kararını verdiği zamanda artık Allah'a dayanıp güven.Çünkü Allah, kendisine dayanıp güvenenleri sever.''(Ali İmran/159)

C) '' Bütün inananlar kardeştir...''(Hucurat/10)

D)''Öyleyse yetimi sakın üzme. İsteyeni sakın azarlama.''

**12- Aşağıdakilerden hangisi kurban kesme ibadeti ile ilgili yanlış bilgi içermektedir?**

A)Kurban kesme kişinin Allah'ın emrine olan bağlılığını gösterir.

B)Kurban gücü yetenlere farz kılınmıştır.

C)Kurban kesme Hz. İbrahim ile Hz. İsmail arasında geçen olayı yeniden hatırlatır.

D)Kurban paylaşma ve yardımlaşmaya katkı sağlar.

**13-Aşağıdakilerden hangisine zekat verilemez?**

A)Dayı

B)Kardeş

C)Amca

D)Torun

**14- ''...Siz hiç düşünmez misiniz?''(En'am/50)**

''...akletmiyor musunuz.''(Bakara/44)

**Yukarıdaki ayetlerden insandan istenen davranış hangisidir?**

A)Çalışması

B)Yardımlaşması

C)Allah'a ibadet etmesi

D)Düşünmesi

**15- -Allah rızasını kazanmak için yapılır.**

-Farklı ırk, dil ve kültürden Müslümanlar bir araya gelirler.

-Yılda 1 defa yapılabilir.

**Yukarıda özellikleri verilen ibadet hangisidir?**

A) Zekat

B) Hac

C) Kurban

D) Fitre

16- Hacer annemizin ođlu Hz. İsmail'e su ararken gösterdiđi çabayı temsil eden Hac merasimi ařađıdakilerden hangisidir?

- A)Sa'y                      B)Kurban  
C)Vakfe                     D)řeytan tařlama

17-''Birisinin hakkını alan kimse ölmeden onunla helalleřsin.''(Hadis-řerif)

Yukarıdaki hadiste ařađıdakilerden hangisinin önemine vurgu yapılmıřtır?

- A)Merhamet                B)Sabır  
C)Ahiret                     D)Kul hakkı

18-Ařađıdakilerden hangisi kumar oynamanın zararlarından deđildir?

- A)Tembelliđe teřvik eder.  
B)Zaman israfına sebep olur.  
C)Dinden çıkmaya sebep olur.  
D)Sađlıđı bozar.

19-Ařađıdakilerden hangisi kötü alışkanlıklara bađımlı olmanın nedenlerinden deđildir?

- A)Merak ve özentisi      B)Kötü arkadaş çevresi  
C)Bilgisizlik                D)Bilinçli aile

20-Kur-an'da ařađıdaki konulardan hangisi için bilgi yoktur?

- A) Daha önceki kavimler  
B) Bazı peygamberler  
C) Ahiret hayatı  
D) Kıyametin kopacađı tarih

# FEN BİLİMLERİ

# fen bilimleri



## TEST

1) X-Y ve Z maddelerine ait erime ve kaynama sıcaklıkları tablosu aşağıdaki gibidir.

Madde	Erime sıcaklığı (°C)	Kaynama sıcaklığı (°C)
X	-115	50
Y	10	70
Z	90	345

Buna göre 60 °C'ta maddelerin halleri aşağıdakilerden hangisi gibidir ?

	X	Y	Z
A	Katı	Sıvı	Sıvı
B	Gaz	Sıvı	Katı
C	Katı	Gaz	Katı
D	Gaz	Katı	Sıvı

2) Maddelerin öz ısı değerleri tablodaki gibidir.

Madde	Öz ısı (J/g.°C)
K	2.23
L	0.76
M	1.58

Buna göre aşağıdaki yorumlardan hangisi yapılamaz ?

- A) Eşit kütleli K ve M maddeleri özdeş ısıtıcılarla eşit süre ısıtıldığında M'nin sıcaklığı daha fazla olur.
- B) K , L ve M maddeleri özdeş ısıtıcılarla eşit süre ısıtıldığında K'nin aldığı ısı en azdır.
- C) Her birinden eşit kütle alındığında sıcaklığı en az değişen madde K maddesidir.
- D) Öz ısı maddeler için ayırt edici bir özelliktir.

3) Aşağıdakilerden hangisinin ölçüm aracı doğru verilmiştir?

- A) Sıcaklık – Dinamometre
- B) Açık hava basıncı – Manometre
- C) Isı – Kalorimetre
- D) Kapalı kaplarda gaz basıncı - Termometre

4) Elbiselerinin kısa sürede yıprandığı için şebeke suyundan dert yakınan Ayça'ya arkadaşı bir takım öneriler sunuyor.

- I. Klorlama
- II. İyon değiştirici yastık kullanma
- III. Kaynatma

Bu önerilerden hangisi uygularsa sorununu çözmüş olur ?

- A) II ve III      B) I ve II
- C) I ve III      D) I,II ve III

5) X , Y , Z ve T elementlerine ait aşağıdaki bilgilere göre;

\*\* X elementi bileşiklerinde daima elektron veriyor.

\*\* Y elementi Z ile elektronlarını ortaklaşa kullanıyor.

\*\* T elementi bileşik oluştururken elektron alıyor.

Buna göre hangi 2 element arasında farklı türde bir bağ oluşur ?

- A) X-Y    B) T-X
- C) X-Z    D) Y-Z

6) Aşağıda bazı besin zincirleri verilmiştir.

I. ☀️ → Yeşil Bitki → İnsan

II. ☀️ → Yeşil Bitki → Tavşan → İnsan

III. ☀️ → Yeşil Bitki → Alabalık → İnsan

Buna göre hangi yorum kesinlikle yapılamaz ?

A) 1. Besin zincirindeki insanın aldığı enerji en fazladır.

B) İnsanın tavşandan aldığı enerji bitkiden aldığı enerjiden azdır.

C) İnsan 1.besin zincirinde etçil beslenen bir canlıdır.

D) Besin zincirlerinde üreticiler olmak zorundadır.

7) Ses düzeyi 80 dB olan ve frekansı 4400 Hz olan bir ses dalgasının,genliğini azaltıp sesi inceltmek isteyen bir öğrenci aşağıdakilerden hangisini uygulamalıdır ?

	Ses Düzeyi	Ses Frekansı
A	60 dB	6600 Hz
B	60 dB	3300 Hz
C	90 dB	5500 Hz
D	70 dB	4400 Hz

8) Saf bir maddeye ait sıcaklık zaman grafiği şekildeki gibidir.



Buna göre aşağıdaki yorumlardan hangisi doğrudur?

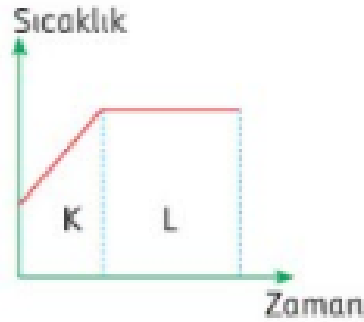
A) Belirli bir erime ve kaynama noktası yoktur.

B) Erime sıcaklığı 30 derecedir.

C) 70 derecede madde gaz halindedir.

D) Madde başlangıçta sıvı haldedir.

9) Bir maddeye ait sıcaklık zaman grafiği verilmiştir.



1. K bölgesinde ortalama hareket enerjisi artmıştır.

2. L bölgesinde toplam hareket enerji artmıştır.

3. Saf bir maddeye ait değildir.

4. L'de maddeye verilen ısı,maddenin hal değiştirmesine harcanmıştır.

Yorumlarından hangisi doğrudur?

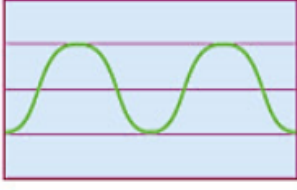
A) 1 ve 2      B) 2 ve 3

C) 1 , 2 ve 4      D) 1 , 3 ve 4

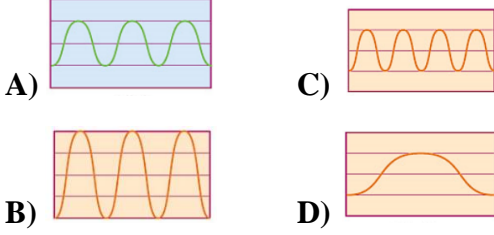




16) Bir cetvele ait osiloskop ekranında görülen ses dalgası aşağıdaki gibidir.



**Cetvel uzunluğunu arttırarak bu işlemi tekrarlayan Rabia, hangi grafiği elde eder?**



17) Aşağıdaki fotosentez ve solunum denklemlere göre;



**X-Y-Z ve T yerine neler gelmelidir ?**

	X	Y	Z	T
A	Karbondioksit	Su	Besin	Oksijen
B	Karbondioksit	Oksijen	Besin	ATP
C	Su	Oksijen	Besin	ATP
D	Su	Su	Besin	Oksijen

- 18) 1. Kışın uçak pistlerinin alkolle yıkanması  
2. Arabanın radyatörüne antifiriz konulması  
3. Denizden çıktığımızda serinlik hissedilmesi

**Yukarıdakilerden hangileri donma noktasının düşürülmesi ile ilgilidir ?**

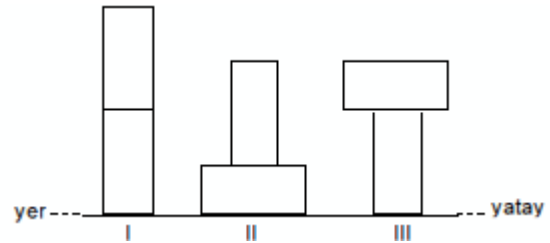
- A) 1 ve 3      B) 2 ve 3  
C) Yalnız 3      D) 1 ve 2

19) Aşağıdakilerden hangisi “modifikasyon” örneklerinden biri değildir ?

- A) Van kedilerinin farklı renklerde gözlerinin olması  
B) Güneş altında fazla kaldığımızda tenimizin bronzlaşması  
C) Çekirgelerinin sıcaklığa göre benekli ya da beneksiz olması  
D) Sporcuların düzenli çalışmaları sonucunda kaslarının çıkması

Doğubayazıt Yatılı Bölge Ortaokulu Test Ekibi Çalışmasıdır.

20)



**Şekilde özdeş tuğlalar farklı konumlarda dengededir. Buna göre yere uygulanan basınçların büyükten küçüğe doğru sıralaması nasıldır ?**

- A)  $1 = 2 > 3$   
B)  $2 > 3 > 1$   
C)  $3 > 1 > 2$   
D)  $1 = 3 > 2$

**İNKİLAP TARİHİ**  
**VE**  
**ATATÜRKÇÜLÜK**

# İnkılap Tarihi ve Atatürkçülük



# TEST

1) Osmanlı Devleti, çok uluslu bir yapıya sahipti. Ülkedeki farklı gelenek ve görenekler ülkede çok zengin bir kültürel yapı oluşturmuştu. 19. yüzyıla kadar huzur ve güven içerisinde yaşayan bu uluslar, Fransız İhtilali ile ortaya çıkan milliyetçilik fikrinden etkilenmişlerdi. Bu devletler, Osmanlı toprakları üzerinde çıkarları olan devletlerin de kışkırtmaları sonucu isyan edip bağımsızlık çabasına girdiler.

**Verilen durumun, aşağıdakilerden hangisine ortam hazırladığı söylenebilir?**

- A) Balkanların zenginleşip büyümesine
- B) Balkanların pek çok çatışmanın yaşandığı bir bölge olmasına
- C) Balkanların huzurlu ve güvenli bir bölge haline gelmesine
- D) Osmanlı Devleti'nin bir Avrupa devleti sayılmasına

2) I- Ermeniler işgal ettikleri Türk topraklarını terk edeceklerdir.

II- Kars, Sarıkamış, Iğdır, Ardahan, Kağızman Türklere verilecektir.

III- Doğu sınırı Aras nehri-Çıldır Gölü'ne kadar uzanan hat üzerinde olacaktır.

**Yukarıda verilen maddeler aşağıdaki antlaşmalardan hangisi ile ilgilidir?**

- A) Gümrü
- B) Ankara
- C) Mudanya
- D) Kars

3) Aşağıdakilerden hangisi düzenli ordunun kuruluş nedenleri arasında yer almaz?

- A) Kuvayı Milliye birliklerinin savaş teknikleri konusunda yetersiz olması
- B) Kuvayı Milliye birliklerinin disiplinden yoksun olması
- C) Kuvayı Milliye birliklerinin işgalleri tarafından karşılanması

4) Kurtuluş Savaşı'nın amaç-yöntem ve gerekçesinin belirlendiği ve Kurtuluş Savaşı'nın yol haritası denilen ulusal belge aşağıdakilerden hangisidir?

- A) Sivas Kongresi
- B) Erzurum Kongresi
- C) Havza Genelgesi
- D) Amasya Genelgesi

5) İtilaf devletleri, hazırladıkları Sevr Antlaşması'nın metnini Osmanlı Devleti'ne imzalatmak isteyince Osmanlı padişahı da Meclisi Mebusan'ın kapalı olması nedeniyle, İstanbul'da aydınlardan ve devlet adamlarından oluşan Saltanat Şurası'nı toplayarak antlaşma şartlarını incelemiştir. Toplantı sonunda antlaşma şartları kabul edilmiş Paris'e giden Türk heyeti Sevr Barış Antlaşmasını imzalamıştır.

**Bu parçadan hareketle aşağıdaki yargılardan hangisine ulaşamaz?**

- A) Osmanlı padişahı teslimiyetçi bir tutum sergilemiştir.
- B) Sevr Antlaşması Osmanlı Mebusan Meclisi tarafından onaylanmamıştır.
- C) İtilaf Devletleri, Saltanat Şurası ile görüşmüştür.
- D) Osmanlı padişahı antlaşmayı geçersiz saymıştır.

6) Kütahya-Eskişehir Savaşları'nın düzenli ordu tarafından kaybedilmesi moralleri bozmuş, mecliste M. Kemal'e karşı eleştirileri artırmıştır. Ayrıca düzenli orduya olan güven sarsılmış ve işgal tehlikesine karşı meclisin Kayseri'ye taşınması fikri gündeme gelmiştir.

**Bu bilgilerden yola çıkarak aşağıdakilerden hangisi söylenemez?**

- A) T.B.M.M.'ye olan güven sarsılmıştır.
- B) Yunanlıların Ankara'yı işgal etme tehlikesi vardır.
- C) M. Kemal ve arkadaşlarına olan muhalefet artmıştır.
- D) Milli mücadele başarısızlıkla sona ermiştir.

7) Lozan barış görüşmeleri sırasında Musul konusunda Türkiye ile İngiltere arasında hararetli tartışmalar yaşanmış ve Musul Sorununun çözümü iki ülke arasında daha sonra yapılacak ikili görüşmelere bırakılmıştır.

**Bu bilgidен hareketle İngiltere'nin Musul konusundaki bu ısrarcı tavrının esas sebebi aşağıdakilerden hangisidir?**

- A) Musul halkının İngiltere'yi desteklemesi
- B) İngilizlerin Araplara yardım etmek istemesi.
- C) Musul'un önemli bir petrol alanı olması
- D) Musul'un ticaret yolları üzerinde bulunması.

8)

"Hattı müdafaa yoktur sathı müdafaa vardır o sath bütün vatanıdır. Vatanın her karış toprağı vatandaşın kanıyla ıslanmadıkça düşmana terk olunamaz"

**Mustafa Kemal'in Sakarya Savaşı'ndaki bu sözünden hareketle aşağıdakilerden hangisi söylenemez?**

- A) Artık savaşın sadece bir hat üzerinde değil tüm vatan toprakları üzerinde yapıldığı
- B) M.Kemal'in milli mücadelenin kazanılmasını geciktirdiği.
- C) Halkın topyekün bir mücadele içine girmesi gerektiği
- D) M. Kemal'in yeni bir savaş taktiği denediği.

9) - Devletin başkanının kim olduğu sorunu

- Devletin yönetim biçiminin ne olacağı konusundaki tartışmalar.

- Hükümet bunalımının meclisi çalışamaz duruma getirmesi

**Yeni Türk Devleti'nde ortaya çıkan yukarıdaki sorunlar hangi gelişmeyle beraber çözüme kavuşmuştur?**

- A) Saltanatın kaldırılmasıyla
- B) Halifeliğin kaldırılmasıyla
- C) Cumhuriyetin ilan edilmesiyle
- D) Medeni Kanun'un kabul edilmesiyle

10) - Cumhuriyetin ilan edilmesiyle rejim tartışmaları sona erdi.

- Halifeliğin kaldırılmasıyla laiklik yolunda önemli bir adım atıldı.

- Saltanatın kaldırılmasıyla padişah Anadolu'ya dinlenmeye çekildi.

- 3 Mart 1924'te tekke, zaviye ve türbeler kapatıldı.

**Yukarıdaki bilgilerden kaç tanesi yanlıştır?**

- A) iki
- B) dört.
- C) bir.
- D) üç.

11)

-Tekke, zaviye ve türbelerin kapatılması

-Soyadı Kanunu'nun kabul edilmesi

-Hafta sonu tatilinin cumadan pazara alınması

-Kılık-kıyafet inkılabının yapılması

**Yukarıda verilen inkılaplar aşağıdaki alanların hangisi ile ilgilidir?**

- A) Toplumsal
- B) Sanat
- C) Siyasi
- D) Kültürel.

12)Türkiye'nin ilk muhalefet partisi olan Terakkiperver Cumhuriyet Fırkası Şeyh Sait İsyanı'na sebep olduğu gerekçesiyle 1925 yılında kapatılmıştır. Serbest Cumhuriyet Fırkası ise Laiklik ve cumhuriyet karşıtlarının toplandığı bir yer haline geldiği için kurucusu Ali Fethi Bey tarafından 1930 yılında kapatılmıştır.

**Buna göre aşağıdakilerden hangisi söylenemez?**

- A) Türkiye' de siyasi ortamın henüz hazır olmadığı
- B) Türk halkının demokrasiyi ve milli egemenliği istemediği
- C) Türkiye'de cumhuriyet karşıtı insanların olduğu
- D) Milli egemenlik ilkesinin tam olarak uygulamaya girmediği.

### 13) Osmanlı devletinde;

I. Boşanma hakkı yalnızca erkeklere tanınmıştır.

II. Mahkemede bir erkeğin şahitliği iki kadının şahitliğine denk sayılmaktaydı.

III. Kadınlara meslek seçme ve miras hakkı tanınmamıştır.

**Bu ifadelerden aşağıdaki yargılardan hangisi çıkarılamaz?**

A) Kadın erkek eşitliğinin olmadığı.

B) Osmanlı devletinde kadınların babasının mirasını alamadığı.

C) Azınlıkların kendilerine ait hukuk kuralları olduğu

D) Hukuk kurallarının çağdaş ve demokratik olmadığı

**14) Cumhuriyet Döneminde yapılan aşağıdaki inkılaplardan hangisi Avrupa ile olan ticari ve ekonomik ilişkileri geliştirmek amacıyla yapılmıştır?**

A) Latin Alfabesinin kabul edilmesi

B) Hafta sonu tatilinin cumadan pazara alınması

C) Şapka ve kılık-kıyafet kanununun kabul edilmesi

D) Soyadı kanununun kabul edilmesi



**15) Yukarıdaki şekilde boş bırakılan yere aşağıdakilerden hangisi getirilebilir?**

A) Teşvik-i sanayi kanununun çıkarılması

B) Maden Tetkik Arama kurumunun kurulması.

C) İş Bankasının kurulması

D) Yüksek Ziraat Enstitüsü'nün kurulması.

"El emeği yeterli değildir. Makinelerden yararlanmak gerekir. Yüzyıllardan beri kullanmakta olduğumuz sabanları bir yana bırakacağız. Çağın ilerlemesinin gerektirdiği bütün ziraat alet ve araçlarını memlekete getireceğiz." M.Kemal ATATÜRK.

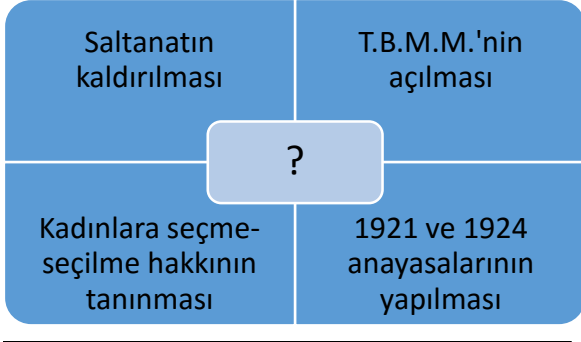
**16) M. Kemal Atatürk yukarıdaki sözünde aşağıdaki ilkelerinden hangisinin önemini vurgulamaktadır?**

A) Cumhuriyetçilik

B) Halkçılık

C) Laiklik

D) İnkılapçılık



17) Yukarıda soru işareti konulan yere aşağıdaki Atatürk ilkelerinden hangisi getirilebilir?

- A) İnkılapçılık
- B) Halkçılık
- C) Cumhuriyetçilik
- D) Milliyetçilik

18) Atatürk ilkeleri için aşağıdakilerden hangisi söylenemez?

- A) Atatürk ilkeleri birbirine ortam hazırlayıcı ve birbirini tamamlayıcıdır.
- B) Atatürk ilkeleri milletin ihtiyaçlarından doğmuştur.
- C) Atatürk ilkeleri akla ve mantığa uygundur.
- D) Atatürk ilkelerinin temelinde değişmeyen dogmatik düşünceler vardır.

19) 1982 Anayasasının ikinci maddesine göre Türkiye Cumhuriyeti, laik bir devlettir. Aşağıdakilerden hangisinin laik bir devlette görülmesi beklenemez?

- A) Devletin egemenlik kaynağını dinden alması.
- B) Din ve devlet işlerinin birbirinden ayrı tutulması.
- C) Devletin farklı inançlara eşit mesafede durması.
- D) Vatandaşlarının din ve vicdan özgürlüğüne sahip olması.

20) Sakarya Savaşı öncesi hazırlık döneminde M. Kemal Türk ordusunun ihtiyaçlarını karşılamak için 7-8 Ağustos 1921 tarihinde Tekalif-i Milliye emirlerini yayımlamıştır. Anadolu halkı bunun üzerine büyük bir fedakarlık örneği göstererek varını yoğunu ortaya koymuştur. Halkın bu fedakarlığı sayesinde ordunun ihtiyaçları kısa sürede tamamlanmış ve Türk ordusu Sakarya Savaşı ile Yunanlıları büyük bir yenilgiye uğratmıştır.

Yukarıda anlatılan durum Atatürkçü düşünce sistemindeki hangi milli güç unsuru ile ilişkilidir?

- A) Siyasi güç
- B) Askeri güç
- C) Sosyal-Kültürel güç
- D) Ekonomik güç.

**İNGİLİZCE**



1. Aşağıdaki konuşmada boşluklara gelebilecek en uygun cümleler hangi seçenekte verilmiştir?

**Garfield:** I don't understand why people do dangerous sports such as sky diving and bungee jumping.

**Odie:**

.....

**Garfield:** I mean, what is their reason to do adventurous sports?

**Odie:** .....

- A) Do you mean martial arts? / Because they hate safe sports.  
 B) They are so trendy. / Why not.  
 C) What do you mean? / They want to push and test themselves.  
 D) What do you mean? / Because it is not difficult.

2. Aşağıdaki soru ve cevaplar eşleştirildiğinde hangi ikili dışarıda kalır?

1-How many hotels are there in your city?	A- Boeing 737 is about 40 tons for example.
2- How much does a plane weight?	B- I was with my brother and a friend.
3- Are you good at playing tennis?	C- Approximately ten.
4- What do you need to do this activity?	D-Are you kidding? I am the best in my school.

- A) 2-A      B) 1-D  
 C) 3-C      D) 4-B

3. Which one is **not** an outdoor activity?

- A) Table tennis  
 B) Caving  
 C) Parachute diving  
 D) Swimming

4. One of your friend invites you to a Rock concert but you don't want to go with him. Make an excuse and refuse him kindly.

**Yukarıdaki duruma uygun olan seçeneği işaretleyin.**

- A) Why not. I am crazy about Rock music.  
 B) I'm not your friend. Don't call me again!  
 C) That would be great but I have to look after my siblings.  
 D) I am sorry to hear that.

- I. Eddy and Paul have something in common = They can't stand each other.  
 II. I get on well with Ece. = We are like brothers and sisters.  
 III. Selçuk and Erdem are good friends = They are buddies.  
 IV. My parents count on me = My father and mother trust me.

5. Yukarıda aynı anlama gelen cümleler eşleştirildiğinde hangi ikili dışarıda kalır?

- A) I      B) II      C) III      D) IV

6. **Son:** Daddy, why do people use \_\_\_\_\_ while riding bicycle?

**Father:** Because it helps bicycle to stop. Lots of accidents happens if they don't use it.

**Son:** Oh, I see.

**Diyalogda boş bırakılan yere seçeneklerden hangisi gelir?**

- A) seat
- B) brake lever
- C) mud guard
- D) tire

#### **How to make a bread**

Firstly, put the yeast in a bowl and add \_\_\_\_\_ of warm water. Then pour the yeast mixture to a large mixing bowl. After that \_\_\_\_\_ the butter, milk sugar and salt. Add the flour and stir well. Put the dough on a lightly floured surface and \_\_\_\_\_ for ten minutes. Finally bake it in a pre-heated oven in 200 C. Your bread is ready.

7. Yukarıdaki tarifte boşluklara gelecek ifadeler sırasıyla hangi seçenekte verilmiştir?

- A) a glass / add / knead
- B) a piece / pour / bake
- C) two kilograms / mix / fry
- D) a little / chop / shape

8. 'An activity in which people move quickly around buildings and objects in a city while performing jumps and other skillful movements.'

**Yukarıda tanımı yapılan spor hangisidir?**

- A) Base jumping
- B) Scuba diving
- C) Parkour running
- D) Paragliding

9. **Şenol:** I joined an extreme sports club last year and tried base jumping first time in my life.

**Mehmet:** Really?

**Şenol:** It was hearth-stopping. I was so excited when I landed on.

**Yukardaki konuşmada boşluğa hangi ifade gelmelidir?**

- A) What was it like?
- B) What are you talking about?
- C) How did you join that club?
- D) What do you mean?

10. **Bill:** How do you usually access the internet?

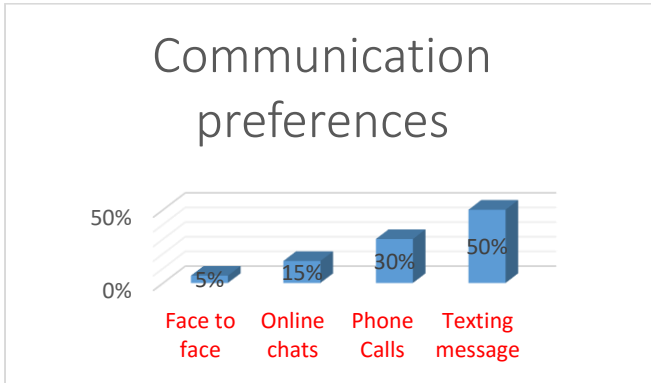
**Steve:** I use a wireless modem.

**Bill:** No, no. I mean which device do you use to surf in web?

**Steve:** Oh, \_\_\_\_\_.

**Yukarıdaki konuşmada boşluğa hangisi gelir?**

- A) What's the matter with you?
- B) I don't prefer cable modems.
- C) I hate technological gadgets that's why I prefer face to face interaction.
- D) I mostly use my tablet for visiting web sites and social networks.



11. Yukarıdaki grafiğe göre aşağıdakilerden hangisi söylenebilir?

- A) People prefer online chats to texting message.
- B) Phone calls are more than 30 %.
- C) Half of people talk in person.
- D) Sending SMS is the most used communication type.

12. **Mother:** Can you help me in the garden, please?

**Daughter:** Sure mum. What can I do for you?

**Mother:** \_\_\_\_\_.

**Daughter:** Ok.

**Yukarıdaki boşluğa hangisi getirilebilir?**

- A) You can mix the soup
- B) Can you mop the bathroom
- C) Sweep the leaves for me dear
- D) You should finish your science project

13 ve 14. soruları aşağıdaki paragrafa göre cevaplayın.

My name is Robert. I am thirteen years old. Everybody has a responsibility in our house. My mum, Ellyn does the laundry and she hangs up the washings. She also washes the dishes. My father, Richard is responsible for taking out the garbage and watering the flowers. I have some duties too. I should vacuum and mop the floors and sometimes I help my mother in kitchen. It is not easy or funny but we have to do our tasks. My little brother John is responsible for dusting the furniture but he never does his duties. He hates sharing the housework.

13. Which one is true according to the text?

- A) House chores are entertaining for Robert.
- B) All family members share the chores.
- C) Robert's father takes the rubbish out.
- D) Ellyn is responsible for mopping.

14. According to the text, which one is false?

- A) Robert thinks that doing house works is boring.
- B) Ellyn is not always alone while cooking.
- C) John thinks that sharing housework makes their duties easier.
- D) Richard gives water to the plants.

**15. 16. ve 17. Sorularda boşluğa uygun gelen ifadeleri işaretleyiniz.**

**15. Ahmet:** I think Taj Mahal is one of the most beautiful structure in the world.

**Ümit :** I agree with you, what do you know about it?

**Ahmet:** Taj Mahal reflects only one nation's architecture.

**Ümit :** ..... Taj Mahal is the mixture of Persian, Turkish, and Indian architecture.

- A) I am sorry to hear that I hope it will get better soon.  
B) I think you are wrong about it.  
C) That's true. you are right.  
D) You know many things about Indian Cuisine.

**16. Samed :** What is your mother's job?

**Umberto :** She is a cleaner .

**Samed :** Really! Where does she work?

**Umberto :** At the city hospital.

**Samed :** What does she do?

**Umberto:** .....

**Samed :** it sounds difficult work.

- A) She mops the floors, cleans windows all day.  
B) She races in the competitions.  
C) She helps ill people.  
D) She does extreme sports.

**17. Tahsin :** Who goes to bakery to buy bread in your family in mornings.

**Yücel :** .....

**Tahsin :** You are lucky, you have siblings to go bakery instead of you. I have to go in our family.

- A) My little sister  
B) My mother and father  
C) My brother and sister  
D) My cousin.

**18. 19. ve 20. soruları parçaya göre cevaplayınız.**

San Francisco is in the State of California in the west of the United States. It is near the Pacific Ocean. First, people from Spain lived there. Today, Austrians, Italians, Chinese and others live in the city with Americans. The Chinese live in Chinatown. There are many Chinese restaurants there. The houses, post boxes and telephones in

the streets are very interesting. This part of the town is exactly like China. Fisherman's Wharf is another place where tourists want to go. You can find a table in a nice little restaurant near the sea there. You can eat sea food and look at the Golden Gate Bridge. You can watch the ships passing under it and the cars crossing it. The Golden Gate Bridge is the symbol of San Francisco. After you finish your meal, you can take a boat trip to Alcatraz. Alcatraz was a famous prison between 1866 and 1920, but only tourists go there now. San Francisco is different from other American cities. It is more European. The sun always shines there and there are a lot of things you can do at night ; you can go to the nightclubs, discos, restaurants, cinemas and theatres. That's why a lot of young people want to live in San Francisco. ( *Reader At Work 1 – METU Department of Basic English, Bülent KANDİLLER, Aysun VELİOĞLU Ankara, 1995*)

**18. \_\_\_\_\_ is the landmark of San Francisco.**

- A) Fisherman's Wharf    B) Chinatown  
C) Alcatraz                D) Golden Gate Bridge

**19. According to the text,**

- \_\_\_\_\_
- A) You can find many recreational activities to do ; you can go to the nightclubs, discos, restaurants, cinemas and theatres  
B) You can take a boat trip to Alcatraz. Alcatraz was a famous park between 1866 and 1920  
C) In San Francisco, Italians and Chinese lived previously, but now, Spanish people live.  
D) San Francisco is famous for Italian restaurants which make delicious pizza.

**20. We can understand from the text;**

- \_\_\_\_\_
- A) In San Francisco, population mostly consists of Chinese people.  
B) In San Francisco is located along the Pacific Ocean  
C) Alcatraz was a famous hotel between 1866 and 1920.  
D) Fisherman's Wharf is a famous museum, many tourists visit during the year.

**TEST BİTTİ  
CEVAPLARINIZI  
KONTROL  
EDİNİZ.**