

AD-SOYAD :..... .....	2019-2020 ÖĞRETİM YILI .....İLKOKULU 3.SINIFLAR FEN BİLİMLERİ DERSİ 1.DÖNEM1.DEĞERLENDİRME	..... 10.2019 PUAN:.....NOT:.....
NUMARA :.....		

**Aşağıdaki cümlelerin doğru olanların başındaki parantez içine "D",yanlış olanlara ise "Y" harfi yazınız.(10 P)**

- ( ) 1) Hava katmanı Dünya'yı çepeçevre sarar.  
 ( ) 2) Burnumuzdaki kılları koparmamalıyız.  
 ( ) 3) Daha iyi görebilmek için televizyona çok yakından bakmalıyız.  
 ( ) 4) Cansız varlıklar hareket etmek için bir kuvvete ihtiyaç duyarlar.  
 ( ) 5) Yokuş aşağı bırakılan misket yavaşlayan hareket yapar.  
 ( ) 6) Seğ kulağımız sol kulağımıza göre sesi daha önce işitir.  
 ( ) 7) Çekirdek, Dünya'nın merkezinde bulunan en ağır ve en sıcak katmandır.  
 ( ) 8) Hava olayları atmosferde gözlenir.  
 ( ) 9) Yer yüzündeki sular ,göller,denizler,okyanuslar ve yer altı sularından oluşur.  
 ( ) 10) Çekirdek ve magma gözle gözlenebilen katmanlardır.

**Aşağıdaki cümlelerde boş bırakılan noktalı yerleri uygun kelimelerle tamamlayınız. (16 P)**

yanardağ	derimiz	Duyu organımız	burnumuzla	beş	görünen	Macellan	atmosfer
----------	---------	----------------	------------	-----	---------	----------	----------

- 1) Magmanın yer yüzüne çıktığı yere .....denir.  
 2) Yeryüzüne çıkan magmaya .....denir  
 3) Bir yerden yolculuğa başlayan kişinin hep aynı yöne gitmesi halinde başlangıç noktasına döneceği söyleyen denizci .....'dır.  
 4) Çekirdek,manto ve yerkabuğu Dünya'mızın ..... katmanlarındandır.  
 5) Duyu organlarımız ..... tanedir.  
 6) ..... bilmediğimiz nesnelere koklamak bize zarar verebilir.  
 7) Dünya'mızın şekli .....benzer.  
 8) ..... sayesinde bir varlığın pürüzlü olup olmadığını anlarız.

**Dünya'mızın katmanlarıyla ilgili açıklamaları uygun rakamları kullanarak eşleştirin. (5 P)**

1	Yer kabuğunun altındadır.Kayalar erimiş haldedir.	....	Çekirdek
2	Dünya'mızın en iç kısmında bulunan, katmandır.	....	Yer kabuğu
3	Okyanus,deniz,nehir ve yer altı sularının olduğu yerdir.	....	Atmosfer
4	Dünya yüzeyinin etrafını saran gaz tabakasıdır.	....	Su katmanı.
5	Hayvanların ve insanların yaşadığı yerdir.	...	Magma

**Aşağıdaki soruların cevaplarını boşluklara yazalım.**

Duyu organlarımızın isimlerini aşağıya yazar mısın?(5p)

Dünyamızın yuvarlak olduğunu nasıl açıklarsın?(5p)

Mustafa okula giderken şiddetli bir araba kornası duydu. Kafasını çevirdi. Hızla yaklaşan kamyonu gördü. Birden geri dönerek annesinin elini tuttu.Buna göre Mustafa hangi duyu organlarını kullanmıştır?(5p)

**Aşağıdaki soruları dikkatlice okuyup doğru cevaplarını işaretleyiniz.**

**Gerekirse açıklamaları yazınız**

**1) Dünya modelinde en çok hangi rengi görürüz?**

a-Yeşil b-Kahverengi c-Mavi

**2) Çizgi film seyrederken aşağıdaki duyu organlarından hangisini kullanmayız?**

A) Burun B) Göz C) Kulak

**3) Hangisi duyu organlarımız sayesinde yapabildiklerimizden değildir?**

A)koklama B)dokunma C)düşünme

**4) "Yemek yerken yemeğin tadını, görüntüsünü ve kokusunu aynı anda algılayabiliriz." Bu durum bize neyi gösterir?**

A) Duyu organlarımız görevlerini karıştırabilir.

B) Duyu organlarımızdan biri olmasa yaşayamayız.

C) Duyu organları birlikte çalışır.

**9)Dünya'nın hangi küresinde deprem meydana gelmektedir?**

A) Taş küre (yerkabuğu) B) Ateş küre

C) Hava küre (Atmosfer)

**10-) Kulak sağlığımızı korumak için aşağıdakilerden hangisini yapmak yanlış olur?**

A) Sivri uçlu cisimlerle kulaklarımızı temizlememiz

B) Kulaklarımızı soğuktan korumamız

C) Kulaklarımızı şiddetli darbelerden korumamız

**11)Dünya'nın katmanlarından hangileri görünmeyen katmanlarındandır ?**

A) Yer kabuğu- manto - çekirdek

B) Manto --- su küre - hava küre

C) Çekirdek - manto – su küre

**12)Vücudumuzun en büyük duyu organımız aşağıdakilerden hangisidir ?**

A) Dil B) Deri C) Burun

**13)Bulutsuz bir günde, gündüz vakti gökyüzüne bakınca gördüğümüz mavi katmana ne ad verilir?**

a)Su küre B)hava küre C)taş küre

I. Bilmediğimiz maddelerin tadına bakabiliriz.

II. Bilmediğimiz maddeleri koklamak tehlikeli olabilir.

III. Gürültülü ortamlardan kaçınmalıyız.

**14)Yukarıdaki ifadelerden hangileri doğrudur ?**

A) II ve III B) I ve III C) I, II ve III

**15)"Taşlar, kayalar ve onun üzerini örten topraktan oluşmuştur." Yukarıda hangi tabaka hakkında bilgi verilmiştir?**

a)Su küre B)hava küre C)taş küre

**16)Taş kürenin diğer adını aşağıdaki çocuklardan hangisi doğru bilmiştir?**

A)Talha: Atmosfer Ecrin: Kıta

C)Eda:Yer Kabuğu

17)Burak, ufuk çizgisinden kendine yaklaşan bir geminin fotoğraflarını çekmektedir.

1 – Geminin tamamının görülmesi

2 – Geminin yarısının görülmesi

3 – Geminin sadece bayrağının görülmesi

**Burak'ın fotoğraflarının çekilme sırası aşağıdakilerden hangisidir?**

A) 3 – 2 – 1 B) 1 – 2 – 3 C) 3 – 1 – 2

**PİSEGOR BİRUNİ MACELLAN**

**18)Yukarıdaki bilim insanlarının ortak görüşü nedir?**

A. Dünyamızın öküzin başında olduğu nu savunmuşlardır.

B. Gemicilik yapmışlardır.

C. Dünyamızın küre şeklinde olduğunu savunmuşlardır.

**BAŞARILAR DİLERİM!**

Adı:

Soyadı:

No:

# FEN BİLİMLERİ 1, 2 ve 3. ÜNİTE DEĞERLENDİRME ETKİNLİĞİ

1. Aşağıdaki varlıklardan hangisi kendi başına hareket edemez ?

A)



B)



C)



Sevgili Günlük,

Bugün parkta yürürken birden çok güzel bir salıncak gördüm. Hemen koşarak oraya gittim. Salıncakta sallanırken çok eğlendim. Daha sonra abim geldi. Beni lunaparka götürdü. Lunaparkta atlı karıncaya bindim. Eve dönerken abime teşekkür ettim. Bugün benim için çok güzel geçti.

2. Yukarıdaki metinde Sıla'nın günlüğünden bir bölüm verilmiştir. Sıla'nın gün içerisinde yaptığı hareket çeşitlerinin altı çizilmiştir. Buna göre Sıla'nın yaptığı hareket çeşitleri hangi seçenekte sırasıyla doğru verilmiştir ?


A) Yavaşlama - Yön Değiştirme - Hızlanma

B) Hızlanma - Yön Değiştirme - Dönme

C) Hızlanma- Sallanma- Dönme



Fren yapan araba



Vantilatörün pervanesi



Saatin sarkacı

Dönme

Sallanma

Yavaşlama

3. Yukarıda görsellerde verilen varlıkları yaptıkları hareket çeşitleri ile eşleştirirsek ortaya nasıl bir şekil çıkar ?

A) \_\_\_\_\_  
\_\_\_\_\_  
\_\_\_\_\_

B)

C)

4. " Bir cismi hareket ettirerek kendimizden uzaklaştırmaya .....denir. "

Yukarıdaki cümlede boş bırakılan yere aşağıdakilerden hangisi gelmelidir ?

A) itme

B) çekme

C) dönme

5. Aşağıdaki olayların hangisinde hem itme hem de çekme kuvveti vardır ?

- A) Halat çekme oyunu oynamak
- B) Testere ile odun kesmek
- C) Yakan top oynamak

6. Ela arkadaşının ona doğru attığı topun hızlanmasını istiyor. Bunun için Ela topa nasıl bir kuvvet uygulamalıdır ?

- A) Topa zıt yönde kuvvet uygulamalıdır.
- B) Topa aynı yönde kuvvet uygulamalıdır.
- C) Topu durdurmalıdır.

7. Havaya fırlatılan top sırasıyla hangi hareketleri yapar ?

- A) Top yukarı çıkarken yavaşlayan, aşağı inerken ise hızlanan hareket yapar.
- B) Top yukarı çıkarken hızlanan, aşağı inerken ise yavaşlayan hareket yapar.
- C) Top yukarı çıkarken dönme, aşağı inerken ise sallanma hareketi yapar.

Eve geldiğimde mutfaktan çok güzel kokular geliyordu. Mutfaka gittiğimde masanın üzerinde en sevdiğim yemek olan köfteyi gördüm. Hemen bir tane alıp tadına baktım. Çok lezzetli olmuştu.

8. Yukarıdaki metinde, yazar hangi duyu organını kullanmamıştır ?

- A) Burun
- B) Dil
- C) Kulak

9. Vücudumuzun en büyük duyu organımız aşağıdakilerden hangisidir ?

- A) Dil
- B) Deri
- C) Burun

10. Duyu organlarımızın sağlığı için aşağıdakilerden hangisini yapmak doğrudur ?

- A) Kulağımızı sivri cisimlerle karıştırmalıyız.
- B) Burun kıllarımızı koparmalıyız.
- C) Dişlerimizi fırçalarken dilimizi de fırçalamalıyız.

I. Bilmediğimiz maddelerin tadına bakabiliriz.

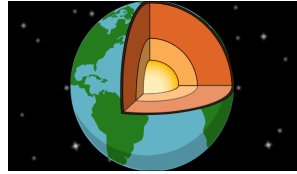
II. Bilmediğimiz maddeleri koklamak tehlikeli olabilir.

III. Gürültülü ortamlardan kaçınmalıyız.

11. Yukarıdaki ifadelerden hangileri doğrudur ?

- A) II ve III
- B) I ve III
- C) I, II ve III

12. Dünya'nın katmanları içten dışa doğru hangi seçenekte verilmiştir ?



- A) Çekirdek - Ateş Küre - Yer Kabuğu
- B) Hava Küre - Su Küre - Ateş Küre
- C) Yer Kabuğu - Su Küre - Ateş Küre

13. "Diğer ismi Ağır Küre'dir. Dünya'mızın en sıcak katmanıdır."

Yukarıda bahsedilen katman aşağıdakilerden hangisidir ?

- A) Çekirdek
- B) Ateş Küre
- C) Taş Küre

1-Dünyamızın şekli prizmalardan hangisine benzemektedir?

A- KÜP B-KÜRE C-KONİ

2-Aşağıda boş bırakılan yerleri uygun ifadelerle doldurun?



3-Bitki örtüsünün bulunduğu ve depremlerin gerçekleştiği dünya tabakası .....tabakasıdır.

**Bu cümledeki boşluğa aşağıdakilerden hangisi yazılmalıdır?**

A-KARA B-HAVA C-SU

4- Dünya'nın  $\frac{1}{4}$  ünü kaplar.

Yukarıda söz edilen hangi tabakadır?

A-SU B-HAVA C-KARA

5-Dünyamızı saran hava katmanının diğer adı aşağıdakilerden hangisidir?

A-OKSİJEN B-ATMOSFER C-GAZ

6-Dünya'nın su tabakasını birçok farklı su kütlesi oluşturur.**Buna göre aşağıdakilerden hangisi Dünya'nın en büyük su kütlesidir?**

A-GÖLLER B-AKARSULAR C-OKYANUSLAR

### **B-BOĞLUK DOLDURMA:**

Aşağıdaki cümleleri kutucuklarda verilen sözcüklerden uygun olanla tamamlayın.

deri	burun	ağız	kulak	zarar	dış
güneşlenmek		duyu	doktor	koklamak	

1-Yaralanma,kesik,yanma ve ezilmelerden.....korunmalıdır.

2-Soluduğumuz hava temiz değil ise.....ile nefes alıp.....ile vermeliyiz.

3-Sivri uçlu cisimlerle.....karıştırılmamalı.

4-Deri,organlarımızı.....etkilerden korur.

5-Ne olduğunu bilmediğimiz veya keskin kokulu maddeleri.....zararlıdır.

6-Aşırı.....derimize zarar verir.

7-Burun kanamalarında hemen .....kontrolünden geçmeliyiz.

- 8-.....sağlığı için çok sıcak ve çok soğuk yiyecek ve içeceklerden kaçınmalıyız.  
9-Şiddetli seslerin olduğu ortamda kulaklarımız.....görebilir.

sallanma	yavařlama	dönme	yön deęiřtirme
----------	-----------	-------	----------------

- 10-Parkta salıncaktaki çocuk.....hareketi yapar.  
11-Hareket halinde iken kırmızı ışık yanınca otomobil.....hareketi yapar.  
12-Duvar saatinin içerisindeki akrep ile yelkovan.....hareketi yapar.  
13-Viraja yaklaşan araba .....ve.....hareketi yapar.

### C-DOĐRU VE YANLIĐ ĞĖRETLEME:

Ařařıdaki cümlelerden doęru olanların önündeki kutucuęa "D",yanlıř olana"Y" yazın.

- 1-( )Dünya'nın kendi etrafında yaptıęı hareket dönme hareketidir.  
2-( )Yel deęirmenleri sallanma hareketi yapar.  
3-( )Yeřil ışık yanınca araçlar hızlanma hareketi yapar.  
4-( )Hareketli cisimleri durduran,duran cisimleri harekete geçiren hızdır.  
5-( )Tavřan kaplumbaęaya göre daha yavař hareket eder.  
6-( )Tren,otobüs,gemi gibi araçlar durmadan önce yavařlar.  
7-( )Cansız varlıklar bir etki olmadığı sürece hareket etmezler.  
8-( )Uçak,otomobilden daha hızlı hareket eder.  
9-( )Bitkiler hareket etmez.

### TEST

- 1) Ařařıdakilerden hangisi Dünya'nın yuvarlak olduęunun kanıtlayan durumlardan biri deęildir?

- A) Uzaydan çekilmiş fotoęraflar  
B) Sonbaharda kuřların güneye göç etmesi  
C) Denizden gelen bir geminin önce direęinin görünmesi

- 2) Kıtalar arasında bulunan büyük su kütlelerine ..... adı verilir. Bu cümlede noktalı yere ařařıdakilerden hangisi yazılmalıdır?

- A)kıtı B)okyanus C)nehir

- 3) Dünya'nın en ağır katmanı ařařıdakilerden hangisidir ?

- A)Magma B)Tař küre C)Çekirdek

- 4) Tař kürenin dięer adını ařařıdaki çocuklardan hangisi doęru bilmiřtir?

- A)Talha: Atmosfer  
B) Pelin: Kıta  
C) İkra: Yer kabuęu

- 5) Balıklar, mercanlar gibi deniz canlıları hangi katmanda yařar ?

- A ) Hava B) Su C) Hava

- 6) Dünya'nın uzaydan çekilmiş fotoęraflarında en çok hangi renk görülür?

- A) Kahverengi B) Yeřil C) Mavi

- 7)Halil, okuldan geldiğinde, daha mutfaęa girmeden annesine, "Anneciğim kek yapmıřsın." dedi.Halil, annesinin kek yaptıęını hangi duyu organıyla algılamıřtır?

- A)Kulakları B)Gözleri C)Burnu

- 8)Hangisi göz saęlığımız için yapmamız gerekenlerden biridir?

- A)Bizim olmayan havlu ile yüzümüzü silmek.  
B)Bařkasına ait olsa da gözlük kullanmak.  
C)Az veya fazla ışıktan gözümüzü korumak.

- 9-Ařařıdakilerden hangisi dilin görevlerinden deęildir?

- A) Diřlerle birlikte besinleri çiğnememizi ve yutmamızı saęlar.  
B) Tat almada görevlidir.  
C) Sesleri iřitmede görevlidir.

- 10-Bir maddenin yumuřak ya da sert olduęunu hangi duyu organımızla algılarız?

- A)Göz B)Burun C) Deri

- 11-Hangisi duyu organlarımız sayesinde yapabildiklerimizden deęildir? A)koklama B)dokunma C)düřünme

..... İLKOKULU 3-D SINIFI FEN BİLİMLERİ 1. DÖNEM 1. DEĞERLENDİRMESİ

ADI VE SOYADI		PUAN:   Veli İmza:
SINIFI		
NO		

Aşağıdaki cümlelerin doğru olanların başındaki parantez içine "D",yanlış olanlara ise "Y" harfi yazınız.(11 P)

- ( ) 1) Bir yerden hareket eden bir gemi hep aynı yönde hareket ederse başladığı yere geri döner.  
 ( ) 2) Hava katmanı Dünya'yı çepeçevre sarar.  
 ( ) 3) Burnumuzdaki kılları, mikropların vücudumuza girmesini engellediği için koparmamalıyız.  
 ( ) 4) Daha iyi görebilmek için televizyona çok yakından bakmalıyız.  
 ( ) 5) Cansız varlıklar hareket etmek için bir kuvvete ihtiyaç duyarlar.  
 ( ) 6) Yokuş aşağı bırakılan misket yavaşlayan hareket yapar.  
 ( ) 7) Dünya'nın oluşumundan günümüze kadar tüm insanlar Dünya'mızın yuvarlak olduğunu düşünmüştür.  
 ( ) 8) Çekirdek, Dünya'nın merkezinde bulunan en ağır ve en sıcak katmandır.  
 ( ) 9) Hava olayları atmosferde gözlenir.  
 ( ) 10) Yer yüzündeki sular akarsular,göller,denizler,okyanuslar ve yer altı sularından oluşur.  
 ( ) 11) Çekirdek ve magma gözle gözlenebilen katmanlardır.

Aşağıdaki cümlelerde boş bırakılan noktalı yerleri uygun kelimelerle tamamlayınız. (12 P)

yanardağ	derimiz	itme, çekme	yön değiştirme	kuvvet	lav
Macellan	itme	sallanma	hareket	atmosfer	küreye

- 1) Magmanın yer yüzüne çıktığı yere .....denir.  
 2) Yeryüzüne çıkan magmaya .....denir  
 3)Bir yerden yolculuğa başlayan kişinin hep aynı yöne gitmesi halinde başlangıç noktasına döneceği söyleyen denizci .....'dır.  
 4) Duran bir cismi hareket ettiren, hareket halindeki bir cismi durduran etkiye ..... denir.  
 5) Varlıkları hareket ettirmek için..... , .....kuvveti uygularız.  
 6) Çivi çakan kişi, çiviye ..... kuvveti uygular.  
 7) Beşikte sallanan bebek ..... hareketi yapar.  
 8) Kalecinin yumrukladığı top ..... hareketi yapar  
 9) İtme veya çekme kuvveti sonucunda cismin yer değiştirmesine ..... denir  
 10) Hava katmanının diğer adı .....'dir.  
 11) Dünya'mızın şekli .....benzer.  
 12) ..... sayesinde bir varlığın pürüzlü olup olmadığını anlarız.

Dünya'mızın katmanlarıyla ilgili açıklamaları uygun rakamları kullanarak eşleştirin. (5 P)

1	Yer kabuğunun altındadır.Kayalar erimiş haldedir.	...	Çekirdek
2	Dünya'mızın en iç kısmında bulunan, en ağır ve en sıcak katmandır.	...	Yer kabuğu
3	Okyanus,deniz,nehir ve yer altı sularının olduğu yerdir.	...	Atmosfer
4	Dünya yüzeyinin etrafını saran gaz tabakasıdır.	...	Su katmanı.
5	Hayvanların ve insanların yaşadığı yerdir.	...	Magma

AŞAĞIDAKİ ÇOKTAN SEÇMELİ SORULARDA UYGUN CEVABI İŞARETLEYİNİZ (72 P)

- 1) “ Bir gemi yolcu almak için limana yaklaşıyor. Yolcularını aldıktan sonra harekete geçiyor.”  
 Geminin yaptığı hareket türleri şirasiyla hangisidir?  
 A) hızlanma –yavaşlama B) yavaşlama – hızlanma  
 C) yön değiştirme – yavaşlama
- 2) Yapısında magma adı verilen sıcak ve akışkan bir madde olan katmanın adı aşağıdakilerden hangisidir?  
 a- Taş küre b- Ağır küre c- Ateş küre
- 3) Dünya modelinde en çok hangi rengi görürüz?  
 a-Yeşil b-Kahverengi c-Mavi

- 4) Fikret elindeki topu aşağıdakilerden hangisine atarsa top, yön değiştirme hareketi yapmaz?  
 A) Odanın duvarına B) Ağacın gövdesine  
 C) Su dolu havuza
- 5) Çizgi film seyrederken aşağıdaki duyu organlarından hangisini kullanmayız?  
 A) Burun B) Göz C) Kulak
- 6) Hangisi duyu organlarımız sayesinde yapabildiklerimizden değildir?  
 A)koklama B)dokunma C)düşünme



7)

Furkan okula giderken şiddetli bir araba kornası duydu. Kafasını çevirdi. Hızla yaklaşan kamyonu gördü. Birden geri dönerek annesinin elini tuttu.

Anlatılan olayda Furkan sırasıyla hangi duyu organlarını kullanmıştır?

A) Göz-kulak-dil B) Kulak-göz-deri C) Kulak-göz-burun

8) "Yemek yerken yemeğin tadını, görüntüsünü ve kokusunu aynı anda algılayabiliriz." Bu durum bize neyi gösterir?

A) Duyu organlarımız görevlerini karıştırabilir.  
B) Duyu organlarımızdan biri olmasa yaşayamayız.  
C) Duyu organları birlikte çalışır.

9) Dünya'nın hangi küresinde deprem meydana gelmektedir?

A) Taş küre (yerkabuğu) B) Ateş küre  
C) Hava küre (Atmosfer)

10-) Aşağıdakilerden hangisi Dünya'nın yuvarlak olduğunun kanıtlayan durumlardan biri değildir?

A) Uzaydan çekilmiş fotoğraflar  
B) Sonbaharda kuşların güneye göç etmesi  
C) Denizden gelen bir geminin önce direğinin görünmesi

11-) Kulak sağlığımızı korumak için aşağıdakilerden hangisini yapmak yanlış olur?

A) Sivri uçlu cisimlerle kulaklarımızı temizlememiz  
B) Kulaklarımızı soğuktan korumamız  
C) Kulaklarımızı şiddetli darbelerden korumamız

12-) Deri sağlığımız için aşağıdakilerden hangisini yapmak yanlış olur?

A) Derimizi ezilme, kesilme ve yanmalardan korumalıyız.  
B) Güneş ışığı altında uzun süre kalmalıyız.  
C) Vücudumuzu temiz tutarak deri üzerinde mikropların üremesine engel olmalıyız.

13 -) Aşağıdakilerden hangisini çekme kuvveti ile yaparız?

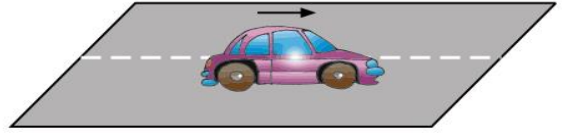
A) Buzdolabının kapısının açılması  
B) Tahtaya çivinin çakılması  
C) Açık olan çekmecenin kapatılması

14)

Kapı ziline çalınması  
 Rüzgârın ağaç dallarını sallaması  
 Çekmecenin açılması

Yukarıda itme kuvveti uygulanan hareketlerin başındaki kutucukların içine "✓" işareti konulacaktır. Kutucukların doğru işaretlenmesi hangi seçenekte verilmiştir?

A)     
B)     
C)



Batuhan, ok yönünde hareket eden oyuncak arabaya, ok yönünde kuvvet uyguluyor.

15) Kuvvet uygulandıktan sonra cismin hareketi ile ilgili olarak hangi seçenekteki ifade doğrudur?

A) Hızlanır B) Durur C) Yavaşlar

İtme ve çekme kuvvetlerinin hareket eden veya duran cisimler üzerinde etkisi olur."

16) Aşağıdakilerden hangisi bu etki sonucu gerçekleşmez?

A) Cismin yön değiştirmesi B) Cismin ağırlığının artması  
C) Cismin hızlanması

17) Denizlerin , okyanusların dibinde hangi katmanla karşılaşırız ?

A) Ateş küre B) Taş küre C) Çekirdek

18) Dünya'nın en ağır ve sıcak katmanı aşağıdakilerden hangisidir ?

A) Ateş küre B) Taş küre C) Çekirdek

19) Dünya'nın katmanları dıştan içe doğru hangi seçenekte verilmiştir ?

A) Yer kabuğu- Ateş küre – Ağır küre  
B) Manto- Su küre – Çekirdek  
C) Ağır küre – Ateş küre – Yer kabuğu

I. Göremeyiz ancak etkilerini hissederiz.

II. İçerisinde magma vardır.

III. İçerisinde nefes almamızı sağlayan gazlar bulunur.

20) Yukarıdakilerden hangileri hava katmanının özelliklerindedir ?

A) Yalnız I B) I ve III C) I, II, III

21) Televizyonda film izleyen Fırat hangi duyu organını kullanmaz?

A) Kulak B) Burun C) Göz

22) Kadir ,burnu tıkalı olduğu zaman yediklerinin tadını alamıyor. Bu olayın nedeni ne olabilir?

A)Kadir'in yediği yemeğin tadı yoktur.  
B)Dil bazı besinlerin tadını almaz.  
C)Koku ile tat alma birlikte çalışırlar

23)Aşağıdakilerden hangisinin hareketi yanlıştır?

A) Virajdan dönen araba → Dönme  
B) Yukarı atılan top → Yavaşlama  
C) Direkten dönen top → Yön değiştirme

24) Aşağıdakilerden hangisi hızlanan bir harekettir?

A) Yukarı atılan top B) Ağaçtan düşen elma  
C) Kaleye giden top

BAŞARILAR