

1. Bu testte 10 soru vardır.
2. Cevaplarınızı, cevap kâğıdına işaretleyiniz.

1.



$$A = 2^4 \cdot 3^{x+4} \cdot 5 \quad B = 3^5 \cdot 5^{y+3} \cdot 7^4 \quad C = 2^5 \cdot 3^2 \cdot 5^5 \cdot 7^{z+1}$$

Yukarıda verilen buğday, arpa ve pirinç çuvallarının ağırlıkları sırasıyla A, B ve C kilogramdır. Bu çuvallardaki ürünler birbirine karışmayacak şekilde eşit ağırlıktaki paketlere doldurulacaktır.

**x, y ve z'nin pozitif tam sayı olduğu bilindiğine göre bir paketin ağırlığı en fazla kaç kilogram olur?**

- A) 15      B) 24      C) 30      D) 45

2. Ali ve Ayşe'nin oynadıkları oyun ilgili aşağıda bazı bilgiler verilmiştir.

- Ali, aklından bir sayı tutacak ve Ayşe'ye söyleyecek
- Ayşe ise Ali'nin söylediği sayıya başka bir sayı ekleyerek 2,3 ve 5 ile kalansız olarak bölünebilen bir sayı elde edecek

**Ali'nin aklından tuttuğu ve Ayşe'ye söylediği sayı 114 olduğuna göre Ayşe'nin bu sayıya eklediği sayı aşağıdakilerden hangisidir?**


- A) 3      B) 4      C) 5      D) 6

3. 10 katlı bir binada asansör sadece aralarında asal sayılar arasında çalışmaktadır. Örneğin; 6. kattan asansöre binen bir kişi 1, 5 ve 7. katlara gidebilmektedir.

**Buna göre aşağıda verilen katlardan hangisinden asansöre binen bir kişi en fazla kata gidebilir?**

- A) 2      B) 5      C) 7      D) 9

4.



"Adeta" bir atın yavaş halde yürüyüş çeşididir. Bu yürüyüş şeklinde ayakların hareketi dört zamanlı ve çapraz sıra şeklindedir. Yürüme başlangıcı olarak at önce bir arka ayağını kaldırır ve diğer üç ayağını yere basar sırası ile arka sol, ön sol, arka sağ, ön sağ şeklinde tekrar eder.

**Buna göre, arka sol ayağını kaldırarak yürüyüşe başlayan at 90. Adımında hangi ayağını kaldırır?**

- A) arka sol      B) ön sol      C) arka sağ      D) ön sağ

5. Oyun oynamaya karar veren Mustafa ile Deniz'in elinde bir vardır ve zarı sırayla iki kez atacaklardır. Gelen sayılarla ilgili aşağıdaki yönergeleri takip ederek bazı işlemler yapacaklardır.

- Birinci zardan gelen sayı: x
- İkinci zardan gelen sayı: y

$$\text{İŞLEM: } x^2 : (-y)^{-1}$$

**Mustafa ve Deniz zarları attığında Mustafa'nın 2 ve 4, Deniz'in ise 3 ve 1 sayıları geldiğine göre Mustafa ve Deniz'in yapacakları işlemin sonucu kaçtır?**

	MUSTAFA	DENİZ
A)	1/16	9
B)	-16	-9
C)	16	-9
D)	-16	9


6. Bir markaya ait dört farklı model arabanın şehirler arası yolda 100 km 'de harcadıkları yakıt miktarı aşağıdaki tabloda verilmiştir.

ARAÇ	YAKIT TÜKETİMİ (l/100 km)
K	0,46.10
L	5,4
M	370.10 <sup>-2</sup>
N	32.10 <sup>-1</sup>

Eda Hanım, şehirler arası yolculuğunda 200 km' de 7 litreden az yakıt kullandığına göre yukarıda verilen araçlardan hangisini kullanmış olabilir?

- A) K B) L C) M D) N

7.



Eş karelerden oluşan yukarıdaki şekil, karelerin yerleri değiştirilmeden alanı tam kare olan bir dikdörtgene tamamlanmak isteniyor.

Buna göre en az kaç tane kareye ihtiyaç vardır?

- A) 9 B) 12 C) 15 D) 18

9.

8. Kenar uzunlukları  $\sqrt{162}$  metre ,  $\sqrt{72}$  metre olan dikdörtgen şeklindeki bir tarlanın köşelerine ve çevresine  $\sqrt{2}$  metre aralıklarla ceviz ağacı

dikilmiştir. Dikilen her fidana haftalık  $\sqrt{3}$  litre su gerekmektedir.

Buna göre bu bahçedeki bütün ceviz ağaçlarını sulamak için aylık kaç litre su gerekir?

- A)  $30\sqrt{3}$  B)  $60\sqrt{3}$  C)  $90\sqrt{3}$  D)  $120\sqrt{3}$

Uzun atlama, 45 metrelik mesafede koşarak hızlanma ve belirlenen sahayı geçmeden kum havuzuna atlama şeklinde yapılır. Kum havuzunun uzunluğu 10 metreden oluşmaktadır. Bir uzun atlama yarışında sporcular tabloda verilen uzunluklarda kum üzerine atlayışlarını gerçekleştiriyor.

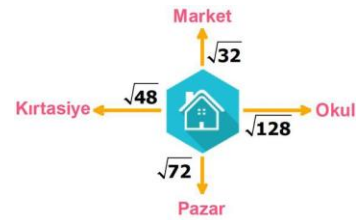
SPORCULAR	ATLADIKLARI MESAFE
Ahmet	$\sqrt{30}$
Mehmet	$\sqrt{23}$
Sait	$\sqrt{40}$
Enes	$\sqrt{20}$
Berat	$\sqrt{35}$

- 6 metreden fazla atlayan sporcu 1.
- 6 metreye en yakın atlayan sporcu 2.
- 5 ile 6 metre arasında atlayan sporcu 3. olmuştur.

Yarışmada 1. altın, 2. gümüş, 3. bronz madalya aldığına göre altın ve bronz madalya alan sporcular sırasıyla kimlerdir?

- A) Sait ve Ahmet B) Sait ve Berat  
C) Mehmet ve Enes D) Berat ve Ahmet

10. Özgür Bey'in evinden bazı yerlere olan uzaklıkları görselde verilmiştir.



Özgür Bey gün içinde evden birinci kez çıktığında  $4\sqrt{2}$  m, ikinci kez  $4\sqrt{3}$  m, üçüncü kez  $8\sqrt{2}$  m

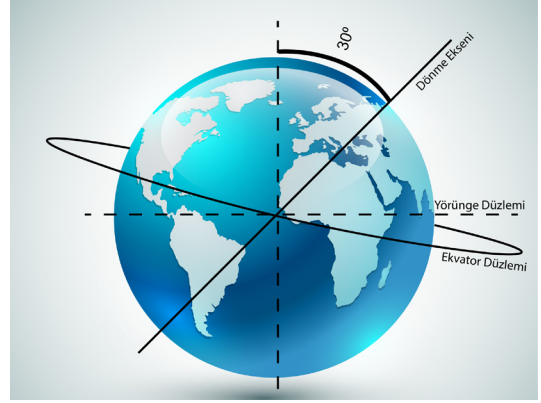
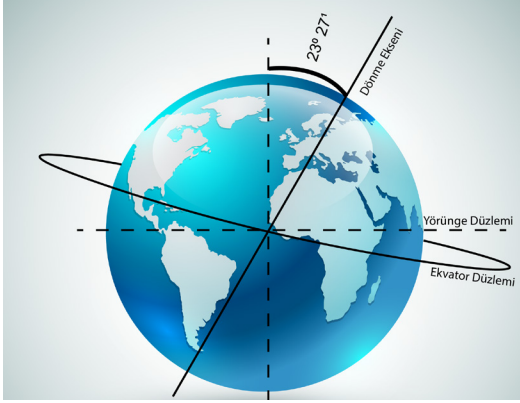
ve dördüncü kez  $6\sqrt{2}$  m yol yürümüştür.

Buna göre Özgür Bey'in gün içerisinde gittiği yerler sırasıyla aşağıdakilerden hangisidir?

- A) Okul - Market - Kırtasiye - Pazar  
B) Okul - Market - Pazar - Kırtasiye  
C) Market - Kırtasiye - Okul - Pazar  
D) Market - Kırtasiye - Pazar - Okul

1. Bu testte 9 soru vardır.
2. Cevaplarınızı, cevap kâğıdına işaretleyiniz.

1. Dünya'nın dönme eksenindeki 23 derece 27 dakikalık eğiklik Güneş'ten gelen ışınların aynı zamanlarda farklı bölgelere farklı açılarda düşmesine sebep olur. Güneş ışınlarının dik açıya yakın bir açıyla düştüğü bölgelerde sıcaklık değeri yüksek olur. Güneş ışınları aynı bölgeye eğik açı ile düşerse sıcaklık değeri daha az olur.



Yukarıda verilen bilgilere göre Dünya'nın dönme ekseninin eğikliği 23 derece 27 dakika yerine 30 derece eğik olsaydı;

- I. Güneş ışınlarının dik düştüğü bölge genişledi.
- II. Mevsimler oluşmazdı.
- III. Gece gündüz süresi eşit olurdu.

durumlarından hangileriyle karşılaştık?

- A) Yalnız I                      B) Yalnız II                      C) Yalnız III                      D) I ve II

2. 

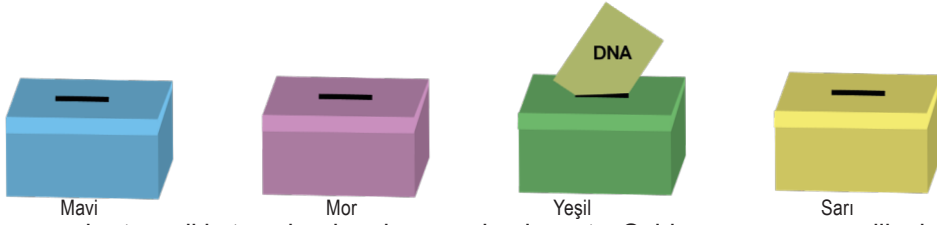
Aslıhan Öğretmen DNA'nın yapısı ile ilgili öğrencilerine bilgi verdikten sonra öğrencilerinden DNA modeli yapmalarını istiyor. Elif iplik ve farklı renklerde pipetler olarak aldığı malzemeleri uygun şekillerde kesip bir araya getiriyor. Bu şekilde yanda verilen DNA modelini oluşturuyor. Yağmur ise farklı renklerde kartonlar olarak uygun şekilde kestiği kartonları bir araya getiriyor. Böylece yandaki DNA modelini oluşturuyor.

Öğrenciler hazırladıkları DNA modellerini sınıfa getirerek Aslıhan Öğretmen'e gösteriyor.

Verilenlere göre öğrencilerin oluşturduğu DNA modelleriyle ilgili aşağıdakilerden hangisi **yanlıştır**?

- A) Elif hazırlamış olduğu modelde toplam 14 tane organik baz kullanmıştır.
- B) Elif ve Yağmur'un modellerinde toplam 28 tane deoksiriboz şekeri bulunur.
- C) Yağmur hazırladığı modelde farklı renklerdeki kartonlarla DNA'nın temel yapı birimlerini göstermiştir.
- D) Kahverengi ile oluşturulan karton adenin organik bazı ise mavi ile oluşturulan karton timin organik bazıdır.

3. Esra, DNA ve genetik kod ünitesini daha iyi öğrenmek için oyun kartları hazırlamıştır. Kromozom, gen, nükleotid ve DNA yazan kartlarını aşağıdaki kutulara belli kurala göre yerleştirmiştir.



Esra DNA yazan kartı yeşil kutuya bırakarak oyuna başlamıştır. Soldan saymayı öncelik alarak kartları moleküllerin büyüklük küçüklük durumuna göre yerleştirmiştir.

**Öğrenci molekülleri büyükten küçüğe aşağıdakilerden hangisi gibi yerleştirmelidir?**

- A) Nükleotid – Kromozom – DNA – Gen  
 B) Nükleotid – Gen – DNA – Kromozom  
 C) Kromozom – Nükleotid – DNA – Gen  
 D) Kromozom – Gen – DNA – Nükleotid
4. Aşağıda kalıtım ile ilgili bazı öğrencilerin vermiş oldukları bilgiler yer almaktadır.



**Öğrencilerin vermiş olduğu bilgiler ile ilgili;**

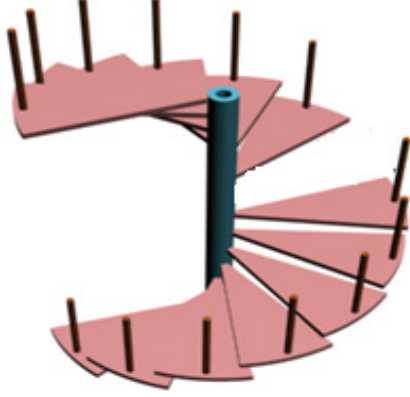
- I. Selma'nın söylediği cümle fenotipe örnektir.  
 II. Mehmet D yerine d kullanmalıdır.  
 III. Esra'nın söylediği cümle genotipe örnektir.

**yorumlarından hangileri doğrudur?**

- A) Yalnız I                      B) Yalnız II                      C) I ve III                      D) II ve III



5. DNA hücrenin çekirdeği içerisinde çift zincirli ve sarmal yapıya sahip olan yönetici moleküldür. DNA'nın üzerinde kalıtsal bilgileri taşıyan görev birimleri olan genler bulunur. Genler de nükleotidlerin bir araya gelmesiyle oluşur.



Yandaki resmi sınıftaki öğrencilerine gösteren Metin Öğretmen "Resimdeki merdiveni DNA zincirine benzetecek olursak, bir basamağın eksikliği için ne yorum yapılabilir?" diye soru yöneltiyor

**Buna göre;**

- I. Bu DNA zincirinde bir nükleotid eksiktir.
- II. Bir basamağın eksik olması demek bir fosfatın eksik olması demektir.
- III. Bu DNA zincirinde tüm genler hatalıdır.

**öğrencilerin yapmış olduğu yorumlardan hangileri doğrudur?**

- A) Yalnız I                      B) I ve II                      C) I ve III                      D) II ve III
6. Aşağıda DNA'nın kendini eşleme olayı numaralarla gösterilmiştir.
- I. DNA'nın çift zincirli yapısı ortadan ikiye ayrılır.
  - II. Ayrılan zincirlerin karşısına serbest nükleotidler uygun olacak şekilde yerleşir.
  - III. Sitoplazmada bulunan serbest nükleotidler çekirdeğe girer.
  - IV. Eşleme tamamlandıktan sonra kalıtsal özellikleri aynı olan iki DNA meydana gelir.

**Verilenlere göre hangi numaralı açıklamalar yer değiştirilirse sıralama doğru olur?**

- A) I ve II
- B) II ve III
- C) III ve IV
- D) I ve IV
7. Aşağıdaki numaralandırılmış ifadelerin, yanda harflerle gösterilmiş kavramlarla eşleştirilmesi isteniyor.

- I. Yeryüzünün bir kısmında uzun yıllar görülen hava olaylarının ortalamasıdır.
- II. Günden güne ya da bölgeden bölgeye farklılık gösterir.
- III. İnceleyen bilim dalına klimatoloji denir.
- IV. Geniş bir bölgeyi inceler.

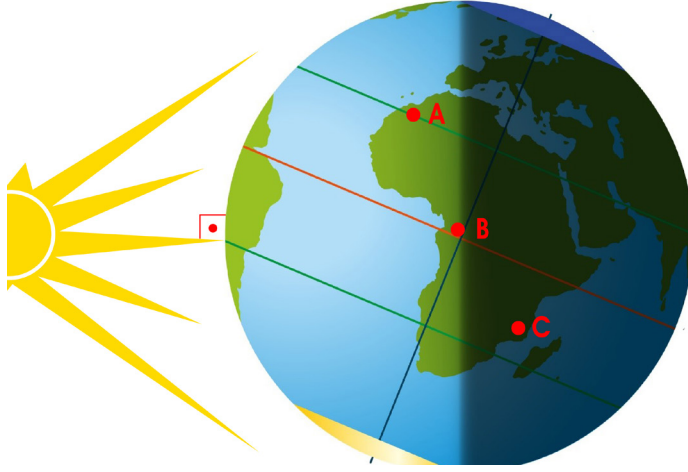
**K - İklim**

**L - Hava olayları**

**Buna göre aşağıdaki eşleşmelerden hangisi yanlıştır?**

- A) I - K                      B) II - L                      C) III - K                      D) IV - L

8. Hem Dünya'nın eksen eğikliği hem de Dünya'nın Güneş etrafında dolanması sonucunda Güneş ışınlarının geliş açısı yıl boyunca değişir. Bunun sonucunda yıllık sıcaklık farklılıkları ve mevsimler oluşur.



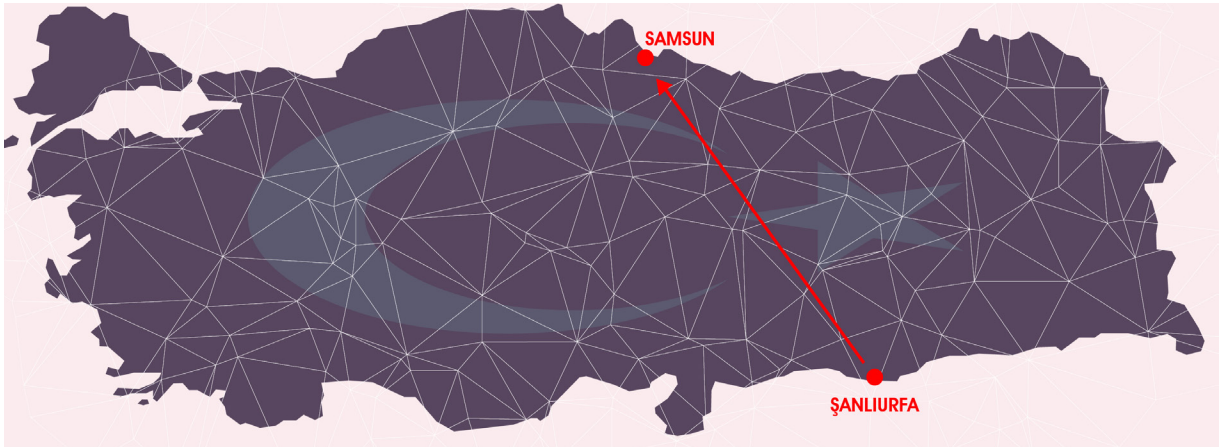
**Bu bilgiye göre Dünya şekildeki konumda iken;**

- I.** Bu tarihten itibaren A şehrinde geceler kısalmaya gündüzler ise uzamaya başlayacaktır.  
**II.** Yıllık sıcaklık farkının en fazla olduğu şehir B şehridir.  
**III.** Öğle vakti aynı boyağı çubukların gölge boyları ölçüldüğünde, C şehrindeki gölge boyunun A şehrindekenden daha uzun olduğu gözlenir.

**ifadelerinden hangileri doğrudur?**

- A) Yalnız I                      B) Yalnız III                      C) I ve III                      D) II ve III

9.



Ali ve ailesi yaz tatilinde Şanlıurfa'dan Samsun'a gideceklerdir. Ali'nin annesi bavul hazırlarken Ali bavula kazak, hırka vb. kıyafetleri de koymasını söylemiştir. Bunun sebebini soran anneye Ali'nin cevabı " Karadeniz bölgesi her mevsim yağış alan bir bölgedir ." şeklinde olmuştur.

**Ali bu açıklamayı yaparken hangi bilim dalına ait bilgilerden faydalanmıştır?**

- A) Meteorolog                      B) Meteoroloji  
 C) Klimatoloji                      D) Klimatolog

1. Bu testte 10 soru vardır.
2. Cevaplarınızı, cevap kâğıdına işaretleyiniz.

**1. Aşağıda bazı metin türleriyle ilgili bilgiler verilmiştir:**

**I. Anı(Hatıra):** Yaşanmış olayların, üzerinden zaman geçtikten sonra yazılan, bir kişinin yaşadığı veya tanık olduğu olayların anlatıldığı düz yazı türüdür.

**II. Deneme:** Bir yazarın herhangi bir konu üzerinde, özel görüş ve düşüncelerini iddiasız, kesin kurallara varmaksızın anlattığı yazılardır.

**III. Hikaye(Öykü):** Olmuş veya olabilecek olayları belli bir plan çerçevesi içinde yer ve zamana bağlı olarak anlatan kısa soluklu yazı türüdür.

**IV. Sohbet(Söyleşi):** Yazarın, gündelik olaylarla ilgili düşüncelerini, okuyucu ile karşı karşıya oturup konuşuyormuş gibi içten bir hava içinde yazdığı yazılardır.

**Verilenlere göre hangisi bahsedilen metin türlerinden birinin örneği olamaz?**

- A) Doğa henüz bizim bilmediğimiz bir dille içinde yaşayan tüm canlıların sevinçlerini, hüznlerini, acılarını, yalnızlıklarını, sırlarını paylaşır. Yaşamın anları içinde gizli hazlardır bunlar. Yakalayabilmek için doğanın içinde, ondan bir parça olabilmelidir insan.
  - B) Sanırım yedi yaşındaydım. Çocukluğumun en güzel günleri diyebilirim, tabii bazı tatsız olayları saymazsak... Güneşin tepemizde tüm sıkıcılığını ve sabitliğini hissettiğimiz bir yaz günü. Üstümüzde duran yakıcı güneşe aldırmadan tırmanıyoruz tepeye.
  - C) Kadın narin elleriyle narı ikiye bölmüş ve narın içinden ne çıkmış dersiniz? O bereketli meyvenin kalbinde yatan; yanakları al, dudakları bal, gözleri iki küçük güneş parçası gibi ışıldayan küçük bir bebekmiş. Bir kız çocuğuymuş bu.
  - D) Güzel olmak... "Ya insan kendini güzel hissetmiyorsa?" demeyiniz çünkü her insan; kendinde mutlaka güzel bir taraf, hayranlık uyandıracak bir özellik bulur. Bunun içindir ki insanlar süslenirler, bezenirler ve bu şekilde güzelliklerine güzellik katmaya çalışırlar. "Ben çok çirkinim ve bu nedenle kendimi sevmiyorum." deyip de boynunu büken kaç kişi tanırıyorsunuz? Kırk yıllık hayatımda ben hiç böyle diyen birine rastlamadım.
- 2. Aşağıdaki görselde Mevlana'nın yedi öğüdü bulunmaktadır.**

**Mevlana'nın Yedi Öğüdü**

- 1- Cömertlikte akarsu gibi ol.
- 2- Şefkat ve merhamette güneş gibi ol.
- 3- Kusur örtmede gece gibi ol.
- 4- Hiddet ve asabiyette ölü gibi ol.
- 5- Tevazu ve alçakgönüllülükte toprak gibi ol.
- 6- Hoşgörülülükte deniz gibi ol.
- 7- Ya olduğun gibi görün ya da görüldüğün gibi ol.



**Bu yedi öğüdü yaşantısına uyarlamaya çalışan bir kişinin hangi davranışı sergilemesi beklenemez?**

- A) Kendini övme yoluna gitmeden mütevazı davranması.
- B) İnsanların hatalı davranışlarını görmezden gelmesi.
- C) İhtiyaç sahibi insanlara karşı eli açık olması.
- D) Başkaları gibi olmaya çalışması.

3. Bazı fiilimsi ekleri, eklendiği sözcüklerle kalıplaşarak kalıcı isim oluştururlar. Bu sözcükler artık fiilimsi olma özelliğini kaybeder.

**Verilen bu bilgiye göre aşağıdaki cümlelerin hangisinde kalıcı isim farklı bir fiilimsi ekinin kalıplaşmasıyla oluşmuştur?**

- A) Aradığı yeri bulamayınca en yakın danışmaya sordu.  
 B) Her zaman buradan dolmuşa binip evine giderdi.  
 C) Yiyecekleri doğru muhafaza etmezsek bozulabilir.  
 D) Bu kitabın yazarı beni derinden etkileyen bir-yana sahip.
4. “Fatma Teyze'nin hayat arkadaşından kalan tek hatıra bu pembe panjurlu evdi.”

**Yukarıdaki cümlede geçen “hayat arkadaşı” söz öbeği hangi seçenekte bu cümledeki anlamı ile kullanılmıştır?**

- A) Yıllar geçtikçe hatıralar bir bir gözümde canlanıyor.  
 B) Senin bana söylediklerin hiçbir zaman aklımdan çıkmıyor.  
 C) Bu sene eşimle birlikte çok farklı planlarımız vardı.  
 D) Arkadaşlar arasında böyle sıkıntılı dönemler olmuştur.

5. Öz eleştiri; bir kişinin kendi davranışları üzerine yönelttiği yargı, otokritik olarak tanımlanmaktadır.

**Bu tanıma göre aşağıdaki cümlelerin hangisi bir öz eleştiri cümlesi sayılamaz ?**

- A) Daha temiz bir dünya için çabalamağım için ben de suçluyum.  
 B) Bilinçli ailelerin sayısı az olduğu için birçok çocuk yazık ki heba oluyor.  
 C) İnsanları bu konuda bilinçlendirme adına daha çok makale yazabilirdim.  
 D) Kitap okumayarak çocuklara kötü örnek olduğumun farkındayım.

6. Yazları bu küçük mahalle kahvesinin bahçesine sık sık gittiğim için; karayelin, tipinin çılğınca savrulduğu ve uğuldadığı akşam içeriye girdiğim zaman yadırganmadım. Kahve sapa bir yerdeydi. Yapraklarını dökmüş iki söğüt ağacı ile üzerinde hala üç dört kuru yaprak sallanan bir asmaya kar öyle işlemişti ki bahar akşamları, yaz geceleri pek sevimli olan bahçenin mora kaçan renginin güzelliğine öylece bakakaldım. Camın kenarına yerleşip de buğuları silince uzun zaman daldım. Bu mor ışık o kadar çabuk koyulaştı ki kahvenin ışıkları henüz yanmamıştı.

**Yukarıda verilen metinle ilgili hangisi söyle-nemez ?**

- A) Birden çok duyu harekete geçirilmektedir.  
 B) Öyküleyici anlatım biçimine yer verilmiştir.  
 C) Anlatım üçüncü kişi ağzı ile yapılmıştır.  
 D) Betimlemelerden faydalanılmıştır.

7. “Dünya on binlerce çiçekli bir kültür bahçesidir; her çiçeğin ayrı bir rengi ve kokusu vardır. Bir çiçeğin koparılması; bir rengin, bir kokunun yok olmasıdır. Tek dile, tek renge kalmış bir dünya hâpı yutmuştur.”

(Yaşar Kemal)

“Elmas ile kömür aynı karbon sayısına sahip ancak moleküler yapıları sebebiyle biri elmas diğeri kömür. Kömüre bu yüzden kara elmas denir. İnsan düşünelim; herkes topraktan yaratıldı. Ancak ahlak, merhamet, vicdan gibi kimyasal bağlar onun asıl ismini belirler.”

(Prof. Dr. Aziz Sançar)

**Verilenlere göre hangisi bu iki alıntının ortak özelliğidir?**

- A) Tanımlamaya başvurulmuştur.  
 B) Tanık gösterme yapılmıştır.  
 C) Karşılaştırma yapılmıştır.  
 D) Benzetme yapılmıştır.

8.



Turşunun hası nasıl yapılır? Limonla mı, yoksa sirkeyle mi? Bu soru insanın aklına hemen, Türk sinemasının klasikleri arasında yer alan Adile Naşit ve Münir Özkul'un başrollerini paylaştığı “Neşeli Günler” filmi getiriyor. Bu doyumsuz filmdeki aile kavgasının sebebi turşunun yapılış şekliyle ilgiliydi. Adile Naşit: “Turşu suyunun hası sirkeyle olur.” diye diretir. Münir Özkul: “Limonlu bir şeye benzemez.” diye karşı çıkar. Peki kim haklı dersiniz? Sirke diyen Adile Naşit mi, limon diyen Münir Özkul mu? Bana sorarsanız ne Adile Naşit çok haklı ne de Münir Özkul çok haksız. Sirkeli de limonlu da benimsemiş tatlar. Kim bilir belki birini sevmesek diğeri berikini unutturur, bu iki lezzet efsane bir film doğurmazdı.

**Verilen metnin anlatım biçimi aşağıdakilerden hangisine örnektir?**

- A) Tartışma                      B) Açıklama                      C) Betimleme                      D) Öyküleme

9. Aşağıda “Grip Aşısı”na yönelik B1 ve B2 bilgileri yer almaktadır.

**B1.** Dünya Sağlık Örgütü, virüsün değişikliklerini yakından takip edip aşı içeriği için yıllık önerilerde bulunur. Her yıl aşı içeriği Dünya Sağlık Örgütü'nün tavsiyeleri dikkate alınarak hazırlanır. Son yıllarda kullanılan aşılar influenza A'nın iki alt tipi ve influenza B'nin de bir alt tipi yer almaktadır. Hazırlanan aşı ile dolaşımda saptanan virüslerle antijenik benzerlik varsa aşı %50-80 korunma sağlayabilir. Sağlıklı erişkinlerde aşı ile sağlanan koruyucu antikor düzeyi influenza A için %80'in üzerinde bildirilmiştir. Yaşlılarda koruyuculuk daha düşük olmakla birlikte komplikasyonları ve ölümleri azalttığı bilimsel yayınlarla gösterilmiştir.

**B2.** Aşı, yapıldığı grip sezonu için etkili olmaktadır. Bu nedenle; eskiden geçirilmiş grip hastalığı ya da uygulanmış grip aşısına bakılmaksızın mevsimsel gribe karşı etkin bir korunma sağlanması için her yıl grip aşısı yaptırılmalıdır. Aşının koruyucu etkisi, aşı yapıldıktan iki hafta sonra başlayacağı için aşının en uygun zamanı, gribin sık görülmeye başladığı dönemden hemen öncesidir. Ekim ve Kasım ayları grip aşısının yapılma zamanı olarak tercih edilmelidir. Aşılanmayan kişiler ise Mart ayının sonuna kadar aşılanabilir. Aşının koruyuculuğu yaklaşık 6-8 ay sürer.

**Verilen bu bilgilere göre aşağıdakilerden hangisi yanlıştır?**

- A) B1'de sayısal verilerden yararlanılmıştır.  
 B) Aşılar Dünya Sağlık Örgütü tarafından üretilmektedir.  
 C) Aşıların grip virüslerine karşı koruyuculuğu bir yıldan azdır.  
 D) Aşının ne zaman yaptırılmasına dair bilgiler B2'de yer almaktadır.



10. Aşağıda verilen afişi okuyan bir veli 50 kg. ağırlığındaki çocuğuna sırt çantası kullanımı hakkında tavsiyelerde bulunacaktır.



Buna göre öğrenci velisi;

- I. Çanta ağırlığının en fazla 7,5 kilo olmalıdır.
- II. Sırtının ağrıması için ağır eşyaları sırtından uzak koymalısın.
- III. Çantanın alt kısmı kemer boyuna gelmeli.
- IV. Omuzlarını dinlendirmek için çantayı sırayla omuzlarında taşımalısın.
- V. Popüler ve renkli çantalardan alabilirsin.
- VI. Omurga yapının korunması için ortopedik özellikte çanta tercih etmelisin.

hangi ifadeleri bir arada kullanırsa çocuğuna tamamen yanlış bilgi vermiş olur?

- A) I-II-III.                      B) II-IV-V.                      C) I-V-VI.                      D) II-III-IV.





## T.C. İNKILAP TARİHİ VE ATATÜRKÇÜLÜK

Test 1

1. Bu testte 9 soru vardır.
2. Cevaplarınızı, cevap kâğıdına işaretleyiniz.

1. Mustafa Kemal üstün nitelikleri sayesinde Türk milletinin tarihsel seyrini değiştiren büyük zaferlerle O'nu uçurumun kenarından kurtaran,dünya tarihinde her türlü imkansızlığa rağmen inandığı fikri uygulamaya koyarak "Ya İstiklal Ya Ölüm" parolasıyla büyük bir mücadeleyi kazanmış bir liderdir. Arkasında yepyeni nitelikte çağdaş bir devlet kurmuş insan çok azdır."Çağdaş Türkiye'nin Kurucusu"sıfatını da işte bu özelliğinden almıştır.

**Bu bilgilerden hareketle Mustafa Kemal'in;**

- I-Askeri dehası,
- II-Açık sözlülüğü,
- III-Azim ve kararlılığı,

**özelliklerinden hangileri dünya siyasetinde tanınmasını sağlamıştır?**

- A) Yalnız I
- B) I- II
- C) I-III
- D) II ve III

2. The Post gazetesi muhabiri George Arthur : "Sakarya Meydan Muharebesi ile üzerine ölü toprağı serpilmiş bir milletle destan yazdınız bu başarıyı neye borçlusunuz acaba?"

Mustafa Kemal Paşa: "Mr Arthur gerçekçi bakışınız için teşekkürler, bu başarıyı sadece bize mal edemezsiniz bu başarı kadını- erkeği, yaşlısı - genci özgürlüğe susamış bir halkın alın teridir. Günlerdir aç, susuz cephede kanlarının son damlasına kadar hür bir vatan için çarpışan silah arkadaşlarımızın eseridir. Saygılarımla..."

**Yukarıdaki diyalogta Mustafa Kemal'in hangi kişilik özelliğine değinilmiştir?**

- A) Çok yönlülük
- B) Alçak gönüllülük
- C) İdealistlik
- D) İlerigörürlük

3. Avrupa ülkelerini I.Dünya Savaşı'nda karşı karşıya getiren gelişmelerden birisi Sanayi İnkılabı'nın ortaya çıkardığı ham madde ve pazar arayışı ve sömürgecilik yarışıdır. Sömürge rekabeti içinde olan devletler aynı zamanda bir silahlanma yarışı içine de girdiler. Savaşa yol açan bir diğer önemli gelişme ise Fransız İhtilali'nin yaydığı Milliyetçilik akımıdır. Milliyetçilik akımı Osmanlı ve Avusturya-Macaristan İmparatorluğu gibi çok uluslu devletlerin topraklarında azınlık isyanlarının yaşanmasına sebep oldu.

**Verilen bilgiye göre I. Dünya Savaşı'nın ortaya çıkmasında aşağıdaki alanlardan hangisi etkili olmamıştır?**

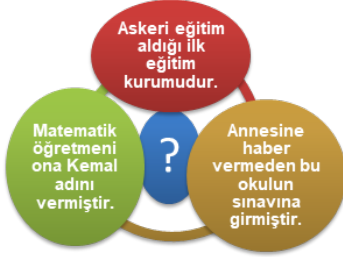
- A) Siyasi
- B) Kültürel
- C) Askeri
- D) Ekonomik

4. Osmanlı Devleti Trablusgarp ve Balkan Savaşlarından yeni çıkmıştı. Ordusu zayıftı. Bir yandan askeri alanda güçlenmeye çalışırken diğer yandan da siyasi yalnızlıktan kurtulmak için girişimlerde bulunmaya başladı. Osmanlı Devleti Almanya'ya güvenmediği için İtilaf Devletleri'ne yakınlaşmaya çalışmış ancak İtilaf Devletleri Osmanlı Devleti'ni yanlarına almak istememiştir. Bunun üzerine Osmanlı Devleti tarafsızlığını ilan etmiştir. Osmanlı Devleti'nin tarafsızlığı başta Rusya olmak üzere İtilaf Devletleri tarafından desteklendi.

**Buna göre, İtilaf Devletleri'nin Osmanlı Devletinin tarafsızlığını destekleme sebebi aşağıdakilerden hangisidir?**

- A) Osmanlı Devleti'nin güçlenmesinden çekinmeleri
- B) Osmanlı Devleti'nin I.Dünya Savaşı'na girmesini istememeleri
- C) Osmanlı Devleti'nin Almanya'nın yanında savaşa katılmasını istememeleri
- D) Osmanlı Devleti'nin topraklarını gizli antlaşmalarla kendi aralarında paylaşmış olmaları.

5.



**Diyagramda soru işareti ile gösterilen yere Mustafa Kemal'in eğitim gördüğü okullardan hangisi yazılmalıdır?**

- A) Askeri Rüştiye                      B) Askeri İdadi  
C) Harp Okulu                            D) Harp Akademisi

6. Mustafa Kemal, Manastır Askeri İdadisi'nde okurken Tarih öğretmeni Yüzbaşı Tevfik Bey'in tarihe bakış açısından etkilendi. Namık Kemal ve Mehmet Emin Yurdakul'un eserleri ve şiirleriyle tanıştı. Fransızca eğitimini de bu okulda geliştirdi. Fransız aydınlarından J.J.Rousseau ve Voltaire'nin eserlerini yine bu okulda okudu.

**Bu parçaya göre, Mustafa Kemal ile ilgili olarak;**

- I)** Özgürlük ve demokrasi ile ilgili fikirleri gelişti  
**II)** Milliyetçilik ve tarih bilinci güçlendi  
**III)** Yabancı dil olarak sadece Fransızca öğrendi

**yargılarından hangilerine ulaşılabilir?**

- A) Yalnız I                                      B) Yalnız III  
C) I ve II                                        D) II ve III

7. İngiltere'de ortaya çıkan Sanayi Devrimi kısa sürede Avrupa'da yayılmaya başladı. 19.yüzyılın ilk yarısından itibaren Avrupa'da buhar gücünden yararlanılmaya başlanmış, buharla çalışan makineler çoğalmış, fabrika sayısı hızla artmış ve sanayideki gelişmeler hız kazanmıştır. Osmanlı Devleti ise bu gelişmelerin gerisinde kalmıştır.

**Aşağıdakilerden hangisi bu durumun Osmanlı Devleti üzerindeki olumsuz etkilerinden birisi değildir?**

- A) İşsizliğin artması  
B) Ham madde ihracatının artması  
C) Dış ticaret dengesinin bozulması  
D) Küçük sanayi atölyelerinin giderek önem kazanması

8.

I.Dünya Savaşı öncesinde Osmanlı Devleti Fransız İhtilali'nin yaydığı Milliyetçilik akımı nedeniyle topraklarında azınlık isyanları başlamış, Kapitülasyonlar sebebiyle Avrupalı devletlerin açık pazarı haline gelmiş, dış borçlar ve Duyunu Umumiye(Genel Borçlar İdaresi) ile de ekonomisi dışa bağımlı hale gelmiştir. Osmanlı Devleti içinde bulunduğu bu durumdan kurtulabilmek için Tanzimat ve İslahat Fermanlarını yayınlamış, Meşrutiyeti ilan etmiş aynı zamanda Osmanlıcılık, İslamcılık, Türkçülük ve Batıcılık gibi fikir akımları ortaya çıkmıştır fakat bu çözüm önerileri de devleti içinde bulunduğu durumdan kurtaramamıştır.

**Bu bilgiye göre Osmanlı Devleti ile ilgili aşağıdaki çıkarımlardan hangisi elde edilemez?**

- A) Azınlık isyanları yaşanmaktadır.  
B) Büyük toprak kayıplarının yaşanmıştır.  
C) Osmanlı ekonomisi dışa bağımlı hale gelmiştir.  
D) İslahat hareketlerinin kötü gidişi durduramamıştır.

9.

Tarihçi Prof. Dr. Şerafettin Turan; Atatürk'ün Fransız Devrimi'nin düşünsel hazırlayıcıları arasında, üzerinde en çok durduğu ve kendi düşünce ağının oluşmasında en çok yararlandığı isimlerin başında J.J.Rousseau'nun geldiğini belirtmiştir. Ayrıca daha okul yıllarında J.J.Rousseau'yu okumuş, toplumda siyasal rejim olarak da Cumhuriyetçi olmasından etkilenmiştir. Bir de Mustafa Kemal J.J.Rousseau'nun tüm eserlerini incelediğini TBMM kürsüsünden " J.J.Rousseau'yu baştan sona okuyunuz!Ben okudum." diyerek açıklamıştır. (*Atatürk'ün Düşünce Yapısını Etkileyen Olaylar,Düşünürler,Kitaplar-Türk Tarih Kurumu*)

**Bu bilgilere göre Mustafa Kemal J.J.Rousseau'dan yönetsel açıdan;**

- I-Milliyetçilik  
II-Demokrasi  
III-Batıcılık

**fikirlerinin hangilerinden etkilenmiştir?**

- A) Yalnız I      B) Yalnız II      C) I-III      D) II-III

1. Bu testte 9 soru vardır.
2. Cevaplarınızı, cevap kâğıdına işaretleyiniz.

1. **Lisa:** Are you busy on Saturday night?  
**Karen:** No, not at all. Why?  
**Lisa:** I've two tickets for the concert. It's a local music band. Would you like to come with me?  
**Karen:** .....  
**Lisa:** Ok, then. I'll pick you up at 7 from your house.

Complete the dialogue with the correct option.

- A) I'd love to, but I can't accept your invitation.
- B) Yeah, that would be great. Where will we meet?
- C) That sounds fun, but I must study for English.
- D) Thanks for your nice invitation, but I must look after my little sister.

2. **Murat's Saturday Plans**

Skating at the park	at 9.30 a.m.
Going to the theatre	at 11.00 a.m.
Attending a rap concert with his sister	at 14.00 p.m.
Visiting his grandparents	at 17.00 p.m.
Going to the cinema with his friends	at 21.00 p.m.

Murat is going to .....

- A) see a play before he goes for skating activity
  - B) watch a movie after he sees his relatives.
  - C) join a music and sport event in the morning.
  - D) spend with his friends in the afternoon.
3. **Linda :** What do you think about Julia? Is she a generous person ?  
**Amy:** Well, not really. In my opinion she is a little ..... person.

Complete the dialogue with the correct option.

- A) honest
- B) loyal
- C) adventurous
- D) mean

4. **Deren:** What do you like doing at the weekends?  
**Jessy:** I love spending time with my friends. We go to the cinema, play volleyball and take yoga lessons.  
**Deren:** Really? .....?  
**Jessy:** Twice a week. It makes me relax.

Which of the followings completes the dialogue?

- A) How often do you take yoga lessons?
- B) Where do you take yoga lessons?
- C) Do you like making yoga?
- D) Who do you go with?

DÜZCE İL MİLLÎ EĞİTİM MÜDÜRLÜĞÜ

5.



- A- No, not at all. Why do they ask?
- B- I'm having a party at Lola Cafe.
- C- Oh. I'd love to. What time is it?
- D- Really? Sounds fun.
- E- Yes! Would you like to join us?
- F- It starts at 6.00 pm.
- G- See you.
- H- I will definately be there at that time.
- I- Are you doing anything on Saturday?

Which of the following is the correct order of a conversation ?

- A) A-B-C-D-E-F-G-H-I
- B) I-A-B-D-E-C-F-H-G
- C) I-H-G-F-E-D-C-B-A
- D) A-B-C-D-I-H-G-F-E

6. **Lucy:**Hi Katie, do you have any plan for this weekend ?  
**Katie:** No not at all. Why?  
**Lucy:** We are organizing a fancy dress party on Saturday. Would you like to join to us?  
**Katie:** That sounds awesome. ----?  
**Lucy:**It starts at 10 p.m  
**Katie:**Well, -----?  
**Lucy:**It is at Red Cafe. Do you know where is it ?  
**Katie:**Nope -----?  
**Lucy:**Of course I will text it to you.  
**Katie:**Okay, thank you so much. See you there.

Which question does Katie NOT ask Lucy ?

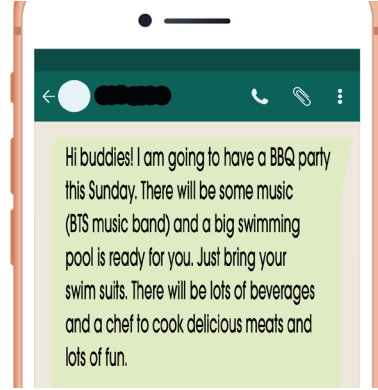
- A) Where is the party ?  
 B) Can you send me the address of Red Cafe please?  
 C) Will Sandra also come to the party ?  
 D) What time is the party ?



In this invitation, there is NO information about .....

- A) the name of the sender  
 B) the reply of the receiver  
 C) the grade of the students  
 D) the date of the tournament

8.

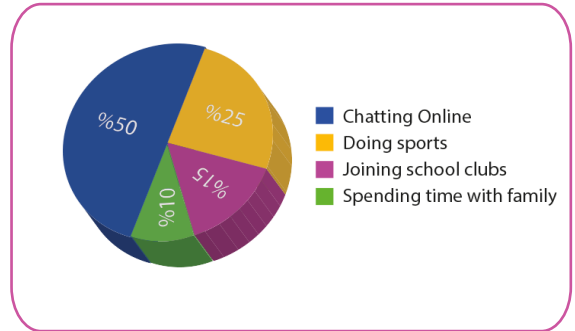


Mark invites his friend to a barbecue party. One of his friend refuses his invitation. Which option shows the reply ?

- A) I can't make it.  
 B) I can't miss it.  
 C) I can't refuse it.  
 D) I can't wait for the party, I love BBQ.

DÜZCE İL MİLLÎ EĞİTİM MÜDÜRLÜĞÜ

9.



Which of the following can be CORRECT according to the results?

- A) A lot of teenagers like spending time with their families.  
 B) All the teenagers prefer staying at home after school.  
 C) Spending time on the Internet is the most popular activity among teenagers.  
 D) Most of the teenagers enjoy outdoor activities.

## DİN KÜLTÜRÜ VE AHLAK BİLGİSİ

## Test 1

1. Bu testte 7 soru vardır.
2. Cevaplarınızı, cevap kâğıdına işaretleyiniz.

1. “Allah, geceyi gündüzün içine sokar, gündüzü de gecenin içine sokar. Güneşi ve Ay’ı da koyduğu kanunlara boyun eğdirmiştir. Her biri, belirlenmiş bir süreye kadar hareketlerini sürdürürler. İşte bu, Allah’tır, Rabbinizdir. Mülk yalnızca O’nundur. Allah’ı bırakıp da ibadet ettikleriniz, bir çekirdek zarına bile hükmedemezler. (Fâtır suresi, 13)

**Yukarıda verilen ayette işlenen ana fikir aşağıdakilerden hangisidir?**

- A) Allah’u Tea’la her şeyi bir ölçüye göre yaratmıştır.
- B) İnsan düşünen ve üreten bir varlıktır.
- C) İnsana düşünme yeteneği verilmiştir.
- D) Akıl ve İrade özelliği insana sorumluluk getirir.

2. **Aşağıdaki atasözleri ve deyimlerden hangisi insanın iradesi çerçevesinde, kader anlayışını yansıtır?**

- A) Vermeyince Ma’bud, neylesin Mahmut.
- B) Emek olmazsa yemek olmaz.
- C) Nasıl olsa eceli gelen ölür.
- D) Olacakla öleceğe çare bulunmaz.

3. Hz. Musa M.Ö yaklaşık 13 veya 15. Yüzyılda Mısır’da doğmuştur. Soyu Hz. İbrahim’e dayanır. İsrailoğullarına gönderilen peygamberlerden biridir. Kur’an ve hadislerde kendisinden en çok söz edilen peygamberdir. Kendisiyle birlikte kardeşi Hz. Harun da peygamber olarak gönderilmiştir. Firavun ile mücadele etmiş ve İsrailoğullarına Mısır’dan çıkarıp rehberlik etmiştir.

**Bu olay, Hz. Musa (a.s)’in aşağıdaki özelliklerinden hangisine örnek oluşturur?**

- A) Kur’an’da adı en çok geçen peygamberdir
- B) Hz. İbrahim ile aynı devirde yaşamıştır
- C) Kardeşi Hz. Harun da onunla birlikte peygamber olarak gönderilmiştir
- D) İsrailoğullarına peygamber olarak gönderilmiştir

#### 4. AYET EL-KÜRSİ ANLAMI

Rahman ve Rahîm olan Allah'ın adıyla.

Allah'tan başka hiçbir ilah yoktur. O daima diridir, bütün varlığın idaresini yürütendir. Onu ne uyuklama tutar ne de uyku. Göklerde ve yerde ne varsa hepsi onundur. İzni olmadan huzurunda şefaata edebilecek olan kimdir? O, kullarının önlerinde ve arkalarında ne varsa hepsini bilir. Onlar ise onun dilediği kadarından başka ilminden hiçbir şey kavrayamazlar. Onun sonsuz kudreti, gökleri ve yeri kaplar. Onları görüp gözetmek ona ağır gelmez. Gerçekten yüce ve büyük olan yalnızca odur.

**Yukarıdaki ayette Allah (c.c.)'ın sıfatlarından hangisinden bahsedilmemiştir?**

- A) El-Hayy                      B) El-Kayyum                      C) El-Azîm                      D) El-Şafii

5. “Bir kere de karar verip azmettin mi artık Allah'a (c.c.) tevekkül et(O'na dayanıp güven). Şüphesiz Allah(c.c.) tevekkül edenleri sever. (Al-i imran Suresi, 159. Ayet)

**Verilen ayetten hareketle aşağıdaki ifadelerden hangisi tevekkül anlayışına uygun değildir?**

- A) Yolculuğa çıkacak olan bir kişinin emniyet kemerini takıp, hız sınırını aşmaması.  
 B) Tarlasından ürün almak isteyen bir kişinin; tarlasına tohum ekip, gübre verip, tarlasını sulaması.  
 C) Ekmek parası kazanmak isteyen bir kişinin kalabalık bir yerde dilenebilmek için sabah erken uyanması.  
 D) Sınava girecek olan bir öğrencinin derslerine çalışıp düzenli tekrarlar yapması.

6. Berna Öğretmen anız yakılan çevrede toprak verimliliğinin düştüğünü ve toprakta yaşayan canlıların yok olduğunu söylemiştir. Bu nedenle ekosistem döngüsünün bozulmaya uğradığını belirtmiştir. Bunun üzerine İrem söz alarak konuyla ilgili bir ayet okumak istediğini söylemiştir.

**Buna göre İrem'in okuduğu ayet aşağıdakilerden hangisi olabilir ?**

- A) “Şüphesiz rızık veren, güç ve kuvvet sahibi olan ancak Allah'tır.”  
 (Zâriyât suresi, 58. ayet)  
 B) “Göğü Allah yükseltti ve mizanı (dengeyi) O koydu. Sakın dengeyi bozmayın.”  
 (Rahmân Suresi, 7-8. ayetler)  
 C) “Andolsun sizi yarattık. Sonra size şekil verdik. Sonra da meleklerle 'Âdem için secde edin' dedik.  
 (A'raf Suresi, 11. Ayet)  
 D) “O, geceyi, gündüzü, güneşi ve ayı yaratandır. Bunların her biri bir yörüngede yüzmektedirler.”  
 (Enbiyâ Suresi, 33. Ayet)

7. Kim doğru yolu bulmuşsa, ancak kendisi için bulmuştur, kim de sapıtırsa kendi aleyhinde sapıtmıştır. Hiçbir günahkâr, başka bir günahkârın günah yükünü yüklenmez. Biz bir peygamber göndermedikçe azap eder değiliz. (İsra Suresi 15. Ayet)

**Yukarıda verilen ayet seçeneklerdeki kavramların hangisiyle ilişkilidir?**

- A) İrade                      B) Tevekkül                      C) Ecel                      D) İlim



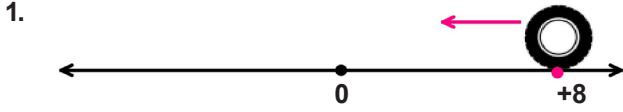
TEST 1 CEVAP ANAHTARI

<b>TÜRKÇE</b>	<b>FEN BİLİMLERİ</b>	<b>MATEMATİK</b>	<b>SOSYAL BİLGİLER</b>	<b>DİN KÜLTÜRÜ</b>
1. C 2. D 3. A 4. C 5. B 6. C 7. D 8. A 9. B 10. B	1. A 2. D 3. B 4. C 5. B 6. B 7. D 8. A 9. C	1. D 2. D 3. C 4. D 5. C 6. D 7. A 8. D 9. A 10. C	1. C 2. B 3. B 4. C 5. A 6. C 7. B 8. B 9. B	1. A 2. A 3. B 4. D 5. C 6. B 7. B
<b>İNGİLİZCE</b> 1. B 2. B 3. D 4. A 5. A 6. C 7. B 8. A 9. C				

## MATEMATİK

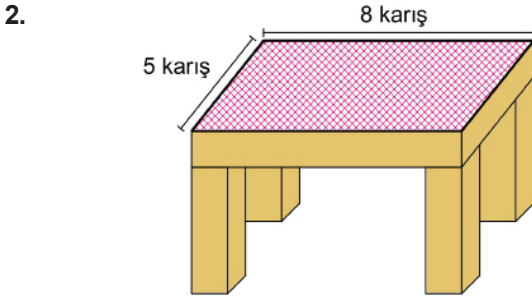
## Test 2

1. Bu testte 8 soru vardır.
2. Cevaplarınızı, cevap kâğıdına işaretleyiniz.



Sayı doğrusunda şekildeki gibi +8 noktasında duran,  $\sqrt{2}$  yarıçaplı bir tekerlek ok yönünde 6 tur atarsa sayı doğrusunda hangi noktalar arasına gelmiş olur? ( $\pi = 3$  alınız.)

- A) (-8), (-9)                      B) (-9), (-10)  
C) (-10), (-11)                    D) (-11), (-12)



Ayşegül Hanım dikdörtgen şeklindeki yemek masasına kenarlardan 40cm gelecek şekilde bir örtü almak istiyor. Cetvel olmadığı için ölçüyü karış ile ölçüyor. Karış uzunluğu  $12\sqrt{3}$  cm olan Ayşegül Hanım masanın enini 5 karış boyunu ise 8 karış olarak ölçüyor.

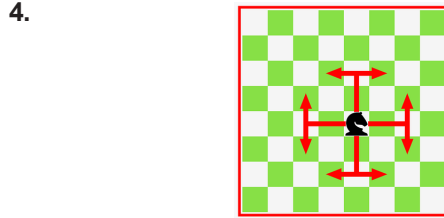
Buna göre Ayşegül Hanım masanın çevresini kaç cm olarak ölçmüştür?

- A) 270 - 272 cm                      B) 306 - 307 cm  
C) 311 - 312 cm                      D) 540 - 500 cm


3. Bir cirit yarışmasında Ali  $5\sqrt{11}$  metre, Ahmet  $7\sqrt{5}$  metre, Mustafa  $9\sqrt{3}$  ve Mehmet  $6\sqrt{7}$  metre uzağa cirit atmıştır.

Buna göre en uzağa cirit atan ikinci kişi kimdir?

- A) Ali                                      B) Ahmet  
C) Mustafa                                D) Mehmet



Yukarıda gösterildiği gibi Satrançta at taşı bir L harfi gibi bir yönde iki kare ve daha sonra  $90^\circ$  lik bir açıda bir kare daha giderler. At bulunduğu noktadan 8 farklı hamle yapabilir.



Yukarıdaki satranç tahtasında A1, B1, C1, ... , A2, B2, 2, ... , A8, B8, C8, ... karelerine sırasıyla 1, 2, 3,..... , 64 e kadar her kutuya bir sayı yazıp hepsini karekök içine alıyor.

Buna göre, C6 noktasında bulunan bir at yaptığı tek hamlede en fazla kaç tane rasyonel sayı yazan kareye gidebilir?

- A) 2                      B) 3                      C) 4                      D) 5

5.

$$\sqrt{0, ab}$$

ifadesinin rasyonel sayı olduğu bilindiğine göre a sayısı aşağıdakilerden hangisi olamaz?

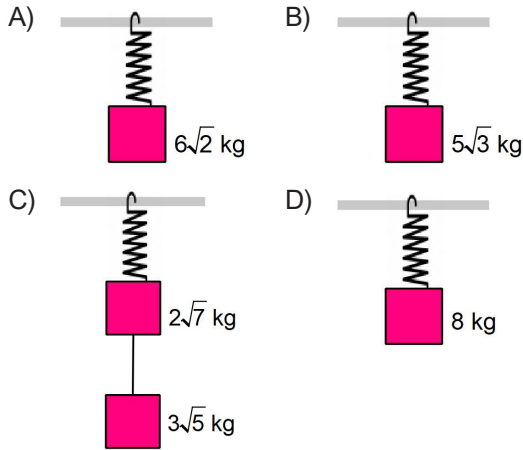
- A) 1                      B) 2                      C) 4                      D) 5

6. Yaylara uygulanan kuvvet artıkcaya yayların uzama miktarı da orantılı bir şekilde artar. Yayların uzamasına sebep olan kuvvet ise  $F = k \cdot x$  şeklinde ifade edilir.

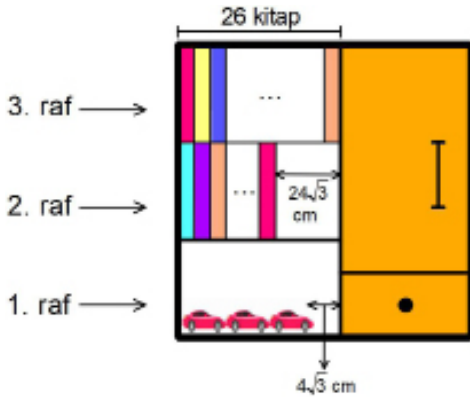
F: Kuvvet  
k: Yay sabiti  
x: Uzama miktarı

Aşağıda aynı yaylardan oluşmuş düzeneklere farklı kütleler asılı durmaktadır.

Buna hangi yayın uzama miktarı en fazladır?



- 7.



Kitaplığını düzenleyen Yiğit 3. rafa aralarında hiç boşluk kalmayacak şekilde 26 özdeş kitap sığdırıyor. Daha sonra Yiğit elinde kalan 14 özdeş kitabı 2. rafa aralarında hiç boşluk kalmayacak şekilde dizdiğinde rafta  $24\sqrt{3}$  cm boşluk kalıyor. 1. rafa ise aynı uzunluktaki 3 tane oyuncak arabayı dizdiğinde  $4\sqrt{3}$  cm'lik boşluk kalıyor.

Buna göre arabalardan birinin uzunluğu kaç cm'dir?

- A)  $22\sqrt{3}$  B)  $18\sqrt{3}$  C)  $16\sqrt{3}$  D)  $9\sqrt{3}$

8. İbrahim Öğretmen, 8 öğrencisinin katıldığı gülle atma yarışmasının kurallarını şöyle belirliyor:

Atış mesafesine göre;

- İlk turu en uzun mesafeye atan 4 kişi geçecek
- 2. Tura yükselen öğrencilerden 2 kişi elenirken finale 2 kişi kalacaktır

	I. TUR	II. TUR	III. TUR
Yiğit	14	$5\sqrt{7}$	13,9
Elif	$5\sqrt{6}$	14	13,9
Nisa	11	15	$8\sqrt{3}$
Mustafa	13,2	$6\sqrt{5}$	14
Sun	13	12,9	13,5
Talha	12	13,9	$8\sqrt{3}$
İsmail	$8\sqrt{3}$	13	$4\sqrt{10}$
Elvan	$9\sqrt{2}$	14,5	14

Atış mesafelerinin bir kısmını kareköklü çıkınca hangi öğrenci eleyeceğine karar veremeyen İbrahim öğretmen tüm öğrencilere üçer atış kullandırtıyor. sonra aşağıdaki listeyi ilk ikiyi belirlemesi için okulun matematik öğretmeni olan Ahmet öğretmene veriyor.

Yukarıdaki sonuçlara göre 1. ve 2. öğrenci sırasıyla aşağıdakilerden hangisidir?

- A) İsmail, Nisa B) Yiğit, Talha  
C) Mustafa, Elvan D) Mustafa, Yiğit

1. Bu testte 5 soru vardır.
2. Cevaplarınızı, cevap kâğıdına işaretleyiniz.

1. Cape Town Üniversitesi araştırmacıları, 1976-1999 yılları arasında topladıkları verilere göre, iklim değişikliği nedeniyle hayvanların vücut boyutlarının küçüldüğünü söylüyor.

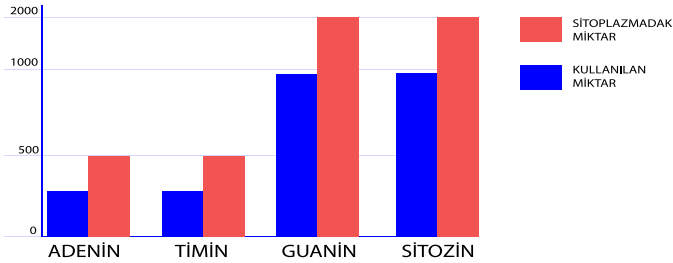
Bilim insanları, iklim değişikliğinin dünyadaki ekosistemler üzerinde derin etkileri olduğunu ve son yüz yılda küresel sıcaklığın 1 °C'ye yakın bir miktarda arttığını belirtiyor. Fosil kayıtlarından küresel ısınmanın geçmiş dönemlerde, hem deniz hem de kara hayvanlarının boyutlarında küçülmeye neden olduğu biliniyor.

Bununla birlikte, araştırma sonuçları, iklim değişikliğinin kuşların zaman içinde küçülmesinin nedeni olduğu fikrini açıkça destekliyor. Palmiet Nehri yakınlarındaki yerel bir meteoroloji istasyonundan elde edilen verilere dayanarak, araştırmacılar bölgedeki sıcaklığın 0,18 °C arttığını biliyorlardı. Elde ettikleri sonuçlar orada yaşayan kuş türlerinin hafiflediğini göstermiştir.

(Bilim ve teknik dergisi-Eylül 2019 )

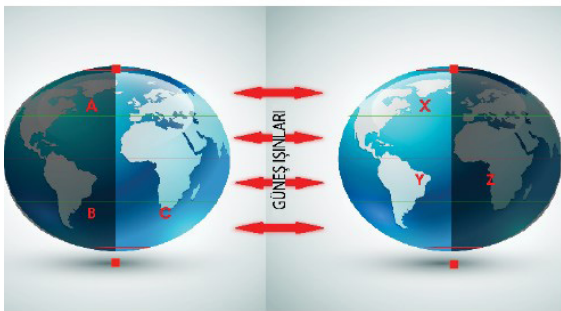
### İklimle ilgili yapılan araştırmalar ve sonuçlarına göre aşağıdakilerden hangisi yanlıştır?

- A) İklim , uzun yıllar boyunca hava şartlarında meydana gelen ortalama değişiklikleri kapsar.
  - B) Meteorologların yaptığı çalışmalar sonucunda kuşların sayısında azalma olduğu tespit edilmiştir.
  - C) Küresel iklim değişiklikleri hayvanların vücutlarında bazı değişikliklere neden olabilir.
  - D) Bulunan fosiller hayvanların boyutlarında meydana gelen değişimleri gösterebilir.
2. Bir öğrenci DNA'nın eşlenmesiyle ilgili aşağıdaki grafiği çizerek sınıfa getiriyor.



### Grafikte meydana gelen olaylarla ilgili aşağıdakilerden hangisi yanlıştır?

- A) Bazı canlıların büyüüp gelişmesi için gerekli olan bir olaydır.
  - B) Hata olmazsa aynı genetik yapıda iki DNA molekülü oluşur.
  - C) Serbest haldeki guanin nükleotidinin sayısı diğerlerinden fazladır.
  - D) Sitoplazmadaki nükleotidler çekirdeğe geçtiğinden çekirdekteki organik baz sayısı artar.
3. Ali mevsimlerle ilgili bazı tarihlerde meydana gelen özellikleri açıklamak için aşağıdaki görseli çizip sınıfa getiriyor ve arkadaşlarından görsellerde meydana gelen olaylarla ilgili yorumlar yapmalarını istiyor.



### Ali'nin arkadaşlarından bazılarının yorumları aşağıdaki gibidir.

**Asya:** Bu görsel ekinoks tarihlerinden birine ait olduğundan X ve Y bölgelerinde bulunan bir cismin gölge boyu ekvatora yaklaştıkça artar.

**Ekber:** A,B ve C bölgelerinin bulunduğu görsel 21 Haziran tarihidir. Bu nedenle A ve B bölgelerinde farklı mevsimler yaşanır.

**Gül:** C ve Z bölgelerinde bir gün içerisinde farklı zaman dilimleri yaşandığından bu bölgelerde gece ve gündüz süreleri birbirinden farklı olur.

### Buna göre hangi öğrencilerin yaptığı yorumlar yanlıştır?

- A) Asya ve Gül
- B) Ekber ve Asya
- C) Gül ve Ekber
- D) Gül, Ekber ve Asya

4. Aşağıda kalıtım kavramlarının tanımları karışık olarak verilmiştir. Her kavramın altında üç boş kutu vardır. Bu kavramlar için alttaki uygun tanımı bulup yukarıdan aşağıya doğru sayı ve renklere göre karalanması istenmektedir.

GENOTİP	BASKIN GEN	FENOTİP	ÇEKİMLİK GEN	SAF DÖL	MELEZ DÖL
1.Kutu	1.Kutu	1.Kutu	1.Kutu	1.Kutu	1.Kutu
2.Kutu	2.Kutu	2.Kutu	2.Kutu	2.Kutu	2.Kutu
3.Kutu	3.Kutu	3.Kutu	3.Kutu	3.Kutu	3.Kutu

Canlının sahip olduğu gen yapısıdır.= 2 Mavi

Bu genler A, B, C, T, K ve M gibi büyük harflerle gösterilirler.= 1 Mavi

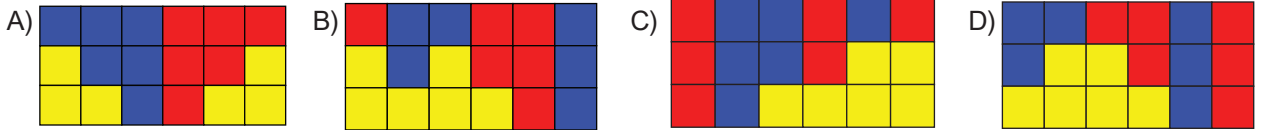
Farklı özellikteki iki genin bir arada bulunması ile oluşan yapıdır. Aa, Bb, Tt, Kk örnek olarak verilebilir. = 3 Kırmızı

Baskın gen ile birlikte bulunduğu kendi özelliğini gösteremeyen genlerdir. = 2 Kırmızı

Canlının genotip özelliklerine bağlı olarak meydana gelen dış görünüşüdür. = 1 Kırmızı

Aynı özellikteki iki genin bir arada bulunması ile oluşan yapıdır. AA, bb, TT, kk örnek olarak verilebilir. 3 Mavi

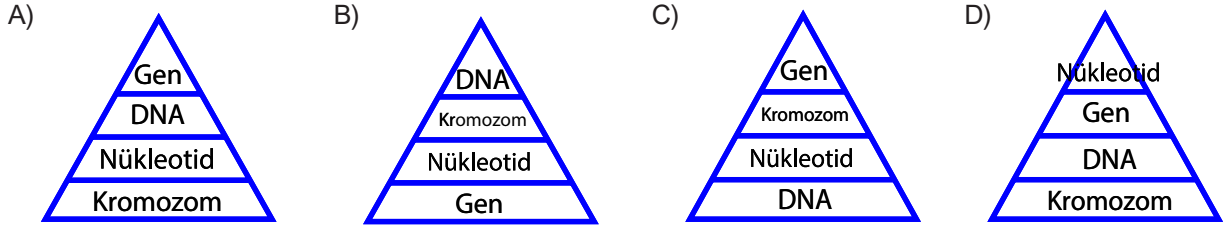
**Ahmet Öğretmen tarafından hazırlanmış olan bu renkli karalama etkinliğini tamamen doğru yapabilmesi için karalamayı nasıl yapmalıdır?**



5. DNA ve genetik kod ünitesini çalışan Ertuğrul: bazı kavramlarla ilgili açıklamaları defterine not ediyor.
- Çift zincirli bir yapıya sahiptir.
  - Fosfat, şeker ve organik bazdan oluşur.
  - Genetik bilgileri taşır.
  - Kromatinlerin kısalıp kalınlaşması ile oluşur.

Ertuğrul defterine yukarıdaki notları aldıktan sonra açıklamaların ait olduğu yapıları üçgen çizip en alttan başlayarak basitten karmaşığa doğru üçgene yerleştiriyor.

**Buna göre Ertuğrul yapıları üçgene nasıl yerleştirmelidir?**









6. Bakanlığın yaptığı projeye göre belirli şehirdeki öğrencileri kaynaştırmak için her öğrenci belirli şehirden öğrenci eşleşecek şekilde misafir ağırlayacaktır. Şanlıurfa'dan giden öğrenciler İstanbul'daki öğrencilerle; Elazığ'dan giden öğrenciler ise Kayseri'deki öğrencilerle tanışacak ve Kayseri'deki öğrenciler bir hafta süresince Elazığ'dan gelen öğrencilere şehirlerini gezdirecektir.

**Proje DNA'nın yapısına benzetilirse proje ile ilgili aşağıdakilerden hangisi söylenemez?**









- A) Şanlıurfa'dan giden öğrenciler adenin bazını İstanbul'daki öğrenciler timin bazını temsil edebilir.
- B) Elazığ'dan giden öğrenciler guanin bazını Kayseri'deki öğrenciler sitozin bazını temsil edebilir.
- C) Elazığ'dan giden öğrenciler fosfat, Şanlıurfa'dan giden öğrenciler organik temsil edebilir.
- D) Eşleşen öğrenciler DNA'nın karşılıklı zincirlerindeki temel yapı birimleri olabilir.

1. Bu testte 7 soru vardır.
2. Cevaplarınızı, cevap kâğıdına işaretleyiniz.

1.

					
Yazarın yeni kitabı 548 sayfadan oluşuyor.	Gülümsemeyle anlatır bütün güzel duyguları insanoğlu.	Şehrin manzarası kalesinden izlenir.	Roma Dönemin-den kalma hamam bölgenin en eski yapısı.	Van Gölü'nde yaşayabilen tek balık türü İnci Kefali'dir.	Çocukluk çağı ömrün en güzel dönemi olsa gerek.

Yapboz parçaları kanıtlanabilirlik açısından üçerli olarak eşleştirilecektir. Buna göre oluşacak şekiller hangi seçenekte doğru verilmiştir?

A) 	
B) 	
C) 	
D) 	

2. Türkçede "ince" kelimesi incedir. "güzel" kelimesi güzeldir, zariftir, hoştur. "sevgi" kelimesi sevilecek kadar yumuşak ve sevimlidir. Dilimizdeki "kalın" kelimesi kalın olmasına rağmen manasındaki ifadenin müzikal değerini verir. "gül" kelimesi güldürür. "çiçek" kelimesi gül gibi gönlümüzde açar. "gönül" kelimesi güneş gibi rahatlatır. "güneş" kelimesi pırıl pırıl, okşayıcı, göz kırpicidir. "göz" kelimesi açık, net ve incedir.

Aşağıdakilerden hangisi paragrafta bağdaşmaz?

- A) Cümlelerin tamamı fiil cümlesidir.
- B) Geçiş ve bağlantı ifadelerine yer verilmiştir.
- C) İkileme, sıralı cümlede yüklem görevindedir.
- D) Anlamı güçlendirmek için benzetmelerden yararlanılmıştır.





1. Bu testte 9 soru vardır.
2. Cevaplarınızı, cevap kâğıdına işaretleyiniz.

1. İtilaf Devletleri Osmanlı Devleti'nin I.Dünya Savaşı'na girmesine karşı çıkararak Osmanlı Devleti'nin savaş süresi boyunca tarafsız kalmasını istemiştir. Buna karşın Osmanlı Devleti de İtilaf Devletleri'ne bazı önerilerde bulunarak Kapitilasyonların kaldırılmasını, dış borçların düzenlenmesi ve Ege Adaları'nın kendilerine verilmesi istemiştir. Osmanlı Devleti'nin bu önerileri İtilaf Devletleri tarafından reddedilmiştir. **Buna göre Osmanlı Devleti hangisini yaparsa İtilaf Devletleri'nin politikasına ters düştüğü söylenebilir?**
  - A) Boğazları kapatarak tarafsızlığını ilan etmiştir
  - B) İtilaf Devletleri ile saldırmazlık antlaşması imzalamıştır.
  - C) Osmanlı heyeti ile Alman heyeti ikili görüşmelere başlamıştır.
  - D) Osmanlı Devleti İtilaf Devletleri'nin önerilerini kabul etmiştir.

2. 10 Ağustos 1920 tarihinde imzalanan Sevr Barış Antlaşması'nın hukuki bir geçerlilik taşımamasının nedenleri arasında;
  - I. Kapitilasyonların kabul edilmiş olması,
  - II. Osmanlı Mebuslar Meclisinin onaylamaması,
  - III. Halkın antlaşmaya büyük tepki vermesi

**verilenlerden hangileri gösterilebilir?**

- A) Yalnız I
  - B) I ve II
  - C) Yalnız II
  - D) II ve III
3. 23 Nisan 1920 tarihinde TBMM'nin açılmasının ardından yurdun birçok yerinde ayaklanmalar çıkmıştır. Ayaklanmaları bastırmak için; Hıyaneti Vatanîye Kanunu yürürlüğe konulmuş olup, Ankara Müftüsü ile birçok alimin görüşüyle karşı fetvalar çıkarılmış ve İstanbul ile haberleşmelerin kesilmesi gibi bazı önlemler alınmıştır. **Buna göre TBMM'nin hangi alanında önlem aldığı söylenemez?**
    - A) Hukuki
    - B) Dini
    - C) İletişim
    - D) Askeri

4. 22 Haziran 1919 imzalanan ve tüm yönleri ile bir kurtuluş reçetesi olan Amasya Genelgesinin en önemli maddeleri şunlardır
  - Vatanın bütünlüğü ve milletin bağımsızlığı tehlikededir.
  - İstanbul hükümeti üzerine düşen sorumluluğu yerine getirmemektedir.
  - Milletin geleceğini yine milletin azim ve kararı kurtaracaktır.

**Buna göre verilen maddelere göre ;**

- I. İstanbul hükümeti teslimiyetçi bir dış siyaset izlemiştir.
- II. Manda ve himaye fikri benimsenmiştir.
- III. Ulusal mücadelenin milli temellere dayanması amaçlanmıştır.

**yargılarından hangilerine ulaşılabilir?**

- A) Yalnız I
- B) I ve II
- C) I ve III
- D) II ve III

5. 4 - 11 Eylül tarihleri arasında ülkenin işgale uğramamış güvenli bir şehri olan Sivas'ta her yönüyle milli bir kongre düzenlenmiştir. Kongreye ülkenin her köşesinden gelen delegeler Mustafa Kemal Paşa'nın başkanlığında toplanmıştır. Bu durumun devamında toplantıyı engelleyemeyen Damat Ferit Paşa Hükümeti istifa etmiştir.

**Verilen açıklamalardan yola çıkılarak aşağıdakilerden hangisine ulaşılmaz?**

- A) Kongre siyasi bir zafer kazanmıştır.
- B) İtilaf Devletleri amaçlarına kolaylıkla ulaşamayacaklarını anlamıştır.
- C) Demokratik ve ulusal bir kongre özelliği göstermektedir.
- D) İstanbul Hükümeti kongre kararlarını kabul etmiştir.

6. Sakarya Meydan Muharebesi'nin kazanılmasından sonra Fransa ile Ankara Antlaşması imzalanmış, böylece Fransa Anadolu'dan çekilmiştir. SSCB ile de Kars Antlaşması imzalanarak iki ülke arasında ki sıkıntılar giderilmiştir.

**Yukarıdaki bilgiden yola çıkılarak;**

- I. Askeri zafer beraberinde siyasi zaferler getirmiştir.
- II. TBMM diplomatik ilişkiler geliştirmiştir.
- III. İtilaf Devletleri arasındaki görüş ayrılıkları derinleşmiştir.

**yorumlarından hangileri yapılabilir?**

- A) Yalnız I
- B) Yalnız II
- C) II ve III
- D) I, II ve III

8. Montrö Boğazlar Sözleşmesi ile Türkiye'nin boğazlar üzerinde hakimiyet sağlamasında;

- I. Almanya ve İtalya'nın yayılmacı faaliyetlerde bulunması
- II. Lozan Antlaşması'nda boğazların savunmasız bırakılması
- III. Rusya'da iç savaş sonucu rejim değişikliği yaşanması

**durumlarından hangilerinin etkili olduğu söylenebilir?**

- A) Yalnız I
- B) I ve II
- C) II ve III
- D) I, II ve III

7. Kurtuluş Savaşı'nda Doğu Cephesi'nde Ermeniler ile mücadele edildi. Gizli antlaşmalara baktığımızda İngiltere doğuda herhangi bir toprak parçası istememiş ancak Ermenileri destekleyerek doğuda bağımsız bir Ermenistan Devleti'nin kurulmasını istemiştir.

**Buna göre; İngiltere'nin bu isteğinin nedeni aşağıdakilerden hangisidir?**

- A) Ermenilere karşı duyduğu hayranlık.
- B) Osmanlı Devleti'ni parçalamak.
- C) Avrupa'daki güç dengesini korumak.
- D) Milliyetçilik akımının etkisini arttırmak.

9. Eskişehir ve Kütahya Muharebeleri sonucunda Türk Ordusu'nun Sakarya'nın doğusuna çekilmesi TBMM'de Mustafa Kemal'e yönelik tartışmaların başlamasına neden oldu. Meclis üyelerinin birçoğu sorumluluğu Mustafa Kemal'e yüklemek istediler. Bunun üzerine Mustafa Kemal de meclisin tüm yetkilerinin üç aylık bir süre için kendine verilmesi şartıyla Başkomutanlığı kabul etmiştir.

**Bu bilgilere göre aşağıdakilerden hangisine ulaşamaz?**

- A) Meclisin yetkileri kısa süreliğine Mustafa Kemal'e verilmiştir.
- B) Mustafa Kemal'e yönelik eleştiriler olmuştur.
- C) Kütahya-Eskişehir Savaşları'nda başarısız olunmuştur.
- D) Başkomutanlık yetkisi süresiz hale getirilmiştir.

1. Bu testte 9 soru vardır.
2. Cevaplarınızı, cevap kâğıdına işaretleyiniz.

1.



*New York University  
Come and have fun with the class of 2019.  
We are expecting to see you all.*

**Which question has an answer?**

- A) What type of reunions are there in your country?
- B) What is the deadline for joining the event?
- C) How can people get more information?
- D) How much is the fee for attending the organization?

2. **Waiter:** Hello, may I take your order?  
**Susan:** Yes, please. I'd like to have mixed kebab and ayran first.  
**Waiter:** .....?  
**Susan:** Yes, I'd like cheese cake please.

**What does the waiter ask Susan?**

- A) What would you like to have for dessert?
- B) Would you like anything to drink?
- C) Would you like to have lentil soup?
- D) Would you like anything for dessert?

3. **Peter:** What do you do in your free time Jack?  
**Jack:** I usually read books. I love reading travel books. What about you?  
**Peter:** Well, I sometimes read history books, but that's all. ...., Jack ? Are you interested in pop music?  
**Jack:** Yeah, sure I am crazy about pop music.

**Which of the followings completes the dialogue?**

- A) What do you think about birthdays
- B) Are you keen on TV programs
- C) How about listening to music
- D) How often do you meet your buddies

DÜZCE İL MİLLİ EĞİTİM MÜDÜRLÜĞÜ

4.



**George:** I am going to have tomato soup as a starter. What would you like to have?

**Amanda:** Well, I would like to have ..... I don't want to eat any fast food, I'm on a diet.

**George:** Okay, it is very healthy.

**Choose the correct option to complete the dialogue.**

- A) Hamburger
- B) Brownie
- C) Cheesecake
- D) Steamed vegetables

**Read the paragraph and answer the (5-6) questions****Sue's Daily Routines**

Sue gets up early on weekdays.

She has breakfast with her family at 7:00 and then she goes to school. She has lunch at school at 12:30. Her lessons finish at 3:30.

When she comes home, she does her homework.

After that, she watches TV with her family. She brushes her teeth and washes her face. Then she goes to sleep at 10:30

5. After Sue does her homework, she .....

- A) gets up early on weekdays
- B) goes to school
- C) watches TV with her family
- D) has lunch at 12:30

6. According to the text.....

- A) Before she sleeps ,she washes her face.
- B) She has lunch at canteen.
- C) She watches TV alone.
- D) Sue gets up early on the weekend.

7. I have a lot of friends and I love buying presents to them. They call me “ .....” person.

**Complete the sentence with the correct option.**

- A) generous
- B) loyal
- C) fair
- D) honest

8. **Jane:** We are going to go rock concert tonight. Would you like to come with us?

**Jack:** I am busy but I love rock music so I would love to.

**Jane:** Ok. I will ..... at seven pm.

**Jack:** Ok. See you.

**Jane:** See you.

**Complete the dialogue with the correct option.**

- A) spend time
- B) meet
- C) pick you up
- D) mean

9. **Mom:** How was your first day at school?

**Kevin:** It was great. I met lots of friends.

**Mom:** Who is your deskmate?

**Kevin:** Sam. We ..... each other. He is very friendly.

**Complete the dialogue with the correct option.**

- A) count on
- B) laid back
- C) back up
- D) get on well with

## DİN KÜLTÜRÜ VE AHLAK BİLGİSİ

Test 2

1. Bu testte 10 soru vardır.
2. Cevaplarınızı, cevap kâğıdına işaretleyiniz.

1. I-(Size gelince ey müminler,) kendiniz için özenle ayırdığınız şeylerden başkaları için harcamadıkça gerçek erdeme ulaşmış olamazsınız ve her ne harcarsanız kuşkusuz, Allah ondan tamamıyla haberdardır. **(Al-i İmran,92)**  
 II-Sana ne harcayacaklarını soruyorlar. De ki: "Harcadığınız her türlü servet anne babanız, yakın akrabanız, yetimler, muhtaçlar ve yolcular içindir. Her ne iyilik yaparsanız Allah şüphesiz onu çok iyi bilir." **(Bakara,215)**  
 III-Göklerde ve yerde ne varsa, hepsi Allah'ındır. **(Lokman,26)**  
**Numaralanmış ayetlerden hangisi ya da hangileri paylaşma ve yardımlaşma ile ilgilidir?**  
 A) I B) I ve II. C) I ve III. D) I, II, III
2. "Allah katında en sevimli ev, içinde yetime iyilik ve ikram edilen evdir." **Hz. Muhammed(S.a.v.)**  
**Yukarıda verilen hadisi şerif İslam'ın önem verdiği temel ilkelerden hangisi ile ilişkilendirilebilir?**  
 A) Kötülük ve fenalıktan kaçınma  
 B) Zararlı alışkanlıklardan uzak durma  
 C) Allah'a ve peygamberine iman etme  
 D) Bolluk ve darlıkta infak etme
3. Ali sınıf arkadaşı Ahmet'in kendisine kümeler konusunu anlatmasını istediğinde Ahmet ona karşılık olarak "Neden sana bu konuyu anlatayım ki ben ne kazanmış olacağım?" diye sorar. Ali'de arkadaşına Peygamber efendimizin bir hadisi-i şerifini hatırlatır.  
**Ali'nin arkadaşı Ahmet'e hatırlattığı ve örnek durum ile örtüşen hadis-i şerif hangisi olabilir?**  
 A) "En faziletli en üstün sadaka, Müslüman kişinin ilim öğrenmesi, sonra da Müslüman kardeşine öğretmesidir."  
 B) "Müslüman, dilinden ve elinden Müslümanların emin olduğu kimsedir. "  
 C) "İnsanlara merhamet etmeyene Allah merhamet etmez."  
 D) "Hayra vesile olan, hayrı yapan gibidir."
4. **Aşağıdaki kavramlardan hangisi İslam'da yer alan "paylaşma ve yardımlaşma" ilkesi ile ilişkili değildir?**  
 A) Zekât B)Fitre C) Sadaka D) Fıkıh
5. Asgari zenginlik ölçüsü olarak ta tanımlanabilir. Borcundan ve aslî ihtiyaçlarından fazla olarak bu kadar mala sahip olan kişi dinen zengin sayılır. Böyle bir kişi, zekât veya sadaka alamayacağı gibi; sadaka vermek ve kurban kesmekle de yükümlü olur. Borçtan ve aslî ihtiyaçlarından fazla olan bu malın artıcı olması ve üstünden bir yıl geçmesi hâlinde zekâtının verilmesi gerekir. Zenginliğin asgari sınırı olan .....miktarı Hz. Peygamber tarafından belirlenmiştir.  
**Metinde boş bırakılan yere getirilmesi gereken kavram aşağıdakilerden hangisidir?**  
 A) Kurban B) Zekât C) Oruç D) Nisap
6. Bir gün Peygamber Efendimizin ailesi bir koyun kesip fakirlere dağıtmıştı. Resûl-i Ekrem eve gelince koyundan geriye ne kaldığını sordu. "Sadece bir bacağı kaldı" dediler. Allah'ın Elçisi: "Desenize," buyurdu. "Bir bacağı hariç hepsi duruyor."  
**Peygamber efendimiz aşağıda verilen kavramlardan hangisinin önemine vurgu yaptığı söylenebilir?**  
 A)Paylaşmanın B) Dürüstlüğün C) Sadakatin D) İlmin





7. Sadakalar (zekât gelirleri) ancak şunlar içindir: Yoksullar, düşkünler, sadakaların toplanmasında görevli olanlar, kalpleri kazanılacak olanlar, âzat edilecek köleler, borçlular, Allah yolunda (çalışanlar) ve yolda kalmışlar. İşte Allah'ın kesin buyruğu budur. Allah bilmekte ve hikmetle yönetmektedir.(Tevbe,60)

**Yukarıda verilen ayet-i kerimede zekât ile ilgili sorulardan hangisine yanıt verilmiştir?**

- A) Kimlere verilmesi gerektiğine  
B) Ne oranda verilmesi gerektiğine  
C) Neden verilmesi gerektiğine  
D) Kimler tarafından verilmesi gerektiğine

8. Şuayb aleyhisselâm kavmine şöyle dedi:  
"Ve ey kavmim! Ölçüyü ve tartıyı adaletle yapın; insanlara malları hususunda haksızlık etmeyin; yeryüzünde fesatçılık çıkararak fenalık yapmayın!  
Eğer mümin iseniz, Allah'ın (helâlinden) bıraktığı (kâr) sizin için daha hayırlıdır. Bununla birlikte ben üzerinize bir bekçi de deşilim." (Hûd, 85-86)

**Aşağıdaki ayetlerden hangisi Hz.Şuayp peygamberin kavmine vermiş olduđu öğütleri içeren ayetlerle aynı konuya değinmektedir?**

- A) Şüphesiz Allah, size emanetleri ehline teslim etmenizi ve insanlar arasında hükmettiğinizde adaletle hükmetmenizi emrediyor. Bununla Allah, size ne güzel öğüt veriyor. Doğrusu Allah, işitendir, görendir. **(Nisa, 58)**
- B) Allah, gerçekten kendisinden başka ilah olmadığına şahitlik etti; melekler ve ilim sahipleri de Ondan başka ilah olmadığına adaletle şahitlik ettiler. Aziz ve Hâkim olan Ondan başka ilah yoktur. **(Al-i İmran, 18)**
- C) İman edip iyi işler yapan, namaz kılan ve zekât verenler var ya, onların mükâfatları Rableri katındadır. Onlara korku yoktur, onlar üzüntü de çekmezler. **(Bakara, 277)**
- D) "Sizin dostunuz (veliniz) ancak Allah'tır, Resulüdür, iman edenlerdir; onlar ki Allah'ın emirlerine boyun eğerek namazı kılar, zekâtı verirler." **(Maide,55)**

9. Maun Suresi:  
1-Gördün mü, o hesap ve ceza gününü yalanlayanı!  
2,3-İşte o, yetimi itip kakan, yoksula yedirmeyi özendirmeyen kimsedir.  
4-Yazıklar olsun o namaz kılanlara ki,  
5-Onlar namazlarını ciddiye almazlar.  
6-Onlar (namazlarıyla) gösteriş yaparlar.  
7-Ufacık bir yardıma bile engel olurlar.

**Bu ayetlerin aşağıdaki kavramlardan hangisi ya da hangileri ile ilgili olduđu söylenebilir?**

- I-Dürüstlük  
II-Yardımlaşma  
III- Hoşgörülü olma

- A) I B) I ve II. C) II ve III. D) I, II, III

10. "Güneşin doğduđu her gün insanın bütün eklemleri için sadaka vermesi gerekir. İki kişinin arasını düzeltmen sadakadır. Bir kimseyi kaldırarak hayvanına binmesine yardımcı olman ve eşyasını ona yüklemen sadakadır. Güzel söz de sadakadır. Namaza giderken attığın her adım sadakadır. Yoldaki rahatsızlık veren şeyi kaldırman sadakadır." Hz. Muhammed(s.a.v.)

**Yukarı verilen hadis-i şerifte sadaka ile ilgili verilmek istenen mesaj nedir?**

- A) Maddiyat ile sınırlı olmaması  
B) Fakirlere yönelik olması  
C) Akralara yapılması gerektiği  
D) Gizlice yapılması gerektiği

TEST 2 CEVAP ANAHTARI(ORTAOKUL)

<b>TÜRKÇE</b>	<b>FEN BİLİMLERİ</b>	<b>MATEMATİK</b>	<b>SOSYAL BİLGİLER</b>	<b>DİN KÜLTÜRÜ</b>
1. C 2. A 3. C 4. C 5. C 6. C 7. C	1. B 2. C 3. D 4. D 5. D 6. C	1. C 2. D 3. C 4. B 5. D 6. B 7. C 8. D	1. C 2. C 3. D 4. C 5. C 6. D 7. C 8. B 9. D	1. B 2. D 3. A 4. D 5. D 6. A 7. A 8. A 9. B 10. A
<b>İNGİLİZCE</b> 1. D 2. D 3. C 4. D 5. C 6. A 7. A 8. C 9. D				

## MATEMATİK

## Test 3

1. Bu testte 10 soru vardır.
2. Cevaplarınızı, cevap kâğıdına işaretleyiniz.

1. Bir sporcu olimpiyatlara hazırlanmak için hedef tahtasına ok atıyor. Okların isabet ettiği bölgelerle ilgili olarak;
  - 1. Bölge: 5 puan ve 4 ok isabet etmiştir.
  - 2. Bölge: 4 puan ve 7 ok isabet etmiştir.
  - 3. Bölge: 3 puan ve 9 ok isabet etmiştir.
  - 4. Bölge: 2 puan ve 10 ok isabet etmiştir.

**Buna göre bu sporcuya yapılacak olan olimpiyatlarda hangi bölgenin puan getirme olasılığı en fazladır?**

- A) 1      B) 2      C) 3      D) 4

2. Ali'nin kırmızı, mavi ve siyah olmak üzere üç farklı renkte bilyesi vardır. Bu bilyelerden kırmızı olanların sayısı mavi olanların sayısının 3 katı, siyah olanların sayısının ise 6 katıdır.

**Buna göre arkadaşlarıyla oyun oynayan Ali'nin oynamak için rastgele seçtiği bir bilyenin siyah olma olasılığı kaçtır?**

- A) 3/27      B) 6/27      C) 18/27      D) 1/10

3. Tabloda 4 farklı markanın meyve suyu fiyatları verilmiştir.

Meyve Suyu	Fiyat
A Markası	1,25 TL
B Markası	1,70 TL
C Markası	1,12 TL
D Markası	0,90 TL

Marketten meyve suyu almak isteyen Ayşe'nin 1,50 tl si vardır.

**Buna göre Ayşe'nin bu dört markanın herhangi birinden meyve suyu alma olasılığı kaçtır?**

- A) 1/4      B) 3/4      C) 1/5      D) 1/6

4. Mehmet ve Asya bir oyun oynuyorlar. Ellerindeki küpün bir yüzeylerine sevdiği farklı birer meyvenin adını yazıyorlar. Bu oyunla ilgili olarak;
  - Mehmet ve Asya küpün yüzeylerini eşit olarak paylaşacak
  - Küpü kimin havaya atacağını belirlemek için yazı tura yapılacak

**Bu bilgilere göre Asya'nın sevdiği meyvenin adı gelmeme olasılığı kaçtır?**

- A) 1/7      B) 1/3      C) 2/3      D) 1/2

5. Arkadaşlarına doğum gününde hediye olarak kolye yapacak olan Nursel'in yapacağı kolyede kullanacağı bocuk renkleri ve sayısı ile ilgili olarak;

- I. Beyaz bocuk 14 tane  
 II. Mavi bocuk 7 tane  
 III. Sarı bocuk 9 tane  
 IV. Kırmızı bocuk 3 tane

**verilenlere göre yapılacak olan kolyede hangi renk boncuğun kullanılma olasılığı daha fazladır?**

- A) Beyaz      B) Sarı      C) Mavi      D) Kırmızı

6. Bir boya kalemi kutusunun içerisinde 7 mavi ,3 kırmızı,4 sarı,5 yeşil renk kalem vardır.

**Bu kutunun içerisinde bir seferde iki farklı renkte ve kutuda seçilen renklerden hiç boya kalemi kalmayacak şekilde rastgele 10 tane boya kalemi seçme olasılığı kaçtır?**

- A)  $\frac{1}{6}$  B)  $\frac{3}{6}$  C)  $\frac{2}{6}$  D)  $\frac{5}{6}$

7.



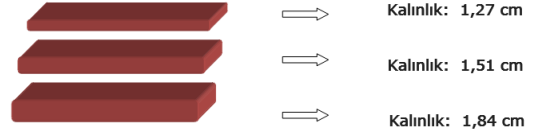
TÜİK'in 2016 yılının Ocak-Ağustos döneminde trafiğe kaydı olan otomobiller üzerinde yaptığı araştırmaya göre Türkiye'de en çok tercih edilen araba renklerinin yüzdeleri şöyle:

1. Beyaz: %62
2. Gri: %15,3
3. Siyah: %8,6
4. Kırmızı: %6,5

**Kendisine araba alacak olan Salih Bey'in arabasının hangi renkte olma olasılığı en fazladır?**

- A) Kırmızı B) Siyah C) Gri D) Beyaz

8.



**Uzunlukları verilen üç bloğu tek vida ile üst üste duvara monte etmek isteyen bir ustanın çantasında 2 cm,3 cm,4 cm ve 5 cm uzunlukta olan vidalardan rastgele seçeceği bir vida ile tutturabilme olasılığı kaçtır?**

- A)  $\frac{1}{4}$  B)  $\frac{1}{2}$  C)  $\frac{3}{4}$  D) 1

9. Aysel yeni başladığı okulunda arkadaşlarının isimlerini karıştırmamak için Arkadaşlarının isimlerinin baş harflerini bir kağıda yazmıştır.

**Yazdığı kağıttaki harfler KKKK MMMM NNNN SSSSS olduğuna göre Aysel'in yazdığı kağıtta T harfinin bulunma olasılığı kaçtır?**

- A) 4/17 B) 3/17 C) 1 D) 0

10. Bir turistik gezide 12 Türk, 13 Rus, 18 Alman vatandaşı vardır.

**Bu gruptan rehber olarak seçilecek bir kişinin Türk vatandaşı olma olasılığı kaçtır?**

- A) 1/43 B) 1/86 C) 12/43 D) 4 /12

1. Bu testte 7 soru vardır.
2. Cevaplarınızı, cevap kâğıdına işaretleyiniz.

1. Canlıların belirli ortam koşullarında yaşama ve üreme şanslarını arttıran fiziksel yapılar, davranışlar gibi kalıtsal özelliklere sahip olmalarına adaptasyon (çevreye uyum) adı verilir. Canlılar beslenme, avlanma, barınma, üreme ve düşmanlarından korunma gibi yaşamsal faaliyetlerini sürdürebilmek için adaptasyon gösterirler.

- I. Köpekbalıklarının karınların beyaz sırtlarının ise koyu renkli olması
- II. Çölde yaşayan tilkilerin kulaklarının uzun, vücutlarının geniş olması sonucu vücutlarının ısı kaybı artar böylelikle vücut sıcaklıkları korunmuş olur.
- III. Ördek ve kazların suda yüzebilmek için ayak parmaklarının arasında perde bulunması.
- IV. Bazı kaplumbağaların palet şeklinde ayaklarının olması.
- V. Soğukta yaşayan tilkilerin beyaz renkli olması

**Yukarıdaki adaptasyon örneklerine bakıldığında hangilerinde farklı canlıların aynı ortama uyum sağladığı söylenebilir?**

- A) I, III ve IV
- B) II ve V
- C) III, IV ve V
- D) II, IV ve V

- 2.




Yukarıda rüzgar ve ateş adında iki yavru aslana ait pati resimleri verilmiştir. Bu yavrulardan ateş isimli olanı doğuştan pençesiz ve sivri olmayan dişlerle doğmuştur. Başta kardeşi rüzgar gibi annesinin sütü ile beslendikleri için normal bir şekilde gelişmiştir. Fakat ileriki zamanlarda iki yavrunun da avlanma zamanı gelmiştir. Ateş isimli yavru pençesiz ve düz dişlere sahip olduğu için avlanmayı başaramamıştır. Bu da onun beslenememesine sebep olmuştur. Kardeşi zamanla gelişirken ateş zamanla zayıflamış ve ölmüştür.

**Yukarıda anlatılan durum aşağıdakilerden hangisine örnektir?**

- A) Modifikasyon
- B) Mutasyon
- C) Doğal Seçilim
- D) Varyasyon

- 3.



Yukarıdaki resimde beyaz ve mor renkli çiçeğe sahip bezelye bitkilerinin çaprazlanması sonucu çiçeklerin hepsi mor renkli olmaktadır.

- 1) Yavru döllerin hepsi melezdir.
- 2) Beyaz çiçek geni baskındır.
- 3) Çaprazlanan bezelyelerin ikisinde de çekinik gen bulunur.
- 4) Yavru döllerde tek çeşit fenotip bulunurken farklı çeşitte genotip bulunur.

**Bu durumda yapılan yorumlardan hangileri yanlıştır?**

- A) Yalnız 1
- B) 2,3 ve 4
- C) 1,3 ve 4
- D) 2 ve 4

- 4.

Ahmet köyde çiftçilik yapıp bezelye yetiştirmektedir. Ahmet'in yaşadığı yerde sarı bezelye tercih edilirken yeşil bezelye çok fazla tercih edilmemektedir. Ahmet bunun için saf sarı bezelye elde etmek istemektedir. Saf sarı bezelye elde etmek için bezelyeleri çaprazlayarak bulmaya çalışmaktadır. Aşağıda Ahmet'in yaptığı çaprazlamalar ve sonuçları görülmektedir.

1		2	
3		4	

**Yukarıdaki çaprazlamalara göre Ahmet'in kesin olarak kullanması gereken bezelye hangileridir?**

- A) K,L ve Y
- B) X,T ve Y
- C) YALNIZ Y
- D) K,L VE Z

5.

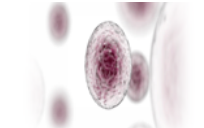


Kuzey Tayland'daki Padaung kabilesinin kadınları, dünyanın en uzun boynuna sahip olma rekorunu ellerinde bulunduruyor. Padaung kadınları sadece başlangıçta rahatsızlık hissettiklerini söylüyor. Kulak memesiyle en alttaki halkanın arasındaki mesafe yaklaşık 25 santimetre, bu da normal bir boynun sahip olduğu uzunluğun iki katı anlamına geliyor. Padaung uzun boyun anlamında kullanılıyor. Bu halkalar boyunlarından çıkartıldığı takdirde ölümlerine sebep olabiliyor.

**Anlatılan bu habere göre aşağıdaki yorumlardan hangisi doğrudur?**

- A) Mutasyondur ve kalıtsaldır.
- B) Modifikasyondur ve kalıtsaldır
- C) Mutasyondur ama kalıtsal değildir.
- D) Modifikasyondur ve kalıtsal değildir.

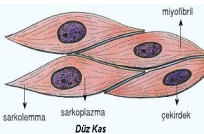
6.



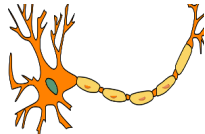
Yumurta Hücresi



Sperm Hücresi



Kas Hücresi



Sinir Hücresi

Yukarıdaki şekillerde farklı hücreler verilmiştir. Bu hücrelere mutasyona sebep olan ışık gönderiliyor.

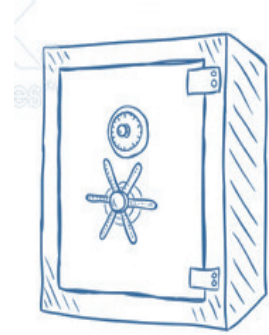

**Oluşan mutasyonun kalıtsal olmaması için yukarıdaki hücrelerden hangilerini korumak gerekiyor?**

- A) Sperm ve sinir hücresi
- B) Sperm ve yumurta hücresi
- C) Kas ve sinir hücresi
- D) Kas ve sinir hücrsi



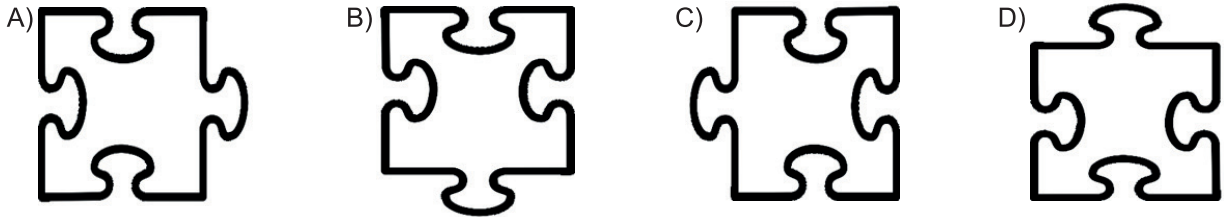
1. Bu testte 7 soru vardır.
2. Cevaplarınızı, cevap kâğıdına işaretleyiniz.

1.



Günümüzde ortaya çıkan edebi eserlerde ayırım yapmak çok güç. Her geçen gün yeni yeni yaklaşımlar ile metinler kaleme alınsada sanki aynı fabrikadan çıkmış gibi. İşte bu noktada orjinal eserler ortaya koymak her babayığidin harcı değil maalesef. Ham madde olarak kendi topraklarımızdan beslenirsek inaniyorumki yeni eserler bir bir doğacaktır. Bu noktada tercübeli kalemlerin insiyatif alması hayati öneme sahiptir Emine'nin kasaya ulaşabilmesi için yukarıdaki metinde yer alan yazım yanlış sayısı kadar yapboz parçasını ok yönünde döndürmesi gerekmektedir.

Buna göre yapboz parçasının son durumu aşağıdakilerden hangisi gibi olmalıdır?



2.

Sıra	Cümleler	Öge
1	Arkadaşımla bir saat sonra <b>kütüphanede</b> buluşacağız.	Zarf Tamlayıcısı
2	<b>Ömer</b> , odasında yaklaşan sınavlarına çalışıyordu.	Özne
3	<b>Ahmet'in ayakkabılarını</b> nereye koymuştuk?	Nesne
4	<b>Öğle saatlerinde</b> Şanlıurfa'da olacağım.	Yer Tamlayıcısı

Tabloya göre sözcük-öge türü eşleştirmelerindeki yanlışlığın giderilmesi için hangi iki cümlenin yer değiştirmesi gerekir?

- A) 1-2                      B) 3-4                      C) 1-4                      D) 2-3
3. "Edebim el vermez edepsizlik edene;  
Susmak en güzel cevap edebi elden gidene." (Yunus Emre)  
Yukarıda yer alan dizelerde hangi öge yer **almamıştır**?
- A) Yüklem              B) Yer tamlayıcısı              C) Zarf tümleci              D) Özne

4. Geçişli fiillerin yüklem olduğu cümlelerde nesne bulunur. Bu tür fiiller özne bulunduktan sonra “Ne, Neyi, Kimi” sorularına cevap verir. Geçişsiz fiillerin olduğu cümlelerde ise nesne yoktur. Bu fiiller nesne alamaz. Örneğin “Yazar, son eserini tanıttı.” cümlesinde “son eserini” söz grubu nesnesidir. Bu nedenle “tanıttı” fiilli geçişli fiildir. “Yazar, yazdığı kitaplara baktı.” Cümlesinde ise nesne yoktur. Bu yüzden “baktı” fiilli geçişsiz fiildir.

**Bu açıklamaya göre aşağıdaki yüklemelerden hangisi geçişsiz fiildir?**

- A) İyi bir okur olması ona nice dünyaları verdi. B) Bu kadar gezmesine rağmen hiçbir kalp kırmadı.  
C) İçeriye giren her dilenciye acıyarak bakardı. D) Odanın yarısını bile toplamadan kolileri getirmişti.

## 5. 1.METİN

Ayşe o gün çok heyecanlıydı çünkü karnesini alıp dedesinin yanına gidecek, karnesini dedesine gösterecekti. Her sene olduğu gibi bu senede derslerinin hepsi beşti. Dedesi Ayşe’ye “Bu senede derslerinin hepsi beş olursa sana bisiklet alacağım.” demişti. Heyecanın bir kısmı da bundan kaynaklanıyordu.

## 2.METİN

Ömer köye dedesinin yanına gitmek için günlerdir hazırlık yapıyordu. Çantasına köyde dedesine okuyacağı hikaye kitaplarını, masal kitaplarını koyuyordu. Köyde dedesiyle tarlaya gider bahçe işlerinde dedesine yardım eder dinlenmek için mola verdiklerinde dedesine hikaye okurdu bu onu çok mutlu ederdi.

**Aşağıdakilerden hangisi bu metinlerin ortak özelliklerinden biri değildir?**

- A) Hikaye türünde yazılmaları B) Amaç anlamı taşıyan yargıların olması  
C) Bilgi verici nitelikte olmaları D) Anlatımın 1.kişi ağzından yapılması

## (6 ve 7 Soruyu metne göre cevaplayınız.)

Güney Amerika’da bulunan Amazonlar, dünyanın en büyük yağmur ormanı. 5.5 milyon kilometrekare büyüklüğündeki orman 9 ülkenin sınırları içinde bulunuyor: Brezilya, Bolivya, Kolombiya, Ekvator, Fransız Guyanası, Guyana, Peru, Surinam ve Venezuela. En büyük bölümü ise Brezilya sınırları içinde. 30 bin bitki, 2 bin 500 balık, bin 500 kuş, 500 memeli, 550 sürüngen ve 2,5 milyon böcek çeşidi Amazonlar’da yaşıyor. Sadece son 20 yılda 2 bin 200 yeni canlı türünün varlığı keşfedilmiş. Dünya üzerindeki tatlı su kaynaklarının yüzde 20’si de yine Amazonlar’da bulunuyor. Amazonlarda 11 bin yıldan bu yana insan yerleşimi mevcut ve bugün itibarıyla 34 milyon insan Amazonlar’da yaşıyor.

Amazon Ormanları’ndaki azalma ve canlı türlerinin yok olması üzerine çalışmalar yapan İmazon Vakfı’nın mayısta yayımladığı çalışmada, Ağustos 2018’den Nisan 2019’a kadar bölgede yaklaşık 2 bin kilometrekare ormanlık alanın yok olduğu bildirilmişti. Bilim insanları, “Dünya’nın Akciğerleri” diye nitelenen, yeryüzünün en büyük yağmur ormanları olan Amazonlar’ın korunmasının, iklim değişikliğiyle mücadelede önemli rol oynadığına işaret ediyor.

## 6. Bu parçada aşağıdaki sorulardan hangisinin cevabı yoktur?

- A)Amazon ormanlarının bulunduğu ülkeler hangileridir?  
B) Amazonlarda yaşayan hayvanların çeşitleri nelerdir?  
C)Amazon ormanlarının dünya ülkeleri için önemi nedir?  
D)Amazon ormanlarının tahribatına sebep olan etkenler nelerdir?



## 7. Yukarıdaki metinde asıl anlatılmak istenen düşünce nedir?

- A) Dünyanın önemli oksijen kaynaklarından biri olan Amazon ormanları tehlike altındadır.  
B) Dokuz farklı ülkeye sınır olan Amazon ormanları buldukları ülkeler için önemi bir gelir kaynağıdır.  
C) Amazon ormanlarında insanlar dışında çok sayıda bitki ve hayvan türü de yaşamaktadır.  
D) En büyük yağmur ormanı olan Amazonlar, tatlı su kaynaklarının önemli bir bölümünü oluşturur.



1. Bu testte 9 soru vardır.
2. Cevaplarınızı, cevap kâğıdına işaretleyiniz.

1. Antalya ve Konya çevresini işgal eden İtalyanlar ile aramızda ciddi bir sorun yaşanmamıştır. II. İnönü muharebesinin kazanılması üzerine İtalyanlar işgal bölgelerini boşaltmaya başlamışlar. Kütahya- Eskişehir muharebesinde yenilmesi üzerine çekilmeyi yavaşlatmışlar Sakarya zaferi sonrası Yunanlıların başarılı olamayacağını anlayınca işgallerine kesin olarak son vermiştir.

**İtalya'nın izlediği bu politika kurtuluş savaşının hangi özelliğini göstermektedir?**

- A) Milli mücadelenin başarısızlığını
- B) Kurtuluş savaşında bir çok cephede yenilginin alındığını
- C) Bir cephedeki başarı veya başarısızlığın diğer cephele etkilediğini
- D) Kurtuluş savaşının büyük kayıplar verdiği

2. Laiklik, din ve devlet işlerinin birbirinden ayrılması, din ve vicdan hürriyetinin devlet tarafından güvence altına alınmasıdır. Devlet bütün dinlere karşı tarafsız ve eşit mesafededir. Hiç kimsenin inancına ve ibadet şekline karışmaz. Her alanda bilime önem verilmesinden yanadır. Devlet akla, bilimsel temellere ve toplumun ihtiyaçlarına göre düzenlenerek yönetilmelidir.

Buna göre;

I. Medreselerin kapatılması

II. Tevhid-i tedrisat kanununun çıkarılması

III. Halifeliğin kaldırılması

**gibi yeniliklerden hangisi veya hangileri Laikliğin eğitim alanı ile ilgilidir?**

- A) Yalnız I
- B) II ve III
- C) I, II ve III
- D) I ve III

3. Saltanat: Bir ülkeyi yönetme hakkının tek bir hanedanda yani tek bir ailede toplandığı yönetim sistemidir. İstanbul Hükümeti'nin, Ankara'ya Lozan'a birlikte katılma çağrısı yapması üzerine, TBMM bu durumu ortadan kaldırmak ve İtilafın planlarını bozmak için 1 Kasım 1922'de saltanata kaldırmıştır. **Buna göre aşağıdakilerden hangisi söylenemez**
- A) Padişahın siyasi yetkilerinin sona ermiştir.
  - B) İtilaf devletleri fikir ayrılıklarından yararlanmaya çalışmıştır.
  - C) Osmanlı devleti sona ermiştir.
  - D) Yabancı devletlerle Osmanlı ilişkisinin devam etmiştir.

4. Atatürk'ün milliyetçilik ilkesi, kendini aynı milletin üyeleri sayan kişilerin o milleti daha ileriye taşımak için çalışmalarıdır.

**Bu bilgiye dayanarak aşağıdakilerden hangisi Atatürk milliyetçiliğinin özelliklerinden biridir?**

- A) Sömürgecilğe karşıdır
- B) Birleştiricidir.
- C) İnanç özgürlüğüne saygılıdır.
- D) Irkçılığı savunur.



5. I. Milletin geleceğini yine milletin azim ve kararı kurtaracaktır.  
II. Cahillikle savaş, düşmanla savaştan daha az önemli değildir.  
III. Egemenlik kayıtsız şartsız milletindir.  
IV. Kuvayimilliyeyi etkin, milli iradeyi hakim kılmak esastır.

**Mustafa Kemal'in yukarıdaki ifadelerinden hangisi "Milli Egemenliği" sağlamaya yönelik düşünceleri arasında yer aldığı söylenemez?**

- A) IV      B) III      C) II      D) I

6. 1926 yılında kabul edilen yeni Türk Medeni Kanunu ile;

- Resmi nikah zorunluluğu getirildi.
- Tek eşle evlilik getirildi.
- Kadınlara mirastan pay alma hakkı verildi.
- Kadınlara istediği meslekte çalışma hakkı verildi.

**Medeni Kanun ile Türk Kadını aşağıdaki alanların hangisinde herhangi bir kazanım elde edememiştir?**

- A) Hukuki      B) Sosyal  
C) Ekonomik      D) Siyasi

7. Cumhuriyet bütün vatandaşların devlet yönetimine eşit bir şekilde katılmalarını sağlar. Cumhuriyet, toplumda dil, din, ırk, cinsiyet ayrımını reddederek bütün vatandaşların eşit haklara sahip olması temeline dayanır.

**Yukarıdaki bilgiye göre Cumhuriyetçilik ilkesi aşağıdaki ilkelere hangisi ile birbirini tamamlar?**

- A) İnkılapçılık      B) Devletçilik  
C) Laiklik      C) Halkçılık

8. İzmir İktisat Kongresinde Yeni Türk Devletinin ekonomik bağımsızlığını sağlamak ve milli bir ekonomi modeli oluşturmak amacıyla aşağıdaki kararlar alınmıştır;

- Sanayi teşvik edilmelidir.
- Yabancıların kurduğu tekellerden kaçınılmalıdır.
- Milli bankalar kurulmalıdır.
- Hammaddesi yurt içinde bulunan sanayi dalları kurulmalıdır.

**Bu kararların amaçları arasında aşağıdakilerden hangisi yer almaz?**

- A) Yabancı sermayeyi yurt içine çekmek.  
B) Sanayi alanında kalkınmayı gerçekleştirmek.  
C) Milli bir ekonomi oluşturmak.  
D) Yerli üretimi gerçekleştirmek.

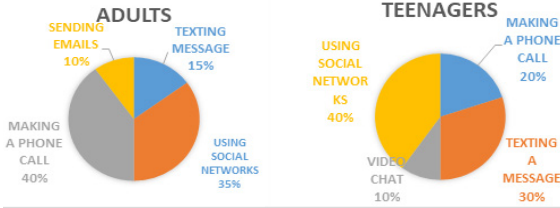
9. Cumhuriyet ve inkılaplara karşı olanlar Mustafa Kemal'e İzmir seyahati sırasında suikast düzenleyerek onu öldürmek istemişlerdir. Mustafa Kemal'in İzmir'e bir gün gecikme ile gitmesi suikat planının ortaya çıkmasını ve suikastın başarısızlıkla sonuçlanması sağlamıştır. Bu olay üzerine Mustafa Kemal "Benim naçiz vücudum elbet bir gün toprak olacaktır, fakat Türkiye Cumhuriyeti ilelebet payidar kalacaktır." demiştir.

**Yukarıdaki parçadan çıkarılabilecek yargı aşağıdakilerden hangisi olamaz?**

- A) Yeniliklere karşı bir kesimin olduğu  
B) Rejimin ortadan kaldırılmak istendiği  
C) İnkılapların, Mustafa Kemal'in kişiliğiyle sınırlı olmadığı  
D) Suikastçıların halk tarafından desteklendiği

1. Bu testte 10 soru vardır.
2. Cevaplarınızı, cevap kâğıdına işaretleyiniz.

1.



**Which of the option is false according to the graphics?**

- A) Teenagers prefer using video chat but adults prefer sending e-mails.
- B) Texting a message is more popular than making a phone call among adults.
- C) Most of the adults like making phone call.
- D) Using social networks is more popular than making a phone call among teenagers.

2. Kevin: Hello!

Mary: Hi! Mary is speaking.

Kevin: Is Mike there?

Mary: ..... I'll get her.

Sorry she is not available at the moment.

Kevin: Ok. I will call back later.

**Which of the following completes the dialogue?**

- A) It is a bad line.
- B) Can you spell it please.
- C) Can I leave a message.
- D) Hold on a moment please.

3.

1. See you later.

2. Hello! Jack is speaking.

3. Hi Jack! I will go to shopping mall. Do you want to come with me.

4. Ok. We will meet up later.

5. I'm sorry. I have an exam tomorrow so I have to study today.

**Put the sentences in correct order to make a dialogue.**

- A- 3 - 4 - 1 - 5 - 2
- B- 2 - 3 - 5 - 4 - 1
- C- 5 - 4 - 2 - 1 - 3
- D- 2 - 4 - 3 - 5 - 1

4.

David: Hello! This is David.

Amy: Hi! Amy is speaking.

David: Amy! I have two tickets for a rock concert tonight. Would you like to come with me?

Amy: Oh! I love rock concert. What time will we meet?

David: At 6 p.m. I will pick you up.

Amy: I can't hear you. It's a bad line. Can you repeat that please.

David: I will pick you up at six p.m.

Amy: Ok. See you.

David: See you.

**Which of the following is true?**

- A) David invites Amy to jazz concert.
- B) David will go to rock concert with his friends
- C) Amy doesn't like rock concert.
- D) David will pick her up at 6 p.m.

5.

Sophie is teenager. She spends her time on the phone too much. She makes phone calls with her friends, texts messages to them, uses social networks, plays games and takes photos. She hardly ever reads a book. She rarely studies her lessons. If her phone battery is empty, she gets angry easily. If there isn't any internet connection anywhere, she can be easily bored.

**According to the text which of the following is correct?**

- A) She is a phone addict.
- B) She is a hardworking student.
- C) She is a relaxed person.
- D) She always reads a book.





6. 1. Then peel the cucumbers and onions.  
2. Next, chop the vegetables and put them in a bowl.  
3. Lastly, stir the mixture and it is ready to serve.  
4. After that, sprinkle a pinch of salt, a teaspoon of olive oil and some parsley.  
5. Firstly, wash the cucumbers and tomatoes.

**Put that sentences in the correct order.**

- A) 5 – 2 – 1 – 4 – 3  
B) 3 – 2 – 1 – 5 – 4  
C) 5 – 1 – 2 – 4 – 3  
D) 5 – 3 – 1 – 4 – 2

7. Mom: Hey, Marie. Hurry up! I am preparing meatballs for the the dinner but I need your help.  
Marie: Here I am, mom. What do you need me to do?

Mom: Can you ..... the soup for five minutes?

Marie: Sure, mom. You can count on me with that.

**According to the text.....**

- A) Sprinkle  
B) Stir  
C) Spread  
D) Mix

8. A: .....?  
B: I like to fry it. Sometimes my mother says it is healthier to bake it without oil in the oven.

**According to the text.....**

- A) How do you like to cook potato?  
B) Do you like potato chips?  
C) How often do you eat chicken?  
D) What is your favourite food?

9. Cook: First, chop the chicken breast into pieces. Peel the potatoes and slice them. Add a teaspoon of salt, spice and tomato sauce. Now place the mixture in the oven. Get the heat up to 200 C and wait for 45 minutes. Your dinner is ready.

**Which way of cooking is preferred in the paragraph above?**

- A) Grilling  
B) Boiling  
C) Frying  
D) Roasting

10. • First of all, put some water into the pot  
• Then, boil the water.  
• Next, put a packet of pasta into the pot and add some salt. Wait for ten minutes.  
• After ten minutes, take the pasta out of the water and put it on a plate.  
• Finally, add some sauce and it is ready.

**Before you wait for the pasta to be ready in boiling water, what should you do?**

- A) Put some salt in the water  
B) Put the pasta on a plate  
C) Add some sauce  
D) Take the pasta out of the water





## DİN KÜLTÜRÜ VE AHLAK BİLGİSİ

Test 3

1. Bu testte 10 soru vardır.
2. Cevaplarınızı, cevap kâğıdına işaretleyiniz.

1. İnsanlık tarihi incelendiğinde, her dönemde ve her yerde inanan insan ve din gerçeği ile karşılaşılır. Arkeolojik kalıntılarda, tarihi kaynaklarda, ilahi kitap yazmalarında ve toplumların kültürlerinde dinî motiflerin varlığı yoğun olarak görülür.

**Yukarıda verilen bilgilere göre aşağıdakilerden hangisi kesin olarak çıkarılır?**

- A) Din ve toplum arasında süregelen bir ilişki olduğu
- B) Arkeolojik kalıntıların tarih açısından önemi
- C) Tarihi şekillendiren ana unsurun kültür olduğu
- D) Tarih boyunca arkeolojik çalışmaların olduğu

2. **Aşağıdakilerden hangisi dinin bireye ve topluma katkılarında biri değildir?**

- A) Din, Allah'a (c.c.) kulluk etmeyi ve insanlara saygılı olmayı öğretir.
- B) Din, toplumun birlik ve beraberlik içinde huzurlu bir yaşam sürdürmelerine katkı sağlar.
- C) Din, kişinin kendisini yalnız hissetmesine sebep olur.
- D) Din, insanlara, birbirlerine karşı hak ve görevlerini hatırlatarak daha mutlu bir sosyal çevrenin oluşmasını sağlar.

3. **Aşağıdaki ayetlerden hangisi din duygusunun doğuştan geldiğini ifade etmektedir?**

- A) “Yeri sizin için yerleşim alanı, göğü de bir bina kılan, size şekil verip de şeklinizi güzel yapan ve sizi temiz besinlerle rızıklandıran Allah'tır. İşte Allah sizin Rabbinizdir. Âlemlerin Rabbi Allah, yücelerden yücedir.”  
(Mü'min suresi, 64. ayet.)
- B) “Sen yüzünü hanif olarak dine, Allah insanları hangi fitrat üzere yaratmış ise ona çevir. Allah'ın yaratmasında bir değişme yoktur. İşte dosdoğru din budur fakat insanların çoğu bilmezler.”  
(Rûm suresi, 30. ayet.)
- C) “Allah sizi topraktan yarattı, sonra bir damla sudan”  
(Fatır suresi 11. Ayet)
- D) “... O halde sen de dini Allah'a has kılarak (ihlâs ile) kulluk et.”  
(Zümer suresi 2. Ayet)

4. İslam dinine göre, insan hayatını güzel ve mutlu bir şekilde devam ettirebilmesi için bazı temel haklara sahiptir.

**Aşağıdakilerden hangisi İslam'a göre korunması gereken temel haklar arasında sayılmamıştır?**

- A) Canın
- B) Dinin
- C) Aklın
- D) Dilin

5. “...Yiyin, için fakat israf etmeyin. Çünkü Allah israf edenleri sevmez.”( A'râf suresi, 31. ayet.)

**Yukarıdaki ayet dinin temel esaslarından hangisiyle ilgilidir?**

- A) Can
- B) Nesil
- C) Mal
- D) Ahlak



6. “Allah’ın koymuş olduğu sınırları gözetenler ile o sınırları çiğneyen kimseler, bir gemideki yolculara benzer. Onlar kendi aralarında kura çekip gemiyi paylaşmışlar ve kimilerine geminin üst tarafı, kimilerine de alt tarafı düşmüştü. Geminin alt kısmında bulunanlar, suya ihtiyaç duyduklarında, yukarıdakilerin yanına geliyorlar ve su ihtiyaçlarını oradan gideriyorlardı. Bir defasında kendi kendilerine, ‘Biz kendi payımıza düşen alt kısımda bir delik açsak da yukarıdakileri hiç rahatsız etmesek.’ dediler. Eğer yukarıdakiler, alttaki insanları istekleriyle baş başa bırakırlarsa, topluca helâk olurlar. Eğer onlara engel olurlarsa, hem kendileri hem de diğerleri kurtulur.” (Buhârî, Şirket, 6.)

**Yukarıdaki hadisten çıkartılmak istenen mesaj aşağıdakilerden hangisidir?**

- A) İnsanların kurtuluşu ve huzuru için kötü davranışlara karşı seyirci kalınmaması gerektiği  
B) Yardımlaşmanın önemli olduğu  
C) Geminin paylaşılmasının yanlış bir davranış olduğu  
D) İyi niyetli insanların kararlarına saygı gösterilmesi gerektiği

7. “Ey rabbim! Bana iktidar verdin ve bana rüyaların yorumunu da öğrettin. Ey gökleri ve yeri yaratan! Dünyada da âhirette de beni yönetip himaye eden sensin. Müslüman olarak canımı al ve beni iyi kulların arasına kat!” (Yûsuf suresi, 101. ayet.)

**Yukarıdaki ayetten hareketle;**

- I. Allah’ın dünya ve ahiret sahibi olduğu  
II. Allah’ın kudret sahibi olduğu  
III. Allah’ın herkesi iktidar sahibi yaptığı

**Yargılarından hangisine veya hangilerine ulaşılabilir?**

- A) Yalnız I.                      B) I ve II.                      C) II ve III.                      D) I, II ve III.

8. Hz. Yusuf güzel ahlakı, sevecenliği ve merhameti ile herkesin ilgisini çekiyordu. O, insanların yardımına koşar, büyüklerine saygıda kusur etmez, kimseye kaba davranmaz ve etrafındakilerin gönlünü hoş etmeye çabalardı. Bu sebeple kasaba halkı Yusuf’u (a.s.) çok severdi. Ayrıca güzel bir görünümü ve iyi bir hitabet yeteneği vardı.

**Yukarıdaki bilgilerden hareketle Hz. Yusuf için aşağıdakilerden hangisi söylenemez?**

- A) Güzel bir ahlaka ve görünümüne sahipti.                      B) İnsanlarla sade ve anlaşılır bir şekilde konuşurdu.  
C) İnsanlara yardım etmeyi severdi.                      D) Tüm bu özelliklerinden dolayı peygamber olmuştur.

9. “Bismillâhirrahmânirrahîm. Vel asr. İnnel insane le fi husr. İllellezine âmenû ve amilû’s sâlihâti ve ..... ve tevâsav bi’s sabr.”

**Yukarıda asr suresinin okunuşu verilmiştir. Boş bırakılan yere aşağıdakilerden hangisi gelmelidir?**

- A) tevâsav bi’l leyli                      B) tevâsav bi’l hakkı                      C) tevâsav bi’s samed                      D) tevâsav bi’s sıdk

**10. ASR SURESİNİN ANLAMİ**

“Rahman ve Rahim olan Allah’ın adıyla.

Andolsun zamana ki İnsan gerçekten ziyan içindedir. Ancak, iman edip de sâlih ameller işleyenler, birbirlerine hakkı tavsiye edenler, birbirlerine sabrı tavsiye edenler başka (onlar ziyanda değillerdir).”

**Yukarıdaki sureden hareketle aşağıdakilerden hangisi çıkarılamaz?**

- A) Samimi bir şekilde iman etmek                      B) Doğruluğu tavsiye etmek  
C) Salih amel işlemek                      D) İbadet yapanların ziyanda olduğu

TEST 3 CEVAP ANAHTARI(ORTAOKUL)

<b>TÜRKÇE</b>	<b>FEN BİLİMLERİ</b>	<b>MATEMATİK</b>	<b>SOSYAL BİLGİLER</b>	<b>DİN KÜLTÜRÜ</b>
1. C 2. C 3. C 4. C 5. C 6. D 7. A	1. A 2. C 3. B 4. A 5. D 6. B	1. B 2. A 3. B 4. D 5. A 6. A 7. D 8. C 9. D 10. C	1. C 2. D 3. D 4. D 5. C 6. D 7. C 8. A 9. D	1. A 2. C 3. B 4. D 5. C 6. A 7. B 8. D 9. B 10. D
<b>İNGİLİZCE</b> 1. B 2. D 3. B 4. D 5. A 6. C 7. B 8. A 9. D 10. A				

## MATEMATİK

## Test 4

1. Bu testte 10 soru vardır.
2. Cevaplarınızı, cevap kâğıdına işaretleyiniz.

1. Bir marangoz kenar uzunluğu  $b$  cm olan kare şeklindeki tahta parçasının her köşesinden  $a$  cm uzunluğunda kareler kesip çıkarıyor.

**Buna göre aşağıdakilerden hangisi yeni oluşan şeklin alanını veren ifadenin çarpanlarından biri değildir?**

- A)  $b^2 - 4a^2$  B)  $b - 2a$  C)  $b + 2a$  D)  $b^2 + 4a^2$

2. Bir kutuda 20 tane top bulunmaktadır. Büşra bu kutudan  $x$  tane, Burcu ise  $y$  tane top aldığı anda geriye 4 top kalmıştır.

**Büşra ile Burcu'nun kutudan aldıkları topların sayısının farkı 8 olduğuna  $x^2 - y^2$  ifadesinin sonucu kaçtır?**

- A)224 B)192 C)144 D)128

3. Kısa kenarı  $y$  cm, uzun kenarı  $x$  cm olan dikdörtgen şeklindeki tahta parçasının uç kısmına kenar uzunluğu  $y$  cm olan bir kare ekleniyor.

**Buna göre aşağıdakilerden hangisi yeni oluşan şeklin alanını veren cebirsel ifadenin özdeşliği değildir?**

- A)  $xy + y^2$   
 B)  $(x+y)^2 - x^2 - xy$   
 C)  $(x-y)^2 - x^2 + 3xy$   
 D)  $xy - y^2$

- 4.

Çanta	Kazak
Pantolon	Gömlek

Yasemin Hanım dolabında benzer kıyafetleri aynı yere koymaktadır.

Gömleklerin bulunduğu karesel bölgenin alanı  $49x^2$  çantaların bulunduğu karesel bölgenin alanı ise  $16y^2$ 'dir.

**Buna göre dolabın alanını veren cebirsel ifade aşağıdakilerden hangisidir?**

- A)  $49x^2 + 28xy + 16y^2$   
 B)  $49x^2 + 56xy + 16y^2$   
 C)  $49x^2 + 16y^2$   
 D)  $(49x^2 + 16y^2)^2$

5. Kısa kenarı  $a$  cm, uzun kenarı  $b$  cm olan bir A4 kağıdının kısa kenarı uzun kenarı üzerine gelecek şekilde katlanıyor.

**Katlama işleminden sonra oluşan dikdörtgenel bölgenin alanını veren cebirsel ifadenin çarpanlarından biri değildir?**

- A)  $a$  B)  $b - a$  C)  $a \cdot (b - a)$  D)  $a \cdot (b + a)$

6. Bir kütüphanede  $x^2$  tane kitap vardır. Her öğrencinin  $y$  tane kitap alma hakkı bulunmaktadır. Bu kütüphaneye gelen  $y$  tane öğrenci alabileceği en fazla sayıda kitabı almıştır.

Buna göre aşağıdakilerden hangisi kütüphanede kalan kitap sayısını veren ifadenin çarpanlarından değildir?

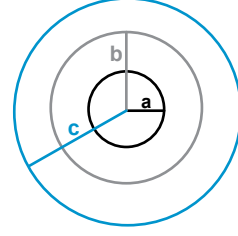
- A)  $x^2 - y^2$   
 B)  $x - y$   
 C)  $x + y$   
 D)  $x^2 - y$

7. Sude ile Buse bilgisayarda sırasıyla oyun oynamaktadırlar. İlk oyunu  $x$  dakika oynadıkları biliniyor. Diğer oynayacakları oyunları ise ilk oynadıkları sürenin iki katının dört eksiğinin karesi kadar oynayacaklardır.

Tüm oyun boyunca Sude bu oyunu 3 kez, Buse ise 2 kez oynadığına göre toplam kaç dakika oyun oynamışlardır?

- A)  $12x^2 - 46x + 48$   
 B)  $12x^2 - 23x + 48$   
 C)  $4x^2 - 23x + 48$   
 D)  $4x^2 - 46x + 48$

8. Yarıçapları içten dışa doğru birbirinin iki katı olan dairesel bloklardan aşağıdaki şekil elde edilmiştir.



Yarıçapı  $a$  cm olan küçük daire kesilip çıkarıldığında geriye kalan şeklin alanını veren ifade aşağıdakilerden hangisidir?

- A)  $5\pi a^2$   
 B)  $5\pi b^2$   
 C)  $5\pi c^2$   
 D)  $5\pi(c^2 - a^2)$

9. Ayşe, Betül, Cem ve Deniz isimli dört arkadaş yürüyüşe çıkmışlardır.

Ayşe  $3x$ , Betül ise  $4y$  metre yol yürümüşür.

- Cem Ayşe'nin ve Betül'ün yürüdükleri yolların karelerinin toplamı kadar yol yürümüşür.

- Deniz ise Ayşe'nin ve Betül'ün yürüdükleri yolların toplamının karesi kadar yol yürümüşür.

Buna göre Cem ve Deniz'in toplam yürüdükleri yolu veren ifade hangisidir?

- A)  $9x^2 + 24xy + 16y^2$   
 B)  $9x^2 + 48xy + 32y^2$   
 C)  $18x^2 + 24xy + 32y^2$   
 D)  $9x^2 + 48xy + 16y^2$

10.  $4x^2 - 16 = A \cdot B$   
 $6x^2 + 12x = A \cdot C$

ise  $C \cdot B$  işleminin sonucu aşağıdakilerden hangisidir?

- A)  $6x^2 + 4$   
 B)  $6x^2 - 4$   
 C)  $6x^2 + 12x$   
 D)  $6x^2 - 12x$

1. Bu testte 10 soru vardır.
2. Cevaplarınızı, cevap kâğıdına işaretleyiniz.

1.	Çöl ikliminde yaşayan develerin uzun kirpiklerinin olması, hörgüçlerinde yağ depolaması ve kulaklarının kıllı olması.	Sıcak bölgelerde yaşayan memeli ve kuşların, soğuk bölgelerde yaşayan türlerine göre daha iri vücutlu olmaları
	Çuha bitkisi 25-35 °C'lik sıcaklıkta beyaz çiçek, 15-25 °C'lik sıcaklıkta kırmızı çiçek açması.	Nemli bölgelerde yaşayan bitkilerin terlemeyi arttırmak için geniş yapraklı olmaları.
	Köpek balıklarının sırt ve karın bölgesinin renginin farklı olması, suyun üst ve alt kısmında görünmesini zorlaştırır ve avlanmayı kolaylaştırır.	Aynı özellikteki (genotipteki) iki bitkiden ışıklı ortamda bulunan iyi gelişir, karanlık ortamda bulunan az gelişir veya ölür.

Yukarıdaki tabloda mutasyon, adaptasyon ve modifikasyon olaylarına örnekler verilmiştir. Buna göre, adaptasyona örnek olan kutular boyandığında hangisi gibi olur?

A) B) C) D)

2. Selami, evde çay içerken yanlışlıkla bardaktan tabağa çay dökmüştür. Bir süre sonra çay bardağını kaldırıp dökülen çayı tabaktan temizlemek istediğinde çay bardağının tabakla beraber kalktığını ve birbirine yapıştığını görmüştür.

**Bu durumun sebebi aşağıdakilerden hangisi olabilir?**

- A) Açık hava basıncı
- B) Sıvı basıncı
- C) Katı basıncı
- D) Kapalı kaptaki basınç

3. Gamze ve Ömer'e öğretmenleri 100'er ml saf su vermiştir. Gamze en kısa Ömer ise en uzun kabi seçip, saf sularını içlerine koymuştur. Öğretmenleri iki kaptaki basıncında eşit olduğunu söylemiştir.

**Buna göre kaplardaki basınçların eşit olmasının temel sebebi nedir?**

- A) Sıvı basıncı, sıvının miktarına bağlı değildir.
- B) Sıvı basıncı, yoğunluk ile ters orantılıdır.
- C) Sıvılar, uygulanan basıncı her yöne eşit olarak iletir.
- D) Sıvı basıncı, kabın şekline bağlı değildir.



4. Elma soymaya çalışan Demet, daha kolay soyabilmek için bıçağın elmayı kesen kısmını bileme taşı kullanarak keskin hale getiriyor. Daha sonra elmayı rahat bir şekilde soyuyor.

**Buna göre Demet'in elmayı rahat bir şekilde soyması aşağıdakilerden hangisi ile ilgilidir?**

- A) Gaz basıncı  
B) Katı basıncı  
C) Ağırlık  
D) İtme kuvveti

5.

**Aşağıdaki ifadelerden hangisi hatalıdır?**

- A) Biyoteknoloji,genetik mühendisliğinin alt dalıdır.  
B) Genetik mühendisliği araştırma çalışmaları yapar.  
C) Biyoteknoloji üretime yöneliktir.  
D) Genetik mühendisliği çalışmaları aynı zamanda Biyoteknolojik çalışmalar içerir.

6. Ayşe aşağıdaki tabloda biyoteknolojinin yararlarını anlatan cümlelerin başına "Y", Zararlarını anlatan cümlelerin başına "Z" koymuştur.

**Ayşe hangi cümlede hata yapmıştır?**

Y	1- Sebze ve meyvenin raf ömrünü uzatır.
Z	Biyolojik silah yapımında kullanılır.
Y	3- Canlılarda mustasyona neden olur
Y	4- Yapay doku ve organ üretilir.

- A) 1.      B) 2.      C) 3.      D) 4.

7. Fen Bilimleri öğretmeni Zehra hanım "2060 yılında biyoteknolojik çalışmalar neler olabilir?" diye sormuştur.

**Hangi öğrencinin verdiği cevap yanlıştır?**

- A) Ali: Canlının hasar görmüş organı yenisi ile değiştirilecek.  
B) Kuzey: Anne ve babalar istedikleri özellikte bebeklere sahip olacak  
C) Derin: İnsanlar geri dönüşüme önem verecek.  
D) Eda: Yapay yeni türler elde edilecek.

8. Cansu'nun babası "Benim mesleğim sayesinde hastalıkların tanı ve tedavisi kolaylaşacak,yapay doku ve organlar üretilecek,sebze meyvenin raf ömrü uzayacak." Şeklinde açıklama yapmıştır.

**Buna göre Cansu'nun babasının mesleği aşağıdakilerden hangisi olabilir?**

- A) Fizyoterapist      B) Genetik mühendisi  
C) Öğretmen      D) Laborant

9. Basınç, günlük yaşamda ve teknolojideki uygulamalarda sıklıkla yararlandığımız bir kuvvettir.

**Aşağıdakilerden hangisi basıncın günlük yaşamda kullanımına örnek değildir?**

- A) Otomobillerin fren sistemi  
B) Şırınganın içerisine sıvı çekilmesi  
C) Araçların çamurdan çıkması  
D) Pipet ile meyve suyunun içilmesi

10. Deniz Konya'dan okul gezisiyle Ilgaz Dağına kayak yapmaya gitmiştir. Dağa geldiklerinde ise Deniz'in burnu kanamıştır.

**Denizin burnunun kanamasının sebebi nedir?**

- A) Açık hava basıncı  
B) Havanın soğuk olması  
C) Katı basıncı  
D) Sıvı basıncı

1. Bu testte 7 soru vardır.
2. Cevaplarınızı, cevap kâğıdına işaretleyiniz.

1.

Sevgili Misafirler,

Aşağıdaki yönlendirmeleri dikkate alarak yandaki cümlenin tablosunu çizer misiniz?

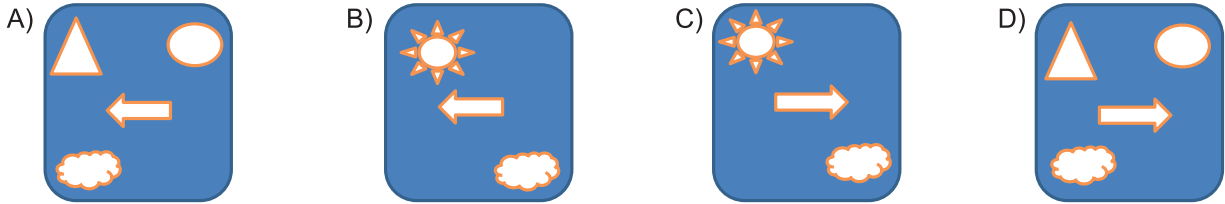
- Yüklem sonda ise tuvalin sağ alt köşesine; değilse sol alt köşeye bir bulut çizersiniz.
- Özne varsa sağ tarafı gösteren ok; yoksa sol tarafı gösteren ok çizersiniz.
- Nesne varsa yuvarlak çizersiniz.
- Tümleç varsa güneş; yoksa üçgen çizersiniz.

Bir millet sanattan ve sanatkârdan mahrumsa tam bir hayata sahip olamaz.



Bir ressam kişisel sergisinde sanatseverlerle etkileşimli bir soyut resim yapmak istemektedir. Sanatçı, boş bir tuvalin yanına bir yönerge koymuş ve misafirlerin eserlerini meydana getirmelerini istemiştir.

**Yönergeye göre etkinlik bittiğinde hangi çizim ortaya çıkar?**



2.

GÜNLER	FİZİKSEL ETKİNLİK	SÜRE (dakika)	KALORİ (KCal)
Pazartesi	Kol Çekme (Barfiks)	10	90
Salı	Yürüyüş	60	250
Çarşamba	İp Atlama	60	600
Perşembe	Yüzme	60	500
Cuma	Ağırlık Kaldırma	30	200
Cumartesi	Koşu	10	120
Pazar	Bisiklet	60	400
<b>TOPLAM</b>	<b>+++++++</b>	<b>290</b>	<b>2160</b>

Yukarıdaki çizelge bir spor salonunun kilo vermek isteyen yeni üyeler için hazırlamış olduğu broşürden alınmıştır.

**Buna göre aşağıdaki ifadelerden hangisi yanlıştır?**

- A) Programı düzenli bir şekilde takip eden üye kilo vermeye başlayacaktır.
- B) Bütün etkinlikleri altmışar dakika yapan bir üye en çok kaloriyi koşu etkinliğinde yakar.
- C) Pazartesi ve cumartesi günleri aynı sürede egzersiz yapan üyenin cumartesi daha çok kalori yakması beklenir.
- D) Pazar ve cuma günü etkinliklerinde yakılan toplam kalori değeri, ip atlama etkinliğinin kalori değeriyle eşdeğerdir.

**(3 ve 4. soruları yukarıdaki metne göre cevaplayınız.)**

Türk müziğinde önemli bir yeri bulunan ve milyonların sevdiği bir isim olan Barış Manço, Türk müziği'ne yaptığı eşsiz katkılarla efsaneye dönüşen şarkıları ve hala genç nesle yol gösteren sözleriyle anılıyor. Barış Manço şarkılarında sevgi ve kardeşliği işlemiş, evrensel mesajlar vermiştir. Bunun yanında atasözleri ve deyimleri şarkılarına taşıyarak Türk dilinin inceliklerine katkıda bulunmuştur.

**3. Yukarıda verilen bilgilere göre aşağıdakilerden hangisi Barış Manço'nun şarkılarına örnek gösterilemez?**

- A) Kara haber tez duyulur, unutsun beni demişsin, Bende kalan resimleri mektupları istemişsin.
- B) Bir dünya ki temelinin her taşında yalan var Dışı parlak içi boş, yeminler neye yarar
- C) Nasıl anlatsam bilemiyorum, gözlerim kararıyor Tepetaklak oldu dünya tersine sanki
- D) Yaz dostum öksüz görsen sar kanadın kolunu Yaz dostum kimse geçmez bu dünyadan mal ile

**4. Yukarıdaki paragrafta altı çizili cümle ile ilgili hangisi söylenebilir?**

- A) Yüklemine göre kurallı bir isim cümlesidir.
- B) İçerisinde birden fazla türde fiilimsi bulunur.
- C) İçerisinde fiilimsi bulunan tek yüklemlilik cümledir.
- D) Bağlaçla bağlanmış fiil cümlesidir.

6. 1. Gerçek Özne: Cümlede eylemi yapanın kesin olarak belli olduğu ögedir.  
2. Sözde Özne: Öznesi olmayan bir cümlede özne görevini yüklenen ögedir.

**Yukarıda verilen bilgilerden yola çıkarak aşağıdaki cümlelerin hangisinde diğerlerinden farklı bir özne kullanılmıştır?**

- A) Adam, başından geçenleri bir bir anlattı.
- B) Futbolcu, kırmızı kartla oyundan atıldı.
- C) Çaylar güzelce bardaklara koyuldu.
- D) Sokaklar temiz olsun diye çöpler toplatıldı.

7. Onunla birlikte sanki gökyüzü de ağlıyordu. Bu acının tarifi olamazdı. Toprak yas tutmuş, nehir akmayı bırakmış, ağaçlar yapraklarına küsmüştü. En sevdiği varlık olan "annesi" bir melek olup ellerinin arasından uçup gitmişti. Bu koca dünyada artık yalnızdı. Onun yanında sadece sevimli bulutu ve yüzüne gülen yalnızlığı kalmıştı. Hayat sert bakışlarını bir kez daha üstüne dikmişti.

**Metinle ilgili hangisi doğru bir yorum değildir?**

- A) Karşılaştırmacı anlatım tercih edilmiştir.
- B) Duyular arası aktarımı yapılmıştır.
- C) Benzetmelere yer verilmiştir.
- D) İnsana özgü bir özellik başka bir varlığa verilmiştir.

5. Kan çanağına dönmüş gözleriyle izliyordu gecenin karanlığını. Doğacak güneşin yalnız yeryüzündeki kötülükleri açığa çıkaracağını düşünüyordu. Camın buğusuna yazacak bir hayali yoktu. Ayakları artık ileri adım atmak için bir istek duymuyordu. Yüzündeki çizgiler hayatın sabıklarının çentikleriydi. Dünyanın kıymıklarını mücevher yapmıştı ve içinde kabaran yanardağı sönmek bilmiyordu.

**Aşağıdakilerden hangisi yazarın yukarıda yansıttığı duyguyla örtüşmez?**

- A) Vazgeçtim bu dünyadan tek ölüm paklar beni, Değmez bu yangın yeri, avuç açmaya değmez. Değil mi ki çiğnenmiş inancın en seçkini...
- B) ...Ve güz geldi Ömür hanım. Dünya aydınlık sabahlarını yitiriyor usul usul. İnsanın içini karartan bulutların seferi var göğün maviliğinde. Yağmur ha yağdı ha yağacak. İncecik bir çisenti yokluyor boşluğunu insan yüreğinin. Hüznün bütün koşulları hazır.
- C) Biliyorum, kolay değil yaşamak; Ama işte bir ölünün hala yatağı sıcak, Birinin saati işliyor kolunda. Yaşamak kolay değil ya kardeşler, Ölmek de değil; Kolay değil bu dünyadan ayrılmak.
- D) Ah, kimselerin vakti yok Durup ince şeyleri anlamaya Kalın fırçalarını kullanarak geçiyorlar Evler çocuklar mezarlar çizerek dünyaya.

## T.C. İNKILAP TARİHİ VE ATATÜRKÇÜLÜK

Test 4

1. Bu testte 9 soru vardır.
2. Cevaplarınızı, cevap kâğıdına işaretleyiniz.

1. "Bilelim ki kazandığımız zafer milletin kuvvetlerini birleştirmesinden ileri gelmiştir. Eğer aynı zaferleri ilerde de kazanmak istiyorsak aynı esasa dayanalım, aynı yolda yürüyelim."

**M.Kemal bu sözüyle elde edilen zaferlerin devam etmesi için aşağıdakilerden hangisinin önemini vurgulamıştır?**

- A) Milli birlik ve beraberlik
- B) Ulusal ekonomi
- C) Çağdaşlaşma
- D) Çok partili yaşam

2. Atatürkçülük sadece bir dönemi kapsayan bir düşünce değildir. Atatürkçülük dönemin koşullarına göre kendini geliştirebilen ve yenileyebilen bir sistemdir. Atatürkçülük sürekli gelişmeyi öngörür.

**Verilen bilgiye göre Atatürkçülüğün aşağıdaki özelliklerden hangisine sahip olduğu söylenebilir?**

- A) Dinamik bir yapıya sahiptir
- B) Evrensel bir özellik taşıır.
- C) Temeli Türk kültürüdür.
- D) Bütünleyici bir düşüncedir.

3. Atatürk döneminde Milli egemenlik ilkesine tam anlamıyla yerleştirmek için çok partili hayata geçiş denemeleri yapılmıştır. 1924'te Kazım Karabekir'in öncülüğünde Terakkiperver Cumhuriyet Fırkası, 1930 yılında ise Fethi Okyar öncülüğünde Serbest Cumhuriyet Fırkası kurulmuştur.

**Aşağıdakilerden hangisi verilen faaliyetlerin amaçları arasında yer almaz?**

- A) Milli iradeyi güçlendirmek
- B) Demokrasiyi geliştirmek
- C) TBMM'de farklı görüşleri ortaya çıkarmak
- D) Kişi egemenliğini sağlamak

4. Şeyh Sait Türkiye'de Cumhuriyet yönetimini ortadan kaldırıp saltanat ve hilafeti geri getirmek için ortaya çıkan bir isyan hareketidir. Fakat bu isyan Türkiye'nin bir iç sorunu iken dış politikada da bazı olumsuzlukların ortaya çıkmasına sebep olmuştur.

**Buna göre aşağıdakilerden hangisi dış politikanın bu isyandan olumsuz etkilendiğini kanıt?**

- A) Terakkiperver Cumhuriyet Fırkasının kapanması
- B) Çok partili hayata geçiş denemesinin başarısız olması
- C) Musul'un Irak'a bırakılması
- D) Hükümet değişikliğinin yaşanması

DÜZCE İL MİLLİ EĞİTİM MÜDÜRLÜĞÜ

5. 1936 yılında imzalanan Montrö Boğazlar Sözleşmesine göre;
  - Boğazlar komisyonu kaldırıldı ve boğazların yönetimi Türkiye'ye bırakıldı
  - Türkiye boğazları silahlandırma hakkına sahip oldu
  - Türkiye savaşa girer veya savaş tehlikesi ile karşılaşırca boğazları istediği gibi açıp kapatabilme yetkisine sahip oldu.

**Bu kararlara göre;**

- I. Türkiye herhangi bir savaş tehlikesine karşı önlem almış
- II. Boğazlardan geçişin Türkiye'yi tehdit etmesinin önüne geçilmiş
- III. Türkiye'nin boğazlar üzerindeki hakimiyeti artmış
- IV. Türkiye yeni bir savaşa hazırlanmış

**yargılarından hangilerine ulaşılabilir?**

- A) Yalnız I
- B) I,II ve IV
- C) I,II ve III
- D) Yalnız IV

6. "Kubilay'ın şehit edilmesinde gericilerin gösterdiği vahşilik karşısında Menemen'deki halktan bazılarının alkışla onaylamaları bütün cumhuriyetçi ve vatanseverler için utanılacak bir olaydır...  
Büyük ordunun kahraman genç subayı ve cumhuriyetin idealist öğretmenler topluluğunun değerli üyesi Kubilay'ın temiz kanı ile cumhuriyet, hayatını tazelemiş ve kuvvetlendirmiş olacaktır."

**Mustafa Kemal'in bu vecizesinden Menemen olayı için aşağıdakilerden hangisi söylenemez?**

- A) İnkılaplar bir süreliğine durmuştur.  
B) Cumhuriyeti ortadan kaldırmaya yöneliktir.  
C) İsyana bazı kişiler tarafından desteklenmiştir.  
D) Cumhuriyeti ve inkılapları güçlendirmiştir.

7. **Ulusal bağımsızlığımızı sağlamaya yönelik olan Mısak-ı Milli'de yer alan "Azınlık hakları komşu memleketlerdeki Müslüman halklara verilen haklar kadar olacaktır." maddesi , Türk dış politikası ilkelerinden hangisiyle örtüşmektedir?**

- A) Akılcı  
B) Gerçekçi  
C) Barışçı  
D) Mütakabiliyet

8. - Türkiye'nin Irak petrol gelirlerinden 25 yıl süreyle %10 pay alması kararlaştırılmış.  
- " Kırk asırlık Türk yurdu düşman elinde esir kalamaz."  
- Yerleşme tarihleri ve doğum yerlerine bakılmadan İstanbul Rumları ile Batı Trakya Türklerinin hepsi etaplı kapsamına alınacak.

**Yukarıdakilere bakıldığında yeni Türk Devleti'nin dış politikadaki sorunlarından hangisiyle ilgili bilgi verilmemiştir?**

- A) Hatay Sorunu  
B) Musul Sorunu  
C) Boğazlar Sorunu  
D) Nüfus Mübadelesi

8. Mustafa Kemal'in dünyaya geldiği Selanik şehri, çeşitli milletleri bünyesinde barındıran, çok kültürlü yapıya sahip, liman ve demiryolu ile dünyanın farklı yerlerine bağlantılı bir Osmanlı şehridir.

**Verilen bilgilere göre Selanik şehri için;**

- I- Birden fazla milletlerin bir arada bulunduğu  
II- Zengin bir kültürel yapıya sahip olduğu  
III- Ticaret ve ulaşım yönünden geliştiği  
IV- Osmanlı'nın en modern şehri olduğu

**çıkartımlarından hangilerine ulaşılır?**

- A) I, II ve IV  
B) I, II ve III  
C) Yalnız III  
D) II ve IV

9. Fransız İhtilali ile ortaya çıkan Milliyetçilik akımı çok uluslu yapıya sahip olan Osmanlı Devleti'ni olumsuz etkilemiştir. Osmanlı Devleti içinde yaşayan bazı aydınlar, devleti bu durumdan kurtarmak için bazı fikir akımları ileri sürmüşlerdir bunlar:

- Bu fikir akımına göre Osmanlı Devleti'nde yaşayan Türkler bir araya getirilmeli Türklük bilinci geliştirilmelidir.

- Bu fikir akımına göre bütün Müslümanlar birlik içinde tutulmalıdır.

**Yukarıda açıklaması verilen fikir akımları aşağıdaki seçeneklerden hangisinde doğru eşleştirilmiştir?**

- |                 | I            | II           |
|-----------------|--------------|--------------|
| A) Osmanlıcılık | İslamcılık   | İslamcılık   |
| B) Turancılık   | İslamcılık   | Turancılık   |
| C) Osmanlıcılık | Turancılık   | Osmanlıcılık |
| D) İslamcılık   | Osmanlıcılık | Osmanlıcılık |



1. Bu testte 9 soru vardır.
2. Cevaplarınızı, cevap kâğıdına işaretleyiniz.

1.



I have accounts on some social networking sites but .....

**Choose the correct option to complete the sentences.**

- A) I'll type my username and password to sign in.
- B) I like spending time on these sites.
- C) I don't like making comments on my friend's posts.
- D) I can download many things.

2.

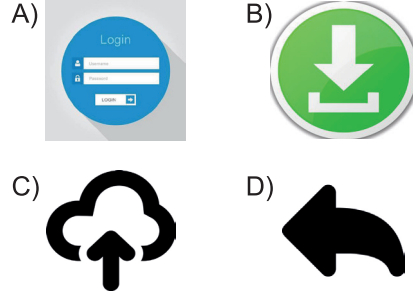


**James:** .....

**Karen:** 4 or 5 hours. I usually chat my friends online. **James:** It's a lot. You're an Internet addict! You should spend less time on the Internet. **Choose the correct option to complete the dialogue?**

- A) How do you connect with your friends?
- B) How many hours do you use the Internet in a day?
- C) What do you do on the Internet?
- D) Who does online shopping in your family?

3. Which of the followings shows "download" symbol?

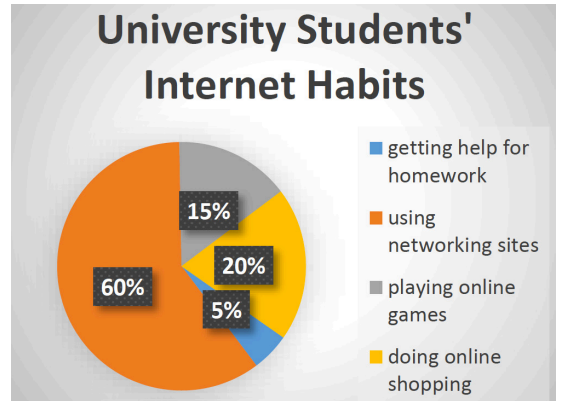


4. **Henry:** I am interested in sky sports. Especially sky diving is my favorite one.  
**Soha:** I don't agree with you. I dislike extreme sports. I think they are ridiculous.  
**Rachel:** I admire to adrenalin seekers, but I want to be safe.  
**Gale:** Adrenalin means everything to me. I can't breathe without extreme sports.

**According to the dialogue above who are the adventurous people?**

- A) Henry&Rachel
- B) Rachel&Gale
- C) Henry&Gale
- D) Soha&Gale

5.



**Which of the followings is not true according to the chart?**

- A) Half of the students play online games.
- B) More than half of the students use social networking sites.
- C) Less than % 25 of the students do online
- D) Nearly any of the students use the Internet for their homework.



6. **Reporter:** What do you usually do on the Internet?

**Jessy:** I love cooking. I usually use the Internet to look for new recipes.

**Tom:** I often send e-mails to my friends.

**Martin:** I usually connect to the Internet to do online shopping.

**Jason:** I check the notifications, share photos, write comments on my friends' posts and send messages to them.

Which of the followings isn't mentioned above?

- A)  B) 
- C)  D) 

7.



**Lily:** I can't search on the Internet.

**Mert:** .....

**Lily:** I mean the Internet isn't working properly.













**Mert:** I think we should get help from the service.

Choose the correct option to complete the dialogue.

- A) Would you like to join our Whatsapp group?  
 B) How do you connect the Internet?  
 C) How often do you use the Internet?  
 D) What do you mean?

8.

Katya, Sandra and Paul are best friends. They tried different extreme sports on their vacations.

	Katya	Sandra	Paul
			
			
			

According to informations above which of the following is CORRECT?

- A) Sandra and Paul experienced skiing and rafting.  
 B) Katya tried just scuba diving.  
 C) Sandra and Paul didn't experience scuba diving and rafting.  
 D) Sandra went to both skiing and rafting.

9.



There is no information about the...

- A) Date  
 B) Location  
 C) Participants  
 D) Price

## DİN KÜLTÜRÜ

## Test 4

1. Bu testte 10 soru vardır.
2. Cevaplarınızı, cevap kâğıdına işaretleyiniz.

1. I ) Sabır  
II) Dürüstlük  
III) Güvenilirlik  
IV) Cesaret

**Hz. Muhammed, yaşadığı toplumda El-Emin olarak anılmıştır. Peygamberimizin El-Emin olarak anılmasının yukarıdaki kavramlardan hangileriyle ilgilidir?**

- A) Yalnız I                      B) II ve III                      C) I ve III                      D) III ve IV

2. Okula gelirken sokakta gördüğü yavru köpeklere beslenmesindeki sütü veren Merve, okula geç kalmıştır. Öğretmeni geç kalmasının sebebini sorduğunda başından geçenleri olduğu gibi anlatmıştır.

**Merve'nin öğretmene başından geçenleri olduğu gibi anlatırken peygamberimizin hangi kişilik özelliğini örnek almıştır?**

- A) Yardımseverlik                      B) Cesaret                      C) Sabır                      D) Dürüstlük

3. • Sana bir şey emanet eden kişiye emanetini (hakkıyla koruyarak) iade et. Sana hainlik edene sen hainlik et me. **(Tirmizî, Büyü', 38; Ebû Dâvûd, Büyü', İcâre, 79)**  
• Müslüman, Müslümanın kardeşidir. Ona hainlik yapmaz, ona yalan söylemez, onu zor durumda yüzüstü bırakmaz. **(Tirmizî, Bîrr,18)**

**Bu hadisleri hayatında dikkate alan bir kişi,**

- I . Kendisine emanet edilen şeyleri hakkıyla korur ve olduğu gibi teslim eder.  
II . Kendisine bir sır verildiğinde başkalarına söyler.  
III . Şaka yapmak için yalana başvurur.  
IV. Çevresindeki herkese karşı dürüst olur.

**davranışlarından hangisini ya da hangilerini uygular?**

- A) I ve III                      B) Yalnız II                      C) II ve IV                      D) I ve IV

4. Peygamberimizin bir gün rast geldiği bir deveyi açlıktan karnı sırtına yapışmış bir halde görünce dayanamamış ve şu uyarıda bulunmuştur. “ Bu dilsiz hayvanların haklarını verme hususunda Allahtan korkun”

**Verilen bilgiler Peygamberimizin hangi kişilik özellikleriyle ilgilidir?**

- A) Kararlı oluşu                      B) Güvenilir oluşu  
C) Sabırlı oluşu                      D) Merhametli oluşu

5. **Aşağıdaki hadislerden hangisi Peygamberimizin merhametli ve affedici oluşuyla ilgili değildir?**

- A) “Bir kimse yumuşak davranmaktan mahrumsa hayırdan da mahrumdur” **(Müslim, Bîrr ve Sıla 76)**  
B) “Allah affeden bir kulunun ancak şerefini arttırır” **(Müslüm, Bîrr 69)**  
C) “Düşmanlığı sürdürmen sana günah olarak yeter” **(Tirmizî, Bîrr 58)**  
D) “Birbirinizi (ölçsüz bir şekilde) methetmeyin zira bu durum öldürmek gibidir. **(İbn Mace, Edep, 36)**

6.	ÖRNEK DAVRANIŞLAR	PEYGAMBERİMİZİN KİŞİLİK ÖZELLİKLERİ
	Kapımızın önüne sokak hayvanları için bir kap su bırakmak	-İstişare etmek
	Arkadaşımızın bir emanetini koruyup ona teslim etmek	-Merhametli olmak
	Sınıfça alacağımız bir karada herkesin fikrinin sorulması	-Cesaretli olmak
		-Güvenilir olmak

**Yukarıdaki örnek davranışlar Peygamberimizin kişilik özellikleriyle eşleştirildiğine hangi kişilik özelliği dışarda kalır?**

- A) Cesaretli olmak      B) Güvenilir olmak      C) Merhametli olmak      D) İstişare etmek
7. Peygamberimizin ailesinde bir karar alınacakken aile bireylerinin düşüncelerini dinlenir, ortak bir karar alınırdı. Bu Peygamberimizin ..... verdiği önemi gösterir.
- Yukarıdaki boş bırakılan yere aşağıdakilerden hangisi gelmelidir?**
- A) Sabırlı olmak      B) Merhametli olmak      C) İstişare etmek      D) Adil olmak
8. Ebu Hureyre, "Peygamberimizden daha çok istişare eden bir kimse görmedim" demiştir. **(Tirmizî, Cihad 34)**
- Peygamberimiz bu davranışıyla aşağıdakilerden hangisini amaçlamış olamaz?**
- A) Farklı bakış açısı kazanmak.      B) Bazı konularda kolayca kaçmak.  
C) Hata yapma ihtimalini azaltmak.      D) Birlik olma bilinci kazanmak.
9. Birtakım insanlar onlara " İnsanlar size karşı asker toplamışlar, onlardan korkun" dediler de bu, onların imanlarını arttırdı ve "Allah bize yeter, O ne güzel vekildir!" diye cevap verdiler.
- (Âl-i İmrân Suresi - 173. Ayet)**
- Yukarıda verilen ayet peygamberimizin hangi kişilik özelliğiyle ilgilidir?**
- A) Merhametli oluşu      B) Cesaretli oluşu      C) İstişareye önem vermesi      D) Affedici oluşu
10. Peygamber, "Bir kişide bulunan huyların en kötüsü aşırı cimrilik ve şiddetli korkaklıktır." buyurmuştur.
- (Ebu Davut, Cihad, 21)**
- Aşağıdaki olaylardan hangisi bu hadis doğrultusunda örnek gösterilemez?**
- A) Kâbe'nin tamirâtı sırasında Hacerü'l Esved taşını yerine koyma konusundaki tartışmada Peygamberimiz hakem seçilmiştir.  
B) Uhud savaşında korkuya düşen ve dağılan orduya "korkmayın, ben buradayım" diyerek orduyu toparlamıştır.  
C) Bedir savaşında müşriklerin Müslümanlardan sayıca fazla olmasına karşı cesaretle savaşmıştır.  
D) Yardım isteyen muhtaca "Yanımda sana verebileceğim bir şey yok, git benim nâmıma satın al, mal geldiğinde öderim."

TEST 4 CEVAP ANAHTARI(ORTAOKUL)

<b>TÜRKÇE</b>	<b>FEN BİLİMLERİ</b>	<b>MATEMATİK</b>	<b>SOSYAL BİLGİLER</b>	<b>DİN KÜLTÜRÜ</b>
1. C 2. A 3. B 4. C 5. C 6. C 7. A	1. A 2. A 3. D 4. B 5. A 6. C 7. C 8. B 9. C 10. A	1. D 2. D 3. D 4. B 5. D 6. D 7. A 8. A 9. C 10. D	1. A 2. A 3. D 4. C 5. C 6. A 7. D 8. C 9. B 10. B	1. B 2. D 3. D 4. D 5. D 6. A 7. C 8. B 9. B 10. A
<b>İNGİLİZCE</b> 1. C 2. B 3. B 4. C 5. A 6. A 7. D 8. D 9. C				