

1. $2a + 6$ cebirsel ifadesine uygun sözel ifade aşağıdakilerden hangisi olabilir?

- A) Kitaplıkta bulunan kitapların sayısının 2 katının 6 eksiği
B) Ali'nin parasının 6 fazlasının 2 katı
C) Bir ürünün satış fiyatı üzerinden yapılan 6 TL'lik indirimli fiyatı
D) Bir sayının 3 fazlasının 2 katı

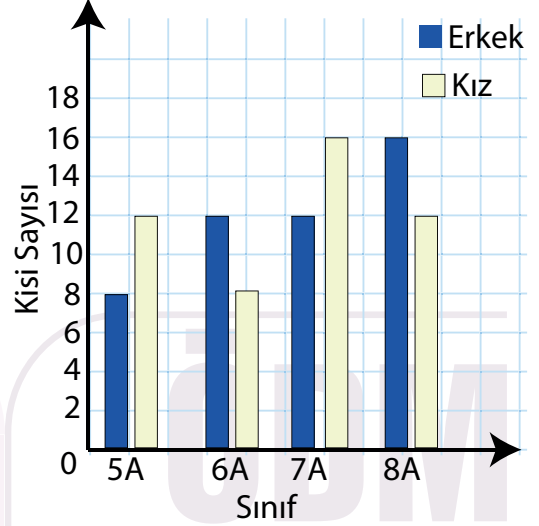
2. Aşağıdakilerden hangisinin değeri 4 olması durumunda, x değişkeninin değeri bir doğal sayı değildir?

- A) $\frac{x+1}{7}$ B) $x+3$ C) $3x-6$ D) $\frac{x}{2}-2$

3. Aşağıdaki cebirsel ifadelerden hangisinin sözel ifadesi yanlıştır?

- A) $3x$; Kalemlerin sayısının üç katı
B) $\frac{x}{2} + 3$; Harçlığımın yarısının 3 TL fazlası
C) $2x + 1$; Bir sayının bir fazlasının iki katı
D) $x - 5$; Cevizlerimin sayısının beş eksiği

4. Aşağıda ikili sütun grafiğinde Mehmetçik Ortaokulunda bulunan öğrencilerin sınıflara göre kız ve erkek öğrenci sayıları verilmiştir.



Grafiğe uygun sıklık tablosu aşağıdakilerden hangisidir?

A)

	ERKEK	KIZ
5-A	8	12
6-A	12	8
7-A	12	16
8-A	16	12

B)

	ERKEK	KIZ
5-A	8	12
6-A	12	8
7-A	12	16
8-A	16	8

C)

	ERKEK	KIZ
5-A	8	12
6-A	12	8
7-A	16	16
8-A	16	12

D)

	ERKEK	KIZ
5-A	8	12
6-A	8	8
7-A	12	16
8-A	16	12

5. 70,75,80,72,76,★
Sayı dizisinin açıklığı 13 tür. ★ yerine gelebilecek en büyük sayı ile en küçük sayı arasındaki fark kaçtır?

A) 13 B) 16 C) 67 D) 83

6. 9,11,14,13,19,25,A
Sayıların aritmetik ortalaması ve açıklık değeri birbirine eşittir. A'nın değeri açıklığı etkilememektedir.
Buna göre A kaçtır?

A) 14 B) 21 C) 28 D) 35

- 7.
- İsmail: En çok sevdiğiniz spor dalı hangisidir?
 - Erdem: Olası bir deprem anında yapılması gereken durumlarla ilgili bir eğitim aldınız mı?
 - Burçin: Doğayı korumak için neler yapmamalıyız?
 - Mehmet : Okul kıyafeti olarak üniforma mı yoksa serbest kıyafet mi tercih edersiniz?

Yukarıdaki kişilerden hangisinin sorduğu soru iki veri grubunu karşılaştırmaya yöneliktir?

A) İsmail B) Erdem C) Burçin D) Mehmet

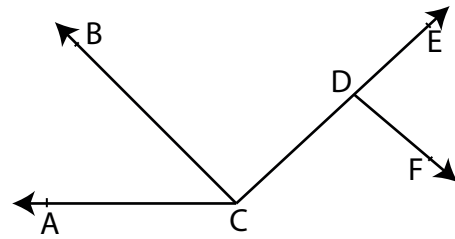
8. Üç arkadaşın ağırlıkları sırasıyla 52 kg, 61 kg ve 73 kg olarak verilmiştir.

Bu üç arkadaş aynı anda en fazla 250 kg yük taşıyabilen bir asansöre biniyor. Asansörün kapısı tam kapanırken bir kişi daha asansöre biniyor.

Asansörün uyarı vermemesi için son anda binen kişinin ağırlığı, başlangıçtaki üç kişinin ağırlıklarının aritmetik ortalamasına göre ağırlığı en fazla kaç olabilir?

- A) Ortalamanın 1 kg fazlası
B) Ortalamanın 2 kg fazlası
C) Ortalama ile aynı olmalıdır.
D) Ortalama ağırlığın 1 kg eksiği

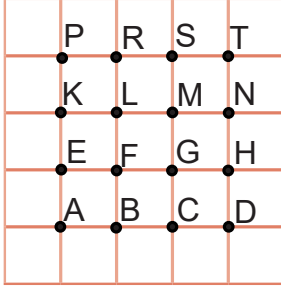
- 9.



Yukarıdaki şekilde aşağıdaki açılardan hangisi yoktur?

A) \widehat{ACD} B) \widehat{BDF} C) \widehat{CDE} D) \widehat{DCB}

10.



Kareli zeminde verilen noktalarla oluşturulan açılardan hangisi \widehat{EFT} açısına eş olur?

- A) \widehat{LMT} B) \widehat{EFN}
C) \widehat{EGT} D) \widehat{ACT}

11. Hangi açının bütünleri, tümlerinin 3 katının 20 fazlasına eşittir?

- A) 55 B) 65 C) 75 D) 85

12. "İSPARTA" kelimesindeki harfler kullanılarak oluşturulan küme aşağıdakilerden hangisidir?

- A) {I,S,P,A,R,T,A}
B) {P,A,R,T,I,S}
C) {S,P,R,T,A}
D) {S,P,A,R,T,A}

13. Kadir amca çiftliğinde ürettiği yumurtaları yumurta kolilerine üçer üçer yerleştirip, beşer beşer saydığına hiç yumurta artmamaktadır.

Buna göre çiftlikte üretilen yumurta sayısı aşağıdakilerden hangisi olabilir?

- A) 8 B) 18
C) 25 D) 45

14.

$$\frac{7}{10} + \frac{4}{15} - \frac{5}{12}$$

İşleminin sonucu kaçtır?

- A) $\frac{6}{13}$ B) $\frac{11}{20}$
C) $\frac{17}{20}$ D) $\frac{11}{60}$

16. Aşağıdakilerden hangisi yanlıştır?

- A) $9,3 \times 1000 = 9300$
 B) $821,5 \div 100 = 8,215$
 C) $7,43 \times 10 = 0,743$
 D) $25,2 \div 100 = 0,252$

17. 1 metre uzunluğundaki iki demir çubuktan birini;

- Mehmet Usta 18 eş parçaya ayırıyor.
 – Hakan Usta 15 eş parçaya ayırıyor.

Parçaların uzunlukları farkını gösteren kesir hangisidir?

- A) $\frac{1}{90}$ B) $\frac{1}{33}$ C) $\frac{33}{90}$ D) $\frac{3}{90}$

18. Bir kasa çilek 12 kg gelmektedir. Çilekler $\frac{3}{4}$ kg'lık paketlere konulmak istenmektedir.

Bu iş için kaç tane pakete ihtiyaç vardır?

(Kasa ağırlığı önemsiz)

- A) 16 B) 12 C) 9 D) 6

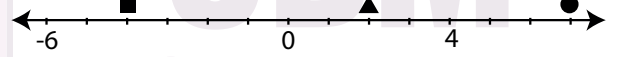
19.

- 1 ekmeğ : 1,25 TL
- 1 yumurta : 0,6 TL
- 1 litre süt : 2,18 TL

Defne; marketten 2 ekmeğ, 6 yumurta ve 1 litre süt alıyor. Kasaya 20 TL verirse kaç TL para üstü alır?

- A) 1,72 B) 7,03 C) 8,28 D) 11,72

20.



Yukarıda verilen sayı doğrusunda gösterilen sembollere karşılık verilen tamsayılar aşağıdakilerden hangisidir?

	■	▲	●
A)	-4	+2	+7
B)	-4	-2	+6
C)	-5	+2	+7
D)	-5	+2	+6

Çalışmada Emeği Geçen Öğretmenlerimiz

Mehmet ÜNAL
Ş.Burçin BAŞER
İsmail DEMİREKİN
ErdemGÖK

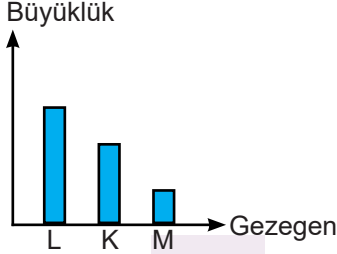
Bu çalışma Isparta İl Millî Eğitim Müdürlüğü Ölçme Değerlendirme Merkezi tarafından hazırlanmıştır.

Cevap
Anahtarı
Okut veya
Tıkla



Adı-Soyadı: Sınıf: Numara:

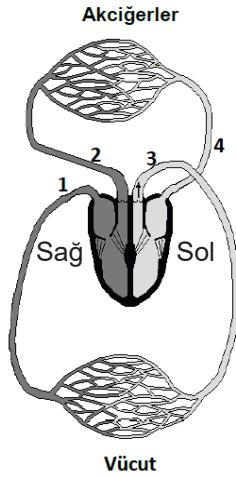
1. Aşağıdaki grafik K, L ve M gezegenlerinin büyüklüklerini göstermektedir.



Buna göre K, L ve M ile gösterilen gezegenler aşağıdakilerden hangisi olamaz?

	<u>K</u>	<u>L</u>	<u>M</u>
A)	Venüs	Dünya	Merkür
B)	Mars	Dünya	Venüs
C)	Satürn	Jüpiter	Neptün
D)	Dünya	Satürn	Mars

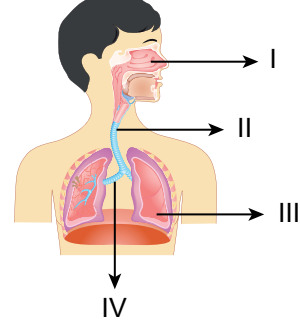
2. Aşağıdaki görselde insanın dolaşım sisteminde yer alan dört damar numaralandırılarak gösterilmiştir.



Numaralandırılmış damarlarla ilgili verilen ifadelerden hangisi doğrudur?

- A) 1 numaralı damar oksijence zengin kan taşır.
B) 2 numaralı damar kalbin sol alt odacığından çıkar.
C) 3 numaralı damar aort atardamarıdır.
D) 4 numaralı damar akciğerlere temiz kan taşır.

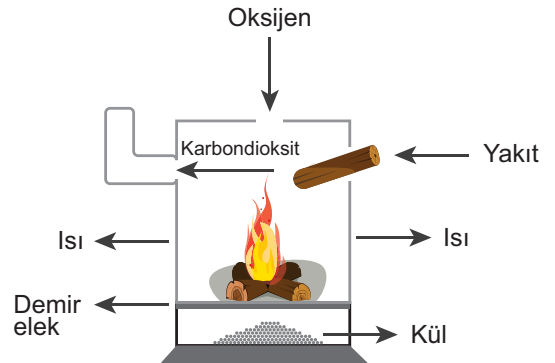
3. Aşağıdaki solunum sistemiyle ilgili verilen görselde bazı yapılar numaralandırılarak verilmiştir.



Buna göre, yukarıda verilen numaralandırılmış bölümlerle ilgili aşağıdakilerden hangisi yanlıştır?

- A) I numaralı yapıda havayı temizleyen ve nemlendiren mukus bulunur.
B) II numaralı yapı soluk borusudur.
C) III numaralı yapı oksijen ve karbondioksit gazlarının yer değiştirdiği organdır.
D) IV numaralı yapı bronşçuklardır.

4. Vücudumuzda enerji üretilmesi sürecinde kanımızda oluşan atık maddelerin temizlenme şekli, şöminenin çalışma şekline benzetilebilir



Buna göre, şöminede "Demir Elek" olarak gösterilen kısım vücudumuzun hangi organına benzetilebilir?

- A) Böbrek
B) Mide
C) İnce bağırsak
D) İdrar borusu

5. Başlangıçta sabit sürat ile hareket eden arabaya, yönleri ve büyüklükleri verilen K, L, M ve N kuvvetleri aynı anda uygulanacaktır.



Yukarıda verilen aracın sabit süratle hareketine devam etmesi için hangi kuvvetten bir tane daha eklenmelidir?

- A) M B) N
C) K D) L

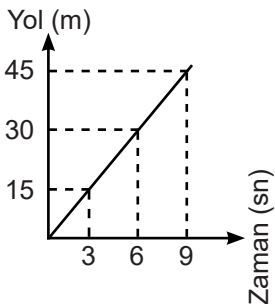
6. I. Göllerdeki suyun üst yüzeyinin donması
II. Buz kütlelerinin okyanuslarda yüzmesi
III. Buzluğa konan içi su dolu cam şişenin kırılması
Yukarıdaki ifadelerden hangileri suyun sıvı halden katı hale geçerken hacminin arttığını kanıtlar?

- A) Yalnız III B) I ve II
C) II ve III D) I, II ve III

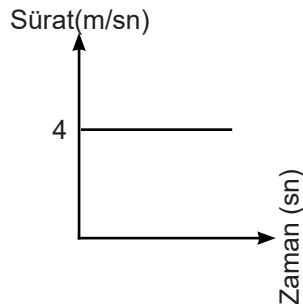
7. K, L ve M araçlarının hareketlerine ait tablo ve grafikler aşağıda verilmiştir.

K Aracı

Yol (m)	0	36	72	108
Zaman (sn)	0	6	12	18



L Aracı

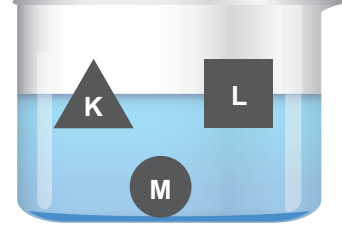


M Aracı

Verilen tablo ve grafiklere göre K, L ve M araçlarının süratlerinin sıralaması hangi seçenekte doğru verilmiştir?

- A) $K = L = M$ B) $L > K > M$
C) $K > L > M$ D) $K > M > L$

8. Eşit hacimli K, L ve M cisimleri suyla dolu bir kabın içine bırakılıyor. K ve L cisimleri suda yüzerken, M cismi batıyor.



Buna göre K, L ve M cisimlerine ait aşağıdaki ifadelerden hangisi kesinlikle yanlıştır?

- A) K ve L' nin yoğunlukları farklıdır.
B) M' nin yoğunluğu en büyüktür.
C) K' nin kütlesi en büyüktür.
D) L' nin kütlesi en küçüktür

9. Suyun yoğunluğunun en büyük olduğu sıcaklık değeri $+4\text{ }^{\circ}\text{C}$ ' dir. $4\text{ }^{\circ}\text{C}$ sıcaklıktaki suyun sıcaklığı arttığında ya da azaldığında, suyun hacmi artar. Hacmi artan suyun kütlesi değişmediği için, yoğunluğu azalır. Bu nedenle su, üst yüzeyden donar. Bu durum denizlerde ve göllerde yaşayan canlıların yaşamını sürdürmesini sağlar.

Buna göre;

- I. Suyun yoğunluğu buzun yoğunluğundan fazladır.
II. $4\text{ }^{\circ}\text{C}$ sıcaklıktaki suyun yoğunluğu $10\text{ }^{\circ}\text{C}$ sıcaklıktaki suyun yoğunluğundan fazladır.
III. Buzun yoğunluğu suyun yoğunluğundan fazla olsaydı suda yaşayan canlıların yaşamı sona erebilirdi.

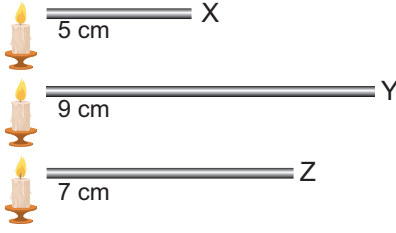
İfadelerinden hangileri doğrudur?

- A) Yalnız I B) I ve III
C) II ve III D) I, II ve III

10. Aşağıdaki enerji kaynakları ısınma amacıyla kullanıldığında hangisi çevreye daha çok zarar verir?

- A) Jeotermal
B) Güneş
C) Doğalgaz
D) Kömür

11. Kalınlıkları aynı, boyları farklı X, Y ve Z çubukları özdeş mumlardan aldıkları ısıları eşit sürede çubukların diğer ucuna iletiyor.



Buna göre, çubukların ısı iletkenlikleri arasındaki ilişki aşağıdakilerden hangisi gibidir?

- A) $X > Y > Z$ B) $Y > Z > X$
C) $X = Y = Z$ D) $X > Z > Y$

12. Eskimolar, yaklaşık -70 °C sıcaklıkta, kardan yapılmış "İglo" adı verilen evlerde, bir mum yakarak üşümeden yaşayabilmektedir. İglo evleri sıkışmış kar bloklarından yapılır. Kar bloklarının içinde hava vardır.

Aşağıdaki malzemelerden hangisi Eskimoların iglolarda kar kullanması ile benzer bir amaç için kullanılamaz?

- A) Bakır levha B) Boşluklu tuğla
C) Çift cam D) Strafor köpük

13. Fen Bilimleri dersi sınavının "Doğru-Yanlış" etkinliği bölümünde cümle doğruysa '✓' yanlışsa '✗' koyan bazı öğrencilerin cevapları tablodaki gibidir.

SORULAR

- Sesin yayılması için maddesel ortam gerekir.
- Ses kaynağından uzaklaştıkça ses daha şiddetli duyulur.
- Sesin sürati ışığın süratinden fazladır.
- Sesin yansıma özelliğinden yararlanan canlılara yarasa örnek verilebilir.

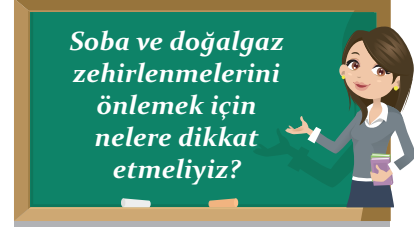
ÖĞRENCİ CEVAPLARI

	1	2	3	4
Tuna	✓	✓	✗	✗
Meriç	✗	✗	✗	✓
Çınar	✗	✓	✗	✓
Sıla	✓	✗	✓	✓

Tabloya göre hangi öğrencilerin sorulara verdikleri doğru yanıt sayıları birbirlerine eşittir?

- A) Tuna-Meriç B) Meriç-Çınar
C) Çınar-Sıla D) Tuna-Çınar

- 14.



Aşağıdaki öğrencilerden hangisi Fen Bilimleri öğretmenin sorduğu soruya yanlış cevap vermiştir?

- A) Zeynep: Soba içerisindeki yakıt alttan tutuşturularak yakılmalıdır.
B) Kerem: Soba aşırı şekilde doldurulmamalıdır.
C) Ecem: Kombi, banyo ve yatak odası gibi alanlara yerleştirilmemelidir.
D) Mert: Kombi uzman kişiler tarafından kurulmalıdır.

15. Şekildeki özdeş kaplarda, eşit miktarda, farklı yoğunluklarda sıvılar bulunmaktadır. X, Y ve Z sıvılarının yoğunlukları arasındaki ilişki $X > Y > Z$ şeklindedir.



Kapların 1 noktalarından çekiçle vurulduğunda sesin 2 noktalarına ulaşma süreleri üç kaptaki da eşittir.

Buna göre kaplardaki sıvıların sıcaklıkları aşağıdakilerden hangisi gibi olabilir?

- | | X | Y | Z |
|----|-------|-------|-------|
| A) | 40 °C | 30 °C | 20 °C |
| B) | 20 °C | 30 °C | 40 °C |
| C) | 30 °C | 20 °C | 40 °C |
| D) | 50 °C | 40 °C | 40 °C |

16. Aşağıda eşit kollu terazi ve eşit hacimli cisimler kullanılarak yapılan kütle karşılaştırma işleminin sonuçları verilmiştir.



Buna göre A, B ve C cisimlerinin yoğunlukları arasındaki ilişki hangi seçenekteki gibi olabilir?

- A) $B > A > C$ B) $C > A > B$
C) $C > B > A$ D) $A > B > C$

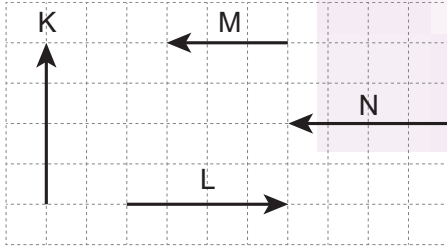
17. Aşağıdaki görselde ses kaydı yapılan bir stüdyo yer almaktadır. Ses kayıt stüdyoları ses yalıtımı yapılan yerlere bir örnektir.



Aşağıdaki örneklerden hangisi ses yalıtımı için yapılan uygulamalara bir örnek değildir?

- A) Şehir merkezindeki okul bahçelerinin "U" şeklinde konumlandırılması
B) Bölünmüş yollarda yol aralarının ağaçlandırılması
C) Araçların egzozlarına susturucu takılması
D) Balıkçı gemilerinde sonar cihazı kullanılması

18.



Büyüklikleri ve yönleri verilen K, L, M ve N kuvvetleriyle ilgili;

- Doğrultuları aynı, yön ve büyüklükleri farklı olan kuvvetler ▲ dir.
- Doğrultuları farklı, büyüklükleri aynı olan kuvvetler ■ dir.
- Doğrultularıyla beraber yönleri ve büyüklükleri de farklı olan kuvvetler ● dir.

ifadelerin doğru olması için ▲, ■ ve ● yerine hangi kuvvetler yazılmalıdır?

	▲	■	●
A)	L-M	K-N	K-M
B)	L-M	K-L	K-N
C)	L-N	K-N	M-L
D)	M-N	K-M	M-N

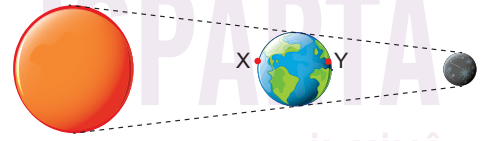
19. Aşağıda bazı maddelerde sesin yayılma süratleri verilmiştir.

Madde	Sesin süratleri(m/s)
X	300
Y	1200
Z	1450
T	1700

Buna göre X, Y, Z, T ve V maddeleri kullanılarak hazırlanan düzeneklerin hangisinde radyonun sesi dışarıdan ilk olarak duyulur?

- A) B)
C) D)

20.



Güneş, Dünya ve Ay yukarıdaki konumdayken X ve Y şehirdeki gözlemciler ile ilgili hangi seçenekteki ifade söylenebilir?

- A) X şehrindeki gözlemci Ay tutulmasını gözlemleyebilir.
B) Y şehrindeki gözlemci Güneş tutulmasını gözlemleyebilir.
C) X şehrindeki gözlemci Güneş tutulmasını gözlemleyebilir.
D) Y şehrindeki gözlemci Ay tutulmasını gözlemleyebilir.

Çalışmada Emeği Geçen Öğretmenlerimiz

Gamze PEKUSLU

Gökhan UYSAL

Selma ASLAN

Ş. Şebnem SİYAHGÜL

Zeki KARAMAN

Bu çalışma Isparta İl Millî Eğitim Müdürlüğü Ölçme Değerlendirme Merkezi tarafından hazırlanmıştır.

1. Nasrettin Hoca'nın adını ne zaman duysak hayalimizde; kocaman kavuğu, uzun beyaz sakalları ile güler yüzlü, hafif şişman, tatlı bir insan canlanır. İşte o ifade bizi hemen tebessüm ettirir. Onun fıkraları bizleri güldürürken düşündürür. Fıkralarında toplumun eksik ve aksak yönlerini ele alır. Tabii ki bunu yaparken insanların kalplerini asla kırmaz. Şaşırtırken, eleştirirken herkesi aydınlatır. Nasrettin Hoca, hayatı boyunca insanlara doğruyu bildirmiş, insanlara iyilikleri göstermiş, insanları kötülüklerden uzak tutmaya çalışmıştır. Fıkralarında muhatap olduğu insanlar ile hiçbir zaman alay etmemiş, onları küçümsememiştir. O, hem millî hem evrensel mizah kahramanımızdır. Tabii ki bunu yaparken kendisine has bir yolla yapmıştır. Bu güzel huyu, kıvrak zekâsı, hazırcevap oluşu onu, Balkanlar'dan Orta Asya'ya kadar bir üne kavuşturmuştur.

Bu metinden Nasrettin Hoca ile ilgili,

- Fıkralarında yalnızca insanları eğlendirmeyi amaçlamıştır.
- Yaşadığı toplumun kusurlu ve iyi gitmeyen yönlerine değinmiştir.
- Fıkralarında gerçek ve olağanüstü olaylar birlikte anlatılmıştır.
- İnsanları hiçbir zaman küçük görmemiş, onların gönüllerini kırmamıştır.

yargılarından hangileri çıkarılabilir?

- A) I ve II. B) I ve IV.
C) II ve III. D) II ve IV.

2. **Metindeki altı çizili söz grubuyla Nasrettin Hoca fıkralarının hangi özelliği anlatılmak istenmiştir?**

- A) Fıkralardaki eleştiriler kimseyi kırıp incitmez.
B) İnsanları hem eğlendirir hem de onlara doğruları öğretir.
C) Fıkralarında dili çok iyi kullanır, az sözle çok şey ifade eder.
D) Fıkraları herkese akıl verir, doğru yolu gösterir.

3. Ormanlar, dikkatsizlik sonucu çıkan yangınlar ve bilinçsiz ağaç kesimi nedeniyle gittikçe azalmakta. Yok olan ormanlık alanlar yerini bozkır ve çorak arazilere bırakmaktadır. Sevgili çocuklar, hepimiz elimizden geldiği kadar fidan dikmeli ve orman ürünlerinin gereksiz kullanımından kaçınmalıyız. Kullanılmış kâğıt, defter ve gazeteleri belirlenen toplama yerlerine bırakarak geri dönüşümle yeniden kazanmalıyız.

Metinde hangisinin örneği vardır?

- A) Amaç-sonuç cümlesi
B) Sebep-sonuç cümlesi
C) Koşul-sonuç cümlesi
D) Karşılaştırma cümlesi

4. Çocuk, yalın ayak dülger balıklarının yüzlercesinin kaynaştığı denize doğru yürümüştü. En kocamanını, uzun parmaklı elleriyle tutup sudan çıkarmış. İki elinin baş parmağı arasında sımsıkı tutmuş, eğilmiş, kulağına bir şeyler söylemiş.

Metinde hangi hikâyeye unsur yoktur?

- A) Olay B) Yer
C) Zaman D) Şahıs

5. Üstümde sırtıma yapışmış mavi tişörtümle tüm I gün dolandım tozlu II sokaklarda. Tatile gidecektim, bir türlü gidemiyordum. Yengeç gibi yapışmışım şu III kente. Ben tam bunları düşünürken kapıyı on IV yıldırdı ev işlerinde bana yardım eden Elif Bacı açtı.

Bu metinde numaralanmış olan sıfatların türü hangi seçenekte doğru olarak verilmiştir?

	I. Kelime	II. Kelime	III. Kelime	IV. Kelime
A)	Belgisiz	Niteleme	İşaret	Sayı
B)	İşaret	Belgisiz	Belgisiz	Niteleme
C)	Belgisiz	Niteleme	Belgisiz	Sayı
D)	Niteleme	İşaret	İşaret	Belgisiz

6.



Sarıkamış Harekâtı'nın 104'üncü yıl dönümünde donarak şehit olan 60 bin Türk askeri için Şalpazarı ilçesindeki 2 bin 200 rakımlı Sis Dağı Yaylası'nda anma yürüyüşü düzenlendi. Şıhkıran mevkiinden başlayan yürüyüşe, kamu kurum ve kuruluşlarının temsilcileri, sivil toplum kuruluşlarının üyeleri, askerler, öğrenciler ve çok sayıda kişi katıldı. Yürüyüşe katılanlar 200 metrelik Türk bayrağı taşıdı. 3 bin kişinin katıldığı yürüyüş sonunda, Hanyanı bölgesine ulaşan katılımcılar, burada şehitler için okunan Kuran-ı Kerim'i dinleyip, dua etti.

Verilen haber metninde aşağıdaki sorulardan hangisinin cevabı yoktur?

- A) Niçin yürüyüş düzenlenmiştir?
- B) Yürüyüşe kimler katılmıştır?
- C) Yürüyüşü kim düzenlemiştir?
- D) Yürüyüş nerede düzenlenmiştir?

7. Hayvanı beslemek, onu sevmek, ona zarar vermemek, onun iyiliğini düşünmek, çocuğun sadece hayvanlara olan olumlu duygularını beslemekle kalmıyor. Aynı zamanda başkalarının varlığının da kendisinin kadar değerli olduğunu hatırlatıyor. Bundan sonra sadece insanlara değil bütün canlılara zarar vermemekle kalmıyor onları koruyor, onlara sahip çıkıyor. Bu duyarlılığı kazanmış olması çocuk için çok büyük bir insani özelliktir.

Bu metnin ana fikri aşağıdakilerden hangisidir?

- A) Hayvanlar doğal ortamlarında bakılmalı ve yaşmalıdır.
- B) Evcil bir hayvan beslemek çocukları sosyalleştirir.
- C) Sevgi karşılıklıdır, hayvanlar bizi severse biz de onları severiz.
- D) Bir hayvan beslemek çocuklara sevmeyi ve korumayı öğretir.

8.

Öğretmen, etkinlik esnasında öğrencilerden "hazırlamak" kelimesini "alıştırmak" anlamına gelecek şekilde kullanmalarını istemiştir. Öğrencilerin cevapları grafikteki gibidir.



Buna göre öğrencilerin yüzde kaç başarılı olmuştur?

- A) %15
- B) %20
- C) %25
- D) %40

9.



Bu görselin vermek istediği mesajı en iyi anlatan özlü söz hangisidir?

- A) Yaşlılara yardım etmek, kişiye şeref ve iç huzur kazandırır.
- B) Ne kadar sabırlı olduğunuzu, çocuklardan öğrenebilirsiniz.
- C) Devler gibi eserler bırakmak için karıncalar gibi çalışmak gerekir.
- D) İnsanlık mutluluğa ancak çalışmakla ulaşabilecektir.

10. Hangi seçenekteki -lar/-ler eki, eklendiği sözcüğe "çoğulluk" anlamı katmamıştır?

- A) Televizyon kanalları gün geçtikçe artıyor.
- B) Telefonlardaki teknoloji geliştikçe insanlar yalnızlaştı.
- C) Öğrenciler hep beraber sınıflara doğru yola çıktılar.
- D) Hasta kendinden geçmiş, ateşler içinde yanıyordu.

11. İşim gücüm budur benim.
Gökyüzünü boyarım her sabah,
Hepiniz uykudayken.
Uyanır bakarsınız ki mavi.
Deniz yırtılır kimi zaman,
Bilemezsiniz kim diker.
Ben dikerim.

Şiirde, isim olmadığı halde ismin yerine kullanılan kaç sözcük vardır?

- A) 2 B) 3
C) 4 D) 5

12. Ardına bakmadan yollara düşen
Şimşek gibi çakan, sel gibi coşan
Huduttan hududa yol bulup koşan
Cepheden cepheyi soranlarındır.

Dörtlüğün ikinci dizesindeki edatın şiire kazandırdığı anlam hangisinde vardır?

- A) Öğretmenimiz bugün biraz üzgün gibiydi.
B) Kızımız sahnede prensesler gibi görünüyordu.
C) Sınıftan çıktığı gibi kantine gitti.
D) Toplantıdan çıkınca üç gibi evde olurum.

13. Kırmızı ibikli, parlak tüylü güzel bir horoz, kümesin içinde sıkıntıyla dolaşmış. Sahibi o gün yem vermeyi unuttuğu için karnı çok acıkmış. Bir solucan ya da bir böcek bulmak umuduyla toprağı eşelemeye başlamış. En sonunda parlak sert bir şey bulmuş. Dikkatlice bakınca bir inci tanesi olduğunu anlamış. Boynunu üzüntü ile eğerek: "Ne kadar talihsizim, bu inci tanesini bulacağıma, bir mısır tanesi bulsaydım, ne iyi olurdu..." demiş.

Metinde kullanılan söz sanatları hangi seçenekte doğru olarak verilmiştir?

- A) Benzetme- Abartma
B) Tezat-Kişileştirme
C) Kişileştirme- Konuşurma
D) Konuşurma-Benzetme

14.



Bu karikatürdeki kahramanların düşüncesine sahip insanların varlığını biliyoruz. Onlar da kural tanımayıp yollarına devam ediyorlar. Sonra ne mi oluyor?

Metni aşağıdaki cümlelerin hangisiyle tamamlarsak bu davranışa sahip kişilerin çevresindekilerin hayatını önemsemedikleri anlamı çıkar?

- A) Evlerine erkenden ulaşmış oluyorlar.
B) Başkalarının can güvenliğini tehlikeye atıyorlar.
C) Diğer sürücülere güzel örnek oluyorlar.
D) Ceza, kurala uymayanlar için caydırıcı oluyor.

15. Yapılarına göre sözcükler; basit, türemiş ve birleşik olmak üzere üç grupta incelenir:

kitaptan	askı	huysuz
demirbaş	ateşkes	balığı
dalgın	yaprak	yeryüzünün

Aysun, yaptığı etkinlikte tablodaki sözcükleri yapılarına göre grupladığında nasıl bir sonuç ortaya çıkar?

	Basit Sözcük Sayısı	Türemiş Sözcük Sayısı	Birleşik Sözcük Sayısı
A)	3	3	3
B)	2	4	3
C)	4	2	3
D)	3	2	4

16. Tarih kokan, pek fazla kişinin bilmediği Marmaris Kalesi'ni görme fırsatı buldum. Bu kaleyi daha önce bir film sahnesinde izlemiştim. Kaleye girince daha önce gelmişim hissine kapıldım. Bu muhteşem kalede toplam on sekiz oda, bir ark ve bir çeşme bulunmaktadır. Kalenin yedi kapalı alanı vardır. Bunlardan ikisi arkeoloji salonu biri de etnografya salonu olarak kullanılmaktadır.

Bu metin hangi yazı türünden alınmıştır?

- A) Makale
B) Hikâye
C) Anı
D) Gezi yazısı

17.

.gov: Resmi kurum ve kuruluşların siteleri için kullanılır.	.com: Ticari siteler için kullanılır.
.org: Kâr amacı gütmeyen dernek ve vakıflar için kullanılır.	.k12: Okulların internet siteleri için kullanılır.
.edu: Eğitim kurumlarının (üniversiteler gibi) siteleri için kullanılır.	.net: İletişim ağları ile ilgili kuruluşlar için kullanılır.

Bilişim teknolojileri dersinde öğretmen internet siteleri ve uzantıları hakkında yukarıdaki tabloyu vererek konuyu anlatmış ve öğrencilerden çıkarımda bulunmalarını istemiştir.

Hangi öğrencinin çıkarımı yanlıştır?

- A) Melike: TEMA ve Kızılay gibi kuruluşların siteleri için "org" uzantısı kullanılır.
- B) Oğuz: Sanal alışveriş yapmak için "com" uzantısı kullanılır.
- C) Ahmet: "gov" ve "edu" uzantılı siteler güvenilir bilgi sunar.
- D) Nurdan: Bakanlıkların site uzantıları birbirinden farklıdır.

18. Ahmet, Bilal, Çetin, Doğan, Ergin, Fatih, Giray, Hasan, Lemi; Fenerbahçe, Galatasaray ve Beşiktaş futbol takımlarını tutmaktadır. Bununla ilgili şu bilgiler verilmiştir.

- Ahmet, Beşiktaş takımını tutmaktadır.
- Bütün takımların üçer taraftarı vardır.
- Ergin, Bilal ve Hasan Fenerbahçe takımını tutmaktadır.
- Giray, Lemi ile aynı takımı; Ahmet ile Hasan'dan farklı takımı tutmaktadır.
- Çetin ve Doğan farklı takımları tutmaktadır.

Buna göre aşağıdakilerden hangisi kesinlikle doğrudur?

- A) Çetin Galatasaray'ı tutmaktadır.
- B) Doğan Beşiktaş'ı tutmaktadır.
- C) Fatih Beşiktaş'ı tutmaktadır.
- D) Lemi Fenerbahçe'yi tutmaktadır.



(19 ve 20. soruları aşağıdaki metne göre cevaplayınız.)

19. I. Doktor Ferguson, her zaman macerayı ve yenilikleri seven birisidir.
II. Uzun süre yaptığı araştırmalar sonucu bir balon kullanarak Afrika'yı geçmeyi ve keşif notları tutarak haritalar hazırlamayı planlamaktadır.
III. Bu tehlikeli yolculukta ona yardımcısı Joe ve arkadaşısı Dick eşlik edecektir.
IV. Balonla Beş Hafta kitabının ana kahramanı Londra'da yaşayan Doktor Ferguson'dur.
V. Yıllarca bu bölgeye ait kitaplar okumuş, kahramanlık hikayeleri dinlemiştir.

Numaralandırılmış cümlelerle anlamlı bir metin oluşturulduğunda sıralama nasıl olur?

- A) IV-I-II-V-III
B) IV-II-I-III-V
C) II-IV-II-V-I
D) IV-II-I-V-III

20. Buna göre oluşturduğunuz metinde sözü edilen kitabın görseli aşağıdakilerden hangisi olmalıdır?



Çalışmada Emeği Geçen Öğretmenlerimiz

Duygu KARADAŞ

Fatma Banu DENİZ

İsmail GÖK

Selda YILMAZ

Selma AYZ

Sevgi TOKA

Hasan AYYILDIZ

Bu çalışma Isparta İl Milli Eğitim Müdürlüğü Ölçme Değerlendirme Merkezi tarafından hazırlanmıştır.

1. Türkler, Müslüman olduktan sonra İslam kültür ve uygarlığının gelişmesine büyük katkılar sağlamışlardır.

Türklerin;

- I. Ele geçirdikleri yerlerde camiler ve medreseler yapmaları
- II. Önemli ticaret yolları üzerinde kervansaraylar kurmaları
- III. Matematik, tıp, astronomi gibi alanlarda büyük bilim insanları yetiştirmeleri

faaliyetlerinden hangileri bu durumun kanıtıdır?

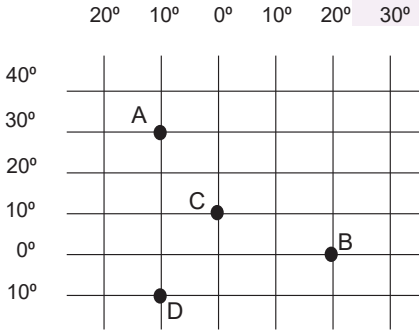
- A) I ve II. B) I ve III.
C) II ve III. D) I, II ve III.

2. Ülkemiz de dahil denize kıyısı olan bütün ülkeler coğrafi ve ekonomik şartlarla da bağlantılı olarak bu denizlerden çeşitli şekillerde faydalanmaktadır.

Buna göre aşağıdakilerden hangisi denizlerden yararlanma biçimlerinden biri değildir?

- A) Ticaret B) Tarım
C) Turizm D) Balıkçılık

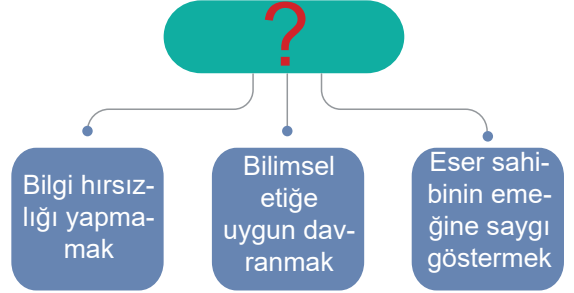
- 3.



Koordinat düzleminde A, B, C ve D olarak belirtilen bölgelerle ilgili yapılan yorumlardan hangisi doğrudur?

- A) "D" bölgesi başlangıç meridyeninin doğusunda yer alır.
B) "B" ve "C" bölgeleri arasında 70 dakika zaman farkı vardır.
C) "B" bölgesi Ekvator çizgisinin güneyinde yer alır.
D) "A" bölgesi Kuzey Yarım Küre' de yer alır.

- 4.



Verilen diyagramda "?" işareti ile gösterilen yere ne yazılmalıdır?

- A) Bilimsel bir araştırmada niçin kaynak taraması yapılmalıdır?
B) Bilimsel bir araştırmada neden hipotez oluşturmalıdır?
C) Bilimsel bir araştırmada niçin kaynakça kullanılmalıdır?
D) Bilimsel bir araştırmada neden birden fazla kaynak kullanılmalıdır?

- 5.

Uygurlardan günümüze mal edinme, ticari anlaşma metinleri, mal ve eşya kiralama, iş ortaklığı kurma, vasiyetname gibi çeşitli konuları kapsayan hukuki belgeler kalmıştır.

Bu hukuki belgelere dayanarak Uygurlar ile ilgili aşağıdakilerden hangisine ulaşılabılır?

- A) Yargı bağımsızlığını sağladıklarına
B) Savaşçı bir millet olduklarına
C) Göçebe yaşamı benimsediklerine
D) Ekonomik düzenlemeler yaptıklarına

- 6.

Yaşadığım bölgede dağlar doğu-batı doğrultusunda uzanmaktadır. Nem oranı fazla olduğu için yıllık sıcaklık farkı azdır. Haliyle yıllık yağış miktarımız da fazladır. Bununla birlikte bölgemizde güneşli gün sayısı az olduğu için seracılık da yapılamıyor.



Bu bilgileri veren 6. sınıf öğrencisi Veli hangi bölgede yaşamaktadır?

- A) Karadeniz Bölgesi
B) Marmara Bölgesi
C) İç Anadolu Bölgesi
D) Ege Bölgesi

7. Günümüz teknolojisi ile vücudumuzdaki hastalıklı bölgeler çok kısa sürede tedavi edilebilmekte, insan sağlığına zarar vermeden yemek pişirebilen tavalar yapılabilmekte, yıkandıktan sonra ütü yapmayı gerektirmeyen, kırışmayan kumaşlar üretilenmektedir.

Yukarıda parçada nanoteknolojinin hangi alanındaki faydasına değinilmemiştir?

- A) Sağlık B) Beslenme
C) Ulaşım D) Giyim

8. Eskiden ağaçlar balta gibi kesici aletler kullanılarak kesiliyordu. Balta ile ağaç kesmek hem çok zor hem de zaman almaktaydı. Bu nedenle daha az sayıda ağaç kesilmekteydi. Günümüzde ise hem insan sayısının artmasıyla paralel olarak ihtiyaçların artması hem de modern ağaç kesme araçlarının geliştirilmesiyle az zamanda çok sayıda ağaç kesilebilmektedir. Bu, hayatı kolaylaştırmanın yanında doğal kaynakların hızla tükenmesine de sebep olmaktadır.

Ümmügülüm konuşmasında verdiği örnekle doğal kaynakların hızlı tüketilmesinde aşağıdaki etken ikililerinden hangisine vurgu yapmıştır ?

- A) Artan nüfus ihtiyaçları - Doğal afet
B) Doğal afet - Teknolojik gelişme
C) Teknolojik gelişme - Artan nüfus ihtiyaçları
D) Salgın hastalıklar - Doğal afet

9.

"Uzun yıllar çok uğraştım ve sonunda başardım. Buluşumun bana ait olduğunu kanıtlamam için belge almam gerekiyor. Bunun için nereye başvurmalıyım?"



Çılgın Mucit

Sosyal bilgiler dersinden öğrendiklerinize göre Çılgın Mucit'e yardımcı olmak için ona aşağıdaki cevaplardan hangisini vermelidir?

- A) Türk Patent ve Marka Kurumu
B) Türk Dil Kurumu
C) Reklam Kurulu
D) Türk Tarih Kurumu

10. Türklerin ana yurdu Orta Asya'dır. Orta Asya; iklimin sert karasal olduğu, geniş düzlüklere sahip bir coğrafyadır. Bitki örtüsü bozkır olduğundan insanlar hayvancılıkla geçimlerini sağlamışlardır. Hayvancılıkla uğraşmaları onları otlak bulmak için göçebe yaşama zorlamıştır. Konargöçer yaşamı benimseyen Türkler taşınabilir malzemeler kullanmışlar ve çadırlarda yaşam sürmüşlerdir. Göç esnasında en büyük yardımcıları atlar olmuş ve atlara büyük önem vermişlerdir. Bu yaşam tarzından dolayı Türk kültürü çok geniş alana yayılmıştır.

Buna göre Türklerin yaşam tarzıyla ilgili hangi bilgiye ulaşılabılır?

- A) Yaşanılan coğrafya yaşam biçimini etkilemiştir.
B) Yoğun ticari faaliyetlerde bulunmuşlardır.
C) Tek geçim kaynakları hayvancılıktır.
D) Yerleşik hayatı benimsemişlerdir.

11. Kültürümüz; insanları tek çatı altında toplayan, birleştiren ve aynı hedefe yönlendiren öğelerden oluşmaktadır. Kültürümüzü oluşturan din, dil, tarih, mimari, gelenek ve görenekler bizi birbirimize bağlayarak daha güçlü olmamızı sağlar.

I	Çanakkale Savaşı'nda düşman, cephelerimizi geçememiş ve Boğaz'ın serin sularını boylamıştır.	Mimari
II	Kültürümüzün gelecek kuşaklara aktarılmasını sağlar.	Dil
III	Birkaç gün süren düşünlerimizde sevdiğimizle hep birlikte eğleniriz.	Gelenek ve görenekler
IV	Evlerimiz geçmişten günümüze bizim mutlu yuvalarımızdır.	Tarih

Tabloda verilen ifadelerin doğru olabilmesi için hangilerinin yer değiştirmesi gerekmektedir?

- A) I ve II. B) I ve IV.
C) II ve III. D) III ve IV.

12. Arkeoloji; eski kültür ve uygarlıklardan geriye kalan her türlü alet, malzeme, ev eşyaları ve sanat yapıtları gibi maddi kalıntıları inceleyen kazı bilimidir. Arkeoloji bilimi, Eski Çağ insanların nerede ve nasıl yaşadıkları, ne yedikleri, ne giydikleri, neye inandıkları gibi sorulara cevap arar. 6. sınıf öğrencileri de arkeolog olup geçmişin izinden gitmeye çalıştılar. Yaptıkları kazı sonucunda görsellerde yer alan tarihi nesnelere buldular ve okullarında oluşturdukları müze bölümünde bu nesnelere sergilediler.



Arkeolog olan bu arkadaşlarınızın keşfettikleri tarihi nesnelere bakarak ait olduğu uygarlık hakkında,

- I. Toprağı işlemeyi bilmektedirler.
- II. Avcılıkla uğraşmışlardır.
- III. Süsleme sanatında ileri gitmişlerdir.

Yorumlardan hangisi veya hangileri yapılabilir?

- A) Yalnız I. B) I ve II.
C) I ve III. D) II ve III.

13. Enerji üretiminde kullanılan petrol, kömür ve doğal gazın bilinçsizce ve çok hızlı bir şekilde tüketilmesi beraberinde birçok soruna neden olacaktır. Bu durum, gelecek nesillerin yaşamını zorlaştıracaktır. Gelecek nesillere daha yaşanılır bir dünya bırakabilmek amacı ile hayatımızın her alanında çevreye duyarlı ve bilinçli birer tüketici olmalıyız. Kaynakları kullanırken israftan kaçınmalıyız. Ayrıca, doğayı koruyarak topraktaki ve sudaki canlıların devamlılığını sağlamalıyız.

Aşağıdakilerden hangisi parçadaki uyarılara uygun hareket edilmediğinde yaşanabilecek olası sonuçlardan birisi değildir?

- A) Gelecekte kaynakların tükenmesi
B) Küresel ısınmanın artması
C) Canlı türlerinin çeşitliliğinin azalması
D) Teknolojik ilerlemenin durması

14. Denizlerimiz ulaşım, turizm, balıkçılık vb. amaçlarla kullanılmaktadır. Karadeniz’ de daha çok balıkçılık, Akdeniz’de ve Ege Denizi’nde ise turizm faaliyetleri yoğun olarak yapılmaktadır.

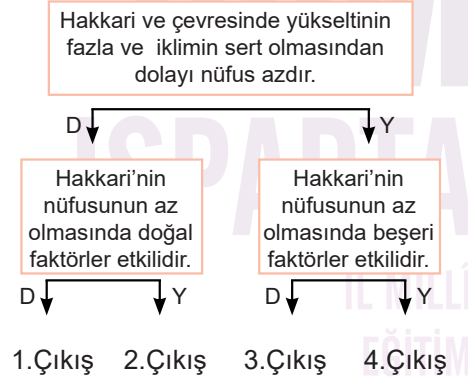
Buna göre,

- I. Turizmden elde edilen gelirlerin balıkçılığa göre daha fazla olması
- II. Ege Denizi’nde ve Akdeniz’de deniz suyu ve hava sıcaklığının yüksek olması
- III. Bu denizlerde balıkçılık yapacak insan sayısının az olması

cümlelerden hangisi veya hangileri Akdeniz’de ve Ege Denizi’nde turizm faaliyetinin tercih edilmesinin sebeplerindedir ?

- A) Yalnız I. B) I ve II.
C) I ve III. D) II ve III.

15.



Verilen şemada D “doğru”, Y “yanlış” anlamdadır. Birbiriyle bağlantılı bu cümleleri takip eden öğrenci hangi çıkışa ulaşır?

- A) 4. Çıkış B) 3.Çıkış
C) 2.Çıkış D) 1.Çıkış

16. Adım Yiğit. 6. sınıfa gidiyorum. Geçen yıl sınıf başkanıydım. Bu yıl ise okulda arkadaşlarımla birlikte bir futbol grubu kurduk. Her birimizin görevi ve yapacakları bellidir. Ben kaleciyim, aynı zamanda takım kaptanıyım. Derslerime çalışmam gerektiğinin farkındayım çünkü büyüdüğümde iyi bir doktor olmak istiyorum.

Yiğit’in verdiği bilgilerden hareketle hangisi yanlıştır?

- A) Rollerimiz zamanla değişebilir.
B) Birden fazla rolümüz olabilir.
C) Üstlendiğimiz rollerin sorumlulukları vardır.
D) Rollerimizin hepsini biz seçeriz.

17. Aşağıdaki bilgi kartlarında dünyada görülen farklı iklimlerin özellikleri yazılmıştır.

<p>1.KART Bu iklimde yazları bol yağışlar görülürken kışları yağışlar oldukça azalır. Bu yağışlar sellere neden olmaktadır.</p>	<p>2.KART Tropikal yağmur ormanlarının görüldüğü bu iklimde insanlar yılın büyük bölümünde ince kıyafetle dolaşmaktadır.</p>
<p>3.KART Burası yıl boyunca soğuk, kar ve buzlarla kaplıdır. Bu iklimde yaşayan halk Eskimo olarak tanınır.</p>	<p>4.KART Ülkemizde de görülen bu iklimde yazlar sıcak ve kurak, kışlar ise ılık ve yağışlıdır. Turunçgiller bolca yetiştirilmektedir.</p>

Aşağıdaki seçeneklerden hangisinde bilgi kartında verilen ipuçlarıyla özelliği verilen iklim doğru eşleştirilmiştir?

	1.Kart	2.Kart	3.Kart	4.Kart
A)	Akdeniz	Muson	Kutup	Ekvatorial
B)	Ekvatorial	Akdeniz	Muson	Kutup
C)	Muson	Ekvatorial	Kutup	Akdeniz
D)	Kutup	Akdeniz	Ekvatorial	Muson

18. Türkler, tarihte Orta Asya'da birçok devlet kurmuşlardır. Bunlardan bilinen ilki Asya Hun Devleti'dir. Bu dönemde göçebe yaşam tarzı benimsenmiş ve sözlü edebiyat gelişmiştir. Devlet ise başında Han adı verilen kişi tarafından yönetilmiştir. Devleti koruma görevi ise belirli bir orduya bırakılmamış, millet olarak hep birlikte ordu - millet anlayışıyla hareket edilmiştir. En büyük mücadeleler İpek Yolu'na hakim olabilmek için Çinlilerle gerçekleştirilmiştir. Mete Han döneminde İpek Yolu'na hakim olunarak Çin vergiye bağlanmıştır.

Verilen bilgilerden hareketle Asya Hun Devleti'yle ilgili hangi çıkarımda **bulunulamaz**?

- A) Ülke savunmasında halk ile birlikte hareket edilmiştir.
B) Ekonomik gelir için diğer devletlerle mücadele edilmiştir.
C) Ülke yönetiminde tek kişinin hakimiyeti benimsenmiştir.
D) Roman ve hikâye alanında özgün eserler vermişlerdir.

19.



Ulaşım aracı olarak genellikle köpeklerin çektiği kızaklar kullanılır.

Aysu

İnsanlar sıcaktan ve kum fırtınalarından korunmak için genellikle uzun elbiseler giyer.



Ali



Hatice

Yağmur ormanları geniş yer kapladığından evlerin yapımında genellikle ahşap kullanılır.



Tarım yapılamadığı için en önemli geçim kaynağı avcılık ve balıkçılıktır.



Hamza

Öğrencilerden hangileri, kutuplara yakın bölgelerdeki iklim özelliklerinin insan yaşamına etkisinden söz etmiştir?

- A) Aysu – Hamza B) Ali – Hatice
C) Hatice – Hamza D) Ali – Aysu

20.

Avrupa'ya gidecek 33 gençten tarih öğrenimi yapacak üç öğrenci ile görüşmek istediğini söyledi. Dolmabahçe Sarayı'nda bir saat kadar görüştüğü bu gençlere, Türk tarihini ayrıntılı incelemelerini emir buyurdu.

Aralarında tarihçi, arkeolog ve dil bilimcilerin de bulunduğu Avrupa'dan kaçarak Türkiye'ye sığınan bilim adamlarına kucak açtı.

Atatürk'ün bu uygulamaları, aşağıdaki bilim dallarından hangisini geliştirmeye yöneliktir?

- A) Matematik B) Dini Bilimler
C) Sosyal Bilimler D) Fen Bilimleri

Çalışmada Emeği Geçen Öğretmenlerimiz

Ersin AYVAZOĞLU
İlkay AKIN
Fatih ERDOĞAN

Havva KAPTAN
Serdar BALCI
Yalçın İNCE

Tuğba ÖZKAN

Bu çalışma Isparta İl Milli Eğitim Müdürlüğü Ölçme Değerlendirme Merkezi tarafından hazırlanmıştır.

1. **Akira** : What is the weather like in Tokyo?
Chizue :

- A) It is in August.
B) It is twenty degrees Celsius.
C) It is on Monday.
D) It is sunny.

Read the text and answer the questions 2 and 3.

Miray lives in Isparta. In winter, it is snowy and cold in Isparta. In summer, it is hot and sunny. She likes summer. She feels happy and energetic in July and August because she and her friends go swimming to Eğirdir. In autumn and spring, the weather is rainy and cool.

2. **What is the weather like in Isparta in winter?**

- A) It is snowy and cold.
B) It is sunny and hot.
C) It is rainy and cool.
D) It is cloudy and windy.


3. **How does Miray feel in summer?**

- A) She feels sad and anxious.
B) She feels moody and sleepy.
C) She feels upset and scared.
D) She feels energetic and happy.

4. **Who can draw the plans of buildings?**

- A) A worker B) A manager
C) An architect D) A mechanic

- Read the dialogue and answer the questions 5 and 6.**



Jack : There is a funfair in our city. I like it very much. I usually get on ferris wheel. I think it is exciting.

Tim : I disagree. Ferris wheels are dull. I like roller coaster. I think it is fantastic.

Sally : I enjoy ferris wheel and roller coaster. I think they are fun and exciting. I think ghost trains are frightening. I hate them.

Suzy : I like bumper cars. I want to get on them. What do you think about them?

Tim : I love bumper cars. They are fantastic.

Jack : Let's go to the funfair.

Tim,Sally and Suzy : Ok. Good idea.

5. **Who thinks roller coaster is exciting?**

- A) Jack and Tim
B) Tim and Sally
C) Jack and Sally
D) Tim and Suzy

6. **Suzy and Tim think**

- A) bumper cars are fantastic
B) roller coasters are exciting
C) ferris wheels are dull
D) ghost trains are frightening

7. **Choose the correct option to complete the dialogue.**

Brad: What does your brother do?

Peter: He is a mechanic.

Brad:

Peter: He can repair cars.

- A) Can he repair cars
B) What is his job
C) Is he a mechanic
D) What can he do


8.



Look at the poster and choose the CORRECT sentence.

- A) It is open from three to eight p.m.
- B) Each ride is five Dollars.
- C) Each ride is six Turkish Liras.
- D) It is on between 18th and 23rd April.

9.



Fuat Sezgin was born on

- A) nineteen twenty-four.
- B) October, nineteen twenty-four.
- C) the twenty fourth of October, nineteen twenty-four.
- D) the twenty four October.

10. Mehmet went to Uludağ last year and he learned skiing in

- A) summer holiday
- B) winter holiday
- C) seaside holiday
- D) safari holiday

Read the text and answer the questions 11 and 12.

Hi, I'm İpek. I was born in Antalya. I am eleven years old. I am a student at Cengiz Topel Secondary School. My father was born on 7th July, 1960. He is a teacher and he teaches English. My mother was born on 23rd September, 1966. She was a tailor two years ago. Now, she is retired. My elder brother, Cem was a student last year, but he is a dentist now. I love my family.





11. İpek's brother can.....

- A) draw the plans of buildings.
- B) sew nice dresses and suits.
- C) pull out teeth.
- D) cook delicious meals.

12. Which sentence is FALSE?

- A) İpek's father is a teacher now.
- B) İpek's mother is a tailor now.
- C) İpek's brother is a dentist now.
- D) İpek is a student now.

13. Look at the table and choose the correct option.

	Where were you?	What did you do?
Emine	Gölcük Park	
Bilge	Eğirdir Lake	
Habip	Davras Mount	
Uğur	Sütcüler Yazılı Kanyon	


	Emine	Bilge	Habip	Uğur
A)	rafting	climbing	fishing	beach volleyball
B)	beach volleyball	skiing	sailing	skiing
C)	walking in the forest	swimming	skiing	climbing
D)	skiing	beach volleyball	swimming	basketball

14. Read the text and choose the ODD sentence

Hello, my name is Erol. (1) Two years ago, I visited my elder brother, Harun in İstanbul. (2) It was really sunny, and I was very excited because there were a lot of historical places. (3) I am a high school student. (4) We visited Dolmabahçe Palace together. Then, we visited Sultan Ahmet Mosque. The holiday was fantastic.

- A) 4 B) 3
C) 2 D) 1

15.



This is my house. I love being in my house. I do different activities in my room. I have a cat. Its name is Boncuk. Where is Boncuk?

- A) It is under the sofa.
B) It is in front of the sofa.
C) It is behind the sofa.
D) It is on the sofa.

16. Look at the picture and complete the sentence.



Jessica is at the moment.

- A) feeding the street dogs
B) playing on the monkey bar
C) listening to her favourite band
D) waiting for the bus

Read the text and answer the questions 17 and 18.

My name is John. I am a student at Hightown Secondary School. I live in a village. I get up early and have breakfast with my family at half past seven. We have olives, cheese, eggs, tomatoes, butter and honey for breakfast. We drink tea but my elder sister drinks milk. My sister and I go to school at eight o'clock and come back at three p.m. Then, we do our homework at quarter to four. My aunt lives in a city. We sometimes visit her. I like village life because village life is (a) and (b) than city life. But my sister likes city life because she thinks city life is more enjoyable. Now, it is ten past six p.m. My mother is preparing dinner. My father is feeding the animals. My sister is reading book and I am writing in my diary.

17. Choose the correct option to complete missing parts in the text.

- | | | |
|----|--------------|-----------|
| | (a) | (b) |
| A) | dirtier | noisier |
| B) | quieter | cleaner |
| C) | more crowded | healthier |
| D) | more boring | better |

18. Which sentence is CORRECT?

- A) He gets up late.
 B) He has got a brother.
 C) He lives in a city.
 D) He is a student.

19.

Betty: Can I have some pancakes?

Waitress: No, sorry. It's all gone. Do you want bagels?

Betty: Yummy! I love bagels.

Waitress: Milk?

Betty: No, thanks. I don't like milk. I want tea.

Waitress: Sure. Do you want it with sugar?

Betty: No, thank you.

Waitress: OK. Enjoy it.

What does Betty want to drink according to the dialogue above?

- A)  B) 
- C)  D) 

20. How many statements are CORRECT according to the pictures below?



Andy



Sue



Azra



Toby

- ☛ Azra is flying a kite.
- ☛ Andy is swinging.
- ☛ Sue is rollerblading.
- ☛ Toby is playing badminton.

- A) 4 B) 3 C) 2 D) 1

Çalışmada Emeği Geçen Öğretmenlerimiz

Habip ALTUNTAŞ

Emine Esin ÜNLÜ

Mariye ÇELİK

Uğur ERPOLAT

Bilge AKINCI

Keziban KESİKTAŞ

Bu çalışma Isparta İl Milli Eğitim Müdürlüğü Ölçme Değerlendirme Merkezi tarafından hazırlanmıştır.

1. Yüce Allah, Hz. Peygamber'den insanlara dinin esaslarını anlatmasını istiyordu. "Ey örtüsüne bürünen, kalk ve uyar. Sadece Rabbinin büyüklüğünü dile getir." (Müddessir Sûresi 1-3. Ayetler) ayetleriyle önce yakın akrabayı daha sonra ise onları Rabbinin yoluna hikmetle ve güzel öğütle davet et; onlarla en güzel yöntemle tartış. Kuşkusuz senin Rabbin, yolundan sapanların kim olduğunu en iyi bilendir; O, doğru yolda bulunanları da çok iyi bilir. (Nahl Sûresi 125. Ayet) ayetiyle açıktan davet başlamış oldu. Mekkelilerin alay, hakaret ve küçümseme gibi olumsuz tepkilerine rağmen Hz. Peygamber İslam'ı anlatmaya devam etti.

Parçada anlatılan Peygamberlerin Allah'ın (c.c.) Cebrail aracılığıyla göndermiş olduğu vahiyleri insanlara eksiksiz olarak bildirmesine ne ad verilir?

- A) İsmet
- B) Tebliğ
- C) Fetanet
- D) Sıdk

2. 1-7 Mart tarihleri arasında kutlanan Yeşilay Haftası'nda okuldaki öğretmenlerinin sunumundan oldukça etkilenen Aslı eve gidince annesiyle zararlı alışkanlıklardan korunma yolları ile alakalı aklında kalanları paylaşmıştır. Aslı, annesine büyük bir heyecanla öğrendiklerini anlatmış, annesi de onu dinledikten sonra bu paylaşımından dolayı teşekkür etmiş, ona şefkatle sarılmıştır.

Aslı, zararlı alışkanlıklardan korunma yolları ile alakalı hangi bilgiyi verseydi yanlış bir cümle olurdu?

- A) Sportif ve kültürel aktivitelere katılmalı
- B) Arkadaş seçimine dikkat edilmeli
- C) Aile çocuğuna baskı uygulamalı
- D) Dini ve millî değerlere önem verilmeli

3. İslam dininin koruma altına aldığı esaslardan biri de insanların mallarını korumaktır. Yüce Allah Kur'an-ı Kerim'deki pek çok ayette insanın kazancını alın teiriyle temin etmesini istemiş ve helal yoldan kazanılan bu malın başkaları tarafından haksız bir şekilde alınmasını yasaklamıştır. Böylece İslam dininin insanlar arasında oluşabilecek kin ve nefret duygularını ortadan kaldırmayı hedeflediğini gösterir.

İslam dininde yasaklanan kötü alışkanlıklardan hangisi insanın doğrudan malını korumaya yöneliktir?

- A) İçki içmek
- B) Uyuşturucu kullanmak
- C) Sigara içmek
- D) Kumar oynamak

4. Hz. Muhammed (s.a.v.) bir Hadis-i şerifinde: "İki nimet vardır ki insanların çoğu, onların kıymetini bilmekte aldanmıştır. Bunlar: Sağlık ve boş vaktir." buyurmaktadır.

Aşağıda verilen kötü alışkanlıklardan hangisi beden sağlığını doğrudan etkileyen bir alışkanlık değildir?

- A) İçki içmek
- B) Kumar oynamak
- C) Uyuşturucu kullanmak
- D) Sigara içmek

5. Alkol ve uyuşturucu madde kullanımı İslam dininin yasakladığı davranışlardan biridir. Çünkü bu maddeler insanın gerek akıl sağlığına gerek beden sağlığına pek çok zarar verdiği gibi bireysel zararda kalmayıp toplumun temel sorunlarının başlangıç noktası da olabilmektedir.

Buna göre seçeneklerden hangisinde alkol ve uyuşturucunun toplumsal zararlarına değinilmiştir ?

- A) İnsanın beyninde tahribat yapması
- B) İnsanın psikolojisini bozması
- C) İnsanın maddi kazancını yok etmesi
- D) Ailelerin yıkılmasına zemin hazırlaması

6. İnsan sosyal bir varlıktır. Toplum içinde yaşar, toplum içinde bir role bürünür. İnsanın sevinçlerini ve üzüntülerini paylaşacağı kişiler hayatında yer almaktadır. Ama burada önemli olan unsur, içinde yaşadığı çevrenin koşullarının onu iyiye ve doğruya yönlendirmesidir. Mevlana bu durumu şu şekilde belirtmiştir: İyi insan bülbül gibidir. Gül bahçesine götürür, kötü insan karga gibidir, çöplüğe götürür.

Yukarıdaki parçayı özetleyen atasözü hangisidir?

- A) Üzüm üzümüne baka baka kararır.
B) Damlaya damlaya göl olur.
C) Sakla samanı gelir zamanı.
D) Dağ dağa kavuşmaz, insan insana kavuşur.

7.

.....
Başlama Sebepleri

Merak
Özenti
Kendini İspat Etme
Ben Bağımlı Olmam

Görseldeki boşluğa gelebilecek en genel başlık ne olmalıdır?

- A) İçkiye başlama sebepleri
B) Kumara başlama sebepleri
C) Zararlı alışkanlıklara başlama sebepleri
D) Uyuşturucuya başlama sebepleri
8. Aile bağları, spor aktiviteleri, iyi arkadaş ortamı Ahmet'in hayatında önem verdiği hususlardandır. Kendini iyi tanıyan ve kendine değer veren Ahmet, arkadaşları arasında da sevilen biridir. Yeşilay gönüllüsü de olan Ahmet haftada bir gün kendini toplum hizmetine adanmıştır. Ayrıca sokakta karşılaştığı bağımlı olan çocukların tedavisi için gönüllü olarak toplum hizmetlerinde de çalışmaktadır.
- Verilen bilgilerden yola çıkılarak Ahmet için seçeneklerden hangisi söylenemez?**
- A) Vaktini boşa geçirme
B) Kötü alışkanlıklardan korunma
C) Sağlığını koruma
D) Kendini gerçekleştirme

9. (...) Artık yüzünü Mescid-i Harâm tarafına çevir; nerede olursanız olun (namazda) yüzünüzü o yöne çevirin. Kuşku yok ki kendilerine kitap verilenlerin Rablerinden gelmiş bir gerçek olduğunu elbette bilirler (...) (Bakara-144)

Verilen Âyet-i Kerime' de namaza hazırlık şartlarından hangisine işaret edilmektedir?

- A) Hadesten Taharet
B) İstikbal-i Kible
C) Necasetten Taharet
D) Secde

10. Hz. Muhammed (s.a.v.) 622 yılında Mekke'den Medine'ye hicret ederek yaklaşık 13 yıl süren peygamberlik hayatının Mekke dönemini tamamlamış oldu. Medine'de yeni bir dönemin başlamasıyla Müslümanlar dini, siyasi, sosyal hususlarda düzenli ve sistemli bir hayata kavuştular.

Seçeneklerden hangisi Medine döneminde gerçekleşen olaylara örnek gösterilemez?

- A) Mescid-i Nebi' nin inşası
B) Hudeybiye Barış Antlaşması
C) Hz. Hatice ve Ebu Talib' in vefatı
D) Bedir Savaşı'nın kazanılması

11. Hz. Muhammed (s.a.v.) Müslümanlara uygulanan boykot bittikten sonra arkadaşı Zeyd bin Harise ile beraber Taif şehrine gitti. Amacı orada İslam' a davetini aktarabileceği insanlar bulmak, onları hem dünya da hem de ahirette mutlu edecek ilahi hitapla buluşturmaktı. Ama ne yazık ki Taif halkı ona sahip çıkmamış, sahip çıkmamakla da kalmayıp onu taş yağmuruna tutmuştu. Bunun üzerine vahiy meleği Cebrail, Hz. Muhammed (s.a.v.)' in istemesi halinde Taif halkının helak edileceğini bildirmiş ama Hz. Muhammed (s.a.v.) bunu kabul etmemiştir.

Anlatılan olay Hz. Muhammed (s.a.v.)' in hangi özelliğini göstermektedir?

- A) Hz. Muhammed'in son Peygamber olduğunu
B) Hz. Muhammed'in dostlarına önem verdiği
C) Hz. Muhammed'in yetimlere değer verdiği
D) Hz. Muhammed'in çok merhametli olduğu

12. Hz. Yahya, Zekeriya (a.s.) Peygamber'in oğludur. Yahya kelime olarak diri mânâsına gelir. Hz. Zekeriya ve eşi ihtiyarken, Zekeriya Peygamber'in duası üzerine onlara evlat olarak Yahya'nın verilmesi, Allah'ın eşsiz kudretini göstermektedir. Ayeti Kerime'de: "Zekeriya: Rabbim! dedi, bana ihtiyarlık gelip çattığına, üstelik karım da kısır olduğuna göre benim nasıl oğlum olabilir? Allah şöyle buyurdu: İşte böyledir; Allah dilediğini yapar." (Âi-i İmrân, 40) buyurdu.

Metinde yer alan bilgilere göre seçeneklerden hangisine ulaşamaz?

- A) Allah Hz. Zekeriya ve Hz. Yahya'yı imtihan etmiştir.
B) Hz. Zekeriya'ya yaşlılığında verilen evlat Allah'ın gücünü gösterir.
C) Allah Hz. Zekeriya'nın duasını kabul etmiştir.
D) Allah'tan ümidimizi hiçbir zaman kesmemeliyiz.

13. Rahman ve Rahim olan Allah'ın adıyla

1. Ebû Leheb'in elleri kurusun, zaten kurudu.
 2. Ona ne malı fayda verdi, ne de kazandığı.
 3. O, bir alevli ateşe girecektir.
- 4 ve 5. Boynunda bükülmüş hurma liflerinden bir ip olduğu hâlde sırtında odun taşıyarak karısı da (ateşe girecektir.)

Peygamberimiz (s.a.v.)'in amcası Ebû Leheb hakkında inen ve anlamı verilen sûreden yola çıkarak seçeneklerden hangisine ulaşamaz?

- A) Dünya hayatında iman edilmezse ahirette mal ve evladın fayda vermeyeceği
B) Peygambere kan bağıyla bağlı olmanın Allah katında bir ayrıcalık konusu olmadığı
C) İşlenen günahların kadın erkek ayrımı olmaksızın karşılığının olduğu
D) Ebû Leheb'in günahlarını çektikten sonra durumunun ne olacağı

14. Hz. Muhammed (s.a.v.) İslam'a davetini açıktan duyurmaya başlayınca Mekkeli müşrikler, önce onu görmezden geldi, sonra onunla alay etmeye ve ona lakap takmaya başladılar. Sihirbaz, büyücü, kahin gibi akla hayale gelmeyen sıfatlar söylediler. Ama asla "yalancı" diyemediler. Çünkü Hz. Muhammed (s.a.v.), hayatı boyunca hiç yalan söylememiş bir insandı.

Buna göre Hz. Muhammed (s.a.v.) yaşamı boyunca dürüstlük ve erdemden taviz vermediği için Mekkeliler ona nasıl hitap etmişlerdir?

- A) El-Habib B) El-Emin
C) El-Faruk D) El-Halim

15. Dünya Sağlık Örgütüne göre (DSÖ), ruhen ve bedenen tam bir iyilik haline sağlık adı verilir. İnsanın gerek beden gerekse ruh sağlığına zarar veren her türlü bağımlılık İslam dininde yasaklanmıştır.

Buna göre seçeneklerden hangisi hem ruh hem de beden sağlığımıza zarar veren alışkanlıklardan değildir?

- A) Sigara alışkanlığı B) Alkol bağımlılığı
C) Uyuşturucu bağımlılığı D) Okuma alışkanlığı

16. Hz. Muhammed (s.a.v.) Medine'ye hicretten sonra toplumsal barışın sağlanması için önce muhacir ve ensar arasında kardeşlik ilan etti. Daha sonra da Medine'de yaşayan Yahudiler, Müslümanlar arasında Medine sözleşmesini imzaladı. Bu sözleşmenin maddelerine göre,

- ☒ Müslümanlar ve Yahudiler eşit haklara sahip olacak.
☒ Her din mensubu inancını yaşamada özgür olacak.
☒ Medine'de barış ortamı kurulacak.
☒ Sorunların çözümünde Hz. Muhammed (s.a.v.) hakem olacak.

Verilen bilgilerden yola çıkarak Medine Sözleşmesi'yle ilgili hangi sonuca ulaşamayız?

- A) Medine sözleşmesi toplumdaki barış ve huzuru artırdı.
B) İnsanların inançlarında özgür olmalarını sağladı.
C) Sadece Müslümanların haklarını korumuş oldu.
D) Hz. Muhammed'in liderliği kabul edilmiş oldu.

17. Hz. Muhammed (s.a.v.) 2. Akabe Biati'ndan sonra Medinelilerin daveti üzerine Müslümanlarla birlikte hicret kararı aldı. Müslümanlar Mekke'li müşriklerden habersiz bütün mal varlıklarını bırakarak, şehri terk edip Medine'ye göç ettiler. En son Hz. Muhammed (s.a.v.) ile beraber yakın çevresi kaldı. Onlarda bir plan yaparak şehri terk edip Medine'ye ters bir istikamette bulunan Sevr Mağarası'na doğru hareket ettiler.

Hz. Muhammed (s.a.v.) ve arkadaşlarının Medine yoluna ters bir istikamet izlemelerinin sebebi nedir?

- A) Hz. Muhammed (s.a.v.)'in hicretten vazgeçmesi
B) Medine yolunun iklim açısından elverişsiz olması
C) Hz. Muhammed (s.a.v.)'in yol güvenliği için uyguladığı taktik
D) Hz. Muhammed (s.a.v.)'in Mekke'den ayrılmak istememesi

18.



Şemada soru işaretinin yer aldığı kısma seçeneklerde verilen kavramlardan hangisi getirilmelidir?

- A) Melek
B) Peygamber
C) Tebliğ
D) İsmet

19. Hicretin sebep ve sonuçlarını anlatan Yusuf Öğretmen öğrencilerine: "Hicretin Müslümanlara sağladığı faydalar nelerdir?" diye sordu.

Hangi öğrencinin cevabı Yusuf Öğretmen'in sorusunun cevabı olamaz?

- A) Samet: Müslümanlar baskı ve zulümden kurtulmuş oldular.
B) Salih: Medine; muhacirlerin yeni yurdu, ensar da kardeşleri oldu.
C) Yağmur: Müslümanların sayısı hızla çoğalmaya başladı.
D) Umut: Hz Muhammed'e (s.a.v.) olan sevgileri aralarını açtı.

20. Din Kültürü ve Ahlak Bilgisi dersinde Gülsüm Öğretmen, 6. Sınıf öğrencilerine "Namaz" ünitesi bittikten sonra bazı sorular sordu. Sorulardan bir tanesi şöyleydi:

"Çocuklar biliyorsunuz, namaz kılarken rukû ve secde yapıyoruz. Ama bir namaz var ki onda rukû ve secde yapılmaz. Bu namazı söyleyebilecek var mı?"

Öğrenciler hangi cevabı verirlerse soruya doğru yanıt vermiş olurlar ?

- A) Cuma Namazı
B) Bayram Namazı
C) Cenaze Namazı
D) Teravih Namazı

Çalışmada Emeği Geçen Öğretmenlerimiz

Eşe GÜRDAL
Mehmet YILDIRIM
Mustafa KAYA

Bu çalışma Isparta İl Millî Eğitim Müdürlüğü Ölçme Değerlendirme Merkezi tarafından hazırlanmıştır.

**Cevap
Anahtarı
Okut veya
Tıkla**

