



NİĞDE MİLLİ EĞİTİM MÜDÜRLÜĞÜ

ARALIK 2015

SAYI 2

8. SINIF

KAZANIM TESTLERİ

DİZGİ & TASARIM

Abdurrahman KARAŞAHİN

Bahri KEBUDE

Bayram DOĞAN

Ömer ADIYAMAN

Uğur DEMİR

EMEĐİ GEÇEN TÜM ÖĐRETMENLERİMİZE TEŐEKKÜR EDERİZ...

TÜRKÇE

ADI SOYADI	OKUL
AYSUN YILMAZ	YEŐİLGÖLCÜK Ő. OSMAN TURGUT OO
ESRA COŐKUN ÇINAR	EDİKLİ ŐH. AYHAN ARIKAN ORTAOKULU
ÖMER ADIYAMAN	NİĐDE İL MEM ARGE
S.SEÇİL ERYİĐİT	İÇMELİ ŐEHİT DAVUT YILDIZ ORTAOKULU
UFUK ÖZGÜR	KANUNİ SULTAN SÜLEYMAN ORTAOKULU

MATEMATİK

ADI SOYADI	OKUL
GÖKHAN BELLER	YILDIZTEPE ZEYNEP ERDEN ORTAOKULU
FATİH ÖZTÜRK	KEMAL AYDOĐAN ORTAOKULU
İSMAİL ÖZKAN	GÜMÜŐLER ORTAOKULU
OĐUZ HAN ARAKAYA	YILDIZTEPE ZEYNEP ERDEN ORTAOKULU
SERANT MALİK MERİÇ	AĐÇAŐAR HAZİM ARSLANBAY ORTAOKULU
SERHAT ERBAŐ	MELİKŐAH ORTAOKULU

FEN ve TEKNOLOĐİ

ADI SOYADI	OKUL
ABDURRAHMAN KARAŐAHİN	NİĐDE İL MEM ARGE
ADEM BERBER	YILDIZTEPE ZEYNEP ERDEN ORTAOKULU
FATİH USLU	KARAATLI FATMA CUMA ALİ YILMAZ OO.
GAMZE ALAKÖŐE	EDİKLİ ŐEHİTİ İHSAN Y. ORTAOKULU
GÖKHAN YAVUZ	MEVLANA ORTAOKULU
LEVENT EKER	İÇMELİ ŐEHİT DAVUT YILDIZ ORTAOKULU
MEHMET EMRAH AYDIN	HACİBEYLİ ORTAOKULU
MUSTAFA DEMİRDİREK	KANUNİ SULTAN SÜLEYMAN ORTAOKULU
RAMAZAN BOZDAŐ	ORHANLI ORTAOKULU

EMEĐİ GEÇEN TÖM ÖĐRETMENLERİMİZE TEŐEKKÖR EDERİZ...

İNGİLİZCE

ADI SOYADI	OKUL
BURÇİN İŐCAN	İÇMELİ ŐEHİT DAVUT YILDIZ ORTAOKULU
MERVE ÖZÖAK	YILDIZTEPE ZEYNEP ERDEN ORTAOKULU
NERMİN TOPRAK	KANUNİ SULTAN SÖLEYMAN ORTAOKULU
UĐUR DEMİR	NİĐDE İL MEM ARGE

DİN KÖLTÖRÖ ve AHLAK BİLGİSİ

ADI SOYADI	OKUL
İSTİKLAL SOYLU	İMAM HATİP ORTAOKULU
MAHMUT ÖZBEK	EDİKLİ ŐH. AYHAN ARIKAN ORTAOKULU
YASİN DOĐAN	İMAM HATİP ORTAOKULU

İNKILAP TARİHİ VE ATATÖRKÖÖLÖK

ADI SOYADI	OKUL
HÖSEYİN YÖCEL	KANUNİ SULTAN SÖLEYMAN ORTAOKULU
ÖMER BİLGEN	YILDIZTEPE ZEYNEP ERDEN ORTAOKULU
RAMAZAN KOYUNCU	GÖMÖŐLER ORTAOKULU
SAMİ DUTAR	KARAATLI FATMA CUMA ALİ YILMAZ ÖÖ.

GÖREV ALMAK İSTEYEN ÖĐRETMENLERİMİZ BİZİMLE İLETİŐİME GEÇEBİLİR...

NiĐde İl Milli EĐitim MÖdÖrlÖĐü ARGE Birimi:

Tel: 388 232 32 72 Dahili: 141

Proje KoordinatÖrÖ: Abdurrahman KARASAHİN

TÜRKÇE

1. Aşağıdaki cümlelerden hangisi, özne – yüklem ilişkisi yönünden diğerlerinden farklıdır?

- A) Kemal'in söylediklerinden çok alındı.
- B) Nüfus artış hızında azalma olduğu gözlemlendi.
- C) İki kişinin derslere girmediği belirlendi.
- D) Onun bu işi yapamayacağı anlaşıldı.

2. Aşağıdaki cümlelerin hangisi nesne-yüklem ilişkisi yönüyle diğerlerinden farklıdır?

- A) Başı ağrıdığı için hastaneye gitmiş.
- B) Eve dönerken 3 kilo hamsi almış.
- C) Biraz dinlendikten sonra konuşmuş.
- D) Ne zaman geleceksin.

3. "Hikâye" kelimesi, aşağıdaki cümlelerin hangisinde "sözde özne" görevinde kullanılmıştır?

- A) Hikâyesini anlattığında hepimiz ağladık.
- B) Hikâyeleriyle bizleri anlatıyordu adeta.
- C) Hikâyeleri günümüz edebiyatına taşıdı.
- D) Hikâye, uzun olmadığı zaman zevkle okunur.

4. Aşağıdaki cümlelerden hangisinde çatı özelliği aranmaz.

- A) Birlikte ders çalışıyorlar.
- B) Ahmet söylenen sözlere alındı.
- C) Çocuğu çatıda görünce yüreği ağzına geldi.
- D) Güldür bana seni hatırlatan.

5. Aşağıdaki cümlelerden hangisinde çatı özelliği aranmaz.

- A) Geceleyin gökyüzünde bir ışık belirir.
- B) Işık huzme halinde yere iner.
- C) İçinden bir peri çıkar ve konuşmaya başlar.
- D) Sultanım. Ben senin eşin olacak kadını.

6. Aşağıdaki cümlelerin hangisinde "gerçek özne" yoktur?

- A) Senin arkadaşın bizi görmeye gelmiş.
- B) Sınavı kazandığı için mutlu olduk.
- C) Okula kaydı önceden yapılmış.
- D) Bütün eksiklerini kendisi tamamlamıştı.

7. "Annem" kelimesi cümlelerin hangisinde "sözde özne" olarak kullanılmıştır?

- A) Bizi gördüğü için annem çok mutluydu.
- B) Annem, temizlik yapması için birini arıyor.
- C) Ofisin başına annem görevlendirildi.
- D) Annem olmadan kapıyı açamadım.

8. Aşağıdaki cümlelerin hangisinin nesnesine ve öznesine göre çatı özelliği farklıdır?

- A) Emrah, arkadaşlarıyla odun kırıyor.
- B) Mutfakta annesiyle yemek yiyor.
- C) Eski arkadaşlar ders kitabı yazıyor.
- D) Yeteri kadar açıklama yapıyor.

9. Aşağıdaki cümlelerden hangisi "yıkandı" fiili ile tamamlanırsa edilgen çatılı olur.

- A) Çocuklar dereye
- B) Ormandaki uzun gezinti sonrası banyosunda
- C) Bir haftadır biriken çamaşırlar
- D) Onlar havuzda

10. "Eski ateşi kalmadı; işe geç kaldığı bile oluyor." cümlesindeki altı çizili sözcük, somut anlamlı iken anlam genişlemesiyle soyut anlam kazanmıştır.

Aşağıdaki cümlelerin hangisinde benzer bir kullanım vardır?

- A) Ufaklık gazeteleri bir koşuda alıp getiriverdi.
- B) Son köşe yazısındaki taşı da bize atmıştı.
- C) Yeni fikirlerine alışmamız epey, zaman almıştı.
- D) Bahçedeki erik ağacı iki senede meyve verdi.

11. Aşağıdaki ikilemelerden hangisi farklı bir yolla oluşturulmuştur?

- A) Koşa koşa evden uzaklaştı.
- B) Kafa kafaya verip düşündük.
- C) Yaşadıkları üzerine kara kara düşünmeye başladı.
- D) En büyük hayali kızını telli duvaklı görmekti.

1. "Bazı atasözleri gerçek anlamında kullanılır."

Aşağıdaki atasözlerinden hangisi bu açıklamaya uygun kullanılmıştır?

- A) Su uyur, düşman uyumaz.
- B) Dağ ne kadar yüce olsa da yol üstünden aşar.
- C) Ağacı kurt, insanı dert yer.
- D) Minareyi çalan, kılıfı hazırlar.

2. "Hiçbir emek harcamadan, kolay yoldan kazanılan para, mal...; pek işe yaramayan zevkler uğruna harcanır. Bu nedenle çaba sarf etmeden kazandığımız şeylere bel bağlamamalıyız."

Bu durumu aşağıdaki atasözlerinden hangisi özetler?

- A) Malı çok olanın, adı çok anılır.
- B) Paranın yüzü sıcaktır.
- C) Haydan gelen, huya gider.
- D) Yemeyenin malını yerler.

3. **Aşağıdaki cümlelerden hangisi hem gerçek hem de mecaz anlamda kullanılmamıştır?**

- A) Aç doymam, tok acıkmam sanır.
- B) El, elin eşeğini türkü çağırarak arar.
- C) Denize düşen yılana sarılır.
- D) Baba koruk yer, oğlunun dişi kamaşır.

4. **Aşağıdaki cümlelerde geçen altı çizili sözcüklerin hangisi gerçek anlamında kullanılmıştır?**

- A) Çocuğun gözlerinden zekâ fıskırıyordu.
- B) Sütü süzdükten sonra iyice kaynatmalısın.
- C) Bu kadar saf olabilmene şaşırıyorum doğrusu.
- D) Yaşlı adamın söyledikleri bulunmaz bir hazineydi.

5. **Aşağıdakilerin hangisinde altı çizili sözcük terim anlamı taşımaz?**

- A) Bugün derste hangi notaları öğrendin?
- B) Kostümü iyi olmayan bir oyundan başarı beklenemez.
- C) Kaleci kurtarışları kadar başarılı penaltı vuruşlarıyla da tanınıyor.
- D) Olaylara değişik açılardan baksanız keşke.

6.

- I. Sana elin elinden bir şey alınmaz demiştim.
- II. Bu konuya da el attılar.
- III. Elini her gün hastanede sardırıyor.
- IV. Bu ay eli genişledi.

"El" sözcüğü, yukarıdaki cümlelerde hangi anlam özelliği ile kullanılmamıştır?

- A) Deyim anlamı
- B) Terim anlam
- C) Mecaz anlam
- D) Eş seslilik

7. “İbibikler öter ötmez ordayım” cümlesinde altı çizili kelimelerin cümleye kattığı anlam aşağıdakilerden hangisinde yoktur?

- A) Sütler kaymak tutar tutmaz ordayım.
- B) Okuldan gelir gelmez yüzmeye gitti.
- C) Bilir bilmez herkes bu konuda yorum yaptı
- D) Vatan borcu biter bitmez ordayım.

8. Gün doğmadan yola çıktıkları için epey yol almışlardı. Cümlesinde altı çizili sözcüğün yerine aşağıdakilerden hangisi getirilebilir?

- A) Fazla
- B) Biraz
- C) Bir miktar
- D) Bir hayli

9. Aşağıdaki cümlelerin hangisinde zıt anlamlı sözcükler bir arada kullanılmamıştır?

- A) Az tamah çok zarar getirir.
- B) Sorduğu uzun sorulara aldığı kısa cevaplar, öğretmeni sevindirdi.
- C) Ak güvercinden düşen beyaz tüy döne döne yere indi.
- D) Herkes zengin olmak isterken kimse fakirlere yardımı düşünmüyor.

10. “Geçmek” sözcüğü aşağıdakilerden hangisinde farklı bir anlamda kullanılmıştır?

- A) Köprüden geçti gelin.
- B) Gençlik yılları çalışarak geçti.
- C) Ömrünün yarısı gurbette geçti.
- D) Yaz tatilimiz çok güzel geçti.

11. Görmüş geçirmiş bir insan olarak bunu senden hiç ummazdık.

Yukarıdaki cümle için aşağıdakilerden hangisi söylenemez?

- A) Sıfat fiil içeren bir cümledir.
- B) Geçişli bir cümledir.
- C) Olumsuz bir cümledir.
- D) Edilgen bir cümledir.

1. Aşağıdakilerden hangisi “Dost kara günde belli olur.” cümlesindeki altı çizili sözcük ile aynı anlamda kullanılmamıştır.

- A) Geçirdiği kazadan sonraki kara günleri unutamadı.
- B) Bütün yakın akrabalarım bu kara günümde yanımdaydı.
- C) Kara gökler kül rengi bulutlarla kapalı.
- D) En yakın arkadaşının kara günlerinde yanında olmak için Niğde’ye gitti.

2. Aşağıdaki cümlelerin hangisinde terim anlamlı sözcük yoktur?

- A) Bu hafta fiilimsi konusunu işleyeceğiz.
- B) Tiyatro iki perdelik bir oyundan oluşuyor.
- C) Nota bilgisi olmasa da güzel çalıyor.
- D) Olaya bir de bu açıdan bakmak lazım.

3. Aşağıdaki cümlelerin hangisinde yan anlamda kullanılmış bir sözcük yoktur?

- A) Çiçekler ilgisizlikten boynunu büktü.
- B) Pantolonun paçaları biraz kısaydı.
- C) Romanın dili oldukça ağırdı
- D) Ağzı kırık şişeyi hemen attı.

4. Aşağıdaki cümlelerin hangisinde somut anlamlı bir sözcük soyut anlamda kullanılmıştır?

- A) Aramızdaki dostluk kolay kolay bozulmaz.
- B) Ali’nin mangal gibi bir yüreği var.
- C) Güzel sözleri beni çok duygulandırdı.
- D) Çaresiz kalınca annesini aradı.

5. Kılığın kıyafetin sarmadı beni
Söylediğin türküler bizim türkümüz değil
Başka çeşmelerden doldurmuşsun tasını
Yüreğinde nakış yok, acı yok bizden

Y. Bülent BAKİLER

Yukarıdaki şiirde altı çizili kelime aşağıdakilerden hangisinde farklı anlamda kullanılmıştır.

- A) Ortaya attığı fikir kimseyi sarmadı.
- B) Doğum gününde aldığı hediyeler onu pek sarmadı.
- C) Bütün uyarılara rağmen teknisyenler açıktaki kabloları sarmadı.
- D) Ablamın ördüğü atkı annemi pek sarmadı.

6. Aşağıdaki cümlelerde geçen altı çizili sözcüklerden hangisi somut anlamlı olduğu halde cümlede soyut bir anlam kazanmıştır?

- A) İnsanlarla ilişkilerinde her zaman sorun yaşadı.
- B) Hasta üç gündür yoğun bakımda yaşam mücadelesi veriyordu.
- C) Seyahate giderken parayı idareli kullanması için sıkı sıkı tembih etti.
- D) Yufka yüreği yaşadıklarına daha fazla dayanamadı.

7. “Almak” sözcüğü aşağıdakilerden hangisinde “Verilen öğüdü alır, davranışlarını hemen düzeltirdi.” Cümlesindeki anlamıyla kullanılmıştır?

- A) Annesi düğün için yeni elbise almış.
- B) Anlatılanlardan bir tek o ders almış.
- C) Müzik yeteneğini dedesinden almış.
- D) Bebek sarı saçlarını annesinden almış.

8. Aşağıdaki cümlelerin hangisinde soyut anlamlı kelime somut anlamda kullanılmıştır.

- A) Okumayı öğrendikçe öğretmenine duyduğu sevgi artıyordu.
- B) Ablamı dinleyince bütün olumsuz düşüncelerimden sıyrıldım.
- C) Küçük bir gülümseme çok büyük dertlere merhem olabilir
- D) Babasının akıllısı nasıl da çabuk anlarmış konuyu.

9. Aşağıdaki cümlelerin hangisinde özelden genele doğru bir sıralama yapılmıştır?

- A) Palmiye uzun ömürlü bir ağaçtır.
- B) Halk kahramanımız Nasrettin Hoca fıkralarıyla hala yaşamaktadır.
- C) Kalem kutumdan kalemtraşımı verir misin?
- D) Bütün derslerimi tekrar edip Türkçe testi çözdüm.

10. Aşağıdaki cümlelerin hangisinde altı çizili söz cümleye farklı bir anlam katmıştır?

- A) Gittikçe benden uzaklaşıyorsun.
- B) Bebek gün geçtikçe güzelleşiyor.
- C) Her geçen gün seni daha çok özleyorum.
- D) Davranışları zaman zaman bizi zor durumda bırakıyor.

11. Aşağıdaki ikilemelerden hangisi kuruluş yönünden diğerlerinden farklıdır?

- A) Ses seda
- B) Kılık kıyafet
- C) Eş dost
- D) Ufak tefek

12. Aşağıdaki cümlelerin hangisinde yan anlamlı sözcük kullanılmamıştır.

- A) Dolabın gözündeki mumlara verir misin?
- B) Kapının kolunu kırmayı nasıl başardın?
- C) İstanbul Boğazı vapur trafiğine kapatıldı.
- D) El ele verip bu işi halledemez miyiz?

MATEMATİK

1.

$$\begin{aligned}x + y &= 8 \\x - y &= 2\end{aligned}$$

Denklemlerini birlikte sağlayan (x,y) sıralı ikilisi aşağıdakilerden hangisidir?

- A) (3, 5) B) (5, 3)
C) (-3, 5) D) (-5, 3)

2.

$$\begin{aligned}3a + 4b &= 5 \\2a + 5b &= 8\end{aligned}$$

Denklemlerini birlikte sağlayan a kaçtır?

- A) -1 B) 2
C) 1 D) -2

3.

$$\begin{aligned}x + y - 3 &= 0 \\2x - 3y + 4 &= 0\end{aligned}$$

Denklemlerini birlikte sağlayan (x,y) sıralı ikilisi aşağıdakilerden hangisidir?

- A) (2,1) B) (-4,0)
C) (2,3) D) (1,2)

4.

$$\begin{aligned}2x + y &= 7 \\x - 2y &= -4\end{aligned}$$

Denklemlerini birlikte sağlayan (x,y) sıralı ikilisi aşağıdakilerden hangisidir?

- A) (3,2) B) (-4,0)
C) (2,3) D) (-2,1)

5.

$$\begin{aligned}3x - y &= 10 \\-x + 2y &= 5\end{aligned}$$

Denklemlerini birlikte sağlayan (x,y) sıralı ikilisi aşağıdakilerden hangisidir?

- A) (5,5) B) (2,5)
C) (5,0) D) (0,5)

6.

$$\begin{aligned}\frac{x}{4} &= \frac{y}{5} \\-y + x &= -4\end{aligned}$$

ise y kaçtır?

- A) 12 B) 20
C) 36 D) 12

7.

$$\frac{1}{x} + \frac{1}{y} = -\frac{2}{3}$$

$$\frac{2}{x} - \frac{3}{y} = \frac{11}{3}$$

Denklemlerini birlikte sağlayan y değeri aşağıdakilerden hangisidir?

A) -1

B) -2

C) 2

D) 1

8.

$$\begin{aligned} 3x+y &= 1 \\ 4x-2y &= 8 \end{aligned}$$

Denklemlerini sağlayan sıralı ikili (x,y) olduğuna göre x-y kaçtır?

A) -2

B) -1

C) 1

D) 3

9.

$$\begin{aligned} ax+by &= -2 \\ bx-ay &= -1 \end{aligned}$$

Denklemlerini sağlayan (x,y) sıralı ikilisi (1,2) olduğuna göre, a kaçtır?

A) 2

B) 1

C) 0

D) -1

10.

$$\begin{aligned} 2x+3y &= 12 \\ 3x-2y &= 5 \end{aligned}$$

Denklemlerini sağlayan (x, y) sıralı ikilisi aşağıdakilerden hangisidir?

A) (3, 2)

B) (-3, 2)

C) (-3, 2)

D) (3, -2)

11.

$$\begin{aligned} 5x+3y &= -5 \\ x-y &= 7 \end{aligned}$$

Denklemlerini sağlayan (x, y) sıralı ikilisi aşağıdakilerden hangisidir?

A) (9,-2)

B) (9,2)

C) (5,-2)

D) (2,-5)

12.

$$\begin{aligned} 3a+5 &= b \\ 4a+b &= 19 \end{aligned}$$

Denklemlerini sağlayan (a,b) sıralı ikilisi aşağıdakilerden hangisidir?

A) (-2, 11)

B) (2, 8)

C) (2,- 8)

D) (2, 11)

1. $\frac{2}{x} - \frac{3}{y} = 3$

$$\frac{3}{x} + \frac{3}{y} = 2$$

Denklem sistemini sağlayan (x, y) sıralı ikilisi aşağıdakilerden hangisidir?

- A) (1,-3) B) (1,3)
C) (-1,3) D) (-1,-3)

2. $\frac{x}{2} + \frac{y}{3} = 6$

$$y - \frac{x}{5} = 1$$

Denklem sistemini sağlayan (x, y) sıralı ikilisi aşağıdakilerden hangisidir?

- A) (10,3) B) (9,4)
C) (-5,2) D) (7,6)

3. İki sayının farkı 100, toplamı 50 'dir. Buna göre, bu iki sayıdan büyük olanı kaçtır?

- A) 100 B) 75
C) 50 D) -25

4. Bir atlet her gün düzenli olarak havanın yağışlı olduğu günlerde 5 km, yağışsız günlerde 7 koşmaktadır. Yağışsız gün sayısı yağışlı gün sayısının iki katıdır.

Bu atlet toplamda 76 km koştuğuna göre, kaç gün yağışlı havada koşmuştur?

- A) 4 B) 8
C) 10 D) 12

5. Elif, 5ve 6 puandan oluşan 18 soruluk bir sınava girmiştir. Bu soruların tamamını doğru cevaplayarak 100 puan almıştır.

Buna göre Elif, 6 puanlık kaç soruyu doğru çözmüştür?

- A) 6 B) 8
C) 10 D) 12

6. Ali marketten tanesi 2 lira ve 3 liralık çikolatalardan toplam 8 tane almış ve 22 lira ödemiştir.

Buna göre Ali 3 liralık çikolatalardan kaç tane almıştır?

- A) 6 B) 4
C) 3 D) 2

7. 5 TL ve 10 TL liklerden oluşan 24 adet paranın toplam değeri 200 TL dir.

Buna göre, bu paraların kaç tanesi 10 TL liktir?

- A) 8 B) 12
C) 14 D) 16

8. Bir otelde 25 oda vardır. Odaların bir kısmı 2 yataklı, kalan kısmı 3 yataklıdır. Bu otelde toplam 65 yatak vardır.

Odaların kaçının 2 yataklı kaçının 3 yataklı olduğunu bulabileceğimiz denklem sistemi aşağıdakilerden hangisi olabilir?

- A) $x+y=25$
 $2x+3y=65$ B) $x+y=65$
 $2x+3y=25$
C) $x+y=25$
 $x+3y=65$ D) $x+y=25$
 $2x+y=65$

9. Toplamları 124 olan iki sayıdan büyük sayının yarısı ile küçük sayının 2 katının toplamı 137 olduğuna göre büyük sayı kaçtır?

- A) 50 B) 62
C) 70 D) 74

10. Aşağıdakilerden hangisi $x = 5$ doğrusu ve $y = 3$ doğrusunun kesişim noktasından geçer?

- A) $\frac{x+1}{2} - 2y = 12$ B) $\frac{2x}{5} + 4y = 45$
C) $\frac{x}{2} + y = 21$ D) $x + 2y = 11$

11. 20 kişilik bir grup tiyatroya giderek toplam 104 TL bilet parası vererek bilet alıyor. Bilet fiyatları 7 yaşından küçükler için 4 TL, büyükler için 6 TL dir.

Buna göre, tiyatroya gidenlerden kaç 7 yaşından küçüktür?

- A) 8 B) 10
C) 12 D) 14

12. Denklemleri $x-2y=-3$ ve $y-2x=9$ olan iki doğrunun kesiştikleri noktanın koordinatları aşağıdakilerden hangisidir?

- A) (-1,-5) B) (-5,-1)
C) (-1,5) D) (5,-1)

1. Denklemleri $x-2y=-3$ ve $y-2x=9$ olan iki doğrunun kesiştikleri noktanın koordinatları aşağıdakilerden hangisidir?

- A) (-1,-5) B) (-5,-1)
C) (-1,5) D) (5,-1)

2. $y=-x+6$ denklemi, apsis ekseni ve ordinat ekseni arasında kalan bölgenin alanı aşağıdakilerden hangisidir?

- A) 36 B) 72
C) 18 D) 24

3. $x - y = -2$ ve $x + y = 6$ denklemlerini sağlayan noktanın x eksenine olan uzaklığı kaç birimdir?

- A) 2 B) 3
C) 4 D) 6

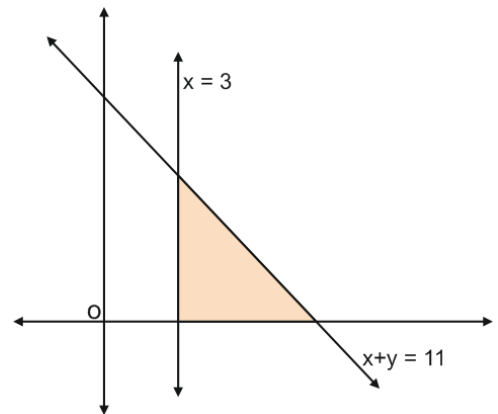
4. Koordinat düzleminde denklemleri $y = 4 - 2x$ ve $y = x$ olan doğruların grafiği ile x ekseninin sınırladığı bölgenin alanı kaç birim karedir?

- A) $\frac{2}{3}$ B) 2
C) $\frac{4}{3}$ D) $\frac{8}{3}$

5. Aşağıdakilerden hangisi $-2x+3y=24$ denklemi, apsis ve ordinat ekseninin sınırladığı alanın dışında kalır?

- A) (-1,2) B) (-2,1)
C) (1,-2) D) (-2,2)

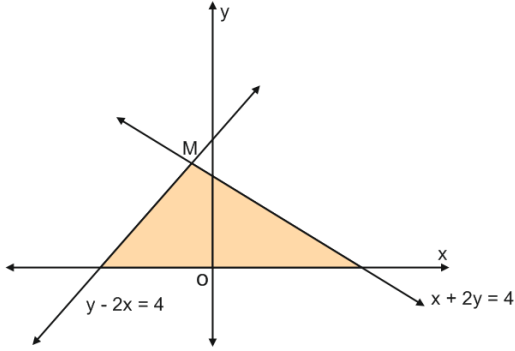
6.



Yukarıda koordinat düzleminde verilen iki doğru K noktasında kesiştiğine göre doğruların grafiği ile x ekseninin sınırladığı bölgenin alanı kaç birim karedir?

- A) 18 B) 20
C) 24 D) 32

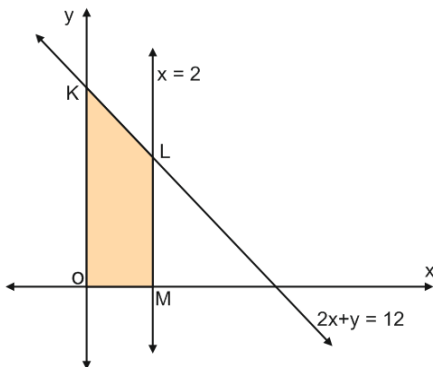
7.



Yukarıda koordinat düzleminde verilen iki doğru M noktasında kesiştiğine göre boyalı bölgenin alanı kaç birim karedir?

- A) 8,4 B) 7,2
C) 6 D) 4,8

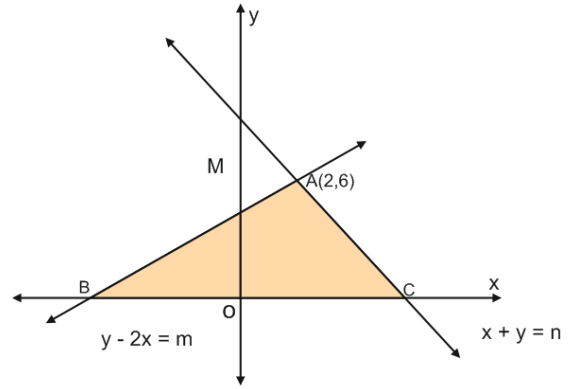
8.



Yukarıda koordinat düzleminde verilen iki doğru B noktasında kesiştiğine göre OABC yamuğunun alanı kaç birim karedir?

- A) 20 B) 16
C) 14 D) 12

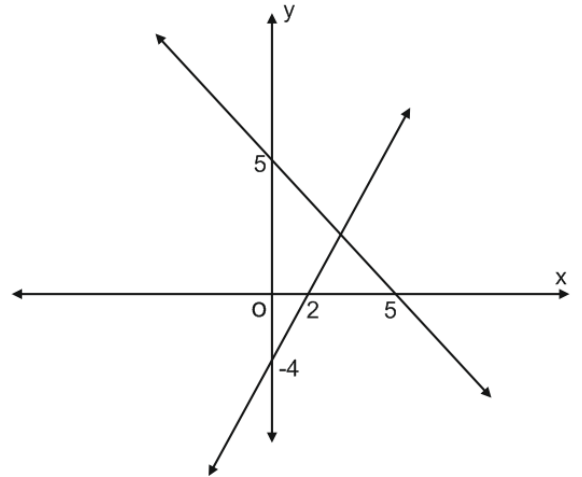
9.



Koordinat düzleminde $x+y = n$ ve $y=2x+m$ doğruları verilmiştir. $A(2,6)$ noktası bu iki doğrunun kesişim noktası olduğuna göre, ABC üçgeninin alanı kaçtır?

- A) 25 B) 27
C) 32 D) 40

10.



Grafikte çözümü verilen denklem sistemi aşağıdakilerden hangisidir?

- A) $x + y = 5$
 $2x - y = 4$ B) $x - y = 5$
 $2x + y = 4$
C) $5x + 5y = 1$
 $2x - 4y = 1$ D) $5x + 5y = 3$
 $2x - 4y = 2$

FEN ve TEKNOLOJİ



1.

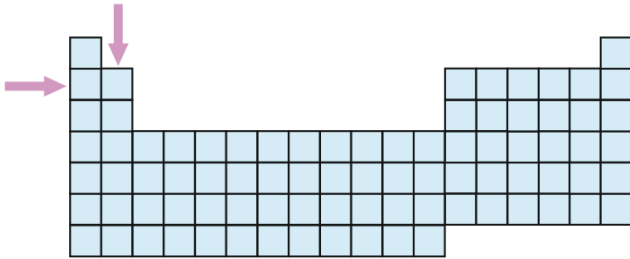


Mendeleev, Meyer, Moseley, bilim tarihine isimlerini yazdırmış önemli bilim insanlarıdır.

Yukarıda verilen bu bilim insanlarının çalışmalarının ortak yönü aşağıdakilerden hangisidir?

- A) Elementleri çeşitli özelliklerine göre sınıflandırmaları
- B) Atom modelleri oluşturmaları
- C) Nükleer çalışmalar yapmaları
- D) Elementlerin varlığını keşfetmeleri

2. Periyodik cetvelle ilgili olarak;



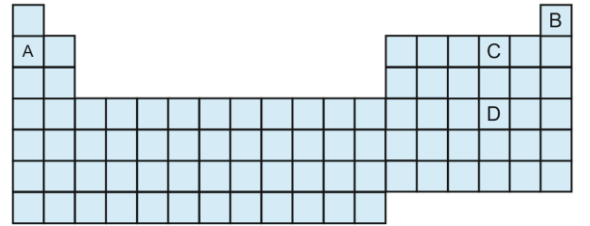
Aşağıdakilerden hangisi yanlıştır?

- A) Yatay sıralara periyot denir.
- B) Dikey sıralara grup denir.
- C) Aynı gruptaki elementlerin son katmanındaki elektron sayıları genellikle aynıdır.
- D) Aynı periyottaki elementler benzer kimyasal özelliklere sahiptir.

3. Periyodik cetvelde periyot ve gruplarla ilgili olarak verilen aşağıdaki bilgilerden hangisi hatalıdır?

- A) Periyodik cetvelde yatay satırlar periyotları oluşturur ve değerlik e⁻ sayısına göre belirlenir.
- B) Periyodik cetvelde dikey sütunlar grupları oluştururlar ve son yörüngelerindeki e⁻ sayılarına göre belirlenir.
- C) Aynı gruptaki elementler benzer kimyasal özellik gösterirler.
- D) Aynı periyottaki elementlerin kimyasal özellikleri farklıdır.

4. Aşağıdaki periyodik cetvelde bazı elementlere yer verilmiştir.



Verilen bu elementlerle ilgili olarak aşağıdakilerden hangisi yanlıştır?

- A) Atom numarası en küçük olan B'dir.
- B) A ve C benzer kimyasal özelliklere sahiptir.
- C) C ve D aynı gruptadır.
- D) Periyodu en büyük olan D'dir.

5. Periyodik cetvelle ilgili olarak;

Aşağıdakilerden hangisi yanlıştır?

- A) Her periyot bir metal ile başlar ve bir soygaz ile biter.
- B) Periyodik tablonun sol tarafında metaller, sağ tarafında ise daha çok ametaller bulunur.
- C) Metal atomların sayısı ametal atomları sayısından fazladır.
- D) Metaller elektron vermeye, ametaller ise elektron almaya yatkındır.

6.

Periyodik tabloda aynı grupta yukarıdan aşağıya doğru inildikçe aşağıdaki değişimlerden hangisi gerçekleşmez?

- A) Yörünge sayısı artar.
- B) Atom numarası artar.
- C) Elektron sayısı artar.
- D) Grup numarası artar.

7.

Periyodik çizelgede soldan sağa doğru ilerledikçe aşağıda verilen özelliklerden hangisi değişmez?

- A) Atom numarası
- B) Periyot numarası
- C) Metalik özellik
- D) Ametalik özellik

8. Periyodik tablo hakkında verilen bilgilerden hangisi doğrudur?

- A) Kimyasal özellikleri benzer elementler aynı periyotta yer almıştır.
- B) Periyodik tablonun sol tarafında metaller, sağ tarafında ametaller bulunur.
- C) Periyodik tablo 9 periyottan oluşmuştur.
- D) Periyodik tabloda yatay satırlara grup adı verilir.

9. Bazı element grupları;

- I. Isı ve elektriği iletmezler.
- II. Tel ve levha haline getirilemezler.
- III. Oda sıcaklığında katı, sıvı ya da gaz halinde bulunabilirler.

Yukarıdaki özellikleri verilen element grubu aşağıdakilerden hangisidir?

- A) Metaller
- B) Ametaller
- C) Yarı Metaller
- D) Geçiş Metalleri

1. Elementlerin sınıflandırılması ile ilgili olarak;
- I. Dobereiner elementleri 3'lü gruplara ayırmıştır.
 - II. Newlands elementleri atom kütlelerine göre sıralamıştır.
 - III. Moseley elementleri periyodik cetvelde proton sayısına göre sıralamıştır.

Bilim insanlarının yaptığı çalışmalarla ilgili olarak yukarıdaki verilen ifadelerin hangisi ya da hangileri doğrudur?

- A) Yalnız I B) I ve II
C) I ve III D) I, II ve III

2.



Öğretmen: "Türkiye haritasının bir periyodik çizelge olduğunu düşünürseniz; Niğde'nin bulunduğu kısımda hangi tür elementler yer alırdı?" sorusunu öğrencilerine yöneltiyor.

Yukarıda verilen öğretmenin sorusuna aşağıdakilerden hangisi cevap olarak verilebilir?

- A) Isıyı iletmeyen elementler
B) Elektriki iyi ileten elementler
C) Kırılgan elementler
D) Oda sıcaklığında gaz halinde olan elementler

3. Aşağıdaki bilim insanlarından hangisi elementleri periyodik cetvelde atom numarasına göre sıralamıştır?

- A) Dobereiner
B) Newlands
C) Meyer
D) Moseley

NİĞDE MİLLİ EĞİTİM MÜDÜRLÜĞÜ ARGE BİRİMİ ÇALIŞMASIDIR

4.

H
Li
Na
K

Yukarıda aynı gruptaki elementler verilmiştir. Buna göre aşağıdakilerden hangisi yanlıştır?

- A) Hepsi 1A grubuna ait metallerdir.
B) Aşağı doğru inildikçe atom numarası artar.
C) Potasyumun metalik özelliği en fazladır.
D) Buldukları grubun özel adı Alkali Metaldir.

1. Atom numarası en küçük olan element için aşağıdakilerden hangisi yanlıştır?

- A) 1. Periyot 1A grubu elementidir.
 B) Metaller ile bağ yapamaz ama alaşım yapar.
 C) Roketlerde yakıt olarak kullanılır.
 D) Petrolün işlenmesinde kullanılır.

2. "He" elementinin son yörüngesinde $2e^-$ bulunmasına rağmen 8A grubu elementi olmasının sebebi aşağıdakilerden hangisidir?

- A) Oktet kuralına uyması
 B) Doğada gaz halde bulunması
 C) Son e^- katmanının tam dolu olması
 D) Tek bir elektron yörüngesine sahip olması

3.

	He	Na	Br	Hg
Parlak		✓		
Elektriği iletir		✓	✓	✓
Katı		✓		
Gaz	✓			
Sıvı			✓	✓

Yukarıdaki tabloda özellikleri verilen elementlerin hangisinde yanlışlık yapılmıştır?

- A) Hg
 B) Na
 C) Br
 D) He

4. • Çeliğin sertleştirilmesinde kullanılır.
 • Reklam panosu üretiminde kullanılır.
 • Organik maddelerin temel yapısında bulunur.
 • Paslanmanın temel sebebidir.

Yukarıda verilen özelliklere göre aşağıdaki elementlerin hangisi açıkta kalır?

- A) Cu
 B) Ne
 C) C
 D) O

5.

Isı ve elektriği iyi iletir.

Tel ve levha haline getirilebilir.

Elektron vermeye yatkındır.

Yukarıda özellikleri verilen element aşağıdakilerden hangisi olamaz?

- A) ${}_{20}\text{Ca}$
 B) ${}_{16}\text{S}$
 C) ${}_{11}\text{Na}$
 D) ${}_{3}\text{Li}$

6. Aşağıda bazı elementler ve bu elementlerin kullanım alanları verilmiştir.

Aşağıdakilerden hangisinde Element-Kullanım alanı eşleştirmelerinden hangisi yanlış verilmiştir?

	ELEMENT	KULLANIM ALANI
A)	He	Zeplin ve Balonda
B)	Li	Pilde
C)	Ne	Reklam panolarında
D)	Ar	Roketlerde yakıt olarak

7.



Elementleri için;

- I. Kimyasal özellikleri
- II. Periyot numaraları
- III. Grup numaraları

Yukarıda verilen özelliklerden hangileri benzerdir?

- A) Yalnız II B) I ve III
C) II ve III D) I,II ve III

8.

Atom	Son katmandaki elektron sayısı
G	2
F	8
B	2

Son katmanlarındaki elektron sayıları verilen G, F ve B elementleri ile ilgili;

- I. G ve B aynı grupta yer alır.
- II. F kararlıdır.
- III. B metaldir.

Yargılarından hangisi ya da hangileri **kesinlikle** söylenebilir?

- A) Yalnız I B) Yalnız II
C) I ve II D) I,II ve III

9.

Elektron dağılımı verilen Al elementi için aşağıdakilerden hangisi **söylenemez**?

- A) 3A grubu elementidir.
B) Atomik yapıdadır.
C) Oda koşullarında katı haldedir.
D) Metallerle iyonik bağ yapar.

10.

Element	1. katman	2. katman	3. katman
X	2	8	2
Y	2	6	-
Z	2	8	6

Elektron dağılımı sonucu katmanlardaki elektron sayıları tablodaki gibi olan X, Y, Z atomları ile ilgili aşağıda verilen yargılardan hangisi **söylenemez**?

- A) Y ve Z aynı grupta bulunur.
B) X alkali metaldir.
C) Z, 2 elektron alarak karalı hale geçer.
D) X ve Z aynı periyotta bulunur.

İNKILAP TARİHİ ve ATATÜRKÇÜLÜK

1. " Sevr antlaşmasıyla Osmanlı Devleti'nin ve Türk Milletinin birçok hakkı çğnenmiştir ancak Milli Mücadele ve Lozan Antlaşması'yla bir çok hakkımızı tekrar kazandık.

Diyen bir öğretmen aşağıdaki maddelerden hangisinde yanlış bir bilgi vermiştir?

- A) Boğazlar üzerinde tam hakimiyet sağlanmıştır.
- B) Hatay, Musul ve batı Trakya hariç Misakı Milli sınırlarına ulaşılmıştır.
- C) Kapitülasyonlar kaldırılmıştır.
- D) T.B.M.M'nin varlığı artık bütün İtilaf Devletleri'nce kabul edilmiştir.

2. Sevr antlaşmasında bütün İtilaf Devletleri'nin yararlanacağı şekilde genişletilerek yeniden yürürlüğe konulacaktır.

Denilen ancak Lozan antlaşmasında tamamen kaldırılan ve çok tartışılan madde aşağıdakilerden hangisidir?

- A) Boğazlar Meselesi
- B) Kapitülasyonlar Meselesi
- C) Sınırlar Meselesi
- D) Dış Borçlar Meselesi

3. İtilâf devletleri, Lozan Konferansı öncesinde Türk tarafının gücünü bölmek ve ikilik çıkararak istediklerine ulaşmak için, nasıl bir taktik uygulamışlardır?

- A) Türkiye'nin Milletler Cemiyeti'ne girişini engellemişlerdir
- B) İngiltere, Irak sınırına asker yığmıştır
- C) Fransa, Hatay'a asker göndermiştir
- D) İstanbul Hükûmeti'ni de konferansa çağırılmışlardır

4. Lozan'da İtilâf devletlerinin Sevr'in Türkiye'yi esarete mahkûm eden şartlarını ısrarla sürdürmeleri, aşağıdakilerden hangisine sebep olmuştur?

- A) Anlaşmanın imzalanmasına.
- B) Boğazlar Komisyonu'nun kurulmasına.
- C) Görüşmelerin kesilmesine.
- D) İsmet Paşa'nın Türk delegelerinin başkanlığından alınmasına.

5. Lozan Antlaşması'nın Türkiye Büyük Millet Meclisi'nde kabul edilmesinden sonra, işgal kuvvetleri İstanbul'dan Türk Bayrağımızı selamlayarak ayrılmışlardır.

Bu durum Atatürk'ün, aşağıdaki sözlerinden hangisinin gerçekleştiğini gösterir?

- A) Ordular ilk hedefiniz akdeniz, ileri!
- B) Hayatta en hakiki mürşit ilimdir.
- C) Geldikleri gibi giderler.
- D) Hattı müdafaa yoktur, sathı müdafaa vardır.

6. Lozan Barış Antlaşması, yeni Türk Devleti'nin siyasi, sosyal ve ekonomik açıdan tam bağımsız hale gelmesini sağlamıştır.

Antlaşmanın aşağıdaki maddelerinin hangisinden böyle bir hüküm çıkarılamaz?

- A) Azınlıklar Türk vatandaşı sayılacak.
B) Kapitülasyonlar kaldırılacak
C) Boğazlar uluslararası bir komisyonun idaresine bırakılacak.
D) Yeni Türk Devleti'nin bağımsızlığı tanınacak.

7. Sevr Antlaşması, 10 Ağustos 1920 tarihinde I. Dünya Savaşı'nı bitiren ve imzalanan son barış antlaşması olarak kabul edilmiş ancak uygulanmamıştır?

Sevr Antlaşması'nın uygulanmamasında aşağıdakilerden hangisinin etkili olduğu söylenemez?

- A) I. Dünya Savaşı'nın bu tarihe kadar devam etmiş olmasının
B) Osmanlı Mebusan Meclisi kapatıldığı için antlaşmanın ulusal iradenin onayından geçmemesinin
C) Türk milletinin antlaşmayı uygulatmamak için giriştiği bağımsızlık savaşında başarılı olmasının
D) TBMM'nin antlaşmayı hukuksal açıdan geçersiz ilan etmesinin

8. Lozan Barış Antlaşması'na göre;

- Lozan Barış Antlaşması ile Boğazların yönetimi başkanı Türk olan bir komisyona bırakılmıştır.
- Türkiye'de yaşayan azınlıklar Türk Vatandaşı sayılmıştır.
- Kapitülasyonlar kaldırılmıştır.

Lozan Barış Antlaşması'nın bu maddeleri dikkate alındığında, aşağıdakilerden hangisine ulaşılamaz?

- A) Yabancı devletlerin içişlerimize müdahalesi engellenmiştir.
B) Boğazlar üzerinde egemenlik haklarımız sağlanmıştır.
C) Ekonomik bağımsızlığımız sağlanmıştır.
D) Boğazlarda Türk egemenliği tümüyle sağlanamamıştır.

9. Lozan Konferansı'nda İtilaf Devletleri ile Türkiye arasında sert tartışmalar yaşandı. Görüşmelerde Türk heyeti tarafından dile getirilen Kapitülasyonların kaldırılması ve Doğu Anadolu'nun Ermenilere verilmesinden vazgeçilmesi gibi istekler kabul edilmedi. Bu gelişmeler üzerine 4 Şubat 1923'te Konferans dağıldı.

Verilen bilgilere bakılarak aşağıdakilerden hangisine ulaşılamaz?

- A) Anadolu'daki Ermeniler yok edilmek istenmiştir.
B) Vatanın bütünlüğü korunmak istenmiştir.
C) Türk heyeti Türk Milletinin hassas olduğu konuları dikkate almıştır.
D) Ekonomik kısıtlamaların kabul edilmeyeceği belirtilmiştir.

1. İtilaf Devletleri, Kurtuluş Savaşı devam ederken ve sonrasında Türk Milletinin ve vatanının geleceği ile ilgili görüşmelere TBMM Hükümeti'ni ve İstanbul Hükümeti'ni birlikte çağırmıştır. Bu şekilde aralarındaki fikir ayrılıklarından yararlanmak ve isteklerini kabul ettirmek istemişlerdir.

Buna göre;

- I. Londra Konferansı
- II. Mudanya Ateşkes Antlaşması
- III. Lozan Barış Antlaşması

Gelişmelerinden hangisi ya da hangileri yukarıda verilen bilgileri doğrulamaktadır?

- A) Yalnız I
- B) I - II
- C) I - III
- D) I - II ve III

3. Kapitülasyonların kaldırılmasıyla Türkiye'nin bağımsızlığı gerçekleştirilmiş oldu.

Yukarıdaki cümlede boş bırakılan yere aşağıdakilerden hangisi getirilmelidir?

- A) Ekonomik
- B) Siyasi
- C) Ulusal
- D) Sosyal

4. Lozan Antlaşmasında "Boğazlar Türkiye'ye verilecek ancak, Boğazlar'ın her iki yakası askersizleştirilecek, Boğazlar'ı, başkanı Türk olan uluslararası bir komisyon yönetecek" denilmektedir.

Buna bilgilere göre;

- I. Boğazların güvenliğinin tam olarak sağlanamamıştır
- II. Boğazlar üzerinde Misak-ı Milli kesin olarak gerçekleştirilmiştir
- III. Boğazlar'ın yönetiminde birden fazla devlet söz sahibidir.

Öncüllerden hangisi ya da hangileri yukarıda verilen bilgileri doğrulamaktadır?

- A) Yalnız I
- B) Yalnız II
- C) I ve III
- D) II ve III

5. Aşağıdaki maddelerden hangisi Lozan Antlaşmasına göre "Yunanistan'ın bu savaştan yenik ayrıldığını ve savaşın suçlusu olduğunu" kanıtlar

- A) Yunanistan'ın savaş tazminatı olarak Karaağaç'ı Türkiye'ye vermesi
- B) Boğazlar'da uluslararası bir komisyon kurulması
- C) Kapitülasyonların kaldırılması
- D) Hatay'ın Suriye'de bırakılması

6. "... Ankara, vatanın bağımsızlığı davasından kendi varlığının müdafaasını anlamış ve bunun neticesinde

Sakarya Harbi'nin en önemli günlerinde memleket ufukları top sesleri ile sarsılırken bile sarsılmayan iman ile kalmıştır. Ankaralılar yeni hükûmetin uyanma ve yol göstermesi ile emek ve gayretlerini yeni ilkeler etrafında toplayarak memleketlerini cihanın sayılan, meşhur şehirleri arasına dâhil edecektir. Onlara övünmeleri için Fevzi Paşa hazretlerinin Sakarya Zaferi'nden hemen sonra Ankara Belediye Başkanı'na çektiği şu telgraf yeterlidir:

"Ordumuzun eşsiz fedakârlığı ile kazanılan muzafferiyetten dolayı yaptığınız kutlamalara teşekkür eyler ve düşman ordusuna indirilen yok edici darbeye Ankara halkının yardımlarını takdirle yâd ederim efendim." (1)

Rifat Börekçi

Ankara Müftüsü Rifat Börekçi tarafından okunan bu telgrafa bakarak aşağıdakilerden hangisi Ankara'nın Başkent oluşunu açıklar?

- A) Batı cephesine yakın oluşu.
- B) Anadolunun Merkezinde oluşu
- C) Ulaşım ve haberleşme araçlarına sahip oluşu.
- D) Ankara Halkının Milli Mücadeleye ve meclise destek vermesi.

7. Sevr Antlaşması'nda İtilaf Devletleri'nin yararlanacağı şekilde genişletilerek yeniden yürürlüğe konulacaktır.

Denilen ancak Lozan antlaşmasında tamamen kaldırılan ve çok tartışılan madde aşağıdakilerden hangisidir?

- A) Boğazlar Meselesi
- B) Kapitülasyonlar Meselesi
- C) Sınırlar Meselesi
- D) Dış Borçlar Meselesi

8. Ankara Milli Mücadele merkezi seçilirken;

- I. Batı cephesine yakın olması
- II. Haberleşme ve ulaşım imkânlarının olması.
- III. Merkezi bir konumda olup savunmasını kolay olması.

gibi sebepler vardı. Başkent olarak seçilmesinde ise hangi aynı sebepler geçerlidir.

- A) Yalnız II
- B) I ve II
- C) II ve III
- D) I, II ve III

1. “Ankara bulunduğu konum itibariyle batı cephesine yakın olup hem ulaşım hem de haberleşme yönünden avantajlı bir konumdadır”.

Buna göre Ankara'nın milli mücadele de merkez seçilmesinde hangi özelliği vurgulanmıştır?

- A) Stratejik konumu
- B) Ekonomik durumu
- C) Toplumsal yapısı
- D) İdari yapısı

3. Ankara, TBMM’de hazırlanan kanun teklifiyle 13 Ekim 1923’te Türkiye Devleti’nin resmen başkenti olmuştur.

Ankara'nın başkent olarak seçilmesinde aşağıdakilerden hangisi etkili olmamıştır?

- A) Ankara'nın coğrafi konumu
- B) Ankara'nın Milli Mücadele'deki rolü
- C) Kurtuluş Savaşı'nın yönetim merkezi olması
- D) Anadolu'nun ekonomik olarak gelişmiş bir şehri olması

NİĞDE MİLLİ EĞİTİM MÜDÜRLÜĞÜ ARGE BİRİMİ ÇALIŞMASIDIR

2.

Milli Mücadele yıllarında Ankara önemli olaylara ev sahipliği yapmıştır. Bu yüzden Ankara, resmen ilan edilmemiş olsa da yeni Türk devletinin başkenti durumundaydı.

Ankara'nın başkent yapılmasında aşağıdaki gelişmelerden hangisi etkili olmamıştır?

- A) Kuvayı Milliye'nin merkezi konumunda bir şehir olması
- B) Kurtuluş Savaşı ile ilgili önemli kararların alındığı şehir olması
- C) Büyük Millet Meclisi'ne ev sahipliği yapması
- D) Milli Mücadelenin yönetim merkezi olması

4.



Yukarıdaki diyagrama en uygun başlık aşağıdakilerden hangisidir?

- A) Harf İnkılâbı
- B) Ankara'nın başkent seçilmesinde etkili olan faktörler
- C) Halifeliğin kaldırılması
- D) Hukuk alanında yenilikler

5. Aşağıdaki iki resimde Başkentimiz Ankara'ya aittir,
1. Resim Cumhuriyetin İlk yıllarına ait 2. si ise Ankara'nın günümüzdeki halini gösterir.



Bu resimlerden yola çıkar isek aşağıdaki ifadelerden hangisi doğru olur?

- A) Ankara Cumhuriyetten önce de gelişmiş bir şehirdir.
B) Ankara tarım şehridir.
C) Ankara Başkent olarak sürekli gelişmiştir.
D) Ankara gelişmiş bir şehir olduğu için başkent olmuştur.
6. Yeni Türkiye'nin inşası gerçekleşirken yürütülen imar(bayındırlık) faaliyetleriyle ilgili bir çok tartışmalar yaşanmıştır. Hatta bir gün Atatürk, yol yapımı çalışmalarında bir mimar ile hararetli tartışmalar içerisine girer. Yolun genişliği konusunda daha geniş olmasını savunan Atatürk'ün bu tavrının gerekçesi aşağıdakilerden hangisi olabilir?
- A) Bayındırlık faaliyetlerinin planlı ve geleceğe yönelik olması.
B) Dış devletlere karşı güçlü görünme isteği.
C) İmar maliyetlerinin yüksek olması.
D) Ast-üst ilişkisi gereği.
7. 1 Kasım 1922'de Saltanat kaldırılmış 622 yıllık Osmanlı Hanedanlığına son verilmiştir.

- I. Kurtuluş Savaşı'nı TBMM Hükümeti'nin kazanması,
II. TBMM'de saltanat yanlısı kişilerin bulunması
III. İstanbul Hükümeti'nin milli mücadeleye karşı olduğu için halk desteğini yitirmesi
VI. Lozan Görüşmelerine İstanbul hükümetinin de davet edilmesi

Durumlarından hangileri, saltanatın kaldırılmasını hızlandıran sebepler arasında gösterilebilir?

- A) I ve II
B) I ve III
C) II ve IV
D) Yalnız IV

8.

- I. Cumhuriyetin ilanı için zemin hazırlanmıştır.
II. Lozan Konferansı'nda İtilaf Devletleri'nin ikilik çıkarmasına engel olunmuştur.
III. TBMM'nin açılışından sonra ikinci büyük inkılap gerçekleştirilmiştir.

Yukarıda verilen bilgiler aşağıdakilerden hangisiyle doğrudan ilgilidir.

- A) Halifeliğin kaldırılması
B) Cumhuriyetin ilanı
C) Saltanatın kaldırılması
D) Lozan antlaşmasının imzalanması

DİN KÜLTÜRÜ ve AHLAK BİLGİSİ

1. "8.Sınıf öğrencisi olan Sevde,katıldığı "Siyer-i Nebi" yarışmasında birinci olmuş ve kutsal topraklara yolculuk ile ödüllendirilmiştir. Sevde, orada ihrama girmiş, sa'y ve tavaflarını yapmıştır. Ayrıca Mekke ve Medine şehirlerinde bulunan önemli yerler ziyaret etmiştir."

Sevde'nin yapmış olduğu bu ibadet aşağıdakilerden hangisidir?

- A) Vakfe
- B) Umre
- C) Sa'y
- D) Hac

2. Aşağıda verilen;

- I. "Haram kılmak, kendini sakındırmak" anlamındadır.
- II. Safa'dan Merve'ye 4,Merve'den Safa'ya 3 kez gitmeye denir.
- III. Kabe'nin etrafında yapılan tavafın her bir dönüşüne denir.
- IV. Hacda vakfenin yapıldığı yerdir.

İfadelerden hangisi "şavt" kavramı ile ilgili doğrudur?

- A) I
- B) II
- C) III
- D) IV

3. Aşağıdakilerin hangisi Hac ibadetinin yapılmasının sebeplerinden biri olamaz?

- A) Allah'ın insanlar üzerinde ki hakkını yerine getirmek
- B) Allah'ın rızasını kazanmak
- C) Farz olan bir ibadeti yerine getirmek
- D) Kurban Bayramı tatilini ibadetle değerlendirmek

4. Umre ibadeti ile ilgili aşağıdakilerden hangisi yanlıştır?

- A) Hac mevsimi dışında her zaman yapılabilir.
- B) Sünnet olan bir ibadettir.
- C) Umrede sa'y,vakfe ve veda tavafı yapılmaz.
- D) Umrede ihrama girilir.

5. Hac ibadeti yerine getirilirken yapılan "Şeytan Taşlama"nın temel amacı aşağıdakilerden hangisidir?

- A) Şeytana uymayacağını ortaya koymak
- B) Sevap kazanmak
- C) Allah'a bağlılığı göstermek
- D) Şeytana zarar vermek

6. Hac ibadeti ile ilgili yapılan görevler ve bu görevlerin yerine getirildiği yerler, aşağıdakilerden hangisinde yanlış eşleştirilmiştir?

- A) Seytan Taşlama: Mina
- B) Sa'y : Safa-Merve arası
- C) İhrama Girmek : Arafat
- D) Tavaf Etmek : Kabe

7. Hac görevi sona erdiğinde, hacıların ihramdan çıkmak için aşağıdakilerden hangisini yapmaları gereklidir?

- A) Abdest alarak iki rekat namaz kılarlar.
- B) Arafat'ta vakfeden sonra ihramlarını çıkarırlar.
- C) Mekke şehrinin sınırlarının dışına çıkarlar.
- D) Kurban kesip, saçlarını tıraş ederler.

8. Hac ibadeti ve yapılışı ile ilgili hangisi yanlıştır?

- A) Mikat sınırında ihrama girilir.
- B) Arafat'ta vakfe,Kurban Bayramı'nın birinci günü yapılır.
- C) İhram ,vakfe ve tavaf haccın farzlarındandır.
- D) İhramlıyken hiç bir canlıya zarar vermezler.

9. Aşağıda verilen;

- I. İhram haccın farzlarından birisidir.
- II. Şeytan taşlamak için Mina'ya gidilir.
- III. Kurban bayramının üçüncü günü vakfe yapılır
- IV. Hacer'ül Esvetten başlayarak tavaf yapılır
- V. Mescid-i Nebeviyi ziyaret etmek haccın farzıdır.

Hac ile ilgili bilgilerin hangileri doğrudur?

- A) I-II-III
- B) I-II-IV
- C) I-II-V
- D) II-III-V

10. **Esra**: Haccın yapılış zamanı belli, Umrenin ki ise belli değildir.

Fatih : Hac farz, Umre ise sünnettir.

Özlem: Her ikisinde de İhram, vakfe, şeytan taşlama ve Kurban kesme vardır.

Eren: Hac yılda bir kez yapılır, umre ise birden fazla yapılabilir.

Hac ve Umre ile ilgili olarak hangi öğrencinin söyledikleri yanlıştır?

- A) Esra
- B) Fatih
- C) Özlem
- D) Eren

1. "...Gücü yetenlerin o evi (Kâbe'yi) haccetmesi, Allah'ın insanlar üzerindeki bir hakkıdır..." (Âl-i İmrân suresi, 97. ayet.)

Yukarıda verilen ayet hac ibadetinin hangi yönüne vurgu yapmaktadır?

- A) Eşitlik duygularını geliştirdiğine
B) Yapılış zamanının belli olduğuna
C) Kardeşlik bağlarını güçlendirdiğine
D) Allah'ın kesin emri olduğuna

2. Arefe günü Hacca başlamak için belirlenmiş olan bir bölgeye geldiğimizde, özel bir dua eşliğinde hac yapmak için gerekli olan kıyafetlerimizi giyinip ibadete başladık...

Yukarıdaki cümleyi kuran Mehmet Amca hac ile ilgili hangi kavramdan henüz bahsetmemiştir?

- A) Telbiye
B) Mikat
C) İhram
D) Tavaf

3. Sekizinci sınıf öğrencisi Nisanur, Hac ibadeti ile ilgili bir çalışma kâğıdını cevaplamaktadır. Bu çalışma kâğıdındaki sorulardan birisi "*Hacca niçin gidilir?*" sorusudur.

Nisanur'un bu soruya verebileceği en doğru cevap aşağıdakilerden hangisidir?

- A) Allah'ın rızasını kazanmak için gidilir
B) Allah'a şükretmek amacıyla gidilir
C) Şeytanı taşlamak için gidilir
D) Hz. Muhammed'in mezarını ziyaret için gidilir

4. Hac, dünyanın çeşitli bölgelerinden gelmiş; rengi, dili, cinsiyeti, yaşı birbirinden farklı insanların bir araya gelip kaynaştığı bir ibadettir. Hacca giden bir Müslüman; sahip olunan makam, mevki ve zenginliğin bir önemi olmadığını ve bunlarla övünülmemesi gerektiğini kavrar.

Yukarıdaki paragrafta Haccın insana kazandırdığı hangi özellikten bahsedilmektedir?

- A) Hac insana merhametli olmayı öğretir.
B) Hac insana Allah katında herkesin eşit olduğunu öğretir.
C) Hac insana sabırlı olmayı öğretir.
D) Hac insana şeytanın tuzağına düşmemeyi öğretir.

5.

Kabe'nin etrafında ki her bir → Vakfe dönüşü verilen addır.

Safa ve Merve Tepeleri arasında 7 → Say kez gidip gelmektir.

Arafat dağında bir süre bulunup → Şavt dua etmektir.

Hacda ihrama girerken okunan → Telbiye duadır.

Yukarıdaki eşleşmelerin doğru olabilmesi için hangilerinin yer değiştirmesi gerekmektedir?

- A) Vakfe -Say
B) Say -Telbiye
C) Vakfe- Şavt
D) Şavt- Telbiye

6. "...Yoluna gücü yetenlerin o evi (Kâbe'yi) haccetmesi, Allah'ın insanlar üzerindeki bir hakkıdır..." (A'l-i İmran, 97)

Ayetinde asıl anlatılmak istenen mana aşağıdakilerden hangisidir?

- A) İnsanların seyahat etmeleri tavsiye edilmektedir
B) Hac ibadetinin farz olduğu ayettir
C) Herkes hacca gitmelidir
D) Hacca gitmek güçtür

7. * "...Yoluna gücü yetenlerin o evi (Kâbe'yi) haccetmesi, Allah'ın insanlar üzerindeki bir hakkıdır..." (A'l-i İmran, 97)

* "Hacci da, umreyi de Allah için tamamlayın..." (Bakara, 196)

Yukarıda verilen ayetlere göre Müslümanlara hem hac hem de umre tavsiye edilmektedir. Buna göre aşağıda hac ve umre ile ilgili verilen bilgilerden hangisi yanlıştır?

- A) Hacci da Umreyi de isteğimiz zaman yapabiliriz
B) Hac farz, umre ise sünnettir.
C) Umrede sadece ihrama girilerek Kâbe tavaf edilir ve sa'y yapılır.
D) Umrede vakfe, şeytan taşlama ve kurban kesme yoktur.

8. **Hac ibadeti bir bütün olarak düşünüldüğünde Hac ibadetini yapan bir Müslüman aşağıdakilerden hangisini ilk önce yerine getirmek zorundadır?**

- A) Arafat'ta vakfeye durur
B) Kabe'yi tavaf eder
C) İhrama girer.
D) Mescid-i Nebi'yi ziyaret eder.

9. **Aşağıdakilerden hangisi *Hac* kimlere farzdır? sorusuna verilebilecek cevaplardan birisi değildir?**

- A) Müslüman olmak
B) Akıllı olmak
C) Kırk yaşını doldurmuş olmak
D) Zengin olmak

10. **Hac ile ilgili verilen bilgilerden hangisi yanlıştır?**

- A) Hac ibadeti hicretin 9. yılında farz olmuştur
B) Kâbe, Arafat ve çevresindeki yerlerin ibadet niyetiyle ziyaret edilmesidir.
C) Ömürde yalnızca bir defa yapılması farzdır
D) Zekat gibi yalnızca mal ile yapılan bir ibadettir

İNGİLİZCE

1., 2. ve 3. soruları aşağıda verilen metne göre cevaplayınız.

Nowadays, most people can keep in touch with each other through the Internet. They use some ways such as writing an e-mail, chatting or video conferencing. For this purpose, different services are provided on the Internet such as Facebook, Instagram, Skype, Twitter and so on...

Especially, teenagers spend most of their time everyday on the Internet on social networking sites. They use these sites to share photos or information with others, chat with friends, make new friends and send e-mails.

1. The text is mainly about _____ .

- A) Computers
- B) Web browsers
- C) The Internet
- D) Facebook

2. According to the text; _____ .

- A) Only teenagers use the Internet.
- B) Facebook, Twitter and Instagram are social networking sites.
- C) Most people prefer face to face communication.
- D) Teenagers use the Internet in order to study.

3. Which one is false according to the text?

- A) Teenagers usually use social networking.
- B) You can share your photos on social networking sites.
- C) You can make friends on the Internet.
- D) Chatting on the Internet can be dangerous.

4.



Nowadays, a lot of people prefer shopping _____ because they think that it is easier than going to the shopping centers and walking around.

Yukarıda boş bırakılan yere aşağıdakilerden hangisi gelmelidir?

- A) online
- B) deadline
- C) offline
- D) Landline

5.



When I go home, I will send you an e-mail from my father's e-mail _____ because I don't remember my username and password.

Yukarıda boş bırakılan yere aşağıdakilerden hangisi gelmelidir?

- A) attachment
- B) blog
- C) account
- D) browser

6. Aşağıda verilen;

Mathew: Why do you use the internet?

Mehmet: Because I can do a lot of things online.

Mathew:

Mehmet: I can do my homework, search about school projects, listen to music, watch movies etc.

Mathew: That's great!

Diyalogta boş bırakılan cümle aşağıdakilerden hangisidir?

- A) How often do you use the internet?
- B) When do you do your homework?
- C) What do you mean?
- D) Do you listen to music online?

7. Aşağıda verilen;

Jason: Hey Mike, What are you doing?

Mike: Hey, I am surfing on the net.

Jason: You are always online.

How many hours a day do you use the internet?

Mike:

Jason: So bad. It's too much for you.

Diyalogta boş bırakılan cümle aşağıdakilerden hangisidir?

- A) 4 or 5 hours
- B) less than 1 hour
- C) not more than 2 hours
- D) half an hour

8. With the help of the Internet, the teenagers can _____ films and songs to their computers.

Yukarıda boş bırakılan yere aşağıdakilerden hangisi gelmelidir?

- A) upload
- B) surf
- C) watch
- D) Download

9. Aşağıda verilen;

Tim: Tim speaking.

Mary: Hello Tim, It's Mary. How are things?

Tim: Good, thanks.

Mary: Tonight there is going to be a big party in my house.

Why don't you come?

Tim: I am sorry but I can't. Because

Mary: Ok then, see you later.

Tim: Bye.

Diyalogta boş bırakılan cümle aşağıdakilerden hangisidir?

- A) I am going to be there.
- B) I am going to bring some drinks.
- C) I am not going to be late, I promise.
- D) I am going to meet my friends from abroad.

1. If you want to have an account, you need a username and a

Yukarıda boş bırakılan yere aşağıdakilerden hangisi gelmelidir?

- A) website
B) online
C) password
D) e-mail

2., 3. e 4. Soruları aşağıdaki konuşmaya göre cevaplayınız.

Hi, I am Jack.

I love spending time online and my friends call me as an 'addict', because I am always in front of my computer. Mostly I play online games and watch movies for hours. I also can practice my English on the internet and I can make new friends from all over the world so, I don't need to go to a course for this. What I like most is that the internet is fast, cheap and fun. I have only one problem. My mother doesn't like it because she doesn't agree with me.

2. Why do Jack's friends call him as an addict?

- A) Because he likes playing online games.
B) Because it has bad effects on him.
C) Because he is always in front of his computer.
D) Because his mother doesn't like it.

3. He doesn't need to go to a course because.....

- A) He can easily practice his English online
B) He doesn't like language courses
C) He likes watching movies and playing games
D) He is an addict.

4. What is his problem?

- A) The internet is cheap, fast and fun.
B) His mother doesn't agree with him.
C) He doesn't like being an addict.
D) He can't find anything online.

NİĞDE MİLLİ EĞİTİM MÜDÜRLÜĞÜ ARGE BİRİMİ ÇALIŞMASIDIR

	Once a week	Once a month	Several times a week	at least once a day
JANE	Send e-mails	Listen to music	Do homework on the net	Make live chats
TERRY	Make live chats	Play online games	Search for information	Watch movies
SUE	Watch movies	Go online	Use internet phone	Send e-mails

5. According to the chart, which one is true?

- A) Sue watches movies several times a week.
B) Jane goes online once a month.
C) Terry search for information several times a week.
D) Terry,Sue and Jane use internet phone once a week.

6. How often does Jane send e-mails?

- A) Never
- B) Always
- C) once a week
- D) once a day

7. Aşağıda verilen;

Dan : Is your PC online or offline?
Bob :

Dan : I mean, is there a connection sign on the screen?

Bob : Oh ,dad no there isn't.

Diyalogta boş bırakılan cümle aşağıdakilerden hangisidir?

- A) How often do you go online?
- B) Do you mean the cable between the modem and the computer?
- C) What do you mean?
- D) How many hours do you spend online?

8. Aşağıda verilen;

Susan : I search for my homework. But I have a problem about the website. Can you help me?

Jim : Of course. Let me have a look at it. Hmm...

First; you must..... to this website. Then you can get what you want.

Diyalogta boş bırakılan yere aşağıdakilerden hangisi gelmelidir?

- A) download
- B) web browser
- C) register
- D) search engine.

9. Aşağıda verilen;

Sally : Are you an internet addict?

Linda : No .I'm not .Why do you ask?

Sally : Because nowadays, teenagers are addicts. I think ,it is too bad.

Linda : I agree with you.

Sally :

Diyalogta boş bırakılan cümle aşağıdakilerden hangisidir?

- A) Let's go to the internet cafe.
- B) In my opinion ,there are no problems about it.They can keep in touch with friends.
- C) I think they are very sociable.
- D) And, there are negative effects of using computer,tablet,mobile phone for a long time ;for example health problems.

10. Aşağıda verilen;

Tim: Oh, Kevin ,you look upset. What is the problem?

Kevin: I'm an internet addict. I can't get rid of it. What should I do?

Tim:

Diyalogta boş bırakılan cümle aşağıdakilerden hangisidir?

- A) Internet is very useful! Don't give up.
- B) Talk to your teacher and go to the school counsellor. They will surely help you.
- C) Ask yourself "How much time do you spend online a day?"
- D) Don't forget to researching on the net about it.

NİĞDE İL MİLLİ EĞİTİM MÜDÜRLÜĞÜ

Strateji Geliştirme Şubesi

ARGE Birimi

ARALIK-2015

SAYI 2

Telefon : 0 388 232 32 72 - 141

Belgegeçer : 0 388 232 32 74

E-Posta : arge51@meb.gov.tr

Adres : Yukarı Kayabaşı Mah. Dışarı Cami Sk. No 9 51200 Merkez / NİĞDE