



NİĞDE MİLLÎ EĞİTİM MÜDÜRLÜĞÜ

ARALIK 2015

SAYI 3

8. SINIF

KAZANIM TESTLERİ

DİZGİ & TASARIM

Abdurrahman KARAŞAHİN

Bahri KEBUDE

Bayram DOĞAN

Ömer ADIYAMAN

Uğur DEMİR

EMEĐİ GEÇEN TÜM ÖĐRETMENLERİMİZE TEŐEKKÜR EDERİZ...

TÜRKÇE

ADI SOYADI	OKUL
AHMET TEZCAN	GÜMÜŐLER ORTAOKULU
DEMET ADIYAMAN	ATATÜRK MTAL
ÖMER ADIYAMAN	NİĐDE İL MEM ARGE
S.SEÇİL ERYİĐİT	İÇMELİ ŐEHİT DAVUT YILDIZ ORTAOKULU
UFUK ÖZGÜR	KANUNİ SULTAN SÜLEYMAN OO

MATEMATİK

ADI SOYADI	OKUL
EKREM YABAŐ	KEMAL AYDOĐAN ORTAOKULU
FATİH ÖZTÜRK	KEMAL AYDOĐAN ORTAOKULU
İSMAİL ÖZKAN	GÜMÜŐLER ORTAOKULU
OĐUZ HAN ARAKAYA	YILDIZTEPE ZEYNEP ERDEN O.O
SERANT MALİK MERİÇ	AĐÇAŐAR HAZİM ARSLANBAY O.O
SERHAT ERBAŐ	MELİKŐAH ORTAOKULU

FEN ve TEKNOLOĐİ

ADI SOYADI	OKUL
ABDURRAHMAN KARAŐAHİN	NİĐDE İL MEM ARGE
FATİH USLU	KARAATLI FATMA CUMA ALİ YILMAZ OO.
GAMZE ALAKÖSE	EDİKLİ ŐEHİTİ İHSAN Y.O.O
LEVENT EKER	İÇMELİ ŐEHİT DAVUT YILDIZ ORTAOKULU
MEHMET EMRAH AYDIN	HACİBEYLİ ORTAOKULU
MUSTAFA DEMİRDİREK	KANUNİ SULTAN SÜLEYMAN OO
RAMAZAN BOZDAŐ	ORHANLI ORTAOKULU
SEVİL ERKAN	AĐÇAŐAR HAZİM ARSLANBAY O.O

EMEĐİ GEÇEN TÖM ÖĐRETMENLERİMİZE TEŐEKKÖR EDERİZ...

İNGİLİZCE

ADI SOYADI	OKUL
BURÇİN İŐCAN	İÇMELİ ŐEHİT DAVUT YILDIZ ORTAOKULU
MERVE ÖZÖAK	YILDIZTEPE ZEYNEP ERDEN O.O
NERMİN TOPRAK	KANUNİ SULTAN SÖLEYMAN OO
UĐUR DEMİR	NİĐDE İL MEM ARGE

DİN KÖLTÖRÖ ve AHLAK BİLGİSİ

ADI SOYADI	OKUL
İSTİKLAL SOYLU	İMAM HATİP ORTAOKULU
MAHMUT ÖZBEK	EDİKLİ ŐH. AYHAN ARIKAN ORT.
YASİN DOĐAN	İMAM HATİP ORTAOKULU

İNKILAP TARİHİ VE ATATÖRKÖÖLÖK

ADI SOYADI	OKUL
AHMET KILIÇ	KEMAL AYDOĐAN ORTAOKULU
HÖSEYİN YÖCEL	KANUNİ SULTAN SÖLEYMAN OO
RAMAZAN KOYUNCU	GÖMÖŐLER ORTAOKULU
SAMİ DUTAR	KARAATLI FATMA CUMA ALİ YILMAZ OO.

GÖREV ALMAK İSTEYEN ÖĐRETMENLERİMİZ BİZİMLE İLETİŐİME GEÇEBİLİR...

NiĐde İl Milli EĐitim MÖdÖrlÖĐü ARGE Birimi:

Tel: 388 232 32 72 Dahili: 141

Proje KoordinatÖrÖ: Abdurrahman KARAŐAHİN

TÜRKÇE

1. "Sağlam" sözcüğü aşağıdaki cümlelerin hangisinde "zarar görmemiş" anlamında kullanılmıştır?

- A) Geleceğimi sağlam zeminler üzerine kurdum.
- B) Sağlam bir dostluğumuz var.
- C) Kırık sandalyeyi sağlamıyla değiştirdim.
- D) Verdiği sağlam fikirler yolumuzu aydınlattı.

2. 1.Yaşanan her şeye rağmen sakindi.
2.Hayatta kalmak için savaşıyordu.
3.Ekmeği doğrarken elini kesti.
4.Davranışlarında ölçülüydü.

Numaralandırılmış cümlelerin hangilerinde altı çizili sözcükler gerçek anlamının dışında kullanılmıştır?

- A) 1-2
- B) 1-4
- C) 2-3
- D) 2-4

3. Leğene girdi mi Mine
Kendini ördek sanır.
Annesi verir süngeri eline
Hiç ağlamadan yıkanır.

Aşağıdaki cümlelerden hangisinde "girmek" kelimesi şiirdeki anlamı ile aynı anlamda kullanılmıştır?

- A) Sınava kaç kişi girecek?
- B) Ördek kovadaki suya girdi.
- C) Başı derde girdi.
- D) Sonunu bilmediği bir işe girdi.

4. "Kuşlar mutlu şarkısını
Hep dalımda söylerler
Şen arılar vızır vızır
Kokuma gelirler.

Bu dizelerle ilgili aşağıdakilerden hangisi söylenemez?

- A) Mecaz anlamlı kelime vardır.
- B) Terim anlamlı kelime vardır.
- C) Somut anlamlı kelime kullanılmıştır.
- D) İkileme kullanılmıştır.

5. Aşğın çaldığı, gönül sazıdır;
Ben mızrabı, sen de teli gibisin
Gerdanında benler dizi dizidir,
Semadaki Samanyolu gibisin.

Bu dizelerle ilgili aşağıdakilerden hangisi söylenemez?

- A) Mecaz anlamlı sözcük kullanılmıştır.
- B) Eş sesli sözcük kullanılmıştır.
- C) Eş anlamlı sözcükler kullanılmıştır.
- D) Somut bir kelimeye soyut anlam kazandırılmıştır.

6. Aşağıdaki sözcüklerden hangi ikisi anlam ilişkisi bakımından diğerlerinden farklıdır?

- A) Okul-Mektep
- B) Soru-Yanıt
- C) Talebe-Öğrenci
- D) Muallim-Öğretmen

7. Aşağıdaki sözcüklerden hangi ikisi anlam ilişkisi bakımından diğerlerinden farklıdır?

- A) Zafer-Galibiyet
- B) Kelam-Söz
- C) Sene-Yıl
- D) Soru-Cevap

8. Aşağıdaki cümlelerden hangisi anlam bakımından diğerlerinden farklıdır?

- A) Yaptığı şirinlikler hoşuma gitmiyor değil.
- B) Neler olduğunu Ayşe de anlamış değil.
- C) Tatil için gereken parayı biriktirmiş değil.
- D) Karşısındakini dinlemeyen insanları sevmiyorum.

9. Aşağıdaki cümlelerden hangisi farklı bir duyguyu ifade eder?

- A) Babası karnesini görünce küplere bindi.
- B) Dedesi karşısında belirince etekleri tutuştu.
- C) Haberi alır almaz iki ayağım bir pabuca girdi.
- D) Sınavı yetiştiremeyeceğini anlayınca eli ayağına dolaştı.

10. Okulda öğretmenin anlattığı konuyu not almadan dinleyen Ahmet, eve geldiğinde anladığını sandığı konuyu tamamen unutmuştu. Ahmet'in bu davranışı hangi atasözü ile anlatılırsa uygun düşmez?

- A) İki dinle bir söyle.
- B) Alim unuttur, kalem unutmaz.
- C) Söz uçar yazı kalır.
- D) Kalem aklın dilidir.

11. Yazılışları ve okunuşları aynı fakat anlamları farklı olan kelimeler sestesh kelimelerdir. Aşağıdakilerden hangisinde sestesh kelimelere örnek yoktur?

- A) Dedesinden yüz bulan Burak çok yaramazlık yapıyordu.
- B) El atına binen tez iner.
- C) Çok çalışkan bir öğrenciydi.
- D) Ömrünün sonuna kadar alında bu kara lekeyle yaşayacak.

1. Aşağıdaki cümlelerin hangisinde karşıt anlamlı sözcükler bir arada kullanılmıştır?

- A) Cömert kişiler iyilikleri ile topluma katkıda bulunur.
- B) Onunla aşağı yukarı altı yıldır tanışıyoruz.
- C) İşe başlayıp başlamayacağıma yarın karar vereceklermiş.
- D) Öfkenin kimseye yarar getireceğini sanmıyorum.

2. Aşağıdaki deyimlerden hangileri arasındaki anlam ilişkisi diğerlerinden farklıdır?

- A) Burnu büyümek-burnu havada
- B) Ağız aramak-ağzını yoklamak
- C) Göze girmek- gözden düşmek
- D) Can vermek-canı çıkmak

3. I. Masanın üstüne bir mektup bırakmış.
II. Alanya gezisini haftaya bıraktık.
III. Artık içkiyi de sigarayı da bıraktı.
IV. Paltonuzu odanıza bırakmıştım.

"Bırakmak" sözcüğü yukarıdaki cümlelerin hangilerinde aynı anlamda kullanılmıştır?

- A) I. ve II.
- B) II. ve III.
- C) I. ve III.
- D) I. ve IV

4. " Sokaktayım kimsesiz bir sokak ortasında, Yürüyorum, arkama bakmadan yürüyorum."

"yürüme" sözcüğü aşağıdakilerin hangisinde bu dizedeki anlamıyla kullanılmıştır?

- A) Şirketimizin işleri iyi yürüyor.
- B) Arıza nedeniyle arabamız yürümüyor.
- C) Deniz kıyısında rastgele yürüyorum.
- D) Genç çiftin evliliği sorunsuz yürüyor.

5. Kara gözler kara gözler,
Kararmış kara gözler.
Gemim deryada kaldı,
Yelkenim kara gözler.

Yukarıdaki altı çizili kelimeler için aşağıdakilerden hangisi söylenebilir?

- A) Eş anlamlıdır
- B) Sesteştir.
- C) Soyut anlamlıdır.
- D) Mecaz anlamlıdır.

6. I. Bu konuda yalnız ona katılıyorum.
 II. Odamın dağınık olduğunu sadece annem söyledi.
 III. Bu tempoyla oraya ancak bir saatte varırız.
 IV. Hava kapalıydı; ama yağmur yağmadı.
- Yukarıdaki numaralı cümlelerin hangilerinde altı çizili kelimeler aynı anlamda kullanılmıştır?**
- A) I. ve II.
 B) II. ve III.
 C) I. ve III.
 D) II. ve IV.

7. Aşağıdaki cümlelerin hangisinde altı çizili sözcük mecaz anlamıyla kullanılmamıştır?
- A) Sanatçının kuru bir anlatımı vardı.
 B) Ekonomik kriz ülkeyi kavuruyor.
 C) Boş bardakları mutfağa getir.
 D) Kalbinin kırılması beni ziyadesiyle üzdü.

8. Aşağıdaki cümlelerin hangisinde terim anlamlı kelime yoktur?
- A) Oyunun ilk perdesi çok etkileyiciydi.
 B) Aradığın dosyalar masanın alt gözünde.
 C) Ülkemizin her bölgesinde farklı ağız özellikleri vardır.
 D) Tahtaya büyük bir üçgen çizdi.

9. “Geniş” kelimesi aşağıdaki cümlelerin hangisinde gerçek anlamıyla kullanılmıştır?
- A) Bu şehrin caddeleri oldukça geniştir.
 B) Her konuda çok geniş düşünebiliyorsun.
 C) Geniş gönlü bir arkadaştı.
 D) İşin aslını öğrenince geniş bir nefes aldı.

11. Aşağıdaki cümlelerin hangisinde “ne” sözcüğü farklı bir anlamda kullanılmıştır?
- A) Ona şurup olarak ne verdin?
 B) Adama ne bağıryorsun?
 C) Marketten ne alınacak?
 D) Okulda ne yediniz?

1. I. Eskiden beri yumuşak bir insandı.
II. Yumuşak minderi çok beğendim.
III. Kahvenin yumuşak olduğunu söyledi.
IV. Yumuşak huylu olduğundan çok sevildi.
Yukarıdaki cümlelerin hangilerinde “yumuşak” kelimesi aynı anlamda kullanılmıştır?

- A) I. ve II.
B) I. ve III.
C) II. ve IV.
D) I. ve IV.

2. **Aşağıdaki atasözlerinin hangisinde mecazlı bir söyleyiş yoktur?**

- A) Az söyle, çok dinle.
B) Çivi çiviye söker.
C) Bal tutan parmağını yalar.
D) Hamama giren terler.

3. **“Toplamak” sözcüğü aşağıdaki cümlelerin hangisinde yan anlamıyla kullanılmıştır?**

- A) Sabah yatakları topladık.
B) On ikiyle yediyi topla.
C) Yarından sonra tasını tarağını topla.
D) Masadaki tabakları topla.

4. **“Göz” kelimesi aşağıdaki cümlelerin hangisinde yan anlamıyla kullanılmıştır?**

- A) Gözlerinin rengi çok güzel.
B) İğnenin gözünden ipliği geçir.
C) Yazılardan gözümü açamadım.
D) Kitaptaki yazılara göz gezdirelim.

5. **“Ev” kelimesi aşağıdaki cümlelerin hangisinde temel anlamıyla kullanılmıştır?**

- A) Evi çok temizdi.
B) Gözlem evi oldukça uzak.
C) Öğretmen evinde yamak yiyeceğiz.
D) Evine bağlı olduğunu biliyoruz.

6. Anne ve babası Merve'ye çocukluğundan beriBu yüzden Merve büyüdükçe bir insan olmayı alışkanlık edinmişti.

Yukarıdaki cümlede boşluklar hangi seçenekteki kelimelerle tamamlanırsa farklı bir anlam çıkar?

- A) Her istediğini almışlardı - şımarık
- B) Çok iyi bir terbiye vermişlerdi – saygılı
- C) Hiç ilgi göstermemişlerdi - sorumsuz
- D) Her türlü imkânı sundu.- doyumsuz.

8. Aşağıdaki cümlelerden hangisinde “yüz” kelimesi “Annesinden yüz bulduğu için yaramazlık yapıyor.” Cümlesindeki anlamıyla kullanılmamıştır?

- A) Kaç defa yüzüne karşı yanlışlarını söyledim.
- B) Dedem, küçükken bana çok yüz vermişti.
- C) Beden Eğitimi dersinde öğretmen erkek öğrencilere çok yüz veriyor.
- D) Patrondan yüz bulduğu için toplantıya katılmadı.

NIĞDE MİLLİ EĞİTİM MÜDÜRLÜĞÜ ARGE BİRİMİ ÇALIŞMASIDIR

7. Aşağıdaki cümlelerden hangilerinde bağlaçlar aynı anlamda kullanılmıştır?

- I. Sana kitabımı veririm ancak iki günde okursan
- II. Bu kadar odun ancak iki günde kırılır.
- III. Bu kadar güzel bir resmi ancak Rana yapabilir.
- IV. Telefon çalışıyordu ancak ben açana kadar kapandı

- A) I. ve II.
- B) II. ve III.
- C) I. ve III.
- D) II. ve IV.

9. Aşağıdaki cümlelerin hangisinde zıt anlamlı kelimeler bir arada kullanılmamıştır?

- A) Merdivenleri bir inip bir çıkıyordu.
- B) Gülüştüklerimiz aklıma geldikçe ağlarım.
- C) Eski dosyaları kaldırıp yenileri çıkardı.
- D) Oraya, gidip gitmemek arasında kaldı.

MATEMATİK

1. $5x - 8 > 3x - 12$

Eşitsizliğini sağlayan x 'in en küçük tam sayı değeri kaçtır?

- A) 0 B) -1
C) -2 D) 2

2. $4.(x + 1) \leq 3$

Eşitsizliğini sağlayan x 'in en büyük tam sayı değeri kaçtır?

- A) 0 B) -1
C) 1 D) 2

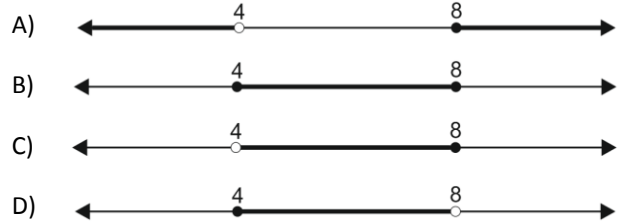


Yukarıdaki sayı doğrusunda koyu çizgiyle gösterilen aralık aşağıdakilerden hangisi ile ifade edilir?

- A) $(-3) < x < 2$ B) $(-3) < x \leq 2$
C) $(-3) \leq x < 2$ D) $(-3) \leq x \leq 2$

4. $2x - 5 \leq 11$ ve $3x - 4 > 8$

Eşitsizliklerini birlikte sağlayan x gerçek sayı değerlerinin gösterildiği sayı doğrusu aşağıdakilerden hangisidir?



5.



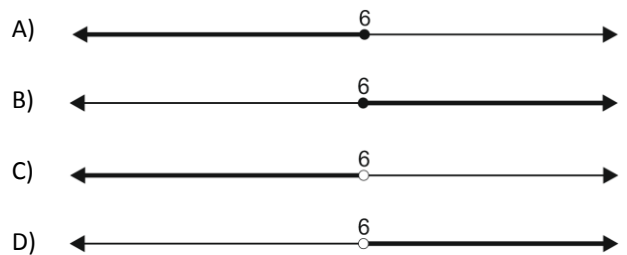
Çözüm kümesi yukarıda sayı doğrusunda verilen eşitsizlik aşağıdakilerden hangisindeki gibi olabilir?

- A) $9x - 8 \leq 3x + 6$
B) $9x - 8 \geq 3x + 6$
C) $7x - 1 \geq 5x + 17$
D) $7x - 1 \leq 5x + 17$

6.

$$\frac{5x}{2} - 12 \geq 3$$

Eşitsizliğinin gerçek sayılardaki çözüm kümesi aşağıdakilerden hangisinde doğru gösterilmiştir?



7. $x < 2$
 $4x - 5 \geq -9$
- Eşitsizliklerini sağlayan kaç tane x tamsayı değeri vardır?

- A) 1 B) 2
C) 3 D) 4

8. $3x - 2 > 1$
 $x + 2 < 8$
- Eşitsizliklerini sağlayan x tamsayı değerleri toplamı kaçtır?

- A) 10 B) 12
C) 14 D) 16

9. $-2x - 14 > -8$
 $3x - 1 > -19$
- Eşitsizliklerini sağlayan x tamsayılarının toplamı kaçtır?

- A) -9 B) -10
C) -11 D) -12

10. $\frac{3x-2}{4} \geq (-5)$
- Eşitsizliğini sağlayan x için, en küçük tamsayı değeri kaçtır?

- A) (-7) B) (-8)
C) (-5) D) (-6)

11. $\frac{3x-2}{3} - \frac{x+1}{2} \geq \frac{-5x}{6} + 1$
- Eşitsizliğini sağlayan x için, en küçük tamsayı değeri kaçtır?

- A) 1 B) 2
C) (-1) D) 0

12. $2(x-2) + 3(x+1) < 4$
- Eşitsizliğinin çözümü aşağıdakilerden hangisidir?

- A) $x < 1$ B) $x > 1$
C) $x \geq 1$ D) 2

1. $-3x + 5 < -10$

Eşitsizliğini sağlayan tamsayılar kümesi aşağıdakilerden hangisinde doğru olarak verilmiştir?

- A) $\mathbb{K} = \{6, 7, 8, \dots\}$ B) $\mathbb{K} = \{-6, -5, -4, \dots\}$
 C) $\mathbb{K} = \{5, 6, 7, \dots\}$ D) $\mathbb{K} = \{\dots, -8, -7, -6\}$

2. x bir tamsayı olmak üzere;

$$2x - 6 \geq 12 \text{ ve } \frac{x + 2}{3} < 5$$

Eşitsizliklerini birlikte sağlayan noktalar kümesi aşağıdakilerden hangisidir?

- A) $\{9, 10, 11, 12\}$ B) $\{10, 11, 12\}$
 C) $\{9, 10, 11, 12, 13\}$ D) $\{10, 11, 12, 13\}$

3. 'Ülkemizde oy kullanma yaşı en az 18'dir.'

İfadesine uygun olan matematik cümlesi aşağıdakilerden hangisidir?

- A) $x < 18$ B) $x > 18$
 C) $x \geq 18$ D) $x \leq 18$

4. Otomobil, minibüs ve kamyonun kütleleri sırasıyla 1350 kg, a kg ve 2300 kg'dır. Minibüsün kütlesi otomobilin kütesinden fazla kamyonun kütesinden az ise,

Minibüsün kütesini veren eşitsizlik aşağıdakilerden hangisidir?

- A) $1350 < a < 2300$ B) $a < 1350 < 2300$
 C) $1350 > a > 2300$ D) $1350 \leq a \leq 2300$

5. Bir asansör, en fazla 625 kg yük taşıyabilmektedir. 38 kilogramlık kutuları üst kata çıkaracak olan bir işçinin kendisi 77 kg olduğuna göre taşıyacağı kutuların sayısı aşağıdaki eşitsizliklerden hangisi ile bulunabilir?

- A) $38x + 77 < 625$ B) $38x + 77 \leq 625$
 C) $77x + 38 < 625$ D) $77x + 38 \leq 625$

6. Bir ton kömürün fiyatı 1000 TL ile 1075 TL arasında değişmektedir. Isınma ihtiyaçlarını karşılamak için Eylül ayında 13 ton kömür alan apartman sakinleri kaç TL ödemiş olabilir?

- A) 12500 B) 12775
 C) 13025 D) 13985

7. Bir sayının 3 katının 6 fazlası -3'den büyük 12'den küçüktür.

Bu şartı sağlayan en büyük tamsayı değeri kaçtır?

- A) -2 B) -1
C) 0 D) 1

8. Batuhan bir haftada en fazla 14 bardak süt içebilmektedir.

Buna göre, Batuhan'ın bir yılda içebileceği süt miktarını gösteren eşitsizlik aşağıdakilerden hangisidir?(1 yıl=52 hafta)

- A) $x < 728$ B) $x \leq 728$
C) $x > 728$ D) $x \geq 728$

9. Aşağıda verilen ifadelere karşılık gelen eşitsizliklerden kaç tanesi doğrudur?

- 1) 20 TL den az : $x < 20$
2) 30 TL den çok : $x < 30$
3) En az 25 TL : $x \leq 25$
4) En çok 40 TL : $x \geq 40$

- A) 1 B) 2
C) 3 D) 4

10. Miraç $(2x+15)$ cm boyundadır. 51 cm den uzun olan kardeşi Göktuğ'un boyu ise $(3x-9)$ cm'dir.

Miraç, kardeşi Göktuğ'dan uzun olduğuna göre x'in alabileceği değerler hangi aralıktadır?

- A) $3 < x < 40$ B) $4 < x < 8$
C) $3 < x < 6$ D) $20 < x < 24$

11. Hasan Tuğra'nın yaşının 3 katının 21 eksiği 12'den küçüktür.

Hasan Tuğra en fazla kaç yaşında olabilir?

- A) 10 B) 11
C) 12 D) 13

12. Bir oyun parkında girişte 5 lira para alınıyor. Oyun parkındaki her oyun ünitesinin bileti 3 liradır. Eylül'ün babasının 32 lirası vardır.

Buna göre Eylül en fazla harcayacağı parayı gösteren eşitsizlik aşağıdakilerden hangisidir?

- A) $5x+3 < 32$ B) $3x+5 < 32$
C) $5+3x \leq 32$ D) $5x+3 \leq 32$

1. Kerem'in yaşının 5 katının 8 fazlası, kendi yaşının 6 katının 10 eksiğinden daha fazladır.

Yukarıda verilen ifadenin matematik cümlesi aşağıdakilerden hangisidir?

- A) $5x + 8 < 6x - 10$
 B) $5x - 8 > 6x + 10$
 C) $5x + 8 > 6x - 10$
 D) $5x - 8 < 6x + 10$

2. Bir sınıftaki;

Kız öğrenci sayısı $5x+40$,
 Erkek öğrenci sayısı ise $3x+80$ tır.

Bu sınıftaki kız öğrenci sayısı erkek öğrenci sayısından daha fazla olduğuna göre, x doğal sayısı en az kaçtır?

- A) 20 B) 21
 C) 22 D) 23

3. "Bir internet kafenin oyun açılış ücreti 2 TL ve her saat için 0,75 TL ücret alınmaktadır. 5 TL'si olan bir kişi bu internet kafede en fazla kaç saat oyun oynayabilir?"

Sorusunu çözmek için aşağıdaki eşitsizlerin hangisinden yararlanılabilir?

- A) $2+0,75x \geq 5$ B) $2+0,75x \leq 5$
 C) $2+0,75x < 5$ D) $2+0,75x > 5$

4. "Toprağa iki farklı fidan dikiliyor. Fidanlardan birinin boyu 8 cm olup her yıl 6 cm uzamaktadır. Diğer fidanın boyu ise 24 cm olup her yıl 4 cm uzamaktadır. En az kaç yıl sonra boyu 8 cm olan fidanın boyu diğer fidanın boyundan daha uzun olur?"

Sorusunu çözmek için aşağıdaki eşitsizliklerden hangisi kullanılmalıdır?

- A) $8+6x < 24+4x$ B) $8+4x < 24+6x$
 C) $24+4x < 8+6x$ D) $6+24x < 4+8x$

5. 5 eksiğinin 3 katının çeyreği, 3 fazlasından büyük olan sayılar kümesini bulabilmek için aşağıdaki eşitsizliklerden hangisinden yararlanılmalıdır ?

- A) $\frac{3 \cdot (x - 5)}{2} > x + 3$ B) $\frac{3 \cdot (x - 5)}{4} > x + 3$
 C) $\frac{3x - 5}{2} > x + 3$ D) $\frac{3x - 5}{4} > x + 3$

6. Aşağıdaki ifadelerin hangisi $2x - 5 \leq 15$ eşitsizliğini belirtir?

- A) 2 katının 5 eksiği 15'ten küçük sayılar
 B) 5 eksiğinin 2 katı 15'ten küçük sayılar
 C) 5 eksiğinin 2 katı 15'e eşit veya 15'ten küçük sayılar
 D) 2 katının 5 eksiği 15'e eşit veya 15'ten küçük sayılar

7. Ali'nin bilyelerinin sayısının 3 katının 5 eksiği 19'dan büyüktür.

Buna göre Ali'nin bilyelerinin sayısının alabileceği en küçük doğal sayı değeri kaçtır?

- A) 7 B) 8
C) 9 D) 10

8. Elif iletişim %10 ile % 25 arasında değişen indirimler yapmaktadır.

Buna göre, fiyatı 800 TL olan bir cep telefonu indirimden sonraki fiyatı için aşağıdakilerden hangisi doğrudur?

- A) $600 \leq x \leq 720$ B) $600 < x < 720$
C) $600 < x < 1000$ D) $720 < x < 1000$

9. "9 katının 7 eksiği, -5 katının 17 fazlasından büyük olan sayılar" ifadesine uygun eşitsizlik aşağıdakilerden hangisidir?

- A) $9x - 7 < -5x + 17$ B) $9(x - 7) > -5x + 17$
C) $9x - 7 > -5x + 17$ D) $7x - 9 < -5x + 17$

10. Aşağıdaki noktaların hangisi $5x - 8y < 40$ grafiğinin belirlediği alanın dışında kalır?

- A) (0,0) B) (1,-2)
C) (0,-3) D) (0,-8)

- 11.

Koordinat düzleminde $x < 3$, $y > -2$, $x > -2$ ve $y < 1$ eşitsizliklerini sağlayan bölgenin alanı kaç br karedir?

- A) 6 B) 9
C) 12 D) 15

- 12.

$$\frac{x}{2} - 4 \geq 2 \text{ ve } 2y - 3 > 1$$

Olduğuna göre, $x+y$ nin alabileceği en küçük tamsayı değeri kaçtır?

- A) 12 B) 13
C) 14 D) 15

FEN ve TEKNOLOJİ



1. X, Y ve Z periyodik tabloda aynı yatay sırada bulunan elementlerdir.

X → Toprak Metali

Y → Soygaz

Z → Halojen

Olduğuna göre X,Y,Z elementlerinin periyodik tabloda soldan sağa doğru sıralanışı aşağıdakilerden hangisidir?

- A) Z, Y, X
B) Z, X, Y
C) X, Y, Z
D) X, Z, Y

2.

1A Grubu

“Nötr atomların elektron alışverişi yapmalarıyla iyonlar oluşur. İyonların sahip olduğu yük miktarı periyodik çizelgedeki grubunu bulmak için kullanılabilir”

Na^{+1} , K^{+1} , Li^{+1} iyonları 1A grubunda olduğuna göre X^{+3} iyonunun sembolü ve grubu aşağıdakilerden hangisi olabilir?

	Element	Grup
A)	Mg	3A
B)	N	3A
C)	P	2A
D)	Al	3A

3. İlk üç periyottaki elementlerle ilgili;

- I. Aynı grup elementlerin değerlik e- sayısı kesinlikle aynıdır.
II. Son katmandaki elektron sayısı 2 olan atomlar kesinlikle metaldir ve ametallerle bileşik yapabilirler.
III. Metaller bileşik yaparken değerlik elektron sayısı kadar e- verirler.

İfadelerden hangileri doğrudur?

- A) Yalnız I
B) I ve II
C) II ve III
D) Yalnız III

- 4.



Atom numarası(proton sayısı) 17 olan Cl (klor) atomu oktet kuralına uyduğu zaman iyon yükü aşağıdakilerden hangisi olur?

- A) +2
B) +1
C) -1
D) -2

5. Metal ve ametallerle ilgili olarak aşağıda verilen ifadelerden hangisi doğrudur?

- A) Son yörüngesine $2e^-$ bulunan tüm atomlar metaldir.
B) Tüm ametal atomları kendi aralarında bileşik yapabilir.
C) Metal atomları e^- vermeye yatkın atomlardır.
D) Metal atomları tüm ametal atomlarıyla bileşik yapabilirler.

1. \blacktriangle ve \blacksquare metal, \star ve \circ ise ametal atomlarıdır.

I. $\blacksquare\star$ bileşiği elektron alış veriş ile olur.

II. $\blacksquare\circ$ bileşiği molekül yapılıdır.

III. $\star\circ$ bileşiği kovalent bağlıdır.

IV. \blacktriangle ve \blacksquare aralarında bileşik oluşturmaz.

Yukarıda verilen ifadelerden hangileri doğrudur?

A) I, III ve IV

B) I, II ve III

C) II, III ve IV

D) I, II, III ve IV

2. X^- , Y^{2+} , T^{3-} , M^+ iyonları ile ilgili;

I. X_3T

II. Y_3T_2

III. MX

VI. MT_3

Verilen bileşiklerin türleri hangi seçenekte doğru olarak verilmiştir?

	Kovalent Bağ	İyonik Bağ
A)	I ve II	III ve IV
B)	IV	I, II ve III
C)	III ve IV	I ve II
D)	I	II, III ve IV

3. Aşağıdaki periyodik tabloda bazı elementlerin yerleri gösterilmiştir.

Hangi iki element elektronlarını ortaklaşa kullanarak soy gazlara benzeyebilir?

A) A-B

B) A-D

C) B-C

D) C-D

4. Aşağıda periyodik tabloda bazı elementler verilmiştir.

Aşağıdaki tabloda verilen element çiftlerinden hangisi arasında kovalent bağlı bileşik oluşabilir?

A) X-Z

B) T-Y

C) Y-X

D) Q-T

5. Aşağıdaki bileşiklerden hangisinin bağ türü diğerlerinden farklıdır?

- A) NaCl
- B) NH₃
- C) H₂O
- D) CO₂

6. Aşağıda verilen element çiftlerinin hangi ikisi arasında oluşacak olan bağ türü elektron alışverişine dayanır?

- A) Na-Cl
- B) H-He
- C) Mg-K
- D) Ne-N

7. X⁺² ile Y⁻¹ iyonlarının oluşturacağı bileşiğin formülü aşağıdakilerden hangisidir?

- A) XY₂
- B) X₂Y₃
- C) XY
- D) X₂Y

8. Aşağıda bazı bileşikler verilmiştir.

- I. CaO
- II. H₂
- III. O₂
- IV. CH₄
- V. KF

Yukarıda verilen bu bileşiklerden hangileri kovalent bağ ile oluşmuştur?

- A) I, II, IV
- B) I, II ve III
- C) II, III, IV
- D) I, IV, V

9. A⁻³ ile B⁺² iyonlarının bağ yapması ile ilgili olarak;

- I. Elektronu ortaklaşa kullanırlar
- II. İyonik bağ yaparlar.
- III. Kovalent bağ yaparlar
- IV. Oluşan bileşik formülü B₃A₂ dir.

Yargılarından hangisi ya da hangileri doğrudur?

- A) I ve III
- B) II ve IV
- C) I, II ve III
- D) I, II ve IV

5. Aşağıdaki seçeneklerde elementler ve aralarında kurulacak bağlar verilmiştir.

Buna göre hangi seçenekte verilen eşleştirme yanlış verilmiştir?

	Elementler	Bağ Türü
A)	Hidrojen-Flor	İyonik Bağ
B)	Alüminyum-Klor	İyonik Bağ
C)	Hidrojen-Brom	Kovalent Bağ
D)	Oksijen-Kükürt	Kovalent Bağ

7. Öğretmen: Birbirleriyle kovalent bağ yapan atom çiftlerine örnek verebilir misiniz?

ÖĞRENCİ	CEVAP
Ali	: Na – Cl
Kübra	: F – K
Osman	: S – O
İlayda	: Fe – O

Hangi öğrencinin öğretmenin sorusuna verdiği cevap doğrudur?

- A) Ali
- B) Kübra
- C) Osman
- D) İlayda

6.

1																				6
	2											4							5	

"Metallerin elektron vermesi, ametallerin elektron alması ile iyonik bağ oluşur."

Bu bilgiye göre yukarıdaki periyodik çizelgedeki hangi atom çifti iyonik bağ yapabilir?

- A) 1-5
- B) 2-4
- C) 6-3
- D) 5-4

NİĞDE MİLLİ EĞİTİM MÜDÜRLÜĞÜ ARGE BİRİMİ ÇALIŞMASIDIR

8. İyonik bağlı bileşiklerle ilgili olarak;

- I. Bir katyonla bir anyonun elektriksel çekim kuvveti ile oluşur.
- II. İyonik bileşikler molekül yapılıdır.
- III. Metal ile ametal arasında oluşur.

Yargılarından hangisi ya da hangileri doğrudur?

- A) Yalnız I
- B) I ve III
- C) Yalnız III
- D) I, II ve III

1. Karbonat iyonu aşağıdakilerden hangisidir?

A)



B)



C)



D)



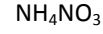
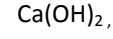
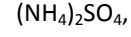
2. Aşağıda bazı bileşiklerin formülleri verilmiştir,

Bileşik Formülü	Toplam Atom Sayısı
$\text{Ca}_3(\text{PO}_4)_2$	13
CaCO_3	5
$\text{Al}(\text{NO}_3)_3$	13
$(\text{NH}_4)_2\text{SO}_4$	13

Yukarıda verilen bileşiklerin hangisinin içerdiği toplam atom sayısı yanlış hesaplanmıştır?

A) CaCO_3 B) $\text{Ca}_3(\text{PO}_4)_2$ C) $\text{Al}(\text{NO}_3)_3$ D) $(\text{NH}_4)_2\text{SO}_4$

3.



Bileşiklerinin içerdikleri atom sayıları sırasıyla hangi seçenekte doğru olarak verilmiştir?

A) 10 - 8 - 5 - 4

B) 15 - 8 - 6 - 8

C) 15 - 5 - 6 - 9

D) 14 - 6 - 7 - 9

4. A_2B_3 iyonik bağlı bileşiğe ilgili olarak

I. 2 çeşit atom vardır.

II. 5 tane atom bulunur.

III. A^{+3} katyonu ile B^{-2} anyonundan oluşur.

Yargılarından hangisi ya da hangileri doğrudur?

A) Yalnız I

B) I ve II

C) Yalnız III

D) I, II ve III

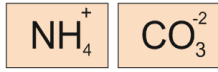
5. Aşağıda verilen bileşik formüllerinden hangisindeki atom çeşidi en fazladır?

- A) $AlPO_4$ B) NH_4ClO_3
C) NH_4CN D) C_2H_5OH

6. $(NH_4)_2SO_4$ bileşiğinde toplam kaç tane atom vardır?

- A) 16 B) 15
C) 12 D) 13

7.



Yukarıda verilen iyonları arasında oluşacak bileşikte kaç çeşit atom ve toplam kaç tane atom bulunur?

	Atom Çeşidi	Toplam Atom Sayısı
A)	4	12
B)	6	14
C)	5	16
D)	4	14

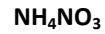
8. Aşağıda bazı katyon ve anyonlar verilmiştir,

	KATYON		ANYON
1	NH_4^+	A	CO_3^{2-}
2	Al^{+3}	B	PO_4^{3-}
3	Na^+	C	SO_4^{2-}
4	Mg^{+2}	D	NO_3^-

Aşağıda eşleştirmesi verilen katyon-anyon ikililerinden hangi ikisi seçilirse en az atom içeren bir bileşik oluşur?

- A) 1-B B) 3-C
C) 4-A D) 2-D

9.



Bileşiğindeki toplam atom sayısı aşağıdakilerden hangisinde verilen bileşikteki atom sayısından daha azdır?

- A) $NaClO_3$ B) C_2H_5OH
C) $(NH_4)_3PO_4$ D) $AlPO_4$

İNKILAP TARİHİ ve ATATÜRKÇÜLÜK

1. "Yemek sırasında: 'Yarın Cumhuriyeti ilan edeceğiz.' dedim. Orada bulunan arkadaşlar, derhâl düşünceme katıldılar. O gece birlikte olduğumuz arkadaşlar erkenden ayrıldılar. Yalnız İsmet Paşa Çankaya'da misafirdi. Onunla bir kanun tasarısı hazırladık."

Diyen Mustafa Kemal Atatürk Aşağıdakilerin hangisini Cumhuriyet yönetimini gerçekleştirmek için yapmamıştır?

- A) Saltanatın kaldırılması.
B) TBMM'nin açılması
C) 1921 Anayasasındaki hâkimiyet kayıtsız şartsız milletindir maddesi.
D) Mudanya ateşkes antlaşması

2. 3 Mart 1924'te Halifeliğin kaldırılmasında Halife Abdulmecid Efendi'nin davranışları da etkili olmuştur.

Verilen bilgiye göre Halife Abdulmecid Efendi'nin sözü edilen davranışı aşağıdakilerden hangisidir?

- A) İngilizlerle işbirliği yapması
B) Lozan Antlaşmasını Kabul etmemesi
C) Fetva vermesi
D) Kendini siyasi bir güç olarak görmesi

3. Mustafa Kemal, Millî Mücadele sürecinde saltanat ve hilafet taraftarlarını karşısına almamak için "cumhuriyet" sözcüğünü kullanmamaya özen göstermişti. Eğer bu fikrini açıklasaydı Millî mücadele daha başlamadan yarım kalırdı....

Diyen Hüseyin öğretmen cümlesini ne ile tamamlardı?

- A) Ankara başkent olamazdı.
B) Çünkü kurtuluş savaşında halen padişaha bağlı olan insanlar çoktu.
C) Saltanat kaldırılamamıştı.
D) Daha düşman yurttan atılmamıştı.

4. "Türk milleti, evlatlarına vereceği eğitimi okul ve medrese adında birbirinden büsbütün başka iki cins kuruma bölmeye bugünkü günde katlanabilir miydi? Eğitim ve öğretimde birlik olmadıkça aynı fikirde, aynı zihniyette fertlerden oluşmuş bir millet yapmaya imkân aramak boş şeylerle uğraşmak olmaz mıydı?"

Mustafa Kemal Atatürk

Diyen Mustafa Kemal Atatürk Hangi İnkılabı yapmıştır?

- A) Diyanet İşleri Başkanlığını kurmuştur.
B) Tevhidi Tedrisat kanunu yapmıştır
C) Harf İnkılabını yapmıştır.
D) Ankara'yı Başkent yapmıştır

5. Cumhuriyet Yönetimiyle devleti yeniden yapılandırmaya çalışan Mustafa Kemal Atatürk 3 Mart 1924' te bazı yenilikler yaptı.

- I. Genel Kurmay Başkanlığı kuruldu
- II. Diyanet İşleri Başkanlığı kuruldu.
- III. Vakıflar Genel Müdürlüğü kuruldu.

Hangisi orduyu siyaset dışında bırakmak için yapılmıştır?

- A) Yalnız I
- B) I ve II
- C) II ve III
- D) I, II ve III

6. "29 Ekim 1923 yılında çağdaş bir devlet biçimiyle Türkiye Cumhuriyeti kurulmuştur. Mustafa Kemal Atatürk'ün ilk Cumhurbaşkanı olarak seçilmesiyle....."

Diye devam eden cümle aşağıdakilerden hangisiyle sürdürülemez?

- A) Saltanatın kaldırılmasından sonra ortaya çıkan devlet başkanlığı sorunu da çözümlenmiştir
- B) Türk Ulusu'nun çağdaş uygarlık seviyesine çıkaran inkılaplar için elverişli bir ortam hazırlamıştır.
- C) Devletin yönetim şekli belirlenmiştir.
- D) Kabine sisteminden meclis hükümeti sistemine geçilmiştir.

7. Aşağıdakilerden hangisi Cumhuriyetin ilanını gerektiren sebepler arasında **gösterilemez**.

- A) Hükümet bunalımını gidermek
- B) Lozan'a tek başına katılmak
- C) Devlet başkanlığı sorununu çözmek
- D) Fiilen uygulanan Cumhuriyet rejimini resmileştirmek

NIĞE MİLLİ EĞİTİM MÜDÜRLÜĞÜ ARGE BİRİMİ ÇALIŞMASIDIR

8. Mustafa Kemal milli mücadelenin ilk yıllarında, devletin rejiminin Cumhuriyet olacağını yakın arkadaşlarına söylemiş, ancak bunu düşman yurttan atılıncaya kadar halka açıklamamıştır.

Aşağıdakilerden hangisinin Mustafa Kemal'in bu tutumunun nedenlerinden biri değildir?

- A) Başkomutanlık yasasını kullanıp Cumhuriyetin ilanı sağlamak
- B) Saltanat yanlılarını ulusal mücadele içinde tutma isteği
- C) Yapılacak yeniliklerin zamana ve ortama uygun olmasının gerekmesi
- D) Ulusal mücadelede öncelikli hedefin düşmanı yurttan çıkarmak olması

1. 3 Mart 1924 yılında Halifeliğin kaldırılmasıyla birlikte; Tevhid-i Tedrisat Kanunu'nu kabul edilmiş, Şer'iyye ve Evkaf Vekâleti kaldırılmıştır.

Yukarıda verilen üç durumun ortak yanı aşağıdakilerden hangisi ile açıklanabilir?

- A) Eğitim öğretimi tekleştirmek
B) Laiklik ilkesinin yerleştirmek
C) Güçler birliği ilkesinin benimsetmek
D) Vakıfların yönetimi devlete bağlamak

3. 3 Mart 1924'e kabul ettiği bir yasayla 622 yıllık Osmanlı hanedanı üyeleri yurt dışına zorunlu olarak gönderilmiştir.

TBMM'nin ulaşmak istediği amaç hangisidir?

- A) Gelecekte, saltanat ve halifelik iddiasında bulunmalarını önlemek
B) Yeni Cumhuriyet düzeninin hanedan anlayışını kabul etmemesi
C) TBMM kararlarının her şeyin üstünde olduğunu göstermek
D) İslam dünyasında birlik kurulmasını engellemek

2. 3 Mart 1924'te

Halifelik kaldırıldı.
Şer'iye Vekaleti kaldırılarak yerine Diyanet İşleri Başkanlığı kuruldu,
Erkan-ı Harbiye Vekaleti kaldırılarak Genelkurmay Başkanlığı kuruldu.

Bu gelişmeler;

- I. Dini otoritenin kaldırıldığı
II. Devlet işlerinin dine uygunluğunu denetleyen kurumun kaldırıldığı
III. Orduyu siyasetten ayırmayla ilgili çalışmalar yapıldığı

Yargılarından hangilerine kanıttır?

- A) I-II
B) I-III
C) II-III
D) I-II-III

NIĞDE MİLLİ EĞİTİM MÜDÜRLÜĞÜ ARGE BİRİMİ ÇALIŞMASIDIR

4. "İki türlü terbiye ve öğretim bir memlekette iki türlü insan yetiştirir. Bu ise duygu birliği, fikir birliği ve dayanışma amaçlarını toptan mahveder, yok eder";

Diyan Mustafa Kemal burada belirtilen olumsuz durumu ortadan kaldırmak amacıyla aşağıdakilerden hangisini gerçekleştirmiştir?

- A) Maarif Kongresinin toplanması
B) Tekke ve zaviyelerin kapatılması
C) Latin alfabesinin kabul edilmesi
D) Tevhid-i Tedrisat kanununun kabul edilmesi

5. *Rejim tartışmalarına son verildi.
*Devletin adı kondu.
*Devlet başkanlığı sorunu çözüldü.

Yukarıdaki gelişmeler hangi olay sonucunda gerçekleşmiştir?

- A) Saltanatın kaldırılması
B) Cumhuriyet'in ilanı
C) TBMM'nin açılması
D) Halifeliğin kaldırılması

6. * Laik devlet yolunda, büyük bir adım atıldı
* Yapılacak olan yeniliklerin önü açıldı
* Eski rejime dönmek isteyenlerin umut yollarından birisi kapandı.

Yukarıdaki gelişmeler neyin sonucunda gerçekleşmiştir?

- A) Halifeliğin kaldırılması
B) Saltanatın kaldırılması
C) Cumhuriyetin ilanı
D) Medreselerin kapatılması

7. I. TBMM'nin açılması
II. Cumhuriyetin ilan edilmesi
III. Saltanatın kaldırılması
IV Halifeliğin kaldırılması

Yukarıda verilen inkılabları kronolojik olarak sıralayınız?

- A) I-II-III ve IV
B) II-I-III ve IV
C) I-III-II ve IV
D) I-III-IV ve II

NİĞDE MİLLİ EĞİTİM MÜDÜRLÜĞÜ ARGE BİRİMİ ÇALIŞMASIDIR

8. Saltanat yönetimine TBMM'nin kararı ile 1 Kasım 1922 tarihinde son verilmesine rağmen; halifelik makamına dokunulmamış ve sonraki dönemde 3 Mart 1924 tarihinde halifelik makamına son verilmiştir.

Buradaki gecikmenin nedeni ne olabilir?

- A) Halifenin güçlü oluşu
B) Halkın hazır olmayışı
C) Müslüman devletlerin tepkisi
D) Mısır devletinin istememesi

1. 3 Mart 1924 yılında çıkarılan kanunla ;

- Tevhid-i Tedrisat Kanunu kabul edildi.
- Şer'i ye ve Evkaf Vekâleti kaldırıldı.
- Erkan-ı Harbiye Vekâleti kaldırıldı.

Verilen inkılâpların sonuçlarıyla ilgili aşağıdakilerden hangisine ulaşılamaz?

- A) Laiklik ilkesinin gerçekleşmesi yolunda önemli bir adım atılmıştır.
- B) Karma eğitime son verilerek kültür çatışması önlenmiştir.
- C) Ordunun siyasete müdahalesi engellenmiştir.
- D) Öğretim birliği sağlanarak sınırlarımız içindeki bütün okullar Milli Eğitim Bakanlığına bağlanmıştır.

2. M. Kemal Erzurum Kongresi için Erzurum'da buldukları günlerde Mazhar Müfit Kansu'ya; "Zaferden sonra hükümet şekli cumhuriyet olacaktır." demiştir. Ancak bu söylediklerinin bir sır olarak kalmasını istemiştir.

Aşağıdakilerden hangisi M. Kemal'in ilerde yönetim şeklinin cumhuriyet olacağını, o dönemde açıklamak istememesinde etkili değildir?

- A) Milli birlik ve beraberliğin zarar görmesini istememesi
- B) Yenilikler için koşulların oluşmasının beklenmesi
- C) Milli Mücadelede tartışmalara ve bölünmelere mahal vermemek
- D) Saltanat ve milli egemenliği sentezleme düşüncesi

3. 29 Ekim 1923 Tarihinde Cumhuriyet ilan edilmiştir.

Aşağıdakilerden hangisi Cumhuriyetin ilanının sonuçları arasında yer almaz?

- A) Yeni Türk devletinin yönetim şekliyle ilgili tartışmalara son verilmiştir.
- B) Devlet başkanlığı sorunu çözülmüştür.
- C) Cumhuriyetçilik ilkesi anayasaya girmiştir.
- D) Milli egemenlik güçlenmiştir.

4. TBMM'de 1 Kasım 1922'de çıkarılan kanunla saltanat ve halifelik birbirinden ayrılmış, halifenin siyasi yetkileri elinden alınmıştır. Ancak halife olarak tayin edilen Abdülmecit Efendi kendisine verilen dini yetkilerin dışına çıkmış siyasi faaliyetlere yönelmiştir.

Aşağıda verilen halifeliğin kaldırılma nedenlerinden hangisi bu bilgiyi doğrulamaktadır?

- A) Halifeliğin milli egemenlik düşüncesiyle uyumaması
- B) Halifenin devlet başkanı gibi davranmaya başlaması
- C) Halifeliğin yapılacak yenilikler için engel gibi görünmesi
- D) Halifeliğin Laikliğe aykırı bir kurum olması

5. I. Osmanlı Devleti'nden kalan bir kurum olması
II. Laik anlayışla gelişmesi
III. Ulusal egemenlik ilkesine ters düşmesi
IV. İnkıpların önünde engel teşkil etmesi

TBMM tarafından 3 Mart 1924'te Halifelik makamının kaldırılmasında yukarıdakilerden hangisinin bir etkisi yoktur?

- A) Yalnız I
B) Yalnız IV
C) I ve II
D) II ve III

7. Osmalı Devleti'nin son dönemlerinde geleneksel eğitim kurumlarının yanında yabancıların açmış olduğu misyoner okulları, kolejler ve azınlıkların açmış olduğu okullarda faaliyet göstermekteydi. Bu sistemde farklı eğitim tipleriyle, farklı fikir yapısına sahip insanlar yetişiyordu. Bu durumun, Osmanlı Devleti'nin yıkılma nedenlerinden biri olduğu bilinmektedir.

Yeni kurulan Türk Devleti hangi inkılabı gerçekleştirerek anlatılan olumsuzluklara fırsat vermemiştir?

- A) Saltanatın kaldırılması
B) Halifeliğin kaldırılması
C) Şer'îye ve Evkaf Vekâleti'nin kaldırılması
D) Tevhid-i Tedrisat Kanunu'nun kabulü

NIĞDE MİLLİ EĞİTİM MÜDÜRLÜĞÜ ARGE BİRİMİ ÇALIŞMASIDIR

6. Aşağıdaki hangisi 3 Mart 1924 tarihinde kabul edilen değişikliklerden biri değildir?

- A) Halifeliğin kaldırılması
B) Tevhid-i Tedrisat kanunu
C) Maarif kongresi
D) Şer'îye ve Evkaf vekaletinin kaldırılması

8. M. Kemal en iyi yönetim şeklinin cumhuriyet olduğuna inanan bir liderdi. M. Kemal;

- I. Havza Genelgesi
II. Amasya Genelgesi
III. Erzurum Kongresi

Gerçekleştirdiği bu faaliyetlerin hangisinde veya hangilerinde cumhuriyetle ilgili fikirlerini yansıtmıştır?

- A) Yalnız II
B) Yalnız III
C) II ve III
D) I, II ve III

DİN KÜLTÜRÜ ve AHLAK BİLGİSİ

1. Aşağıdakilerden hangisi İslam dinine göre yardım yapan kişinin dikkat etmesi gereken hususlardan değildir?

- A) Yardımlar malların iyilerinden verilmelidir
- B) Fakirlerin onurunu kırmadan verilmelidir
- C) Yardımlar genelde cuma günleri verilmelidir
- D) Yardım yapan kişi gösterişten kaçınmalıdır

2. 8. sınıf öğrencisi Ayşe'nin annesi, Kurban bayramında fakir komşularına götürmesi için bir poşet vermiştir. Poşetin içine bakan Ayşe; genelde kemiklerin ve işe yaramayan etsiz kısımların konulmuş olduğunu görmüştür. Derste öğrendiği yardımlaşma ilkelerini hatırlayan Ayşe elindeki poşeti götürmek istememiştir.

Ayşe, İslam'daki yardımlaşma ilkeleri ile ilgili hangi ayet ya da hadisi hatırlamış olabilir?

- A) Komşusu aç iken kendisi tok yatan bizden değildir.
- B) Size verilse gözünüzü yummadan alamayacağınız kötü malı, hayır diye vermeyiniz.
- C) O takva sahipleri ki bollukta da, darlıkta da Allah için harcarlar.
- D) Veren el, alan elden üstündür.

3. Kendisine "Kurban ne zaman kesilir?" diye sorulan 8. Sınıf öğrencisi Nisanur aşağıdakilerden hangisini söylerse doğru cevap vermiş olur?

- A) Bayram sabahı bayram namazından önce
- B) Bayramın 1. Gününden başlayıp 2. Günü öğleye kadar
- C) Bayram sabahı başlayıp 4.Günü akşam güneş batıncaya kadar
- D) Bayramın 1. Günü başlayıp 3. Günü akşamına kadar.

4. Kurban ile ilgili aşağıdaki ifadelerden hangisi yanlıştır?

- A) Kurban kesmenin dinen hükmü vaciptir.
- B) Kurban kesme ibadeti, Hz. Muhammed (sav) ile başlar.
- C) Kurbanın eti genel olarak 3'e taksim edilir.
- D) Kurban koyun, keçi, manda, sığır ve deve gibi hayvanlardan kesilebilir.

5. Kurbanlık hayvanların hamile olmadığına ve sağlıklı olması gerektiğine dikkat etmeliyiz. Kurbanın her parçası değerlidir, bunun için israf etmemeliyiz. Kurban kestığımız yeri temiz bırakmaya özen göstermeliyiz. Kurban ibadetinin Allah rızası için yapıldığı bilinci ile, gösterişten sakınmalı, et az çıktı yada çok çıktı diye muhabbetini yapmamalıyız.

Yukarıdaki paragraf için en uygun başlık aşağıdakilerden hangisidir?

- A) Kimlerin kurban kesmesi gereklidir
- B) Kurban ibadetinin toplumsal faydaları nelerdir
- C) Kurban kesen kişi nelere dikkat etmelidir
- D) Kurban ibadeti kişiye neler kazandırır

6. **Zeynep:** Kurban ibadetinin tarihi Hz. İbrahim'e kadar gitmektedir.

Rukiye: Yeni bir çocuğu doğan kişi "Akika kurbanı" keser.

Gülsüm: Kendisi kesemeyen kişiler vekâlet vererek başka birisine kurbanını kestirebilir.

Fatma: Kurban kesmek istemeyenler, bunun yerine parasını fakirlere verebilir.

Kurban ibadeti ile ilgili olarak hangi öğrencinin söyledikleri yanlıştır?

- A) Zeynep
- B) Rukiye
- C) Gülsüm
- D) Fatma

7. **Aşağıda verilen;**

1. Adak kurbanının etinden kesen kişi yiyemez.
2. Adak Kurbanı Kurban Bayramında kesilmelidir.
3. Adak kurbanı vacip bir ibadettir
4. Bir isteğin gerçekleşmesine bağlı olarak kesilmesi söz verilen kurbandır.

Adak kurbanı ile ilgili olarak yukarıdaki ifadelerden hangileri doğrudur?

- A) 1-2-3
- B) 1-2-4
- C) 2-3-4
- D) 1-3-4

8. "Kurban olarak kestiğiniz hayvanlardan hem kendiniz yiyin, hem de isteyen-istemeyen fakirlere yedin. İşte böylece şükür edesiniz diye hayvanları sizin fayda ve hizmetinize verdik." (Hac suresi, 36.ayet)

Yukarda verilen ayetten Kurban ibadeti ile ilgili hangi ilke çıkarılamaz?

- A) Kurban fakirlere yardım etmenin yollarından birisidir.
- B) Kurban etinden kesen kişi de yiyebilir.
- C) Kurban eti üç eşit parçaya bölünmelidir.
- D) Kurban Allah'a şükürümüzü gösterme yollarından birisidir

9. İslam dinine göre yapılan her ibadetin insana bir faydası muhakkak vardır. Eğer yaptığımız ibadetin bizim davranışlarımıza bir etkisi yoksa yaptığımız ibadette bir eksiklik var demektir. Bütün ibadetler gibi Hac ibadetinin de birçok amacı ve insan davranışları üzerinde etkisi vardır.

Aşağıdakilerden hangisi Hac'ın insana kazandırmak istediği davranışlar arasında yer almaz?

- A) İnsanın yeni şehirler tanımasını sağlar.
- B) Allah katında herkesin eşit olduğunu anlatır.
- C) İnsana dostluk ve kardeşliği öğretir.
- D) Şeytanın tuzağına düşmemeyi öğretir.

1. Aşağıdakilerden hangisi Haccın bireyin davranışları üzerindeki olumlu etkilerinden birisi olamaz?

- A) Farklı dil, ırk ve kültürden insanlarla kaynaşmayı sağlar.
- B) İnsanların Allah katında eşit olduğu anlaşılır.
- C) İnsanlar da "biz" duygusu yerine, "ben" duygusunu öne çıkarır.
- D) Kutsal yerleri ziyaret etmek, dini duyguları güçlendirir.

2. Kurban ile ilgili verilen bilgilerden hangisi yanlıştır?

- A) Adak kurbanı, bir işin ve isteğin olması hâlinde kesilmek üzere Allah'a adanan kurbandır
- B) Çocuk sahibi olan anne-baba da Allah'a şükür amacıyla kestiği kurbanı "akıka kurbanı" denir.
- C) Adak kurbanının etinden kesen kişi yiyemez
- D) Şükür ve akıka kurbanının etinden kesen kişi yiyemez

3. "Hac ibadeti öncesinde Müslümanlar, günlük giysilerini çıkartarak; beyaz renkte, dikişsiz ve iki parçadan oluşan ihram (haram kılmak) adı verilen bir elbise giyerler."

Aşağıdakilerden hangisi, yukarıda bilgileri verilen ihram elbisesinin, hac ibadeti sırasında giyilmesinin sebeplerinde birisi olamaz?

- A) İhram insanları gösterişten uzaklaştırır.
- B) Elbise alamayan yoksulları düşündürür.
- C) Bütün insanların eşit olduğunu düşündürür.
- D) İnsanlara mahşer gününü hatırlatır.

4. "Onların etleri ve kanları asla Allah'a ulaşmaz. Fakat O'na sizin takvanız (Allah'a karşı gelmekten sakınmanız.) ulaşır...." (Hac suresi 37.Ayet)

Bu ayeti göz önünde bulundurarak aşağıdakilerden hangisi insanların kurban kesme sebebini en iyi açıklar?

- A) Allah'a yaklaşmak, ona şükretmek ve ibadet etmek
- B) Toplumdaki fakirlerin et ihtiyacını karşılamak
- C) Kurban keserek Allah'ın rızasını kazanmak
- D) Kurban keserek kulluk bilincini yerine getirmek

5. I- "Biz, her ümmet için Allah'ın kendilerine rızık olarak verdiği kurbanlık hayvanların üzerlerine onun adını anarak kurban kesmeyi meşru kıldık. İlahınız, bir tek ilah'tır. Öyle ise ona teslim olun. (Ey Muhammed!) O ihlaslı ve mütevazı insanları müjdele!" (Hac, 34)

II- "Kim imkânı olduğu hâlde kurban kesmezse bizim mescidimize yaklaşmasın." (Hadis-i Şerif)

Yukarıda verilen ayet ve hadise göre aşağıdaki sonuçlardan hangisi çıkartılamaz?

- A) Müslümanlar Kurban kesmekle yükümlüdürler
- B) Kurban keserken Allah'ın adı anılmadan kesilemez
- C) Kurban kesmeyen mescide giremez
- D) Allah kurban kesilmesini sadece Müslümanlara değil diğer ümmetlere de emretmiştir

5. "TEOG sınavına giren Kerem, sınavdan önce bu sınavdan en çok 1 yanlış yaparsam kurban keseceğim demiştir. Kerem sınavdan sonra sadece 1 yanlış yapmıştır."

Kerem'in kesmesi gereken kurbanın adı aşağıdakilerden hangisidir?

- A) Akıka kurbanı
- B) Şükür kurbanı
- C) Kefaret kurbanı
- D) Adak kurbanı

6. I- Fakirlerin çektiği zorluklar daha iyi anlaşılır.
 II- Allah'ın emrini yerine getirmenin huzuru yaşanır.
 III- Yaşanan zorluklar, yardımlaşma duygusunu ortadan kaldırır.
 IV- Farklı milletlere mensup Müslümanlarla kaynaşma sağlanır.
 V- Müslümanların ticari ilişkilerini geliştirir.
 VI- Hac Müslümanların kardeş olduğunu hatırlatır.

Yukarıdakilerden hangisi hac ve umrenin, birey ve topluma sağladığı katkılardan sayılabilir?

- A) I - IV - VI
 B) II - V - III
 C) V - I - III
 D) IV - II - VI

7. **Hac ibadetini rükunları ile birlikte düşündüğümüzde hangi rükunda hac ibadetinin insanlara sağladığı faydalardan yanlış bahsedilmiştir?**

- A) Tavaf, bütün Müslümanların birlikteliğinin sembolik bir ifadesidir. Ayrıca insanlar, tavaf ederek Allah'a bağlılıklarını gösterirler.
 B) Vakfe, insanların bilgi ve görgüsünü artırır. Mala bağımlılığı azaltarak fakirlere, yoksullara karşı merhamet ve yardım duygularını geliştirir.
 C) Sa'y; Hz. İbrahim'in hanımı Hacer, su bulmanın imkânsız gibi görüldüğü ıssız çöl ortamında Allah'tan ümidini kesmemiş, su aramaya devam etmiştir. Çünkü o, Allah için hiçbir şeyin imkânsız olmadığına inanıyordu. Sonunda Allah, Hacer ve oğlunu zezem suyuna kavuşturmuştur. Zorluklar karşısında Hacer'in gösterdiği inanç, ümit, sabır, tevekkül ve kararlılığı gösterenler de Allah'ın yardımını elde ederler.
 D) Şeytan taşlama esnasında, iyi bir insan olmanın ve iyilik yapmanın önündeki engeller akla getirilir. Bu engelleri kaldırmak için mücadele edileceği sözü verilir. Şeytan taşlamayla şeytanın hile, vesvese, kötülük ve düşmanlıklarına karşı sembolik olarak tepki gösterilir. Bütün kötülüklerden uzak durulacağı kararlı bir şekilde ortaya konulur.

7. **Aşağıdakilerden hangisi Hac ibadetinin insan davranışları üzerine etkisi düşünülüğünde Hacıların giydikleri ihram hakkında söylenemez?**

- A) Hacda giyilen ihram, insanlar arasındaki makam, mevki, unvan gibi farklılıkları ortadan kaldırır.
 B) İnsanları gösterişten uzak, sade bir görünüme kavuşturur
 C) Herkesi malı konusunda eşit konuma getirir.
 D) İhramlıyken getirilen yasaklar, insanlara sabretme alışkanlığı kazandırır. İradeyi güçlendirir. En zor durumlarda bile kızmadan, öfkelenmeden hareket etmeyi öğretir.

8. "Onların ne etleri ne de kanları Allah'a ulaşmaz. Fakat sizin Allah'ın emirlerine olan bağlılığınız ona ulaşır..." (Hac, 37) **ayetinden çıkarılabilecek en kapsamlı anlam aşağıdakilerden hangisidir?**

- A) Kurban, etini yoksullara dağıtmak için kesilir
 B) Kurban yalnızca Allah rızası için kesilir
 C) Kurban etinin üçte biri misafirlere ikram edilir
 D) Kurban keserken kan akması yeterlidir

9. **Aşağıdakilerden hangisi Hac ibadetinin insan davranışlarına sağladığı olumlu katkılardan biri değildir?**


- A) Hacılar mal, mülk, rütbe ve makam gibi özelliklerinin sağladığı faydaları burada görürler
 B) Müslümanlar arasında kardeşlik duygularının güçlenmesine katkı sağlar
 C) Zorluklara karşı sabırlı olmayı öğretir
 D) Hacıların bilgi ve kültürünün artmasına katkı sağlar

İNGİLİZCE

1., 2. ve 3. soruları aşağıda verilen metne göre cevaplayınız.

Hi! My name is Stella. I'm always online. I usually use my smart phone and sometimes my tablet or PC to connect to the Internet. I have accounts on every popular social networking site like Facebook, Twitter, Instagram... I love surfing the net for fashion tips, following my favourite celebrities, listening to music and watching funny videos. YouTube is one of my favourite websites. I can listen to music, watch funny videos and write comments... Also, I have a YouTube channel where I upload my own videos about my daily life and trendy clothes.

1. According to the text; Which picture is Stella's?



2. How does Stella generally connect to the Internet?

- A) She never goes online.
- B) She prefers her smart phone.
- C) She uses her desktop computer or tablet.
- D) She prefers YouTube to watch videos.

3. Which one is false according to the text?

- A) We can say that Stella is an Internet addict.
- B) Stella loves online shopping, so she buys trendy and expensive clothes.
- C) YouTube is one of the popular website among teenagers.
- D) You can use your smart phone or computer to connect to the Internet.

4., 5. ve 6. Sorularda boşluğa gelen uygun ifadeyi işaretleyiniz.

4.



I think "Google" is the best _____ I have ever known. You can find anything that you want.

- A) search engine
- B) software
- C) social networking site
- D) application

5. Paula: Hi Jason. This is Paula speaking.

Jason: Hi Paula, what's up? Have you received my email?

Paula: I'm really sorry that I accidentally _____ your e-mail before reading it. Would you mind sending it again?

Jason: Don't worry, I'll send it again.

- A) lost
- B) deleted
- C) uploaded
- D) replied

6. **Martin:** Hi, Sandy. Do you go online a lot?

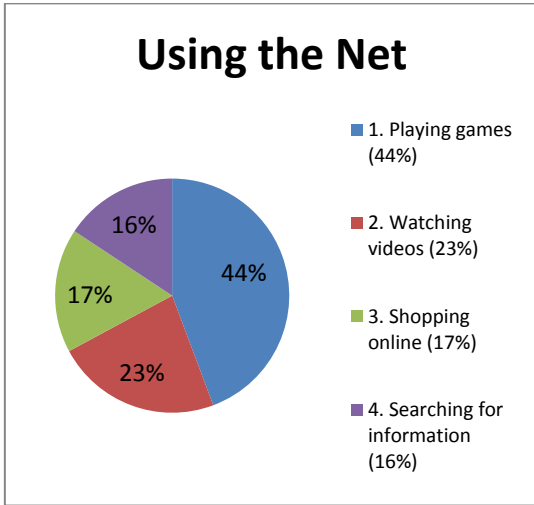
Sandy: Hey, Martin. Sure! I'm online most of the day. Isn't everyone these days?

Martin: Unfortunately! _____?

Sandy: Well, I usually keep in touch with my friends, check my e-mails and read the news.

- A) How often do you go online?
- B) What do you mean?
- C) Do you play online games?
- D) What do you do online?

7.



Yukarıdaki grafiğe göre hangisi doğrudur?

- A) Half of the teenagers play games online.
- B) Nearly 25% of the teenagers watch videos on the net.
- C) Teenagers don't prefer shopping online.
- D) They mostly search for information.

8. If you want to log in this website, you need to first.

Yukarıda boş bırakılan yere aşağıdakilerden hangisi gelmelidir?

- A) register
- B) online
- C) log out
- D) e-mail

9. Aşağıda verilen;

Susan Hi, Yıldız. I have to search for some information about my homework but there is a problem. Can you help me?

Yıldız Sure. What is the problem?

Susan I can't connect to the internet.

Yıldız Well, check the connection cable first. Then, open a website again.

Susan Ok. It is working now. Thanks a lot.

Yıldız

Diyalogta boş bırakılan cümle aşağıdakilerden hangisidir?

- A) Next close the PC.
- B) Take care
- C) Try to log in again.
- D) Never mind.

1. Aşağıda verilen;

- Sue** How do you connect to the internet?
- Simon** What do you mean?
- Sue** I mean,
- Simon** I use my tablet to connect to the internet.
- Sue** Ok.

Diyalogta boş bırakılan cümle aşağıdakilerden hangisidir?

- A) How often do you use the internet?
- B) Do you have a PC, tablet or smartphone with the internet connection?
- C) Do you spend much time online?
- D) Are you connected to the internet all the time?

2. I usually access to the internet from my tablet I can carry it everywhere. I can also read the news online watch some videos. It makes the life easier.

Yukarıda boş bırakılan yerlere aşağıdakilerden hangisi gelmelidir?

- A) and / so
- B) so / but
- C) because / but
- D) because / and

3. Aşağıda verilen;

- Kate** Hi George, do you have a plan on Monday?
- George** Why do you ask?
- Kate** Because I am going to buy a smartphone but I don't know about the technical specifications. I know you are good at technology. Would you like to come with me?
- George** I would love to but
- Kate** Ok, then let's meet another day.
- George** Ok, see you. Bye.

Diyalogta boş bırakılan cümle aşağıdakilerden hangisidir?

- A) I love going to the technology stores.
- B) I will pick you up at 5 p.m.
- C) I have to finish my homework.
- D) I am good at technology.

4. **JANE:** There is an exhibition in the city centre along this week and I'm going to visit there this afternoon. Would you like to come with me?

TERRY: Great, I'd love to. What time are you going to go there?

JANE: I'm planning to be there at 4.30 p.m.

TERRY:

Yukarıdaki boşluğa ne gelmelidir?

- A) I'm going to go another place at 4.00
- B) I'd like to, but my uncle is going to visit us today
- C) Well, I think we should leave home at around 4.00 p.m so that we can arrive there on time.
- D) I can't leave home. Maybe later. Thanks anyway.

5. Aşağıdaki tablodaki kelime ve açıklamalarının doğru eşleşmesi hangi seçenekte verilmiştir.

1)Account	a)to post pictures or videos from PC to the internet
2)Upload	b) The internet services you use by entering a username and password as a member
3) Register	c)to access a website
4) log in	d) to put your personal information into a website to become a member of the website

- A) 1b 2a 3d 4c
 B) 1a 2b 3d 4c
 C) 1b 2d 3a 4c
 D) 1a 2b 3c 4d

6. You can useto connect the internet to your smart phone without using a connection cable.

Boşluğa uygun olan kelime aşağıdakilerden hangisidir?

- A) wireless modem
 B) cable modem
 C) telephone line
 D) software

7. **DAN:** I want to connect to the internet on my tablet,but I can't .I use a wireless modem and I can't solve the problem.I need your help.Can you help me,please?
BOB: Ok,well.....

Boşluğa uygun olan kelime aşağıdakilerden hangisidir?

- A) Check your e-mail box.
 B) You can get information from your teachers.
 C) Don't use internet too much.
 D) Check the internet settings and reset the modem settings.

8. **TEACHER:** How many hours in a week do you spend playing computer games?

STUDENT: Hımmm ... 2-3 hours in a day, my teacher.

TEACHER: Ohh, Ali it's reallyfor you. You should spend less time for playing games.

Boşluğa uygun olan kelime aşağıdakilerden hangisidir?

- A) exciting
 B) dangerous
 C) comfortable
 D) Enjoyable

9. **TIM:** Excuse me ,can I use the internet?

JEN:because there is a problem about the internet connection.

Boşluğa uygun olan kelime aşağıdakilerden hangisidir?

- A) I'm sorry ,you can't
 B) You should log on the website
 C) Don't mind
 D) I'm sorry to hear that.

NİĞDE İL MİLLİ EĞİTİM MÜDÜRLÜĞÜ

Strateji Geliştirme Şubesi

ARGE Birimi

ARALIK-2015

SAYI 3

Telefon : 0 388 232 32 72 - 141

Belgegeçer : 0 388 232 32 74

E-Posta : arge51@meb.gov.tr

Adres : Yukarı Kayabaşı Mah. Dışarı Cami Sk. No 9 51200 Merkez / NİĞDE