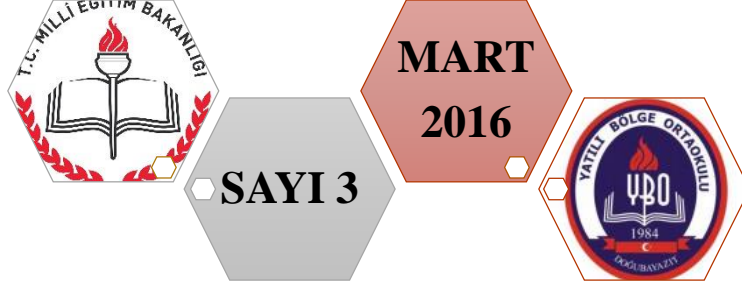


DOĞUBAYAZIT YATILI
BÖLGE ORTAOKULU
8.Sınıf Kazanım
Değerlendirme
Testleri



Tamamı özgün,



TEOG kazanımlarına uygun,



200 soru

Dizgi & Tasarım

- Bekir GENÇER

Proje Yürütücüleri

- Taşkın BAYRAM
- Bekir GENÇER

İletişim

- **Telefon** : 0472 312 61 00
- **Mail** : muhammetsimsek@live.com - taskinbayram86@gmail.com
- **İnternet** : <http://dogubeyazitybo.meb.k12.tr>

Ekibimizde siz de yer almak ister misiniz?

- Test ekibimizde yer almak için bizimle iletişime geçebilirsiniz.

*“Doğubayazıt Yatılı Bölge Ortaokulu bünyesinde hazırlanan kazanım değerlendirme testlerinin oluşumunda desteklerini esirgemeyen öğretmenlerimiz Sayın **Muhammet ŞİMŞEK**'e , Sayın **Saltuk Buğra BARIŞAN**'a ve Sayın **Selman GÖKARİK**'a sonsuz teşekkürler... “*

Testlerle ilgili her türlü görüş ve önerilerinizi bekliyoruz...



TÜRKÇE

H. Okan EROĞLU
(Yatılı Bölge Ortaokulu)



MATEMATİK

Muhammet ŞİMŞEK
(Cemalettin Tınaztepe Ortaokulu)
Antakya / Hatay
Saltuk Buğra BARIŞAN
(Erçiş YBO)



DİN KÜLTÜRÜ VE AHLAK BİLGİSİ

Engin ATDEMİR
(Yatılı Bölge Ortaokulu)



FEN BİLİMLERİ

Bekir GENÇER

Davut ÖNDER

(Yatılı Bölge Ortaokulu)



İNGİLİZCE

Selman GÖKARIK

(Susuz İncesu 75.Yıl YBO / KARS)



**İNKİLAP TARİHİ VE
ATATÜRKÇÜLÜK**

Erkan YAŞAR

(Yatılı Bölge Ortaokulu)

TÜRKÇE

türkçe



TEST 1

1. Dengeli beslenme

Bu cümle aşağıdakilerden hangisiyle tamamlanırsa amaç-sonuç ilişkisi ortaya çıkar?

- A) sağlıklı yaşamın sırrıdır.
- B) bireyi obeziteden kaynaklanan hastalıklardan korur.
- C) gayesiyle her gün düzenli kahvaltı yapar.
- D) kişinin hayatını düzene sokmasına yardımcı olur.

2. Aşağıdakilerden hangisinde örtülü anlam vardır?

- A) Televizyonu kumandayla kapattı.
- B) Kitaplarını çantadan çıkarttı.
- C) Bu şeyi ancak o becerebilir.
- D) Okuldan eve yürüyerek gitti.

3. Aşağıdaki cümlelerin hangisinde karşılaştırma vardır?

- A) Agit sinemada film izlemeyi seviyor.
- B) Feleknaz büyüyünce doktor olmak istiyor.
- C) Melek derslerine düzenli çalışır.
- D) Şevhat futbolu basketbola göre daha iyi oynuyor.

Doğubayazıt Yatılı Bölge Ortaokulu Test Ekibi Çalışmasıdır.



4. Aşağıdaki cümlelerin hangisinde nesnel bir yargı vardır?

- A) Dil bir toplumu diğer toplumdan ayıran en önemli ögedir.
- B) Milli şairimiz M. Akif İstiklal Marşımızı Safahat adlı kitabına koymuştur.
- C) Şair sözcüklere yeni anlamlar ve çağdaş yorumlar katar.
- D) Şair dili canlı tutar ve zenginleştirir.

5) Dünya yazınında bir başyapıt sayılan Ulysses'in Türkçeye çevrilmesi önemli bir olay. Bu çeviri önemine uygun bir biçimde coşkuyla karşılandı yazın ve aydın çevrelerinde. Gösterilen ilgi üzerine çeviri kısa sürede tükendi ve ikinci baskısı hazırlandı. James Joyce'un bu ünlü yapıtı, yıllar boyunca harcanan çabalarla yayın dünyamızın seçkin ilkleri arasında yer aldı. Ulysses'in çevirisi epeyce konuşuldu ve dillerden düşmedi uzun süre.

Yukarıdaki paragrafın ana fikri aşağıdakilerden hangisidir?

- A) Yazar Ulysses'in çevrilmesine sevinmiştir.
- B) Ulysses'in çevirisi yıllarca konuşulmuş dilden düşürülmemiştir.
- C) Yoğun ilgiden dolayı çeviri kısa sürede tükenmiştir.
- D) Bir başyapıt olan Ulysses'in çevirisi haklı ve büyük bir ilgi görmüştür.

6) Aşağıdaki deyimlerden hangisi tembellikle ilgilidir?

- A) Canı burnunda olmak.
- B) Boş gezenin boş kalfası
- C) Canından bezmek.
- D) Burnundan solumak.

7) Muhammet bu sınavda düşük almış kesin nazar değdi.

Yukarıda altı çizili sözcükle aynı anlamda kullanılmış deyim aşağıdakilerden hangisinde vardır?

- A) Ahmet yüksek not alarak göze girdi.
- B) Arif performansıyla gözden düştü.
- C) Selma bu işte göze geldi.
- D) Selim bu işi batırarak gözünden düştü.



Doğubayazıt Yatılı Bölge Ortaokulu Test Ekibi Çalışmasıdır.



8) Cümlelerin hangisinde şaşırma anlamı vardır?

- A) Gerçekten mi? Çok sevindim senin kazanmana.
- B) Gecenin bu saatinde böyle gürültü yapılır mı?
- C) Otuz yaşına geldi ama hala bir baltaya sahip olmadı.
- D) Şu oyun bir bitse de salondan çıksak artık.

türkçe



TEST 2

1) Aşağıdaki cümlelerin hangisinde doğrudan anlatım söz konusudur?

- A) Akşamki toplantıya katılamayacağını söylemişti.
- B) Arabadaki eşyaları yukarı çıkarmamı söyledi.
- C) Bu yemeği hiç sevmediğini biliyorum, diyerek güldü.
- D) Dün akşamki maçta çok yorulduğunu söyledi.

2) Aşağıdaki cümlelerin hangisinde kısaltmaların yazımı ile ilgili bir yanlışlık yapılmamıştır?

- A) Milletvekilleri TBMM'ye gelerek yemin ettiler.
- B) Pilotluk eğitimi için THK'na başvuru yaptık.
- C) Bu elmaların kg'si kaç lira ?
- D) Çocukluğum Doğubayazıt Y.B.O'da geçti.

3) Aşağıdaki cümlelerin hangisinde büyük harflerin kullanımı ile ilgili yazım yanlış yapılmıştır?

- A) Doktor Ahmet Bey bugün izinli.
- B) Sınavı kazandığımı duyunca dünyalar benim oldu.
- C) Bu hafta boyunca Anadolu'nun Batısında yağış bekleniyor.
- D) Ayşe teyzem bu kocaman evde tek başına yaşıyor.

4) Aşağıdaki kelimelerin hangisinin yazımı doğrudur?

- A) Orjinal B) Izdırap C) Şarz D) Egzoz

5) Aşağıdaki cümlelerin hangisinde yazım yanlışı yoktur?

- A) Yazılarını Hürriyet Gazetesinde yazıyor.
- B) Bu akşamki eğlence programına Ayşe’de gelecek.
- C) Tutki karnım acıktı, anneme küstüm.
- D) Yeni yönetmelik Resmi Gazete’de yayınlandı.

6) Aşağıdaki cümlelerin hangisinin yüklemi işteş çatılıdır?

- A) Son hareketin bardağı taşırdı.
- B) Maaşı alan YBO öğrencileri kantine koştu.
- C) Yıllar boyu bu fabrikada çalıştım.
- D) Mehmet Ateş’ in evinin kapısına para sıkışmış.

7) Aşağıdaki cümlelerin hangisinde ‘-de’ nin yazımında yanlışlık yapılmıştır?

- A) Askerliği de yedin bitirdin Hasan.
- B) Eli işde gözü oynaşta.
- C) Bu havada pikniğe mi gidilir ?
- D) Bütün eşyalar yangında kül oldu.

8) Aşağıdaki cümlelerin hangisinde yazım yanlışı vardır?

- A) Ağır-ağır çıkacaksın bu merdivenlerden.
- B) Saçlarıma kar mı yağdı, benim mi Allah’ım bu çizgili yüz?
- C) Ne hasta bekler sabahı, ne taze ölüyü mezar.
- D) Yaş otuz beş, yolun yarısı.

1) Aşağıdaki cümlelerin hangisinde zıt anlamlı sözcükler birlikte kullanılmıştır?

- A) Yaptığın soğuk esprilerle ortamın sıcaklığına arttırdı.
- B) Bana gösterdiği yakın davranışları aramızdaki uzak mesafeleri eritti.
- C) Zenginin malı fakirin çenesini yorarmış.
- D) Bilemedim kıymetini, kadrini.

2) Cümlelerin hangisinde söyleyenin kendi fikirlerine yer verilmiştir?

- A) Bu mevsimde yapılacak en güzel iş YBO'da nöbet tutmaktır.
- B) İshakpaşa Sarayı Ağrı ili sınırları içerisindedir.
- C) Türkiye'nin en büyük ili Konya'dır.
- D) Bu yıl Şubat 29 gün çekti.

3) Aşağıdaki cümlelerin hangisinde yazım yanlışı vardır?

- A) İş çıkışı Ayşe Hanım ofise pasta getirdi.
- B) Geçtiğimiz yıl güneş tutulması olmuştu.
- C) Aramızda 80'lerden kalma yöntemlerle ders anlatanlar var.
- D) Bu hayatta en tehlikeli insanlar riyakar insanlardır.

4) Aşağıdaki cümlelerin hangisinde benzetme yapılmıştır?

- A) Kuşlar baharın gelişini şarkı söyleyerek kutluyor.
- B) Yaptığın bu hareketle gözümden iyice düştün.
- C) Tabiat ana uykusundan uyanıyor.
- D) Kale gibi sağlam duvarları olan bu hapishaneden hiçbir mahkum kaçamaz.

5) Aşağıdaki cümlelerin hangisi yüklemnin türüne göre farklıdır?

- A) Hayatımdaki en büyük varlık annemdir.
- B) Öğlen yemeğinde yediği tavuk eti onu zehirlemiş.
- C) İki saat boyunca arabasını yıkadı.
- D) Bu kış çok fazla kar yağdı bu kente.

6) Aşağıdaki cümlelerin hangisinde nesnellik söz konusudur?

- A) Sana kırmızı çok yakışıyor.
- B) Okulumuzun yeni kütüphanesi çok güzel oldu.
- C) Gelecek çok güzel olacak.
- D) Vali Bey geçen hafta ilçeyi ziyaret etti.

7) Aşağıdaki cümlelerin hangisi yapısı bakımından farklıdır?

- A) Sabahki törende çok etkileyici bir konuşma yaptı.
- B) Uzayan yollar boyunca seni düşündüm.
- C) Zaman geçtikçe sabırsızlanıyorum.
- D) Fırından iki ekmek al çıkar.

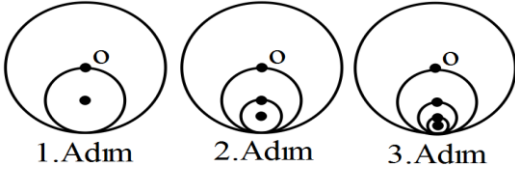
Doğubayazıt Yatılı Bölge Ortaokulu Test Ekibi Çalışmasıdır.

8) Aşağıdaki cümlelerin hangisinde yazım yanlışı vardır?

- A) Bendeki bu aşkı heves mi sandın?
- B) Üç beş gün sonra biter mi sandın?
- C) Böyle yaşamaktan bıktım ben usta.
- D) Akşamdan beri beş litre çay içtim.

MATEMATİK

1)



1. Adım

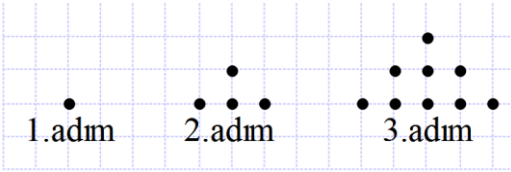
2. Adım

3. Adım

Yukarıda birbirinin içine geçmiş büyük çemberin yarıçapı küçük çemberin çapı olacak şekilde bir fraktalın ilk 3 adımı verilmiştir. Birinci adımdaki O merkezli çemberin çapı 64cm olduğuna göre bu fraktalda 6. Adımdaki en küçük çemberin yarıçapı kaç cm olur?

- A) $\frac{1}{2}$ B) 1 C) 2 D) 8

2)



1. adım

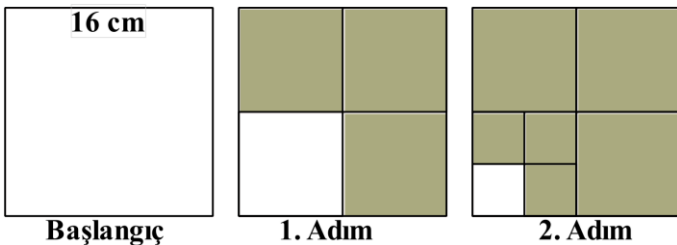
2. adım

3. adım

Yukarıda verilen örüntü, aynı kurala göre devam ettirildiğinde 7. adımı için kaç tane noktaya ihtiyaç duyulur?

- A) 7 B) 36 C) 49 D) 64

3)



Başlangıç

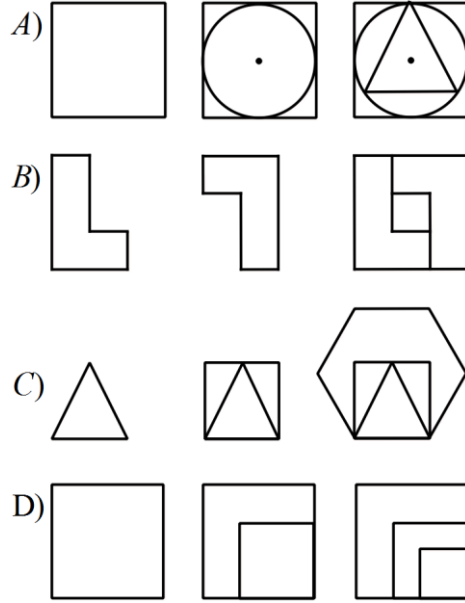
1. Adım

2. Adım

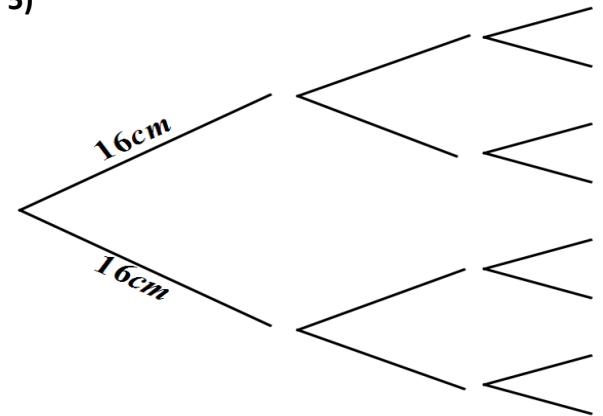
Bir kenarı 16 cm olan kare, şekildeki gibi bir örüntü oluşturmuştur. Bu örüntüye göre dördüncü adımdaki taralı alan kaç cm^2 olur?

- A) 256 B) 255 C) 252 D) 192

4) Aşağıdaki seçeneklerden hangisi bir fraktalın ilk üç adımını belirtir?



5)



1. Adım

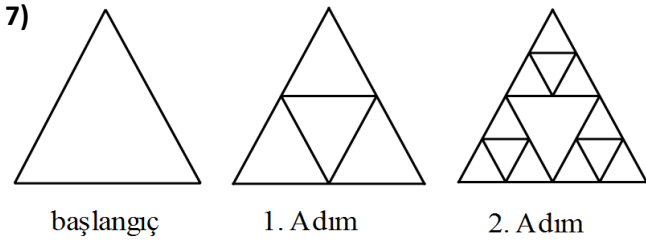
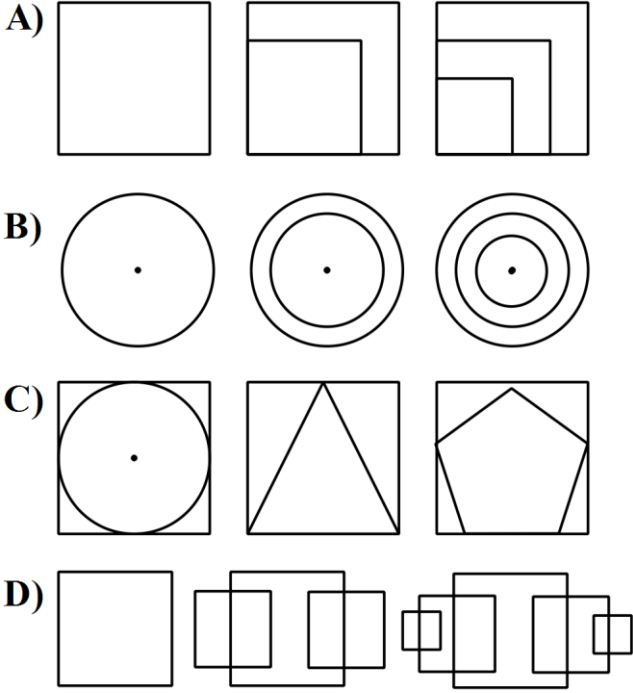
2. Adım

3. Adım

Yukarıdaki diyagramla bir fraktal oluşturulmuştur. Her adım bir önceki adımın çubuklarının $\frac{1}{2}$ oranında küçültülmüş halleri ile oluşturulmuştur. Buna göre beşinci adım için kaç cm uzunluğunda çubuğa ihtiyaç vardır?

- A) 16 B) 32 C) 64 D) 256

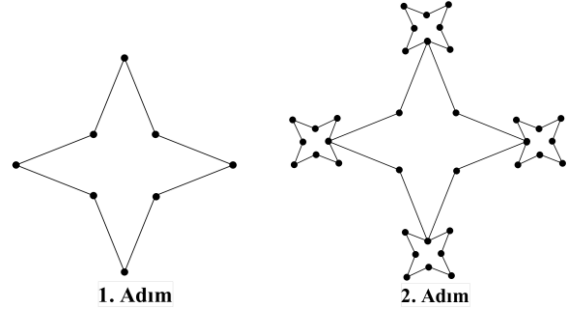
6) Aşağıdakilerden hangisi bir fraktalın ilk üç adımı olamaz?



Yukarıdaki üçgenler belirli bir kurala göre iç içe geçerek fraktal oluşturmuştur. Buna göre 4. adımı oluşturmak için kaç tane üçgen çizmek gerekir?

- A) 41 B) 40 C) 27 D) 14

8)

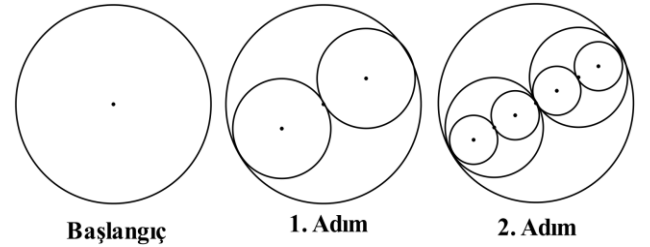


Yukarıdaki 1. adımdaki şekil sekiz noktadan oluşmuştur ve şekildeki gibi köşelerdeki noktalara aynı şekil eklenerek bir sonraki adım oluşturulduğuna göre 3. adımda kaç nokta vardır?

- A) 128 B) 148 C) 160 D) 168



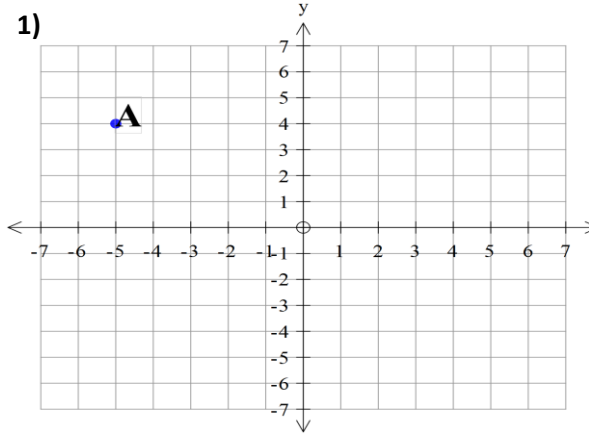
9)



Başlangıçtaki yarıçapı 64cm olan yukarıdaki çemberin yarıçapına, çap olarak şekilde karşılıklı iki tane çember daha eklenerek yeni adım oluşturulmaktadır. Buna göre 13. adımda kullanılan yeni çemberlerin çapları toplamı kaçtır?

- A) 16 B) 32 C) 64 D) 128

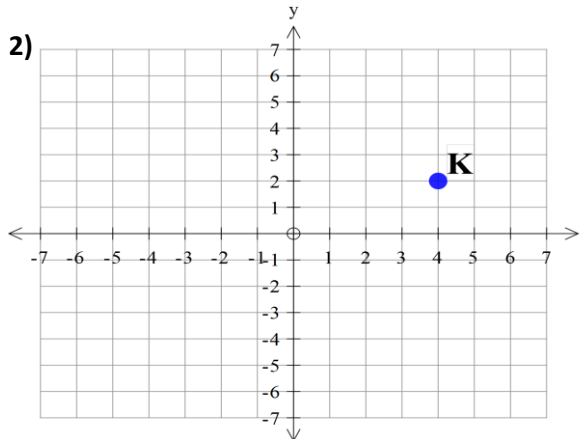
1)



Yukarıdaki A noktasınının x doğrusu, y doğrusu ve orjine göre simetrisi alındığında aşağıdaki noktalardan hangisine denk gelmez?

- A) (-5,-4) B) (5,4)
C) (5,-4) D) (4,-5)

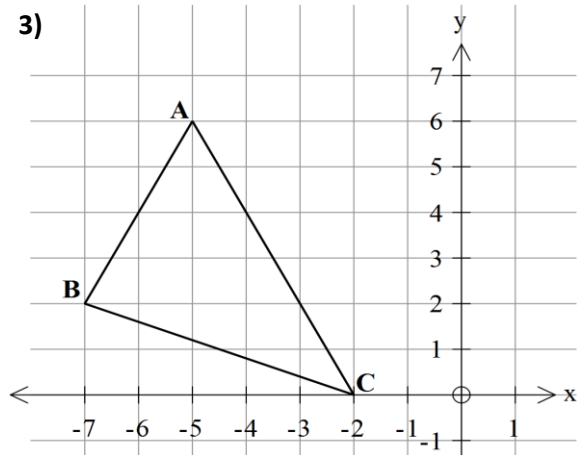
2)



Yukarıdaki K noktasının 90° , 180° , 270° saat yönünde döndürülmesiyle oluşan noktalardan biri değildir?

- A) (2,-4) B) (-4,-2)
C) (2,4) D) (-2,4)

3)



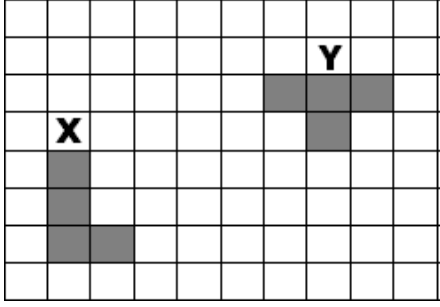
Aşağıdakilerden hangisi yukarıda koordinat düzleminde bulunan (ABC) üçgeninin orjin etrafında 90° döndürülmesiyle oluşan yeni kordinatlardan biri değildir?

- A) (-5,6) B) (2,7)
C) (6,5) D) (0,2)

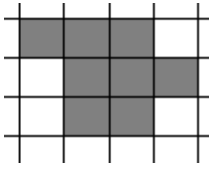
4) Koordinat düzleminde noktaları A(7,1), B(7,6), C(-5,6), D(-5,1) olan dikdörtgenin x eksenine göre yansımasının kordinatlarından biri değildir?

- A) (7,-1) B) (5,-1)
C) (-5,-6) D) (7,-6)

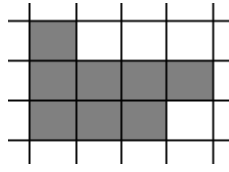
5) Aşağıdaki şekil birim karelerden oluşmuştur. X cismi yukarı yönde 3 birim, sağa doğru 4 birim öteleniyor. Son durumda oluşan şekil aşağıdakilerden hangisidir?



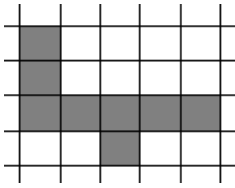
A)



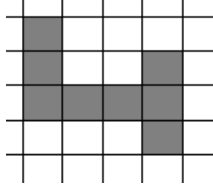
B)



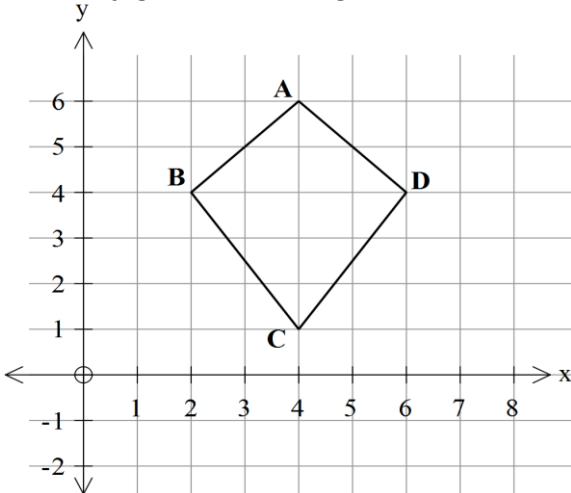
C)



D)



6) Aşağıda koordinat düzleminde verilmiş olan şekil 4 birim aşağıya 5 birim sola ötelenirse son durumda oluşan yeni şeklin kordinatlarından biri aşağıdakilerden hangisidir?



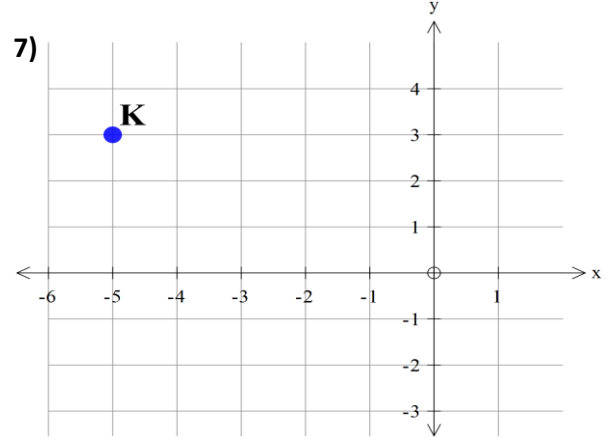
A) (4,2)

B) (2,4)

C) (1,0)

D) (4,-3)

7)



Şekildeki K noktasının 4 birim aşağıya ötelendikten sonra y eksenine göre simetrisinin koordinatı aşağıdakilerden hangisidir?

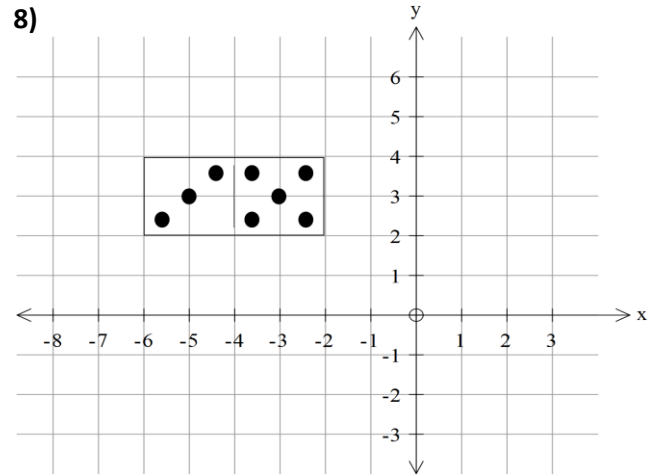
A) (-5,1)

B) (-5,-1)

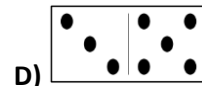
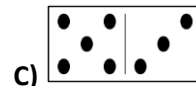

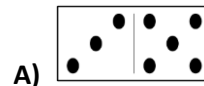
C) (-5,3)

D) (5,-1)

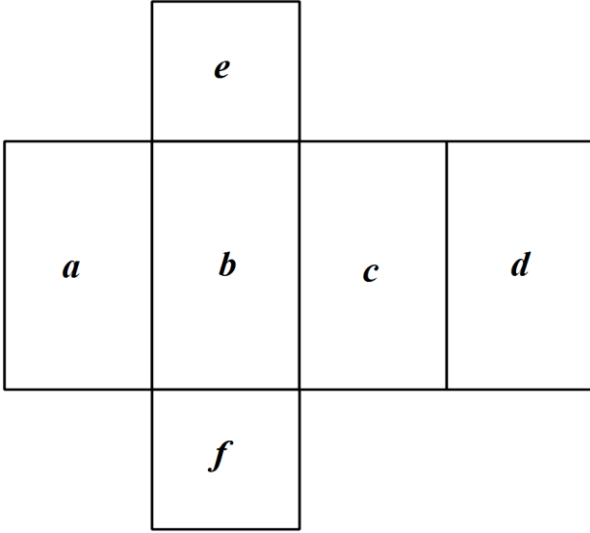
8)



Yukarıdaki koordinat düzleminde bulunan domino taşı sırasıyla x eksenine, y eksenine ve orjine göre simetrisi alındığında oluşan son şekil aşağıdakilerden hangisi gibi olur?



1)



Yukarıda açılımı verilen kare dik prizmanın yüzeyleri harflerle gösterilmiştir. Buna göre prizma kapatıldığında harf ile gösterilen yüzlerden hangileri birbirine paralel olmaz??

- A) e-f B) a-c
C) b-c D) d-b

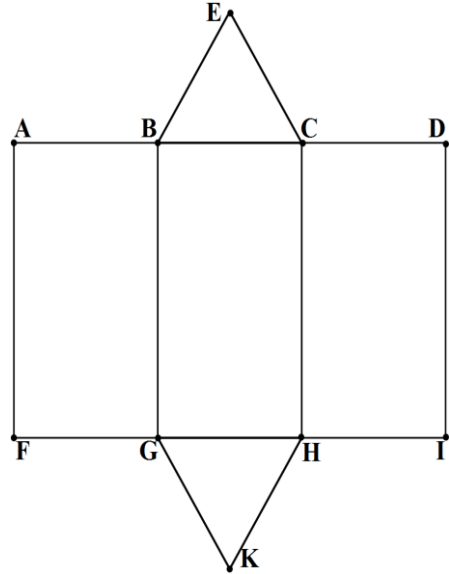
2) Onyedigen piramitin kaç tane köşesi vardır ?

- A) 16 B) 17
C) 18 D) 19

3) Bir altıgen piramidin kaç tane ayrıtı vardır ?

- A) 13 B) 12
C) 7 D) 6

4)

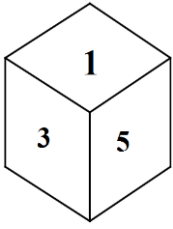


Yukarıdaki üçgen dik prizma kapatıldığında hangi noktalar üst üste gelmez?

- A) A-E B) F-K
C) E-D D) H-I

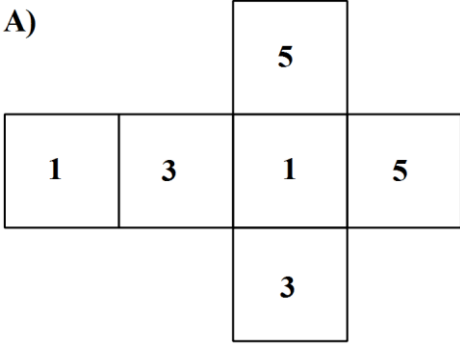


5)

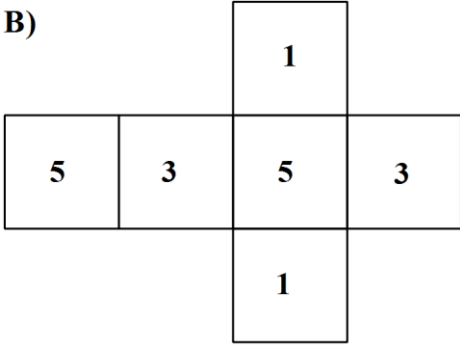


Şekildeki küpün karşılıklı paralel yüzelerinde aynı sayılar bulunduğuna göre bu küpün açılımını aşağıdakilerden hangisidir?

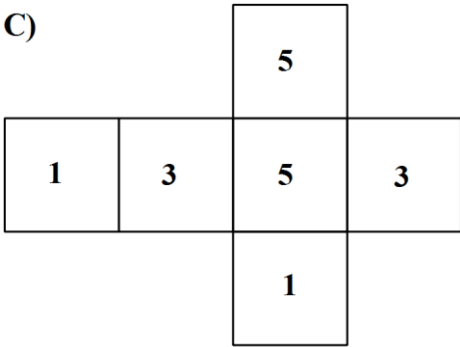
A)



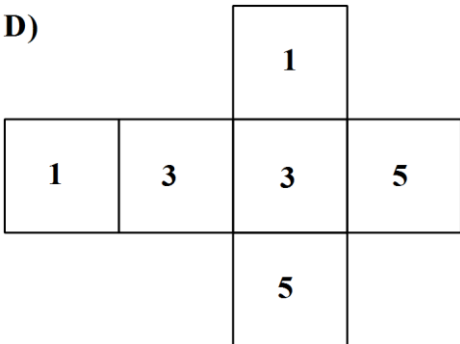
B)



C)

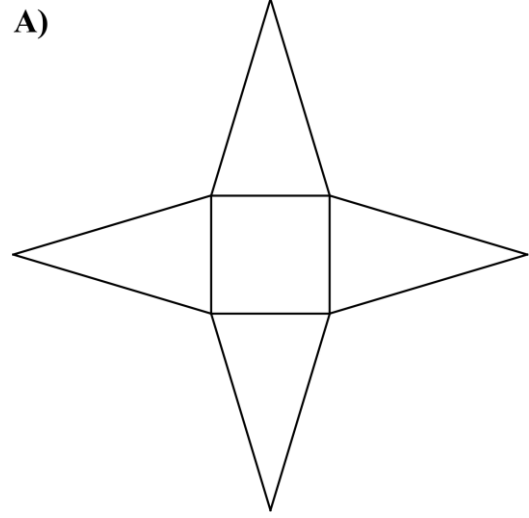


D)

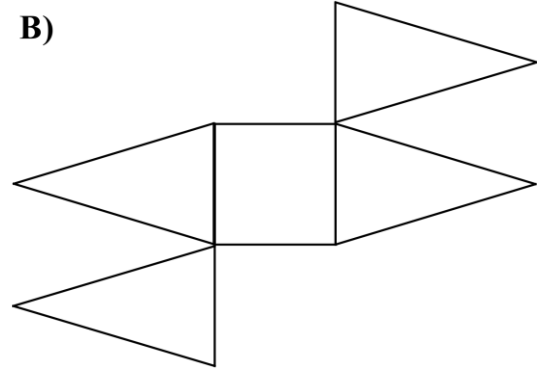


6) Ayşe'nin öğretmeni Muhammet Hoca, Ayşe'ye evde kartondan makas yardımıyla kare piramitin açılımını yapmasını istiyor. Ayşe açılımını yanlış yaptığına göre aşağıdaki açınımlardan hangisi Ayşe'nindir?

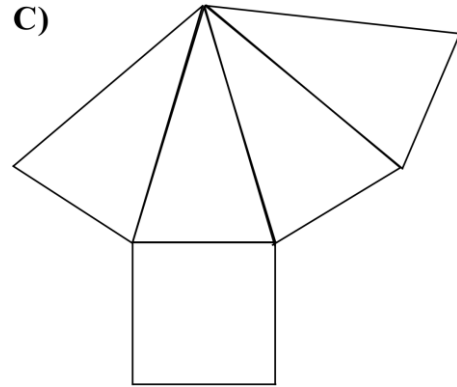
A)



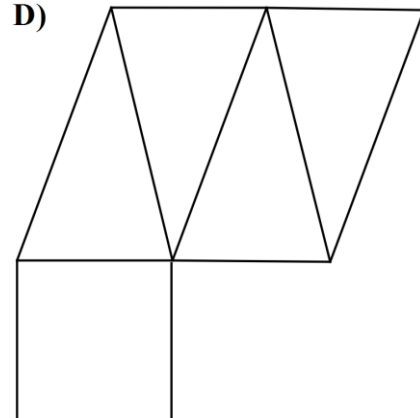
B)



C)



D)



DİN KÜLTÜRÜ
VE
AHLAK BİLGİSİ

din kültürü ve ahlak bilgisi



TEST 1

1. "Kim Müslüman kardeşine yardım eder ve onun ihtiyacını karşılar, Allah da ona yardım eder. Kim Müslümanın bir sıkıntısını giderirse Allah da kıyamet gününde onun sıkıntılarında birini giderir." (Hadisi-i Şerif)

Peygamber Efendimiz bu hadisi ile neye dikkat çekmiştir?

- A) Namaz kılmaya
- B) Toplumsal yardımlaşmaya
- C) Oruç tutmaya
- D) İlim öğrenmeye

2. Toplumun faydalanabileceği okul, cami, yol, medrese gibi hayır kurumlarını yaptırmak ya da yapımında katkıda bulunmak aşağıdaki sadaka türlerinden hangisi içerisinde yer alır?

- A) Fıtır sadakası
- B) Zekat
- C) Fidyeye
- D) Sadaka-i cariye

3. Hacca gidecek kişide bulunması gereken bazı şartlar vardır. Aşağıdakilerden hangisi bunlardan değildir?

- A) Müslüman olmak
- B) Akıllı olmak
- C) Ergenlik çağına girmiş olmak
- D) Erkek olmak

4. Hac mevsimi dışında herhangi bir zamanda Kabe'yi tavaf edip, Safa ve Merve tepeleri arasında Sa'y ederek yapılan ve sünnet olan ibadete ne denir?

- A) Hac
- B) Müzdelife
- C) Umre
- D) Şavt



Doğubayazıt Yatılı Bölge Ortaokulu Test Ekibi Çalışmasıdır.

5. Aşağıdakilerden hangisine zekât verilemez?

- A) Dayı
- B) Nine
- C) Hala
- D) Amca

6. Yatılı Bölge Ortaokulunda müdürlük yapmakta olan Servet hocanın temel ihtiyaçlarını karşılayacak parasının dışında 2600 TL nakit parası bulunmaktadır.

Bir yıldan beri harcamadığı bu paradan ne kadar zekât vermesi gerekir?

- A) 65
- B) 70
- C) 75
- D) 80

7. "Kestiğiniz kurbanların ne etleri, ne de kanları Allah'a ulaşmaz; fakat Allah'ın emirlerine bağlılığınız ona ulaşır..." (Hac Suresi/37)

Yukarıdaki ayete göre aşağıdakilerden hangisine ulaşamaz?

- A) Kurban Allah'a olan bağlılığımızı gösterir.
- B) Kurban kesmek ile Allah'a karşı kulluk vazifelerimizden birini yerine getirmiş oluruz.
- C) Kurban kesmekle Allah'ın rızasını kazanmış oluruz.
- D) Kurban kesmekteki en önemli amaç toplumsal yardımlaşmayı sağlamaktır.

8. ".....Onlardan hem kendiniz yiyin hem de ihtiyacını gizleyen fakirlere yedin..." (HAC/36)

Yukarıda verilen ayet aşağıdakilerden hangisine katkı sağlamaz?

- A) Kişiyi yardımlaşmaya yönlendirir.
- B) Kişiyi cömert olmaya yönlendirir.
- C) Kişiyi yaptığı yardımlaşmadan dolayı mutluluk verir.
- D) Kişiyi maddi kazanç sağlar.

din kültürü ve ahlak bilgisi



TEST 2

1. Aşağıdakilerden hangisi Mekke şehrinde yer almaz?

- A) Mescid-i Haram
- B) Müzdelife
- C) Arafat
- D) Mescid-i Nebi

2. Hacda giyilen ihram ile ilgili aşağıda verilenlerden hangisi yanlıştır?

- A) İnsanlar arasındaki makam, mevki, unvan gibi farklılıkları ortadan kaldırır.
- B) İnsanlara normal zamanlarda da ihramı giyme alışkanlığı kazandırmayı amaçlar.
- C) İhramlıyken getirilen yasaklar insanlara sabretme alışkanlığı kazandırır.
- D) İnsanları gösterişten uzak, sade bir görünüme kavuşturur.

3. Aşağıdakilerden hangisi haccın farzlarından değildir?

- A) İhrama girmek
- B) Tavaf etmek
- C) Sa'y yapmak
- D) Vakfe yapmak

4. Peygamber Efendimiz bir hadisinde "Müslüman, elinden ve dilinden diğer insanların güvende olduğu kimsedir." diye buyurmuştur.

Efendimiz yukarıdaki hadiste neyin önemine dikkat çekmiştir?

- A) Merhametli olmak
- B) Güvenirlilik
- C) Yardımlaşma ve dayanışma
- D) Cesur olmak



Doğubayazıt Yatılı Bölge Ortaokulu Test Ekibi Çalışmasıdır.



5.Peygamber Efendimiz Hz. Muhammed (s.a.v) ile ilgili aşağıdakilerden hangisi söylenemez?

- A) Hz. Muhammed devlet meseleleri ile ilgili konularda aldığı vahye göre hareket ederdi.
- B) Hz. Muhammed insanlar arasında hiçbir zaman ayırım yapmazdı.
- C) Hz. Muhammed doğaya ve hayvanlara önem verirdi.
- D) Hz. Muhammed çocuklarla ilgilenir, oynar ve onlara çeşitli hediyeler verirdi.

6. "Bana şunlar hakkında söz verin, bende size cenneti müjdeleyeyim: Konuştuğunuz zaman doğru konuşun! Söz verdiğiniz zaman sözünüzü yerine getirin! Size emanet edileni koruyun! "

Efendimiz yukarıdaki hadisinde hangi ahlaki davranışın önemine dikkat çekmiştir?

- A) Sabırlı olmaya
- B) Cesur olmaya
- C) Güvenilir olmaya
- D) Merhametli olmaya

7.Hz.Muhammed (s.a.v); çocukluğundan itibaren güvenciliğiyle, dürüstlüğüyle, ahlakıyla, adaleti ile takdir edilmiş ve çevresindekiler tarafından "Muhammed'ül-Emin" diye anılmıştır.

Buna göre aşağıdakilerden hangisi Hz.Muhammed'in bu şekilde anılmasının nedenlerinden değildir?

- A) Peygamberlik kendisine bildirilmeden önce de hiç yalan söylememiş olması.
- B) Kendisine verilen emaneti her zaman korumuş olması.
- C) Mekke'de her zaman takdir görmüş olan Abdulmuttalip' in torunu olması.
- D) Dürüstlüğü ve adaleti ile kabul görmüş olması.

8.

- I. Konuştuğu kişinin yüzüne döner ve O'nu dikkatlice dinlerdi.
- II. İnsanlar ile selamlaşır ve verilen selamı alırdı.
- III. Cesur ve kararlıydı.

Yukarıda verilen ifadelerden hangileri Hz. Muhammed'in insanlara değer verdiğini gösterir?

- A) Yalnız I
- B) I-II
- C) I-III
- D) Hepsi

din kültürü ve ahlak bilgisi



TEST 3

1.Efendimiz bir hadisinde: “Kuvvetli kimse güreşte başkalarını yenen kimse değildir . Öfkelenildiğinde öfkesine hakim olandır.” diye buyurmuşlardır.

Yukarıdaki hadiste Hz. Muhammed neye dikkat çekmiştir?

- A) Cesur olmaya
- B) Merhametli olmaya
- C) Sabırlı olmaya
- D) Güvenilir olmaya

2.Hz. Muhammed’ in ahlakının kaynağı nedir?

- A) Mekke’nin kültürü, geleneği ve inanç yapısı.
- B) Amcası ve ondan sonra ise dedesinden aldığı nasihatler.
- C) Okuduğu kitaplar.
- D) Kur’an-ı Kerim

3.Aşağıdakilerden hangisi münafıklığın belirtilerindendir?

- A) Haindir
- B) Güvenilirdir
- C) Dürüştür
- D) Sözünde durur

4.Efendimiz Mekkelileri topladıktan sonra onlara:’ Ey Kureyş! Şu dağların arkasında size hazırlanan bir düşman var desem bana inanır mısınız?’ diye sordu ve hepsi ‘Evet’ diye cevap verdiler.

Yukarıda anlatılan olayda Hz. Muhammed’in hangi özelliği ifade edilmiştir?

- A) Merhametini
- B) Cesaretini
- C) Adaletini
- D) Güvenilirliğini

5. ''Elinizde bir ağaç fidanı varsa, kıyamet kopmaya başlasa bile, eğer onu diyecek kadar zamanınız varsa mutlaka dikin.''

Yukarıdaki hadiste Efendimiz neye dikkat çekmiştir?

- A) Merhametli olmaya
- B) Cesur olmaya
- C) İnsana değer vermeye
- D) Doğayı sevmeye

6- Peygamberimiz bir Yahudi cenazesi geçerken ayağa kalkmıştır. Bu O'nun hangi özelliğiyle yakından ilgilidir?

- A) İnsana verdiği değer
- B) Cesareti
- C) Doğa sevgisi
- D) Affedici olması

7. I-Hz. Yakup' un oğludur.

II-Yorumladığı rüyalar doğru çıkmıştır.

III-Uzun yıllar Mısır halkını adalet ile yönetmiştir.

Yukarıda özellikleri verilen peygamber aşağıdakilerden hangisidir?

- A) Hz. Yahya
- B) Hz. İsa
- C) Hz. Yusuf
- D) Hz. Musa



Doğubayazıt Yatılı Bölge Ortaokulu Test Ekibi Çalışmasıdır.

8.Aşağıdaki sözlerden hangisi taassup konusuyla doğrudan ilişkili değildir?



A)''İlimden gidilmeyen yolun sonu karanlıktır.''(Hacı Bektaş Veli)

B)''Her kimse ki onda ilim yoktur, suyu olmayan şehir gibidir..''(Hacı Bektaş Veli)

C)''İlim elde etmek her müslüman kadın ve erkeğe farzdır''(Hadisi-i Şerif)

D) Merhamet etmeyene Allah da merhamet etmez.(Hadisi Şerif)

din kültürü ve ahlak bilgisi



TEST 4

1. Bir fikre veya inanişaya körü körüne aşırı derecede bağlanıp ondan başkasını düşünmemeye taassup denir. Buna göre taassup sahibi olan kişide aşağıdakilerden hangisi bulunur?

- A) Sahip olduğu düşünceyi bilim ile temellendirir.
- B) Söyleneni olduğu gibi kabul eder.
- C) Deney ve gözleme önem verir.
- D) Sorgulayıcıdır

2. "Resulüm! Sana bu mübarek kitabı, ayetlerini düşünsünler ve aklı olanlar öğüt alsınlar diye indirdik." (En' am/98)

Yukarıdaki ayet-i kerimede aşağıdaki hususlardan hangisine değinilmemiştir?

- A) Kur'an temiz olmayı öğütler.
- B) Kur'an düşünüp araştırmayı öğütler.
- C) Kur'an insanları faydalansın diye indirilmiştir.
- D) Kur'an insana aklını kullanmayı öğütler.

3. Aşağıdakilerin hangisi dinsel bağnazlığın zararlarından biri değildir?

- A) İnsanın doğruyu görmesine engel olur.
- B) Toplumsal kargaşaya sebep olur.
- C) İnsanlar arasında kin ve nefret sokar.
- D) İnsanların hoşgörüyü ile yaşamalarını sağlar.

4. Aşağıdakilerden hangisi Kur'an'a göre bilgi edinme yollarından değildir?

- A) Duygular
- B) Akıl
- C) Vahiy
- D) Duyu organları



Doğubayazıt Yatılı Bölge Ortaokulu Test Ekibi Çalışmasıdır.



5. ‘ ’ Üzüm üzüme baka baka kararır ” ata sözü neyi ifade eder?

- A) İnsanlar ahlaken birbirlerinden etkilenirler.
- B) İnsanlar birbirleri ile iyi geçinmelidirler.
- C) İnsanlar birbirlerini örnek almalıdırlar
- D) Üzümler yavaş yavaş olgunlaşır.

6.Aşağıdaki deyimlerden hangisi kötü arkadaş ve çevrenin insana etkisini anlatma amacı gütmeyiz?

- A) Kır atın yanında duran ya huyundan ya tüyünden(kapar).
- B) Bataklıkta biten gülden sakınınız.
- C) Bana arkadaşını söyle sana kim olduğun söyleyeyim.
- D)Komşu komşunun külüne muhtaçtır.

7.Aşağıda verilen bilgilerden hangisi kötü alışkanlık ve davranışlardan korunma yollarından biri olamaz?

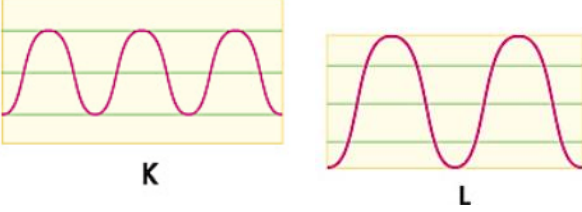
- A) Kötü alışkanlıklar konusunda bilgilendirme
- B) Ailevi ilgi
- C) Olumsuz arkadaş çevresi
- D) Yapılacak faydalı faaliyetler

8)Aşağıdakilerden hangisi, kötü alışkanlıklardan korunma ve kurtulma yollarından değildir?

- A) Kötü alışkanlığı olan kişilerden uzak durmak.
- B) Kitap okuma vb. faydalı faaliyetlerde bulunmak.
- C) Kötülüklerle karşı duyarsız kalmamak.
- D) Kötü alışkanlıklarda ve faaliyetlerde bulunanlara gıpta ile bakmak.

**FEN
BİLİMLERİ**

1. İki adet ses kaynağına ilişkin osiloskop görüntüsü aşağıdaki gibidir.



Buna göre,

- I. K sesinin frekansı L sesinin frekansından fazladır.
- II. L sesinin K sesine göre gürlüğü azdır.
- III. Titreşim miktarı en fazla olan ses K sesidir.

Yargılarından hangileri doğrudur?

- A) Yalnız 1
- B) 1 ve 2
- C) 1 ve 3
- D) 1 , 2 ve 3

2. **Pınar** : Birim saniyede oluşan

dalga sayısına frekans denir.

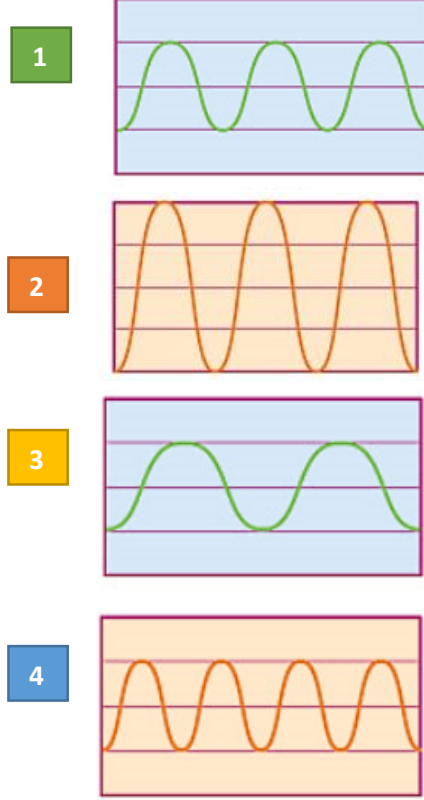
Muharrem: Tepe noktası ile çukur noktası arasındaki mesafeye genlik denir.

Melek : Bir sarkacın başladığı yere geri dönmesine bir tam salınım denir.

Öğrenciler ses ünitesine ait bazı kavramlar ile ilgili yukarıdaki tanımları yaptığına göre, hangi öğrencilerin ifadeleri doğrudur?

- A) Pınar ve Muharrem
- B) Pınar ve Melek
- C) Melek ve Muharrem
- D) Muharrem ve Pınar

3. , 4, ve 5. Soruları aşağıdaki şekle göre yapınız...



3. En şiddetli ses dalgası hangisidir?

- A) 1
- B) 2
- C) 3
- D) 4

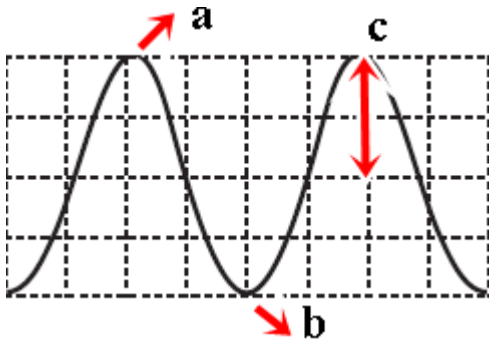
4. Kalın ve gürlüğü az olan ses hangisidir?

- A) 4
- B) 1
- C) 2
- D) 3

5. Bu ses dalgalarına göre aşağıdaki yargılardan hangisi yanlıştır?

- A) Frekansı en fazla olan 4'tür.
- B) Gürlüğü en az olan 1,3 ve 4'tür.
- C) 2 tiz bir ses ise,1 pes bir sestir.
- D) Seslerin incelikleri sırasıyla
4> 1=2> 3'dir.

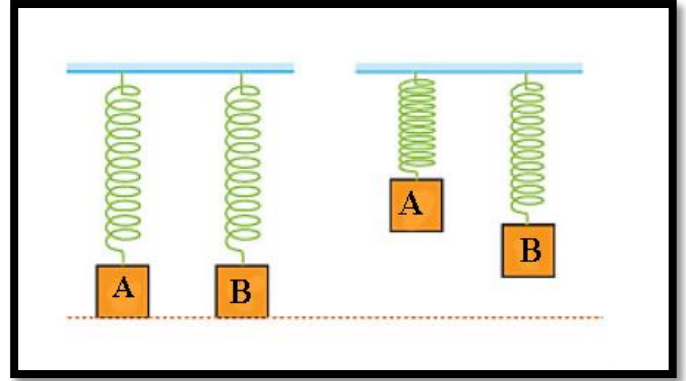
6. Aşağıdaki şekle göre,



a , b ve c ile gösterilen kavramlar hangi seçenekte doğru gösterilmiştir?

	a	b	c
A)	Çukur noktası	Tepe noktası	Genlik
B)	Tepe noktası	Çukur noktası	Salınım
C)	Tepe noktası	Çukur noktası	Genlik
D)	Çukur noktası	Tepe noktası	Frekans

7.

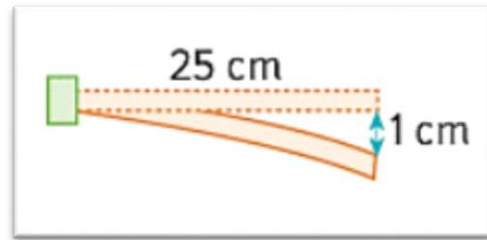


Özdeş yaylara A ve B cisimleri asılıyor ve aşağı doğru çekiliyor. Cisimlerin çıkacağı maksimum uzaklıklar şeklindeki gibi olduğuna göre;

Aşağıdaki yargılardan hangisi doğrudur?

- A) A cisminin frekansı fazladır.
- B) B cisminin genliği fazladır.
- C) A cisminin genliği fazladır.
- D) B cisminin titreşim sayısı fazladır.

8.



Yukarıdaki cetvelin frekansını arttırmak için;

- I. Daha kısa bir cetvel kullanılmalı
 - II. 2 cm aşağı çekilmeli
 - III. Daha uzun bir cetvel kullanılmalı
- İfadelerinden hangileri doğrudur?

- A) Yalnız 1
- B) 1 ve 2
- C) 2 ve 3
- D) 1,2 ve 3

fen bilimleri

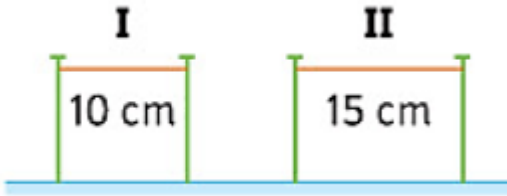


TEST 2

1. Sesin frekansı ile ilgili aşağıdaki ifadelerden hangisi yanlıştır ?

- A) Frekansın birimi Hertz'dir.
- B) Sesin inceliği ve kalınlığı ile ilgilidir.
- C) Birim saniyedeki dalga sayısıdır.
- D) Gürlük arttıkça frekans artar.

2.



Yukarıdaki aynı cins olan I ve II numaralı tellerin kesit alanları ve gerginlikleri eşittir.

Buna göre aşağıdaki yorumlardan hangisi doğrudur?

- A) 1 ve 2 numaralı tellere aynı şiddette vurulursa 1.telin sesi daha uzaktan duyulur.
- B) 1. Telin frekansı 2.telin frekansından fazladır.
- C) 2.telin osiloskop ekranındaki dalga sayısı daha fazladır.
- D) 2. telden çıkan ses 1.tele göre daha tizdir.

3. Frekans ve genlik kavramları ile ilgili;

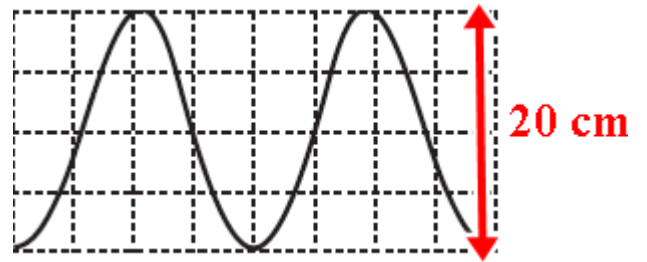
- 1. Frekansı fazla olan ses ince sestir.
- 2. Genlik arttıkça gürlük artar.
- 3. Kalın ses,ince sestem yüksektir.
- 4. Tepe noktası ile çukur noktası ile mesafeye genlik denir.

İfadelerinden hangileri yanlıştır ?

- A) 1 ve 2
- B) 2 ve 3
- C) 1 , 2 ve 3
- D) 3 ve 4



4.



Yukarıdaki ses dalgası osiloskop ekranında birim saniyede oluşmuştur.

Buna göre bu ses dalgasının frekansı kaçtır?

- A) 2
- B) 5
- C) 10
- D) 20

5. , 6, ve 7. Soruları aşağıdaki tabloya göre yapınız...

Ses düzeyleri	Ortamlar
40 dB	Sınıf ortamı
50 dB	Dikiş makinası
90 dB	Trafik ortamı
100 dB	Elektrikli testere

5. Elektrikli testerenin ses düzeyi Trafik ortamının ses düzeyinin kaç katıdır ?

- A) 5
- B) 10
- C) 20
- D) 30

6. İnsan kulağını rahatsız eden ortamlar aşağıdaki şıklardan hangisinde doğru olarak verilmiştir?

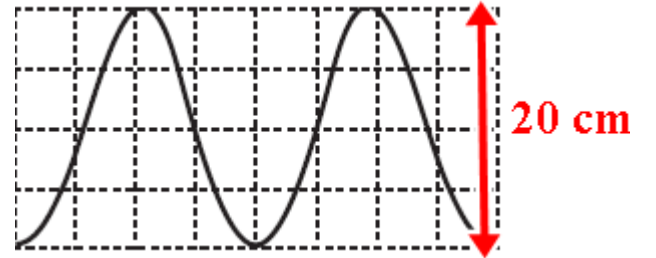
- A) Sınıf ortamı – Trafik ortamı
- B) Elektrikli testere – Dikiş makinası
- C) Trafik ortamı – Elektrikli testere
- D) Dikiş ortamı - Sınıf ortamı

7. Tabloya göre aşağıdaki yorumlardan hangisi yapılabilir ?

- A) Elektrikli testerenin genliği en büyüktür.
- B) Sınıf ortamının birim saniyedeki dalga sayısı fazladır.
- C) Sınıf ortamında sürekli bulunan bir kişide geçici duyma kaybı yaşanır.
- D) Dikiş makinasının ses düzeyi,sınıf ortamının ses düzeyinin 100 katıdır.

Doğubayazıt Yatılı Bölge Ortaokulu Test Ekibi Çalışmasıdır.

8. Aşağıdaki ses dalgasının genliği kaç cm'dir?



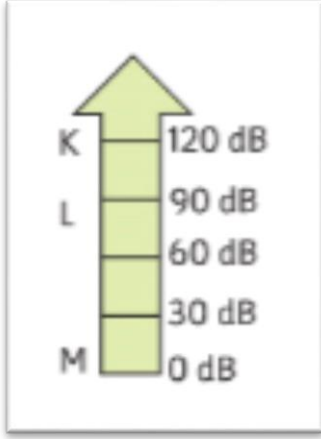
- A) 5
- B) 10
- C) 20
- D) 40

fen bilimleri



TEST 3

1. Aşağıdaki K , L ve M sesleri ile ilgili,



1. K sesi çok şiddetli bir sestir.
2. L sesinin genliği M sesinin genliğinden azdır.
3. M sesi, fısıltı olabilir.
4. K sesi kulağımızda hasara yol açabilir.

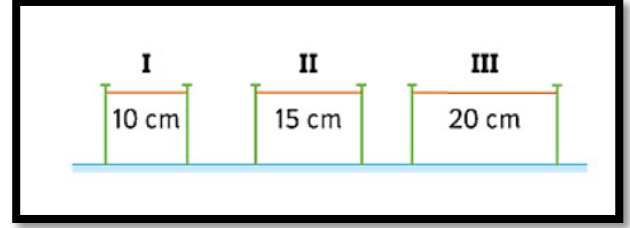
İfadelerinden hangisi yanlıştır ?

- A) 4
- B) 3
- C) 2
- D) 1

2. Frekans ile ilgili aşağıdakilerden hangisi yanlıştır ?

- A) 20 Hz – 20.000 Hz aralığındaki sesleri insan kulağı işitebilir.
- B) 20 Hz den az olan seslere infrasonik ses denir.
- C) 20.000 Hz den yüksek sesleri insan kulağı işitebilir.
- D) Dalga sayısı arttıkça ses tizleşir.

3. Aynı maddeden yapılmış aşağıdaki teller için;



Tellerin frekansları esit olduğuna göre,

Aşağıdaki yorumlardan hangisi yapılabilir ?

- A) En kalın tel I numaralı teldir.
- B) En ince tel II numaralı teldir.
- C) Titreşim sayıları farklıdır.
- D) En kalın tel III numaralı teldir.


4. Aşağıdaki ses kaynakları ve frekans aralıkları tablosuna göre,

Ses kaynağı	Ses üretme aralığı (Hz)
I	0 - 150
II	1000 - 10 000
III	25 000 - 30 000
IV	15 000 - 25 000

İfadelerinden hangisi yanlıştır ?

- A) I numaralı ses kaynağı en tiz sesi oluşturur.
- B) II numaralı ses kaynağını insanlar işitemez.
- C) III numaralı ses kaynağı ultrasonik sesler üretir.
- D) IV numaralı ses kaynağı infrasonik sesi oluşturur.

5. K ve L diyapazonlarından üretilen seslerle ilgili olarak,

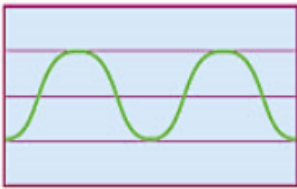


1. K diyapazonu L diyapazonuna göre ses dalga sayısı daha çoktur.
2. K diyapazonu L diyapazonuna göre pes ses üretir.
3. L diyapazonunun çatal uzunluğu daha büyüktür.
4. L diyapazonu K diyapazonuna göre yüksek frekanslı sesler üretir.

İfadelerinden kaç tanesi doğrudur ?

- A) 1
- B) 2
- C) 3
- D) 4

6. Bir cetvele ait osiloskop ekranında görülen ses dalgası aşağıdaki gibidir.



Cetvel uzunluğunu arttırarak bu işlemi tekrarlayan Rabia, hangi grafiği elde eder?

- A)
- B)
- C)
- D)

7. Elektriksel işaretlerin ölçülüp değerlendirilmesinde kullanılan aletler içinde en geniş ölçüm olanaklarına sahiptir. İşaretin dalga şeklinin, frekansının ve genliğinin aynı anda belirlenebilmesini sağlar.

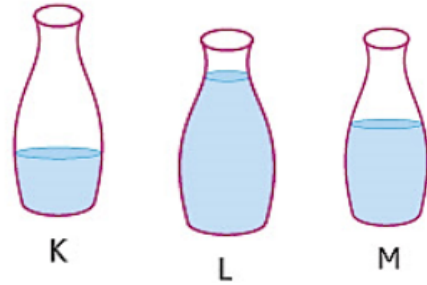
Yukarıda tanımı verilen aletin adı nedir ?

- A) Streskop
- B) Teleskop
- C) Osiloskop
- D) Mikroskop



Doğubayazıt Yatılı Bölge Ortaokulu Test Ekibi Çalışmasıdır.

8.



Yukarıdaki şişeler farklı miktarda su ile doludur. Şişeler sırası ile üflendiğinde inceden kalına doğru sıralama nasıl olur ?

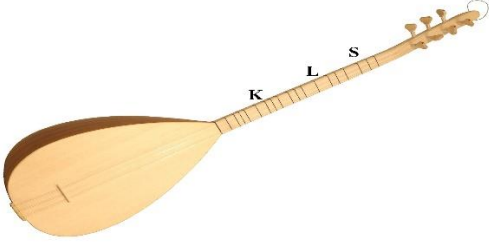
- A) $K > L > M$
- B) $L > K > M$
- C) $M > L > K$
- D) $L > M > K$

fen bilimleri



TEST 4

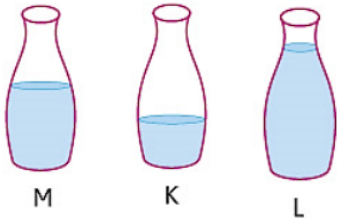
1.



Yukarıdaki bağlama ile ilgili olarak aşağıdaki yorumlardan hangisi yanlıştır ?

- A) K , L ve S noktaları içinden K noktası en tiz sesi oluşturur.
- B) Bağlamaya akort yapıp tel gerginleştirilirse ses inceler.
- C) S teli, K teline göre daha pes sesi oluşturur.
- D) İnce telden pes ses, kalın telden tiz ses çıkar.

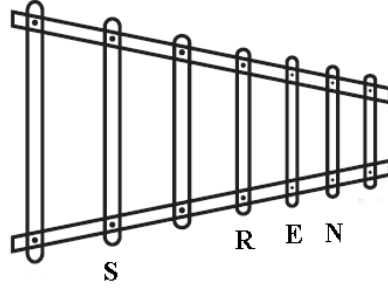
2.



Yukarıdaki su dolu şişelere sırası ile yurulduğunda frekansların küçükten büyüğe doğru sıralaması nasıl olur ?

- A) $M > K > L$
- B) $K > L > M$
- C) $L > M > K$
- D) $K > M > L$

3. Ksilefon üzerindeki S,R,E ve N noktalarına sırası ile vuran Zennure aşağıdaki yorumları yapıyor. (eşit şiddette vuruyor.)



- 1. En tiz sesi S oluşturur.
- 2. En pes sesi N oluşturur.
- 3. En gür ses S den çıkar.
- 4. Dalga sayısı en fazla olan N'dir.

Yorumlarından kaç tanesi doğrudur ?

- A) 1
- B) 2
- C) 3
- D) 4

4. Sesin ile ilgili aşağıdaki ifadelerden hangisi doğrudur ?

- A) Sesin hızı gazlarda en fazladır.
- B) Yoğunluk arttıkça sesin hızı artar.
- C) Ortam sıcaklığı arttıkça sesin hızı azalır.
- D) Sesin yayılması için maddesel ortama ihtiyaç yoktur.

5. Doğubayazıtta ramazan ayı sahur vaktinde davul çalarak geçimini sağlayan Recai dayı, çaldığı davulun tiz ses çıkardığından yakınmaktadır.



Buna göre, Recai dayı ne yaparsa ses kalınlaşır ?

- A) Davulun yüzey alanını küçültürse
- B) Davulun derisinin kalınlığını azaltırsa
- C) Davulun yüzey alanını büyültürse
- D) Davula daha şiddetli vurursa

6. ve 7. Soruları aşağıdaki tablolara göre yapınız...

Madde	Sesin hızı
Kemik	4080 m/s
Tahta	4700 m/s
Demir	5100 m/s

Madde	Sıcaklık (°C)	Ses Hızı (m/s)
Hava	0	332
Hava	20	344
Hava	100	386

6. Sıcaklıkları aynı olan ortamlarda katı maddelerdeki sesin hızının birbirinden farklı olmasının sebebi nedir ?

- A) Yoğunluklarının birbirinden farklı olması
- B) Uzunlukların birbirinden farklı olması
- C) Titreşim miktarlarının farklı olması
- D) Kalınlıklarının birbirinden farklı olması



7. Maddesel ortamı değişmediği halde, (hava) sesin hızının değiştiğini gören İsmail, bu durumu aşağıdaki cümlelerden hangisi ile açıklarsa doğru cevabı vermiş olur ?

- A) Yoğunluk arttıkça sesin hızı artar.
- B) Sesin şiddeti arttıkça ses daha hızlı yayılır.
- C) Ses dalgasının genliği arttıkça sesin gürlüğü artar.
- D) Sıcaklık arttıkça sesin hızı artar.

İNKİLAP TARİHİ
VE
ATATÜRKÇÜLÜK

İnkılap Tarihi ve Atatürkçülük



TEST 1

1-Devletçilik İlkesi; Cumhuriyetin ilk yıllarından itibaren özel sermayenin yetersiz olması, teknik bilgi yetersizliği nedeniyle,devletin halkın ihtiyacı olan sanayi yatırımlarını yapması, üretim için fabrikalar kurması ve ekonomiyi kontrol altında tutması şeklinde uygulanmıştır

Bu bilgiye bakarak devletçilik ilkesi ile ilgili aşağıdaki yargılardan hangisine ulaşamaz?

- A) Özel sektörün yetersiz kalması nedeniyle uygulanmıştır.
- B) Ülke ekonomisinin geliştirilmesi hedeflenmiştir.
- C) Koşulları gereği zorunlu olarak ortaya çıkmıştır.
- D) Özel girişime yatırım yapma imkanı tanınmamıştır.

2)Cumhuriyet döneminde devlet tarafından, Sanayi yatırımlarının ve kalkınmanın sağlanması amacıyla Sümerbank, İşverene kredi sağlamak amacıyla iş bankası madenlerin bulunup işlenmesine yönelik olarak Etibank kurulmuştur.

Buna göre,

1. Devletçi ekonomik anlayış benimsenmiştir.
 - 2.Yatırımcılara ucuz kredi imkanları sağlanmaya çalışılmıştır.
 - 3.Yabancı yatırımlara kolaylıklar sağlanmıştır.
- Yargılarından hangisine/hangilerine ulaşamaz?**

- A) Yalnız 3
- B) 1ve 2
- C) 2 ve 3
- D) 1 ve 3

3)Atatürk'ün en büyük eserim dediği ve halkın egemenliğini sağlayan ilkesi aşağıdakilerden hangisidir?

- A) Cumhuriyetçilik
- B) Halkçılık
- C) Milliyetçilik
- D) Laiklik



Devletçilik ,özel yatırımcının yetersiz kaldığı alanlarda devletin gerekli yatırımları yapmasıdır.

4) Buna göre hangisi devletçilik ilkesi doğrultusunda yapılan bir yeniliktir?

- A) Saltanatın kaldırılması
- B) Yeni Türk Harfleri'nin kullanılmaya başlanması
- C) Kabotaj Kanunu'nun kabul edilmesi
- D) Sümerbank'ın kurulması.

5) Cumhuriyet'in ilk yıllarında,

- I. Eğitim alanında zamana uygun yeniliklerin yapılması,
- II. Türk Tarih Kurumu'nun kurulması
- III. Halifeliğin kaldırılması

gelişmeleri sırasıyla Atatürk ilkeleriyle ilişkilendirildiğinde aşağıdakilerden hangisi doğru olur?

<u>I</u>	<u>II</u>	<u>III</u>
A) Cumhuriyetçilik	Halkçılık	Milliyetçilik
B) İnkılapçılık	Milliyetçilik	Laiklik
C) İnkılapçılık	Halkçılık	Laiklik
D) Milliyetçilik	Devletçilik	Cumhuriyetçilik

6) Aşağıdakilerden hangisi Atatürkçü düşünce sistemi ile bağdaşmaz?

- A) Irk ayrımı esasına dayanır
- B) Toplumsal eşitliği savunur
- C) Ortak bir kültür oluşturma çabasıdır
- D) Dil bilinci ve tarih bilinci oluşturmaya çalışır

Haziran 1926'da İstanbul Boğazı'nda bir Türk gemisi ile bir Fransız gemisi çarpışmıştır. Bu durum iki devlet arasında büyük gerginliğe yol açmıştır. Türkiye bu olay üzerine bazı önlemler almıştır.

7) Aşağıdakilerden hangisi Türkiye'nin bu durum üzerine aldığı önlem ve ilişkili olduğu Atatürk ilkesi verilmiştir ?

- A) Kabotaj Kanunu - Cumhuriyetçilik
- B) Saltanatın kaldırılması – Cumhuriyetçilik
- C) Kabotaj Kanunu – Milliyetçilik
- D) Denizbank'ın Kurulması – Milliyetçilik

- Birinci beş yıllık kalkınma planının yapılması
- Sümerbank ve Etibank'ın kurulması
- İlk şeker fabrikasının kurulması

8)Yukarıdaki gelişmeler Atatürk'ün hangi ilkesi doğrultusunda yapılmıştır?

- A) Devletçilik.
- B)İnkılapçılık.
- C)Milliyetçilik.
- D)Cumhuriyetçilik.

inkılap tarihi ve atatürkçülük



TEST 2

1) Türkiye’de uygulanan devletçilik ilkesinin,

- I. Halkın ihtiyaçlarının karşılanması,
- II. Ülkede fabrikalar kurulması,
- III. Özel sektörün faaliyetlerine karşı çıkılması

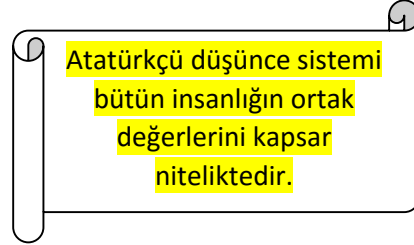
sonuçlarından hangilerine neden olduğu savunulamaz?

- A) I ve II
- B) Yalnız III
- C) II ve III
- D) I, II ve III

Yeni Türk devleti sanayinin gelişmesi için 28 Mayıs 1927’de Teşvik-i Sanayi Kanunu çıkarmıştır. Halkın yoksul olması ve savaştan yeni çıkması nedeniyle bu kanundan verim alamamıştır. Bu yüzden Devletçilik İlkesi uygulanmıştır.

2) Bu açıklamaya göre, devletçilik ilkesinin temel amacı aşağıdakilerden hangisidir?

- A) Sanayinin gelişmesini sağlamak
- B) Özel sektörü ortadan kaldırmak.
- C) Yabancı sermayeyi etkin kılmak.
- D) Dış ticareti kontrol etmek.



3) Buna göre Atatürkçü düşünce sistemi aşağıdaki hangi özelliğe sahip olmalıdır?

- A) Evrensel
- B) Değişmeyen katı bir sistem
- C) Bireysel
- D) Yenilikçi

Gençler! Cesaretimizi kuvvetlendiren ve devam ettiren sizsiniz. Siz almakta olduğunuz eğitim ve kültür ile insanlık meziyetinin ,vatan sevgisinin ,fikir özgürlüğünün en değerli simgesi olacaksınız. Ey yükselen nesil! Gelecek sizindir. Cumhuriyeti biz kurduk; onu yükseltecek ve devam ettirecek sizsiniz!

4) Aşağıdakilerden hangisi Atatürk’ün gençlere emanet ettiği en büyük eseridir?

- A) Eğitim ve Türk Milliyetçiliği
- B) Bilim ve özgür düşünce
- C) Türkiye Cumhuriyeti
- D) Türk Parası

5) Türkiye Devleti'nin zamana ayak uyduramayan ve halkın ihtiyaçlarını karşılamaktan uzak kalmış kurumlarını çağın gereklerine göre hızlı ve köklü bir değişikliğe uğratan Atatürk ilkesi aşağıdakilerden hangisidir?

- A) İnkılapçılık
B) Milliyetçilik
C) Halkçılık
D) Laiklik

6) Atatürk'e göre Arap, Türkmen, Laz, Çerkez, Kürt, Türk hiç fark etmez. Türkiye Cumhuriyeti'ni kuran Türkiye halkına Türk milleti denir.

Buna göre Atatürk'ün Türk milleti tanımlamasıyla ilgili olarak ;

- 1- Irkçılığı ve ayrımcılığı esas alır
2- Çevre ülkeleri Türkleştirmeyi hedefler
3- Milli birlik ve beraberliği öngörür
yargılarından hangisi/hangilerine ulaşamaz?

- A) Yalnız 1
B) 1 ve 2
C) 1 ve 3
D) 2 ve 3

7) Atatürk ilkelerinin ortak özellikleri arasında aşağıdakilerden hangisi yoktur?

- A) Türkiye Cumhuriyeti Devleti'nin temellerini atmıştır
B) Milli birlik ve beraberliği temel almıştır.
C) Devleti yönetenlerin ihtiyaçlarından doğmuştur
D) Türk Milleti'nin ihtiyaçlarından doğmuştur

Doğubayazıt Yatılı Bölge Ortaokulu Test Ekibi Çalışmasıdır.

8) Halk arasında bazı insanlar üstünlük ifade eden ünvanlarla anılırken bazı insanlar da aşağılayıcı lakaplarla anılabilmekteydi bu yüzden toplumda bir eşitsizlik durumu hakimdi Soyadı Kanunu ile her aileye bir soyadı verildi üstünlük ve aşağılanma ifade eden bütün lakaplar kaldırıldı.

8/C sınıfı öğrencisi İlknur'un bu sözü aşağıdaki Atatürk ilkelerinden hangisiyle doğrudan ilgilidir?

- A) Milliyetçilik
B) Laiklik
C) Cumhuriyetçilik
D) Halkçılık

İnkılap Tarihi ve Atatürkçülük



TEST 3

1) Türk kadınına ;

1930 yılında belediye seçimlerine katılma,
1933 yılında muhtarlık seçimlerine katılma,
1934 yılında da milletvekili seçme ve seçilme
hakkı verilmiştir.

**Bu uygulamanın temel amacı aşağıdakilerden
hangisidir?**

- A) Kadının devlet yönetimine katılmasını sağlama
- B) Türk aile yapısında değişiklik yapma.
- C) Kadınların eğitim seviyesini yükseltme.
- D) Çok partili siyasal hayata geçme isteği.

Medeni Kanun'un kabul edilmesiyle
kadınlar sosyal ve ekonomik alanda
erkeklerle eşit olmaları için önemli
haklar tanınmıştır.

**2) Buna göre aşağıdakilerden hangisi
kadınların sosyal ve ekonomik hayatta
erkeklerle eşitliğini sağlayan haklardan biri
değildir?**

- A) Kadınlara istediği mesleği seçme hakkının
verilmesi.
- B) Kadına mirastan pay alma hakkının tanınması.
- C) Boşanma hakkının kadına da tanınması.
- D) Kadınlara milletvekili genel seçimlerine
katılma hakkı verilmesi.

3) 8/C sınıfı Öğrencisi Feleknaz ÖZBEY
Türkiye'de Atatürk döneminde bir çok gelişmiş
Avrupa ülkesinden önce kadınlara siyasal haklar
verildiğini söylemiştir.

**Aşağıdakilerden hangisi kadınlara verilen
siyasal haklara örnek olarak gösterilemez?**

- A) Kadınlara muhtar olabilme hakkının verilmesi
- B) Kadınlara belediye seçimlerine katılma
hakkının verilmesi.
- C) Kadınlara mirasta eşitlik hakkının verilmesi
- D) Kadınlara milletvekili genel seçimlerine
katılma hakkı tanınması.

4) Doğubayazıt Yatılı Bölge Ortaokulu öğrencisi
Melek TUNÇ, Atatürk'ün çevre bilincine sahip bir
insan olduğunu söylemiştir.

**Melek aşağıdaki bilgilerden hangisinin buna
kanıt olarak gösteremez?**

- A) Ankara şehir planında yeşil alanların
kurulmasına özen göstermesi.
- B) Atatürk orman çiftliğini kurması.
- C) Ağaçlandırma çalışmalarını desteklemesi.
- D) Aşar vergisini kaldırması.

5) Sosyal Bilgiler Öğretmeni Erkan öğrencilerine Atatürk zamanında;

- Tarım kredi kooperatiflerinin kurulduğunu
- Çiftçiye ucuz gübre imkanı sağlandığını
- Yüksek Ziraat Enstitüsü'nün kurulması gibi yenilikler yapıldığını söylemiştir.

Yukarıda sıralanan yenilikler aşağıdaki alanlardan hangisi ile ilgilidir?

- A) Tarım B) Madencilik
C) Sanayi D) Bankacılık

6) Aşağıdakilerden hangisi saltanatın kaldırılma nedenlerinden biri değildir?

- A) İtilaf Devletleri'nin Lozan Konferansı'na T.B.M.M. Hükümeti ve İstanbul Hükümetini beraber davet etmesi
B) M. Kemal'in Osmanlı padişahını sevmemesi
C) Bir ülkede iki başlılığın devletin bağımsızlığını tehlikeye düşürmesi
D) Saltanatın halk egemenliği ile bağdaşmaması.

7) Aşağıdakilerden hangisi 3 Mart 1924 tarihinde kaldırılan Erkan-ı Harbiye Vekaleti yerine kurulan kuruluşlardır?

- A) Diyanet İşleri Başkanlığı - Vakıflar Genel Müdürlüğü
B) Başbakanlık – İçişleri Bakanlığı
C) Genelkurmay Başkanlığı – Milli Savunma Bakanlığı.
D) Halkevleri – Kalkınma Bakanlığı.

- Hafta sonu tatilinin Cumadan Pazara alınması
- Kabotaj Yasası'nın çıkarılması
- Saat ve ölçü birimlerinin değiştirilmesi
- Teşvik-i Sanayi Kanunu'nun çıkarılması
- Hicri Takvim yerine Miladi Takvim'in kullanılmaya başlanması
- Uluslararası rakam sistemine geçilmesi
-

8) Yukarıdaki inkılaplardan kaç tanesi batı ile olan ilişkilerimizi geliştirme ve kolaylaştırma amacıyla yapılmıştır?

- A) 2 B) 3 C) 4 D) 5

İnkılap Tarihi ve Atatürkçülük



TEST 4

1) Kendisine yapılan suikast girişimi sonrası ''Benim naçiz vücudum elbet bir gün toprak olacak ancak Türkiye Cumhuriyeti ilelebet payidar kalacaktır.''sözünü söyleyen **Mustafa Kemal ATATÜRK** neyi anlatmak istemiştir ?

- A) Kendisinin ölümsüz olduğunu
- B) Kendisinden sonra da kurduğu cumhuriyetin yaşayacağını
- C) İnkılap hareketlerinin sonlandığını
- D) Saltanata sıcak baktığını

2) Cumhuriyet Döneminde gerçekleştirilen;

- _ Takvim, saat ve ölçülerde değişiklik yapılması;
- _ Soyadı Kanunu'nun çıkarılması,
- _ Şapka Kanunu ve Kılık kıyafette değişiklik yapılması

gibi yenilikler aşağıdaki alanların hangisi ile ilgilidir?

- A) Ekonomik
- B) Siyasi
- C) Toplumsal
- D) Eğitim

Atatürk halkın dini duygularının sömürülmesine, tutuculuğun ve sabit fikirliliğin yaygınlaşmasına karşıydı. İnsanların batıl inanışlara göre değil, akıl ve bilimin rehberliğinde hareket etmesini istiyordu.

3) Atatürk'ün bu görüşleri doğrultusunda yapılmış inkılap hareketi aşağıdakilerden hangisidir?

- A) Şapka ve kılık kıyafet kanunu
- B) Tekke, zaviye ve türbelerin kapatılması
- C) Kadınlara istediği mesleği seçme hakkının verilmesi
- D) Halifeliğin kaldırılması



4) Harf inkılabı yapıldıktan sonra yeni harfleri halka öğretmek için açılan ve yaş sınırlaması yapılmaksızın öğrenci kabul eden eğitim kurumu aşağıdakilerden hangisidir?

- A) İstanbul Üniversitesi
- B) Ankara Hukuk Mektebi
- C) Millet Mektepleri
- D) Halkevleri

8/C sınıfı öğrencisi olan Sedat, Atatürk'ün cumhuriyet döneminde toplumun temel üretici gücü olan çiftçiyi korumak için tarım alanında önemli inkılaplar yaptığını söylemiştir.

5) Sedat aşağıdaki inkılap hareketlerinden hangisini bu duruma kanıt olarak gösteremez?

- A) Sümerbank'ın kurulması
- B) Yüksek Ziraat Enstitüsü'nün kurulması
- C) Tarım Kredi Kooperatiflerinin kurulması
- D) Atatürk Orman Çiftliği'nin kurulması

- I.Şeyh Said İsyanı
- II. İzmir suikastı
- III. Kubilay olayı

6)Aşağıda verilenlerden hangisi yukarıdaki üç olayın ortak özelliğidir?

- A)Cumhuriyete ve inkılâplara karşı olmaları
- B)Padişaha karşı olmaları
- C)Bu olaylardan sonra eski rejimin güçlenmesi
- D)Halkın olaylara tepki göstermemesi

7) Aşağıdakilerden hangisi 17 Şubat 1926 tarihli Türk Medeni Kanunu ile kadınlara tanınan haklardan biri değildir?

- A) Kadınlara istediği mesleği seçme hakkının verilmesi
- B) Kadınlara da boşanma hakkının verilmesi
- C) Kadınlara belediye seçimlerine katılma hakkının verilmesi
- D) Kadınlara da mirastan pay alma hakkının verilmesi

8) Aşağıdakilerden hangisi Ankara'nın başkent ilan edilmesinde etkili olmamıştır?

- A) Milli mücadelenin önemli kararlarının burada alınması
- B)Ulaşımının kolay olması
- C)İşgal edilmesinin zor olması
- D) Şehrin düzenli bir imar ve şehircilik planının olması

İNGİLİZCE

ingilizce



TEST 1

1. I went to Spain and I bought My sister liked it very much.

- A) Postcards
- B) Photographs
- C) Souvenirs
- D) Historic sites

2. **Donald** : What is the of Turkey
Kemal : It is Turkish Lira.

- A) Crowded
- B) Currency
- C) Capital city
- D) Budget




3. **Bekir** : Have you ever eaten Sushi ?
Tatiana : No, I haven't.

.....
Bekir : Yes, I have. It is delicious and it is China's traditional meal.

- A) Have you been to China?
- B) Have you ever seen The Great Wall of China?
- C) Have you ever tried it?
- D) Have you ever drunk it?

4. **Linda** : Which one do you prefer ?
Sightseeing tour or recreational activities ?
Mahmut :I preferbecause it is more exciting and amusing.



5. **Ayşe** : How was your holiday ?

Simon : I went to Konya. It was perfect and memorable. I visited museums and took many photographs.

Ayşe :

Simon : No, but I prefer visiting museums to historical places.

- A) So, you mean Konya doesn't have any historical places
- B) I agree with you. It's a beautiful city
- C) That's wrong. There aren't any historical places in Konya
- D) Shame on you. I can't believe my ears

6. **Sue** : Hello. Am I speaking to receptionist ?

Receptionist : Yes please. How can I help you ?

Sue : I want to get information about your Is it all inclusive or bed and breakfast ?

Receptionist : I offer you bed and breakfast. It is suitable for your budget

- A) Tourist Attractions
- B) Recreational Activities
- C) Accommodation type
- D) Location

7. **Jack** : I remember you have been to The Kremlin Palace. I am planning to go there, too. What do you suggest me to take with ?

Hasan : You should take your coat and scarf with you because it is

- A) Foggy and Rainy
- B) Chilly and Icy
- C) Sunny and Hot
- D) Mild and Cloudy

8. If you go to China, you will probably have difficulties in finding the foods you wish, because its..... is different from other cultures' eating habits.

- A) Cuisine
- B) Accommodation
- C) Climate
- D) Resort

1. Istanbul is one of the most fascinating cities in the world. Some of its historical places are

- A) The Great Pyramid and The Tower Bridge
- B) The Blue Mosque and The Hagia Sophia
- C) Taj Mahal and Burj Dubai
- D) The Bosphorus and Niagara Falls

2. **Elif:** How did you spend your vacation ?

Selman : I went to İvriz Monuments. It was really impressive

Elif :

Selman : Haven't you heard before ? It is a well – known place and it locates in Konya Ereğli.

- A) İvriz Monument? Where is it ?
- B) Is it a historical place ?
- C) I visited Eshab-ı Kehf Cave
- D) I agree with you

3. **Aysel :** My brother and I spent our holiday in Bursa. Have you been to Bursa before ?

Brian : No, I haven't, but I heard much of its cuisine. What are the ?

Aysel : Some of them are İnegöl meatball, Kemalpaşa dessert.

- A) Historical places
- B) Huge mountains
- C) Mosques and Museums
- D) Traditional dishes

4. **I prefer doing For instance, I tried rafting in Çoruh River last summer.**

- A) Recreational activities
- B) Wonderful
- C) Tropical
- D) Extremely large

5. **John** : My flight is at 14:00 pm. I guess I can't be there on time. I am not a punctual person. It is 13:30 and I am not ready

Ali : Calm down. I will drive you to the airport

John : Really ?.....

- A) Poor you!
- B) You are very lucky
- C) I'm sorry, I don't know
- D) That's very kind of you

6. The of the world is approximately 7.5 billion. But, day by day, it is increasing

- A) Construction
- B) Accommodation
- C) Civilization
- D) Population

7. ve 8. Soruları tabloya göre yapınız.

	The Eiffel Tower	The Tower of Pisa	İvriz Monument	The Statue of Liberty
Selman	♥	✘	♥	✘
Fatih	✘	♥	♥	✘
	✘			
İlker		♥	✘	♥
Taşkın	♥	✘	♥	✘

7. Which one is true ?

- A) Selman went to The Tower of Pisa
- B) Fatih and Taşkın saw The Eiffel Tower
- C) İlker has been to both The Tower of Pisa and The Statue of Liberty
- D) Selman and İlker visited İvriz Monument

8. Which one is false ?

- A) Selman prefers seeing İvriz Monument to visiting The Tower of Pisa
- B) İlker would rather go to The Statue of Liberty
- C) Taşkın prefers going to The Eiffel Tower
- D) Fatih would rather go to The Statue of Liberty

1.2. ve 3. Soruları aşağıdaki metine göre cevaplayınız

Kütahya is in the Aegean region in Turkey. In winters, it is cold and snowy but in summers, it is warm and sunny. It has lots of tourist attractions. It is famous for its porcelains. The first porcelain museum in the world is in Kütahya. When you visit Kütahya in winter, do not forget visiting its thermal sources. They are so healthy for your skin. When you visit in summer, you can also have chance to see the antique city, Aizonai. Aizonai is the most effectively and successfully protected ancient city.

1. Yukardaki metinde seçeneklerdeki hangi görselden bahsedilmiştir?



A)



B)



C)



D)

2. The passage gives information about

- A) Population
- B) Recreational Activities
- C) Tourist Attractions
- D) Cuisine

3. The antique city, Aizonai

- A) has many thermal sources
- B) is in The Central Anatolia Region
- C) has mild winters
- D) is a popular historical place.

4. **Bob** : In my opinion, The Kremlin Palace is more modern than Taj Mahal
Cemil : Taj Mahal is older.

- A) That sounds good
- B) That's right
- C) That's unbelievable
- D) I'm sorry to hear that

5. **Necibe** : People mostly prefer visiting old structures, however I would rather visit because they are newer and fascinating than old structures.

- A) Castles
- B) Antique cities
- C) Historical Palaces
- D) Modern Buildings

6. **Paragrafın akışını bozan cümleyi bulunuz.**

(1) Tarsus is a historical province and a great place for recreation. (2) You can try tracking, off-road racing, or photo safari in Tarsus. (3) These are entertaining and fantastic recreations. (4) You can also have opportunity to see ancient sites such as Grand Mosque and Cleopatra's Gate there.

- A) 4 B) 3 C) 2 D) 1

7. **You want to go abroad, to see the Eiffel Tower in Paris, but you do not want to go alone, so you call a close friend of yours and say :**

- A) Would you like to visit museums in Paris ?
- B) Let's eat out tonight
- C) How about going to a journey to Paris ?
- D) Why don't we use public transportation ?

Doğubayazıt Yatılı Bölge Ortaokulu Test Ekibi Çalışmasıdır.

8. **Sam** : Last summer was the best time for a vacation for me. I visited many historical places and I think historical places are the best for vacation.

Erkan : I would rather have a vacation at the beach because I love sea. To me, It is more convenient.

- A) You are right
- B) I don't think so
- C) No doubt about it
- D) Yes I'd love to.

ingilizce



TEST 4

1.2.ve 3. Soruları aşağıdaki konuşma metnine göre cevaplayınız.

David needs a vacation. He calls the travel agency.

Travel agent: Hello. Metro Travel Agency. How can I help you?

David: Hi. David speaking. I've just looked at your company's brochures. I would like to go for a holiday - somewhere warmer.

Travel Agent: I think Antalya would be a nice destination for you Mr.David. Do you prefer a hotel beside a beach? I can give some information about hotel accommodation. When would you like to travel?

David: Why not. However I would rather stay in a hostel than a hotel resort. I'd like to go for a week in June on my own.

Travel Agent: Duly noted. I have your reservation right now. I am sending an email about booking details. Please kindly check your inbox. Have a good day.

Doğubayazıt Yatılı Bölge Ortaokulu Test Ekibi Çalışmasıdır.

1. What kind of holiday does David want?

- A) a holiday in the sun
- B) a skiing holiday
- C) a cultural holiday
- D) a spa holiday

2. How long does David would like to go?

- A) a week
- B) two months
- C) couple of hours
- D) a minute

3. How many tickets does David book?

- A) None
- B) Two
- C) Only one
- D) Zero

4.- 5.ve 6. soruları aşağıdaki metine göre cevaplayınız.

Mardin is located in the Southern Anatolian region. In Mardin, hot summers follow the cold winters. It is one of the oldest settled areas in Mesopotamia. It was home to different civilizations such as Hittites, Romans, Byzantines, and Turks. There are many historic mosques, churches and madrassas in Mardin. Mardin is also well-known for its unique cuisine. Best examples of its cuisine are İkbet, sembusek and harire. Recently, It is one of strong candidates to become a center of attraction, and also It is now a candidate for UNESCO's List of "Cities of World Heritage."



Doğubayazıt Yatılı Bölge Ortaokulu Test Ekibi Çalışmasıdır.



5. Choose the wrong option.

- A) Mardin is the city of civilizations
- B) Mardin is also famous for its meals
- C) In Mardin you can feel both hot and cold
- D) Mardin is in the list of 'Cities of World Heritage' of Unesco

6. Which civilization did not settle in Mesopotamia?

- A) Byzantines
- B) Turks
- C) Persians
- D) Hittites

4. Choose the correct option.

Mardin was home to.....

- A) One settlement
- B) Different religions and cultures
- C) Churches only
- D) Tourist destinations

7. **Neymar** : New York is the best place to go for a vacation

Messi : I prefer London, It is more lovely and incredible city.

- A) What a pity
- B) How amazing
- C) Shame on you
- D) I disagree with you