

KATI BASINCI -ÇIKMIŞ SORULAR

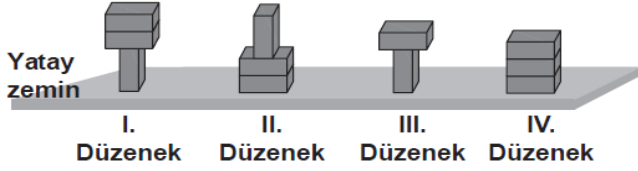
1.

Aşağıdakilerden hangisi basıncı arttırmak için yapılmıştır?

- A) Rayların şekil bozukluğuna uğramaması için trenlerde tekerlek sayısının artırılması
- B) Meyvenin daha rahat kesilmesi için bıçağın keskinleştirilmesi
- C) Karda daha rahat yürümek için kar ayakkabısı kullanılması
- D) Traktörlerin toprağa saplanmaması için geniş tekerlekli yapılması

2.

Özdeş tuğlalar şekildeki gibi yatay zemin üzerine yerleştiriliyor.

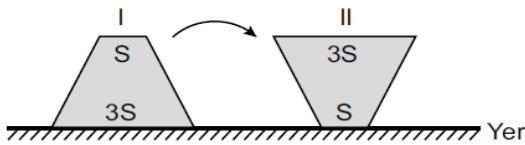


Buna göre tuğlaların zemine uyguladığı basıncın, tuğlaların ağırlığına ve zemine temas eden yüzey alanına bağlı olduğu ispatlanmak istenirse, hangi iki düzenek karşılaştırılmalıdır?

	Ağırlık	Yüzey alanı
A)	I. ve III.	I. ve II.
B)	II. ve III.	I. ve IV.
C)	I. ve II.	I. ve III.
D)	I. ve III.	II. ve IV.

3.

Şekildeki tahta blok, I. durumdayken ters çevrilecek konulduğunda II. durum oluyor.

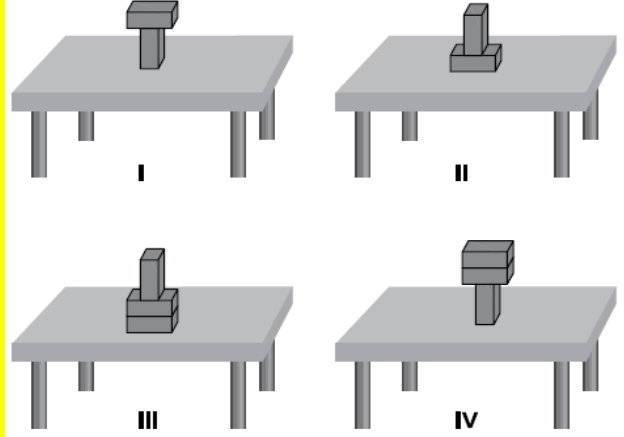


Buna göre, tahta bloğun yere uyguladığı kuvvet ve basınç I. duruma göre nasıl değişir?

	Kuvvet	Basınç
A)	Değişmez	Artar
B)	Artar	Artar
C)	Azalı	Azalı
D)	Değişmez	Değişmez

4.

Özdeş tuğlalar yatay bir masa üzerine dört farklı şekilde konulmuştur.



Buna göre, hangi şekildeki tuğlaların masaya uyguladığı basınç en büyüktür?

- A) I.
- B) II.
- C) III.
- D) IV.

5.

Dikdörtgenler prizması şeklindeki bir kutuyu, üç farklı yüzeyi üzerine koyan Pınar, bu kutunun zemine yaptığı basınç değerlerini hesaplıyor.

	Kutunun zemine temas eden yüzey alanı	Kutunun zemine yaptığı basınç
	2A	5P
	5A	2P
	10A	P

Elde ettiği değerleri yukarıdaki tabloya kaydeden Pınar, bu tabloyu kullanarak aşağıdaki yorumlardan hangisine ulaşabilir?

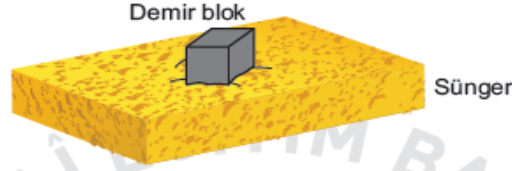
- A) Zemine etki eden kuvvet arttığında basınç azalır.
- B) Zemine etki eden kuvvet azaldığında basınç artar.
- C) Cismin taban alanı arttığında basınç azalır.
- D) Cismin taban alanı azaldığında basınç da azalır.

6. Bir öğrenci tabloda verilen malzemeleri kullanarak yaptığı deneyde, cisimlerin buldukları zemine uyguladıkları basıncın zemine uyguladıkları dik kuvvetin büyüklüğüne bağlı olup olmadığını araştıracaktır.

Tablo: Deneyde Kullanılan Malzemeler

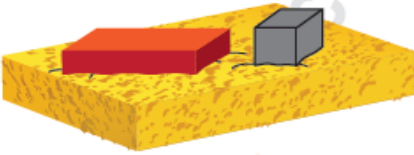
- 2 adet özdeş sünger
- 1 adet 1000 gramlık dikdörtgenler prizması şeklinde tuğla
- 2 adet 1000 gramlık küp şeklinde demir blok

Öğrenci, verilen malzemelerle iki düzenek hazırlayıp karşılaştıracaktır. Düzeneklerden birincisi aşağıda verilmiştir.

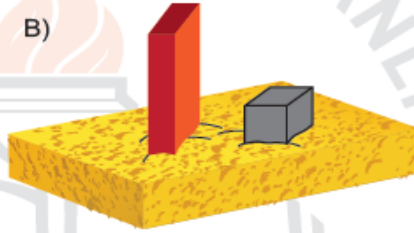


Buna göre öğrencinin, araştırmasında kullanacağı ikinci düzenek aşağıdakilerden hangisi olmalıdır?

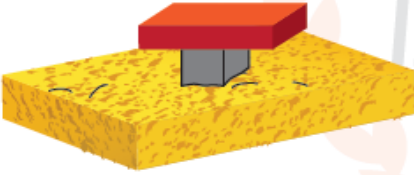
A)



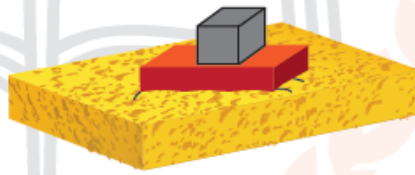
B)



C)



D)

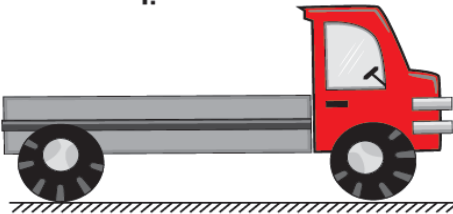


7.


Katı maddeler, ağırlıkları nedeniyle buldukları yüzeye kuvvet uygular ve bu kuvvetin etkisiyle basınç oluşur. Katıların buldukları yüzeye uyguladıkları basıncın büyüklüğü; uyguladıkları kuvvet ile doğru, temas ettikleri yüzey alanı ile ters orantılıdır.

Günlük hayatta bazı durumlarda basıncın az olması istenir.

I.



II.



Yumuşak, ıslak zeminli bir arazide, yük taşımak için kullanılan şekildeki I. kamyon yerine, teker sayısı dışında tüm özellikleri aynı olan II. kamyon tercih edilir.

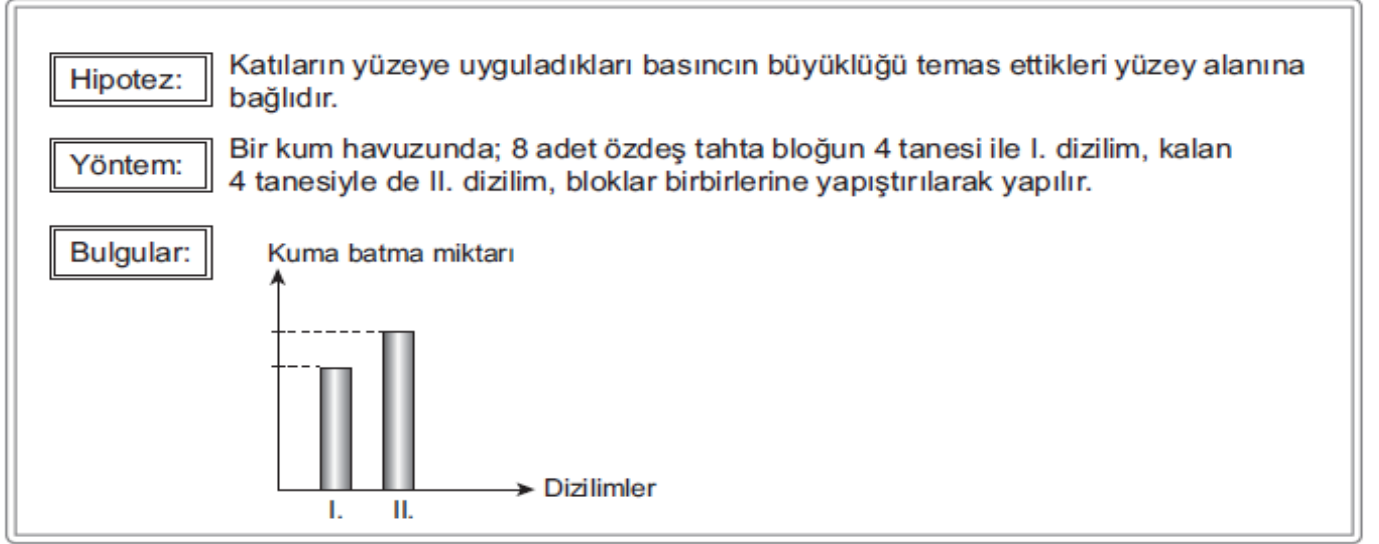
Bu tercih ile aynı gerekçeye sahip olan uygulamalardan hangisidir?

- A) İnce dokulu kumaştan elbise dikerken ince uçlu iğne kullanılması
- B) Islak kum üzerinde duran boş kovanın, içine su dolduruldukça kuma gömülmesi
- C) Karlı bir yolda kar ayakkabısı ile daha rahat yürünmesi
- D) Bıçağın daha iyi kesmesi için keskin tarafının bilenmesi

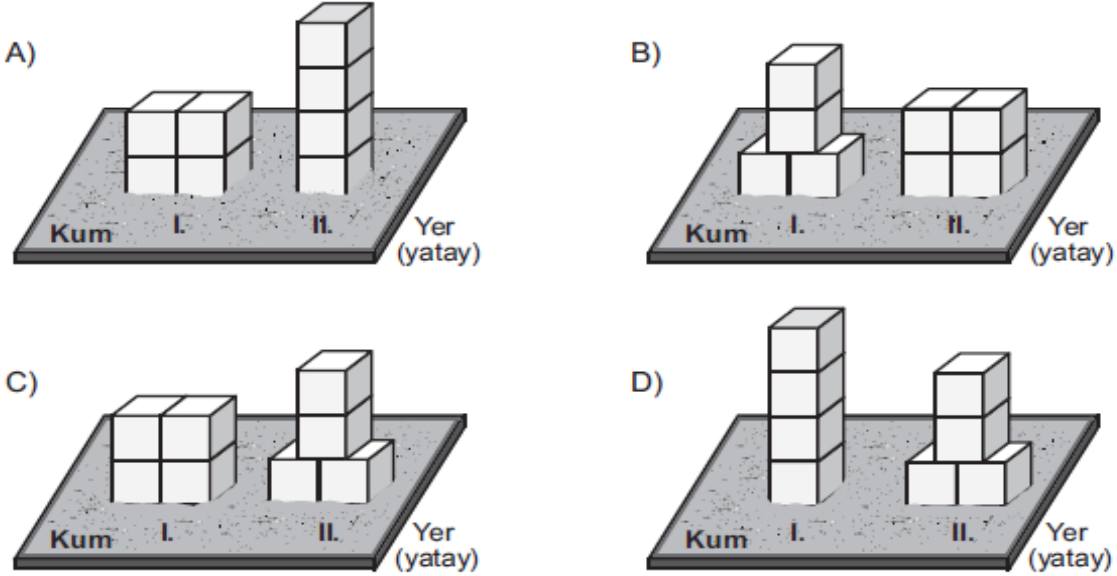
8.

Basınç, birim yüzeye etki eden dik kuvvet olarak tanımlanır.

Bu bilgiyi kullanmak isteyen bir öğrencinin kurduğu hipotez, kullandığı yöntem ve bulgularına dayalı çizdiği grafik şu şekildedir:



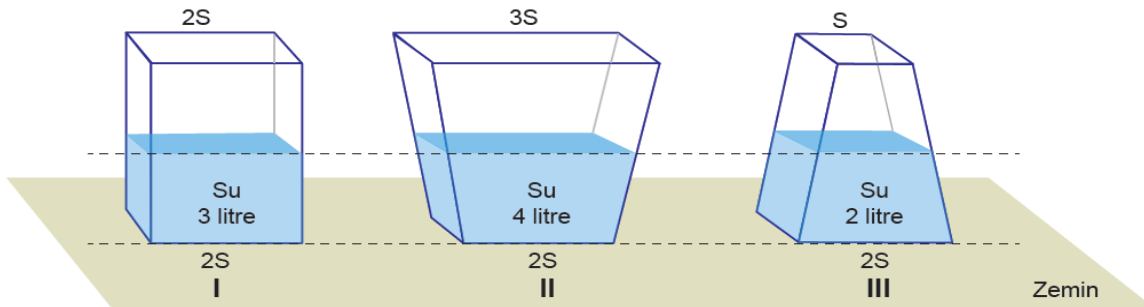
Buna göre öğrencinin deneyinde kurduğu düzenek aşağıdakilerden hangisi olabilir?



9.

Katı maddeler ağırlıkları nedeniyle buldukları yüzeye kuvvet uygular ve bu kuvvetin etkisiyle basınç oluşur. Bu basıncın büyüklüğü zemine uygulanan kuvvete ve temas eden yüzey alanına bağlı olarak değişir.

Şekilde boş ağırlıkları birbirine eşit olan kaplara aşağıda belirtilen miktarlarda su doldurulmuştur.



Buna göre, bu kapların zemine uyguladıkları katı basınçları arasındaki ilişki aşağıdakilerin hangisinde doğru verilmiştir?

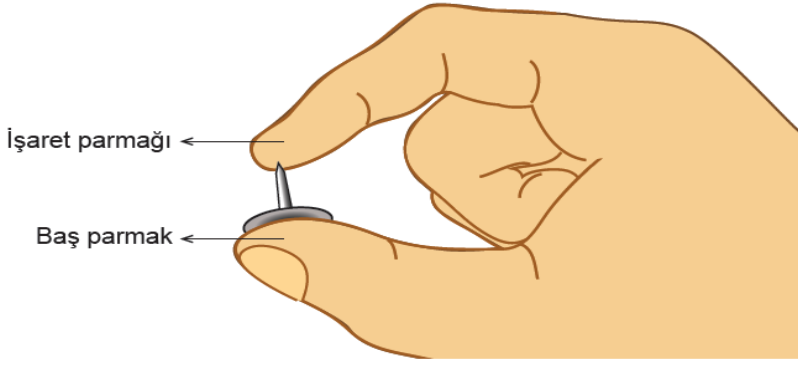
- A) $I > II > III$
C) $III > I > II$

- B) $II > I > III$
D) $I = II = III$



10.

Katı maddeler, buldukları yüzeye uyguladıkları kuvvetin etkisiyle basınç oluşturur.



Bir raptiyeyi şekilde görüldüğü gibi baş parmağımız ile işaret parmağımız arasına yerleştirip yavaşça sıktığımızda raptiyenin sivri ucunun değdiği işaret parmağımızda acı duyarız ancak baş parmağımızda acı hissetmeyiz.

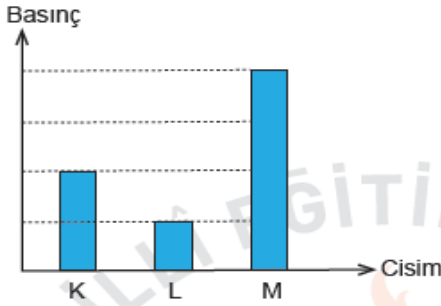
Bu durum aşağıdakilerden hangisi ile açıklanır?

- A) Raptiyenin işaret parmağımıza uyguladığı basıncın, baş parmağımıza uyguladığı basınçtan daha küçük olması
- B) Raptiyenin baş parmağımızla temas eden yüzeyinin, işaret parmağımızla temas eden yüzeyinden büyük olması
- C) Raptiyenin, işaret ve baş parmağımıza uyguladığı kuvvetlerin yönlerinin farklı olması
- D) Baş parmağımızın işaret parmağımıza göre acıya daha duyarlı olması

11.

- Katı maddeler ağırlıkları nedeniyle buldukları yüzeye bir kuvvet uygular ve basınç oluşturur.
- Katı maddelerin basıncının büyüklüğü, yüzeye uyguladıkları kuvvet ile doğru orantılıdır.
- Katı maddelerin basıncının büyüklüğü, kuvvet uyguladıkları yüzeyin alanı ile ters orantılıdır.

Özdeş tuğlalar kullanılarak yapılan bir deneyde, tuğla sayısı veya temas yüzeyleri değiştirilerek oluşturulan K, L ve M cisimlerinin yere uyguladıkları basınçların büyüklükleri aşağıdaki grafikte gösterilmiştir.



Buna göre bu cisimlerin yer üzerindeki duruş biçimleri aşağıdakilerden hangisidir?

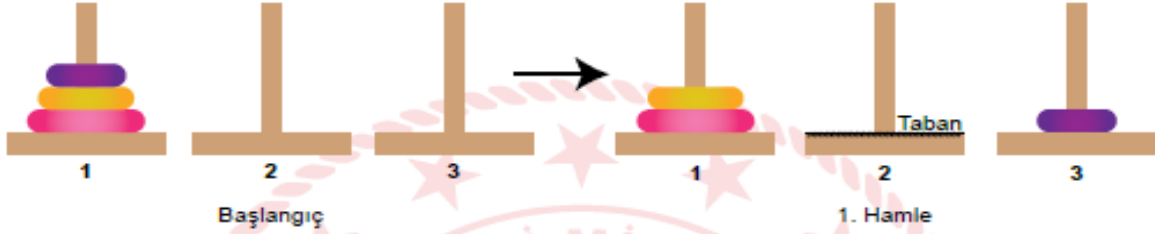
- A)
- B)
- C)
- D)

12. Hanoi kuleleri oyunu, kule içine geçirilmiş disklerin yine aynı şekilde başka bir kuleye taşınmasına dayanan bir oyundur.

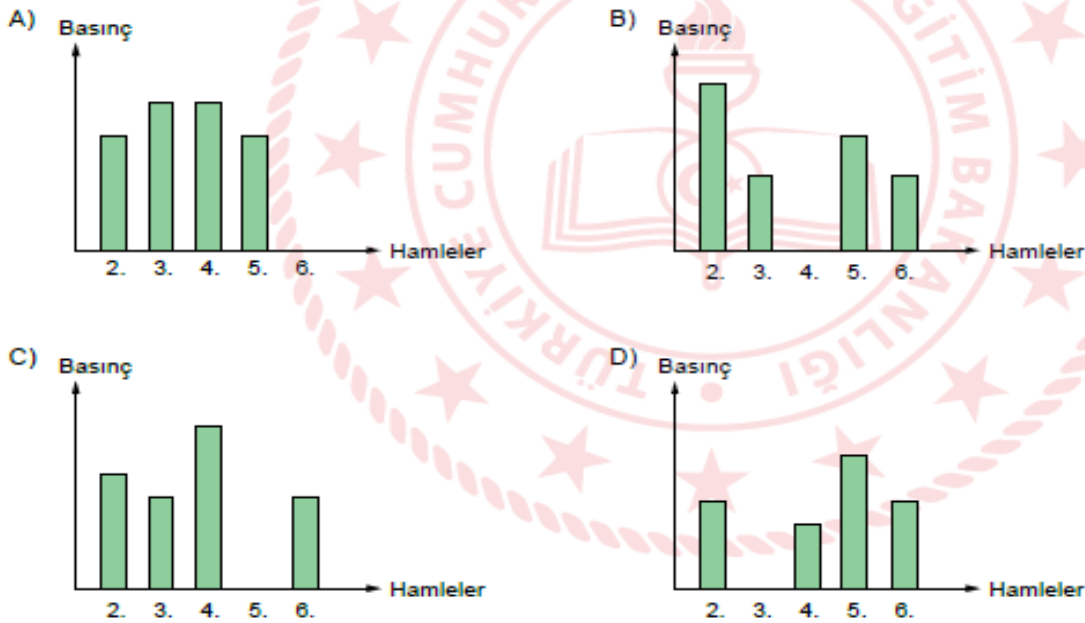
Bu oyunda,

- Aynı maddeden yapılmış, farklı büyüklükte diskler kullanılır.
- Her hamlede sadece bir disk yerinden oynatılabilir.
- Büyük disk, küçük disk üzerine gelemez.
- Alınan disk, herhangi bir kuleye konulmak zorundadır.

1. kuledeki diskleri 7 hamleyle 3. kuleye taşıyan bir öğrenci ilk hamleyi aşağıdaki gibi yapmıştır.

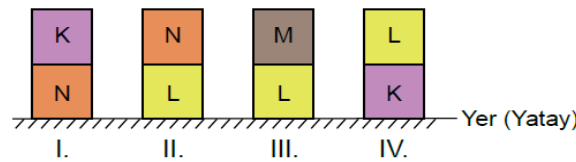


Hamlelere göre disklerin 2. kulenin tabanına uyguladığı basıncı gösteren grafik aşağıdakilerden hangisi olabilir?

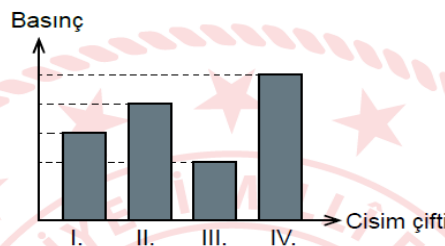


13. Katı maddeler ağırlıkları nedeniyle buldukları yüzeye kuvvet uygular. Birim yüzeye etki eden bu kuvvete basınç denir. Katıların basıncı, uyguladıkları kuvvete ve yere temas eden yüzeylerine bağlı olarak değişir.

Taban alanları birbirine eşit olan, düzgün şekilli K, L, M ve N cisimleri aşağıdaki gibi üst üste konmuştur.



Cisim çiftlerinin yere uyguladığı basınçların büyüklükleri grafikte gösterilmiştir.




Buna göre cisimlerin ağırlıklarının doğru sıralaması aşağıdakilerden hangisidir?

- A) $K > L > M > N$ B) $L > K > N > M$ C) $M > L > K > N$ D) $N > K > L > M$

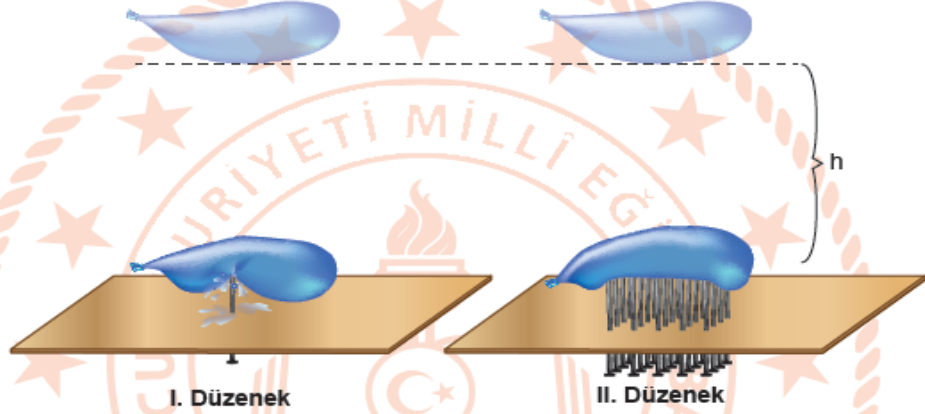
14. Basınç, birim yüzeye etki eden dik kuvvet olarak tanımlanır.

Basınçla ilgili deney yapmak isteyen bir öğrenci,

- Sivri uçları yukarıda kalacak şekilde tahta levhalardan birine bir çivi, diğerine yirmi çivi çakıyor.



- İçlerine eşit miktarda su doldurulmuş özdeş balonları eşit yükseklikten çivilerin üzerine bırakıyor.



Öğrenci I. Düzenek'teki balonun patladığını, II. Düzenek'teki balonun ise patlamadığını gözlemliyor.

Buna göre öğrencinin deneye ilişkin yaptığı yorumlardan hangisi yanlıştır?

- A) II. Düzenek'te çivi sayısının fazla olması, çivilerin balona uyguladığı katı basıncını azaltmıştır.
- B) Çivi uçları sivri olduğu için basınç artmış, çivilerin tahta levhaya çakılması kolaylaşmıştır.
- C) I. Düzenek'teki balonun patlamasının sebebi, bu balonun içindeki sıvı basıncının diğerinden büyük olmasıdır.
- D) Temas anında I. Düzenek'teki balonun birim yüzeyine etki eden dik kuvvet, II. Düzenek'teki balondan daha fazladır.

15.

- Katı maddeler, ağırlıkları nedeniyle buldukları yüzeye bir kuvvet uygular ve basınç oluşturur.
- Katı maddelerin basıncının büyüklüğü, yüzeye uyguladıkları kuvvet ile doğru orantılıdır.
- Katı maddelerin basıncının büyüklüğü, kuvvet uyguladıkları yüzeyin alanı ile ters orantılıdır.



Park bekçisi parkta gezerken toprak zemin üzerinde duran aynı boydaki geri dönüşüm kutularının tamamen dolmuş olduğunu ve L kutusunun zemine biraz batmış olduğunu fark ediyor.

Buna göre;

- I. L kutusunu, yere temas eden yüzeyi daha büyük olan başka bir kutu ile değiştirmek,
 - II. L kutusunun içindeki atık miktarını azaltmak,
 - III. L kutusunu, boyu K kutusundan daha uzun olan başka bir kutu ile değiştirmek
- işlemlerinden hangileri yapılmış olsaydı L kutusunun toprağa batması engellenebilirdi?**

- A) Yalnız I.
- B) I ve II.
- C) II ve III.
- D) I, II ve III.